

Adı:
Soyadı:



Fen ve Sosyal Dönem Değerlendirme




Tarih
...../...../2020

1- Ekonomik değeri olan kayalara "maden" denir.

Yukarıdaki tanıma göre madenlerle ilgili olarak aşağıdakilerden hangisi doğrudur?

- A) Su tabakasında bulunur.
B) Yalnızca katı hâlde bulunur.
C) Fabrikalarda işlenerek çeşitli ürünler üretilir.
D) Hepsi aynı renk ve değerdedir.

2-



Yukarıdaki görsellerden hangileri fosile aittir?

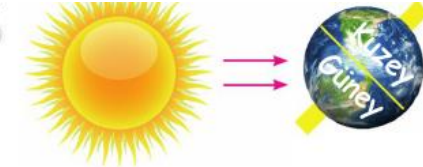
- A) Yalnız ▲
B) ★ ve ◆
C) ▲ ve ◆
D) ■ ve ★

3-

Hangisi Dünya'nın kendi etrafında dönmesi sonucu oluşmaz?

- A) Gece ve gündüz
B) Yönler
C) Mevsimler
D) Rüzgârlar ve günlük sıcaklık farkları

4-



Yukarıdaki görseli incelediğimizde hangi sonuca ulaşamayız?

- A) Güneş ışınları dik geldiğinden Güney Yarım Küre'de yaz mevsimi yaşanmaktadır.
B) Dünya'nın eksen eğiktir.
C) Güneş ışınlarının eğik geldiği Kuzey Yarım Küre'de kış mevsimi yaşanmaktadır.
D) Dünya'nın eksen eğikliği nedeniyle gece ile gündüz oluşur.

5-

- ▲ Ceviz
■ İspanak
★ Süt
● Lahana

Yukarıdaki besinlerden hangileri yağ bakımından zengindir?

- A) ▲ ve ★
B) ■ ve ●
C) ■, ★ ve ●
D) ▲, ■ ve ●

6-

- Görme kaybına neden olabilir.
- Akciğer kanserine neden olabilir.
- Ağız kokusu ve diş eti hastalıklarının nedenidir.
- İşitme kaybına neden olabilir.

Yukarıdakilerden kaç tanesi sigaranın zararlarından?

- A) 1 B) 2 C) 3 D) 4

7-

Besin içerikleriyle ilgili olarak aşağıda verilen bilgilerden hangisi yanlıştır?

- A) Proteinler yapıcı ve onarıcı besin içerikleridir.
B) Vitaminler vücudun hastalıklara karşı direncini artırır.
C) Mineraller enerji veren besin içeriğidir.
D) Su, vücutta düzenleyici olarak görev yapar.

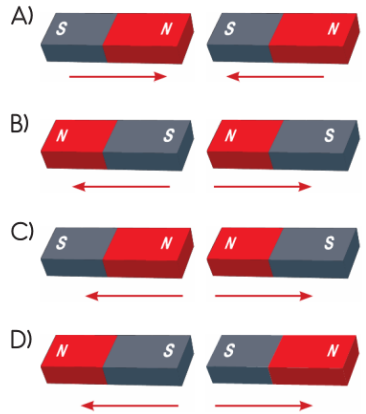
8-

- Kuvvet, hareket hâlindeki bir cismi hızlandırabilir.
- ▼ Kuvvet, cisimlerin şeklini değiştirebilir.
- Atılan top yere düşerken yavaşlar.
- Durağa yaklaşan bir otobüs hızlanma hareketi yapar.
- ◆ Bütün canlılar, kendiliğinden hareket eder.

Hareket ve kuvvet ile ilgili yukarıda verilen bilgilerden hangileri doğrudur?

- A) ●, ■ ve ◆
B) ●, ▼ ve ■
C) ●, ▼ ve ◆
D) ■, ▼ ve ●

9- Hangi düzende mıknatısların birbirine etkisi **yanlış** gösterilmiştir?



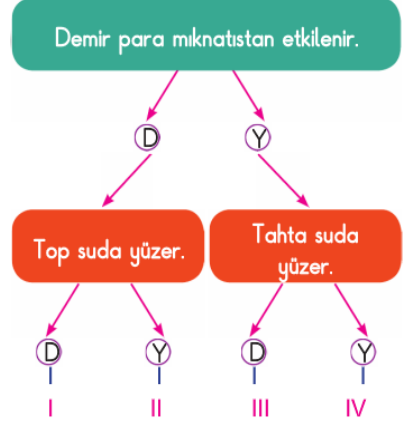
10-

Mıknatısla çekilmez.	
Suda batar.	
Suyu emmez.	
Saydam bir maddedir.	

Cam bardak ile ilgili verilen bilgilerden kaç tanesi doğrudur?

- A) 4 B) 3 C) 2 D) 1

11-



Yukarıdaki doğru-yanlış diyagramında doğru çıkış hangisidir?

- A) I B) II C) III D) IV

12-

Maddeyi niteleyen özelliklerle ilgili olarak hangi ifade **yanlıştır**?

- A) Bazı maddeler suyu emer.
B) Bazı maddeler suda yüzer.
C) Bütün maddeler saydamdır.
D) Demir, nikel ve kobalt mıknatısla çekilir.

1-----
"Türkiye Cumhuriyeti Kimlik Kartı" çip (yon-
ga) içeriğinde hangi bilgi bulunmaz?

- A) Okul adı
- B) Fotoğraf
- C) Aile sıra no
- D) Parmak izi

2-----
✓ Bale yapmak ✓ Mutlu olmak
✓ Gitar çalmak ✓ Kitap okumak

Yukarıdakilerden kaç tanesi ilgi ve yete-
neklerimizle ilgilidir?

- A) 1 B) 2
- C) 3 D) 4


3-----
"Bilgisayar programlığı yapmak istiyorum."

Yukarıdaki ifadeyi kullanan bir öğrenci,
hangi eğitsel kulübe devam etmelidir?

- A) Resim Kulübü
- B) Bilim ve Teknoloji Kulübü
- C) Gezi ve Gözlem Kulübü
- D) Spor Kulübü

4-----
Aşağıdakilerden hangisi milli kültürümüze
ait değerler arasında yer almaz?

- A) Nasreddin Hoca
- B) Aşık Veysel
- C) Pinokyo
- D) Keloğlan

5-----
 Bu antlaşmaya ülkemizin
bağımsızlığını tüm dünya ta-
nımıştır.

Hatay ili dışında ülke
sınırlarımız belirlenmiştir.



24 Temmuz 1923'te imzalanan bu ant-
laşma aşağıdakilerden hangisidir?

- A) Lozan Barış Antlaşması
- B) Moskova Antlaşması
- C) Mudanya Antlaşması
- D) Kars Antlaşması

6-----
9 yaşındaki Selim, hayatıyla ilgili bazı
önemli olaylardan bahsetmektedir.

Selim'in hayatındaki olaylar kronolojik sı-
raya koyulduğunda hangisi en sonda yer
alır?

- A) Şimdi 4. sınıftayım.
- B) 1 yaşında yürümeye başladım.
- C) 6 yaşında ağabey oldum.
- D) Ben 2. sınıftayken Bursa'ya taşındık.

7-----
Aşağıdakilerden hangisi Kurtuluş Savaşı
cephelerinden biri değildir?

- A) Doğu Cephesi
- B) Batı Cephesi
- C) Kuzey Cephesi
- D) Güney Cephesi

8-----
Milli Egemenlik

Yukarıdaki kavramla aşağıdakilerden han-
gisinin ilgisi yoktur?

- A) Cumhuriyet B) TBMM
- C) Padişah D) Halk egemenliği

9-----



Şemada numaralanmış yönler için aşağı-
dakilerden hangisi doğrudur?

- | | | |
|--------------|-------|-----------|
| I | II | III |
| A) Kuzey | Batı | Kuzeydoğu |
| B) Doğu | Güney | Kuzey |
| C) Kuzeydoğu | Güney | Kuzeybatı |
| D) Kuzeybatı | Kuzey | Güneybatı |

10-----



Verilenler aşağıdaki kavramlardan hangisi
ile ilişkilidir?

- A) Kroki B) Doğal afet
- C) Hava olayı D) Yön bulma

11-----
Düşüncelerimiz, davranışlarımıza
yön verir.

Buna göre, okul takımı olarak atasözleri
yarışmasında finale kalan Özge'nin nasıl
davranması gerekir?

- A) Soruları çok dikkatli dinleyerek cevap-
lamalıdır.
- B) Soruları tam dinlemeden cevaplamalı-
dır.
- C) Soruları hiç dinlemeden cevaplamalıdır.
- D) Soruları dinlemeli ancak hiç cevap
vermemelidir.

12-----
Urfa'nın kurtuluşuna önderlik eden Milli
Mücadele kahramanı kimdir?

- A) Şahin Bey
- B) Seyit Onbaşı
- C) Ali Saip Bey
- D) Şerife Bacı

13-----
Aşağıdakilerden hangisi doğal unsurlara
örnek olamaz?

- A) Dağlar
- B) Denizler
- C) Yollar
- D) Ormanlar

14-----



Türkiye haritasında hava durumunu ifade
eden semboller verilmiştir.

Kar yağışı ülkemizin hangi bölgesinde etkili
olmaktadır?

- A) Marmara Bölgesi
- B) Akdeniz Bölgesi
- C) Karadeniz Bölgesi
- D) Doğu Anadolu Bölgesi