

5
sınıf

Türkiye Geneli Kazanım Ölçme ve Değerlendirme Sınavı-2

1. Oturum Sözel Bölüm

Soru Sayısı: 45

Süre: 70 dakika



Adı ve Soyadı : _____
Sınıfı : _____
Okulu : _____
Öğrenci Numarası : _____

TÜRKÇE

1. Bu testte 15 soru vardır.
2. Cevaplarınızı, cevap kâğıdının Türkçe Testi için ayrılan kısmına işaretleyiniz.

1. Gerçek anlam, bir kelimenin aklımıza gelen ilk anlamıdır. “Kör” sözcüğünün sözlükteki anlamlarını defterine yazmak isteyen bir öğrenci TDK'nin Güncel Türkçe Sözlüğüne baktığında aşağıdaki anlamları görmüştür.

The screenshot shows a web browser window with the title "Güncel Türkçe Sözlük". The search bar contains the word "kör" and the search button is labeled "ARA". Below the search bar, the word "kör" is displayed in bold, followed by its classification "sıfat Farsça kūr". There are four numbered definitions listed below:

1. *sıfat* Görme engelli
"Körü körüne duygululuk sanatçıyı da körün değneğiyle yolunu araması gibi zavallı duruma düşürür." – N. Cumalı
2. Keskinliği yeterli olmayan
"Günün birinde ihtiyar çoban koyunun birini kör bir makasla kırkıyordu." – İ. H. Baltacıoğlu
3. Az aydınlık veren
"Ampulün kör ışığı, dükkânı alaca bir loşluğa boğmuştu." – M. Yesari
4. Kötü
"Vakıa bu kör siyaset yüzünden Türklük Rumeli'den çıktı." – Y. K. Beyatlı

Buna göre öğrenci, “kör” sözcüğünün gerçek anlamı olarak kaç numaralı anlamı defterine yazmalıdır?

- A) 1 B) 2 C) 3 D) 4

2. Kendimize bir hedef belirliyorsak onun peşinden sonuna kadar gitmeliyiz. Pes etmeden kararlı bir şekilde yolumuzda yürümeliz. Ama bu hususta çabamızın sürekliliğine dikkat etmeliyiz. Sonuçta taşı delen suyun gücü değil, damlaların sürekliliğidir.

Bu metindeki altı çizili sözlerin yerine sırasıyla aşağıda verilen kelimelerden hangileri getirilebilir?

- A) Vazgeçmeden-devam etmeliyiz-devamlılığıdır
B) Yorulmadan-koşmalıyız-varlığıdır
C) Bıkmadan-çalışmalıyız-büyüklüğüdür
D) Vazgeçmeden-durmamalıyız-kararlı olmasıdır

3. Eda Türker, kasım ayı boyunca her hafta bir kitap okumaya karar verir. Kasım ayında her hafta okuyacağı kitapları kitaplığından seçer ve sıraya koyar. Eda'nın kasım ayı boyunca okuduğu kitaplar ve sıralamaları hakkında aşağıda bazı bilgiler verilmiştir.

- “Çılgın Hademe” kitabını “Güzel Ülkem Türkiye” kitabından hemen önce okumuştur.
- “Bir Kelime Seyyahı” kitabını “Bir Zamanlar Anadolu” kitabından hemen sonra, “Bizim Çocuklar” kitabından önce okumuştur.

Bu bilgilerden hareketle haftalara göre kitapların okunma sırası hangisinde doğru verilmiştir?

	1. hafta	2. hafta	3. hafta	4. hafta	5. hafta
A)	Bir Zamanlar Anadolu	Çılgın Hademe	Bir Kelime Seyyahı	Bizim Çocuklar	Güzel Ülkem Türkiye
B)	Bir Zamanlar Anadolu	Bir Kelime Seyyahı	Çılgın Hademe	Güzel Ülkem Türkiye	Bizim Çocuklar
C)	Bir Zamanlar Anadolu	Bizim Çocuklar	Bir Kelime Seyyahı	Çılgın Hademe	Güzel Ülkem Türkiye
D)	Bir Zamanlar Anadolu	Çılgın Hademe	Bir Kelime Seyyahı	Güzel Ülkem Türkiye	Bizim Çocuklar

4. Benzetme, zayıf olan bir varlığın güçlü olan bir varlığa herhangi bir yönüyle benzetilmesidir. Örneğin “Pazardan aldığım biberler zehir gibi acıydı.” cümlesinde biberler, zehire benzetilmiştir.

Buna göre;

Kış geldi diye sevindi tüm çocuklar
 Kar yağınca kar topu oynayacaklar
 Kristal gibidir yağınca kar taneleri
 Şimdi bekliyor çocuklar radyodan kar haberi

Ülkü GAZOVALI

bu dizelerde benzeyen ve kendisine benzetilen ögeler hangi seçenekte doğru olarak verilmiştir?

	Benzeyen	Kendisine benzetilen
A)	kış	çocuk
B)	kar	top
C)	çocuk	haber
D)	kar taneleri	kristal

5. — Geçmiş olsun!
— Teşekkür ederim!

Bu diyalogdaki konuşmalar aşağıdaki görsellerden hangisiyle ilişkilendirilebilir?



6. Aşağıda büyük harflerin kullanımıyla ilgili bazı kurallar verilmiştir.
- Belirli bir tarihle sınırlandırılan ay ve gün adları büyük harfle başlar.
 - Kişi adlarından önce ve sonra gelen unvanlar, saygı sözleri, rütbe adları ve lakaplar büyük harfle başlar.
 - Tarihî olay, çağ ve dönem adları büyük harfle başlar.
 - Hayvanlara verilen özel adlar büyük harfle başlar.
 - Mahalle, meydan, bulvar, cadde, sokak adlarında geçen mahalle, meydan, bulvar, cadde, sokak kelimeleri büyük harfle başlar.

Buna göre aşağıdakilerin hangisinde büyük harflerin yazımıyla ilgili bir yanlışlık yapılmıştır?

- A) İstanbul'un Fethi ile Yeni Çağ'a geçildi.
B) Gazi Mahallesi, Zafer Sokak'ta oturuyoruz.
C) Özlem Hanım'la bir mayıs akşamında tanıştık.
D) Kucağında küçük minnoşu okşuyordu.

7. Başlık, paragrafta anlatılanları kapsayan ve özetleyen sözcük veya sözcüklerdir. Kısacası paragrafın konusunu en iyi anlatan sözcüklerdir. İlgi çekici olmalı ve ana fikri çağrıştırmalıdır.

Buna göre aşağıda verilen metinlerin hangisine “Saklambaç Nasıl Oynanır?” isimli başlığın getirilmesi daha uygun olur?

- A) Saklambaç eğlenceli bir oyundur. Aslında saklambaç oyununu bilmeyen de yoktur. Saklambaç anne babalarımızın da çocukluğunda oynadığı bir oyundur. Özellikle kalabalık arkadaş gruplarıyla oynanır. Ama artık hayatımıza giren teknolojik gelişmeler, belki de gün geçtikçe bu oyunu bizlere unutturacak.
- B) Saklambaç oyunu çocukların zevk alarak oynadığı bir oyundur. Geçmişten günümüze çocuklar, bu oyunu oynamaktadırlar. Oldukça eğlenceli olan saklambaç oyunu çocukların ritmik sayı sayma kazanımını elde etmelerini sağlar. Aynı zamanda çocuklar için oldukça heyecanlı fiziksel bir etkinliktir.
- C) Saklambaç oyunu için en az ya da en fazla şu kadar kişiyle oynanır denemez ama oyunu oynayan kişi sayısı ne kadar fazla olursa o kadar zevkli bir oyun olur. Ebe seçerken tekerleme söylenir ve ebe seçilir. Seçilen ebe birer birer elliye kadar sayar ve saklananları bulmaya çalışır. İlk bulunan kişi ebe olur. Ama bir arkadaşı ebe olan kişiden önce belirlenen yere gelerek sobelerse ilk ebelenen arkadaşını kurtarabilir.
- D) Saklambaç özellikle daha eski nesillerin sıkça oynadığı bir oyundu. Çocuklar bu eğlenceli oyunu oynarken güzel vakit geçirirlerdi. Hepimiz saklambaç oynamışızdır. Özellikle akşamları bir araya gelinerek oynanan, belli ekiplerin sürekli buluşup oynadığı bir oyundur saklambaç. En az 3 kişilik bir oyuncu kadrosu saklambaç için yeterlidir.

8. Ana düşünce, paragrafta anlatılanların tümünü kapsar. Paragrafta asıl anlatılmak istenen düşüncedir. Yazının yazısını niçin yazdığını gösterir. Ana düşünce, paragraf içinde cümle hâlinde bulunabilir. Ana düşünce paragraf içinde bir cümle ile verilmemişse ana düşünceyi paragrafın bütününden kendimiz çıkarırız.

Buna göre;

Sanatçıların bir sürü görevi vardır ve bunların en önemlisi de toplumu yönlendirmektir. Topluma yol göstermeyen hiçbir sanatçı olamaz. Onların eserleri de topluma yararlı olmak zorundadır. Onların görevi kişisel sorunlara ayna tutmak olamaz.

metnin ana düşüncesi aşağıdakilerden hangisidir?

- A) Sanatçıların eserlerinde kendi sorunlarına yer vermeleri kaçınılmazdır.
- B) Kimi sanatçılar toplum sorunlarına değinmemektedir.
- C) Sanatçıların görevi, topluma yol göstericilik yapmaktır.
- D) Dünya sanatçıları önemli eserler vermişlerdir.

9. I. Fakat bu yıldızlar, Dünya'ya Güneş'e oranla daha uzak oldukları için küçük görünür.
II. Güneş, evrendeki sayısız yıldızdan sadece biridir.
III. Bu durum, elbette onların zannettiğimiz kadar küçük olduğu anlamına gelmez.
IV. Hatta bazıları doğrudan çıplak gözle görülemez.
V. Aslında gördüğümüz yıldızların birçoğu Güneş'ten daha büyük ve daha parlaktır.

Numaralanmış cümlelerle anlamlı bir metin oluşturulduğunda hangisi baştan ikinci sıradada yer alır?

- A) V B) IV C) III D) II

10. Aşağıda noktanın işlevlerinden bazıları verilmiştir.
- Tamamlanmış cümlelerin sonunda kullanılır.
 - Saat ve dakika bildiren sayıların arasında kullanılır.
 - Bazı kısaltmaların sonunda kullanılır.
 - Gün, ay ve yılı belirten sayılar arasında kullanılır.

Buna göre aşağıdaki cümlelerin hangisinde nokta (.) yanlış kullanılmıştır?

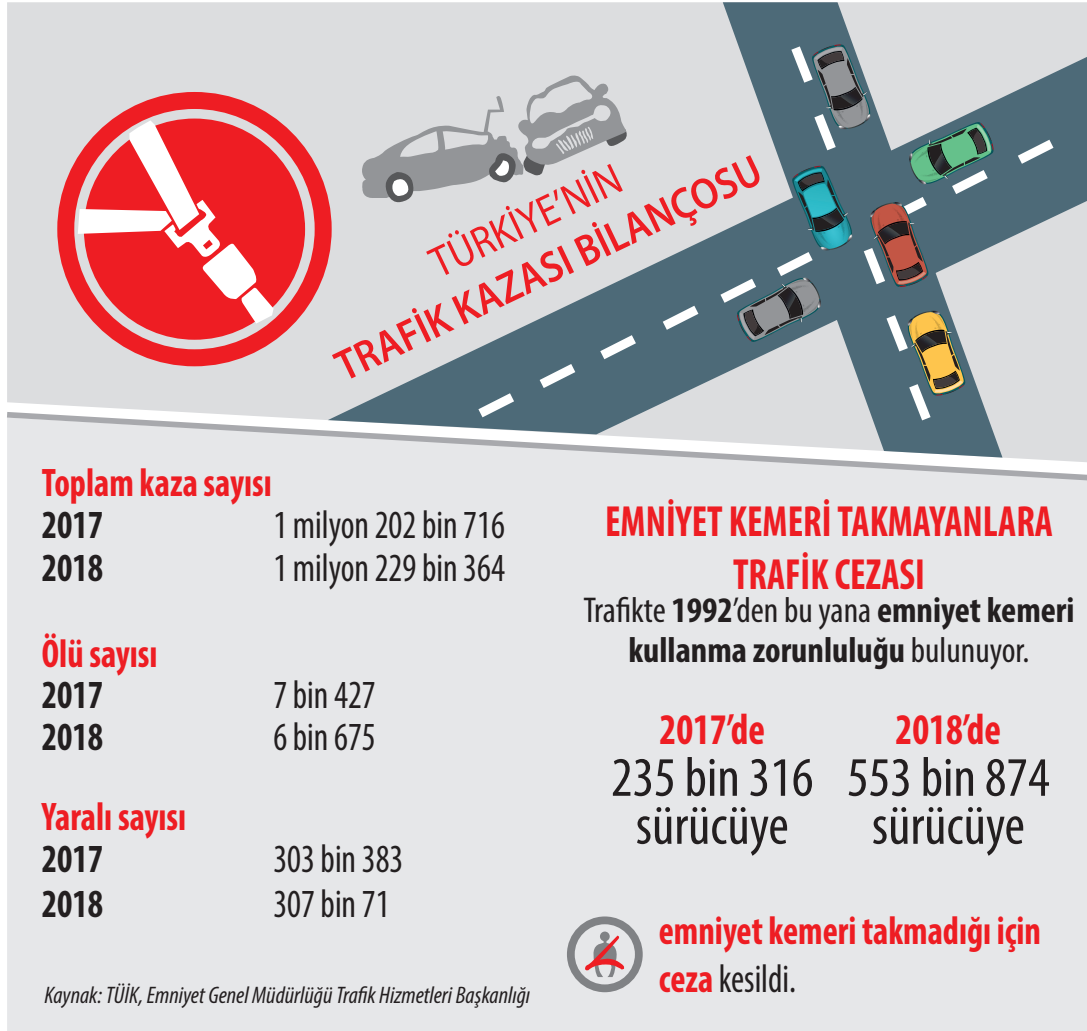
- A) O şiir, Hayat dergisinin 3. sayısında yayımlanmış.
B) Otobüsümüz, 18.30'da Bursa'ya doğru hareket etti.
C) Babam, 23.05.1950 yılında Erdemli'de doğmuş.
D) Az veren candan, çok veren maldan.

11. Vasfi Mahir Kocatürk (1907-1961) şiirlerini "Tunç Sesleri", "Geçmiş Geceleler", "Bizim Türküler", "Er-genekon" adlı kitaplarda topladı. Asıl çalışmasını edebiyat tarihi ve incelemesine ayırdı. Halk şiiri biçim özelliklerinden yararlanarak hece ölçüsüyle vatan, millet sevgisi, millî bilinç, kahramanlık, fedakârlık konularını işledi.

Vasfi Mahir Kocatürk'e ait dördüklerden hangisi bu metinde sözü edilen konulardan biriyle ilişkilendirilemez?

- A) Güzel yurdum, dağlarım;
Uzaktan göresim gelir.
Keskin esen yellerine,
Kendimi veresim gelir.
- B) Kapının üstünde asmalar yeşil,
Güllerin yürek biçimi,
Saksında kor olmuş iki karanfil,
Uyan, ak elinle gözlerini sil.
- C) Al yıldızlı al bayraklar,
Her yanda dalgalanıyor.
Süslendi evler, sokaklar;
Renk renk ışıklar yanıyor.
- D) Bugün Yirmi Üç Nisan,
Toplandı bütün vatan,
Millet Meclisimize,
Atatürk oldu başkan.

12.



Bu görselden hareketle;

- I. 2018'de trafik kazalarında ölen kişi sayısı, 2017 yılına göre daha fazladır.
- II. 2018'de emniyet kemeri takmadığı için ceza kesilen kişi sayısı, 2017 yılına göre daha fazladır.
- III. 2018'de trafik kazalarında yaralanan kişi sayısı, 2017 yılına göre daha azdır.
- IV. 2018'deki toplam trafik kazası sayısı, 2017 yılına göre daha fazladır.

ifadelerinden hangilerine ulaşılabilir?

A) I ve II

B) I ve III

C) II ve III

D) II ve IV

13. Tekerleme ile başlayan, olağanüstü kahraman ve olayların anlatıldığı yazı türüne masal denir.

Buna göre aşağıdaki metinlerden hangisi masal türüne ait olabilir?

- A) Adamın biri bir gün eline av tüfeğini alarak ormana avlanmaya gitmiş; gezmiş, dolaşmış. Nedense hiçbir şey avlayamamış, evine eli boş dönmekten de utanmış, o geceyi ormanda geçirmiş. Kendine yatacak bir yer hazırlamış, çeşitli düşünceler arasında uyuyakalmış.
- B) Evvel zaman içinde, kalbur saman içinde; develerin tellallık ettiği şehirlerde, köylerde; tilkiler berber iken eski hamam içinde; ninem evde ağlar iken, ben annemin beşiğini tıngır mıngır salları iken anlatırdı bunu bana... Suları şırl şırl akan, güzelliği can yakan bir yer ve burada da çok güzel bir saray varmış. Burada bir karı koca yaşarmış.
- C) Dünya dönüyor. Dönerken de değişiyor. Bu değişim bizi de değiştiriyor. İnsanlıktan mı çıkıyoruz, bilemiyorum. Sevgi, saygı, merhamet, adalet kavramları tükeniyor. Yalnızlaşıyoruz. Ardından kendimizi yiyoruz. Doymuyoruz.
- D) Eski zamanlarda, dünyanın ıssız bir köşesindeki bir adada birbirlerinden habersiz dört ayrı kabile bulunuyordu. Bu kabileler adaya çok uzun zaman önce gelen bir adam aracılığıyla geç de olsa, ateş ile tanışmışlardı. Bir bilge ve öğrencileri bu adayı incelemek amacıyla gezi düzenlemişlerdi. Bir gemiyle zor da olsa adaya ulaşmışlar, ilk olarak birinci kabile ile karşılaşmışlardı.

14. Gencin oyuna girmesinin üstünden çok geçmemişti ki hem hoca hem oyuncular hem de maçı izleyenler gördüklerine inanamadılar. Daha önce hiç oynamamış olan bu meçhul ufaklığın her hareketi harika, attığı her pas isabetliydi. Karşı takımın oyuncuları onu durduramıyordu.

Aşağıda bu metinde geçen kelimelerden bazılarının harfleri karışık olarak verilmiştir.

Buna göre metinde bulunmayan kelime hangisidir?

- A) stabei B) helmçu
C) lkrafı D) couynu

15. I. vazgeçilmez şartı
II. kendimizden
III. her fotoğrafta
IV. memnun olmamızdır
V. güzel çıkmanın

Numaralanmış sözler anlamlı ve kurallı bir cümle oluşturacak biçimde sıralandığında hangisi baştan üçüncü olur?

- A) I B) II C) III D) V

SOSYAL BİLGİLER

1. Bu testte 10 soru vardır.
2. Cevaplarınızı, cevap kâğıdının Sosyal Bilgiler Testi için ayrılan kısmına işaretleyiniz.

1.



Paranın İcadından Önce



Paranın İcadından Sonra

Yukarıda belirtilen duruma göre;

- I. Lidyalıların çok tanrılı dine inandığı
- II. Takas usulünün sona erdiği
- III. Ticaret işlemlerinin kolaylaştığı

hangileri söylenebilir?

- A) Yalnız II B) I ve III C) II ve III D) I, II ve III

2. Anadolu uygarlıklarından Frigler, Sakarya Irmağı'nın çevresinde kurulmuştur. Başkenti Gordion'dur. Krallarına Midas adı verilmiştir. Geçimlerini tarım ve hayvancılıkla sağlamışlardır. Öküz kesmeye ve bilerek saban kırmaya ölüm cezası vermişlerdir. Buna dayalı olarak en önemli tanrıçaları bereket tanrıçası Kibele olmuştur. Tapates denen halı ve kilimleri dokumuşlardır. Kralları ve soylu kişiler için tepe görünlü mezarlar inşa etmişlerdir. Bu mezarlara tümülüs adı verilmiştir. Friglerin yaptığı altın, gümüş ve demirden yaptığı "fibula" denen çengelli iğne, günümüzde kullanılan çengelli iğnelerin tarihteki ilk örneği olarak kabul edilmiştir.

Metinden hareketle Frigler için;

- I. Tarım ve hayvancılığı korumak için oldukça sert kanunlar yapmışlardır.
- II. Ekonomik faaliyetleri dinî inanışları üzerinde etkili olmuştur.
- III. Maden işçiliğinde gelişmişlerdir.

yargılarından hangilerine ulaşılabilir?

- A) Yalnız I B) I ve III C) II ve III D) I, II ve III

3.

Emniyet Kemerini Hayati Önemde

Ramazan Bayramı tatilinde kazaların yüzde 35,5'i kavşaklarda meydana gelirken kazalarda hayatını kaybeden ve emniyet kemeri/kask durumu tespit edilebilen sürücülerin yüzde 91'inin emniyet kemeri/kask takmadığı belirlendi.



ÖLÜMLERİN %91'i
EMNİYET KEMERİ
TAKILMAMASINDAN
KAYNAKLANDI.

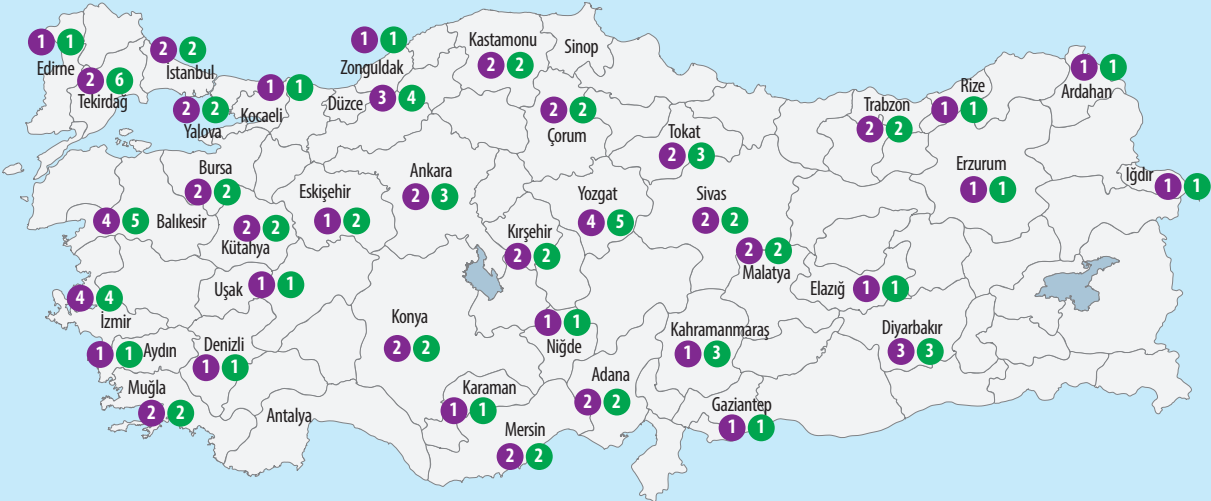


Kazalarda en fazla can kaybı tatilin 9. gününde yaşandı. Bu kazalarda 16 vatandaş yaşamını yitirdi.

ÖLÜMLÜ KAZALARIN MEYDANA GELDİĞİ İLLER

● Ölümlü kaza sayısı

● Ölü sayısı



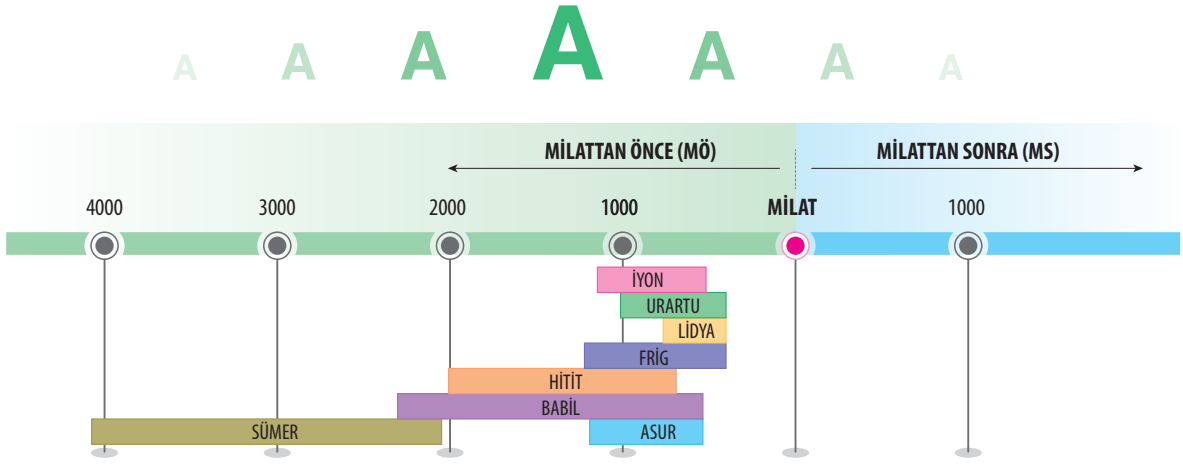
Görselde verilen habere göre olayların;

- I. Çok sayıda kişiyi etkiler.
- II. Birden fazla nedeni vardır.
- III. Olumlu sonuçlara yol açar.

özelliklerinden hangilerine ulaşılabilir?

- A) Yalnız I B) I ve II C) I ve III D) II ve III

4.



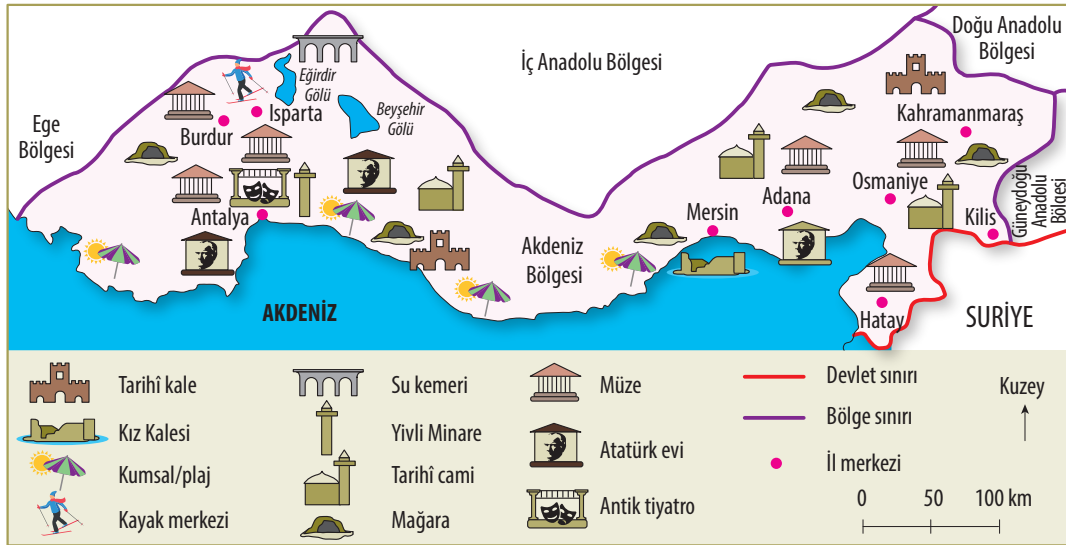
Mezopotamya ve Anadolu uygarlıklarını gösteren yukarıdaki tarih şeridinden hareketle;

- I. Mezopotamya ve Anadolu uygarlıkları milattan önce kurulmuştur.
- II. İlk kurulan uygarlık Sümerlerdir.
- III. Anadolu uygarlıkları içerisinde en uzun yaşayan İyonlardır.
- IV. Günümüze en yakın tarihte kurulan uygarlık Babil'dir.

yargılarından hangilerine ulaşılabilir?

- A) I ve II B) I ve III C) II ve IV D) III ve IV

5.



Yukarıda yer alan haritadan hareketle Akdeniz Bölgesi'nin;

- I. Doğal güzellik
- II. Tarihî eser
- III. Tarihî mekân

hangilerine sahip olduğu söylenebilir?

- A) Yalnız I B) I ve II C) II ve III D) I, II ve III

6.

Batı Anadolu yöresinde görülen halk oyunudur. Tek kişi tarafından ya da birkaç oyuncunun çember şeklinde dizilmesiyle oynanır. Bu oyunu oynayan kişi ya da kişiler, kollarını omuz hizasında, elleri başıyla aynı hizada olacak şekilde iki yana doğru açar ve bazı oyunlarda kollarını dirseklerden hafifçe kırar. Büyük adımlar atarak ağır ağır hareket eder. Ara sıra yere doğru eğilip bir dizin yere dokundurulması, bu dansın belirgin hareketlerindedir. Bu oyun, "güdük" adı verilen kısa pantolon, dize kadar olan uzun çizmeler, fes, gömlek, kuşak gibi kıyafetlerle oynanır.

Ahmet ARHAN

Ahmet Arhan'ın, figürleri ve kıyafetleri hakkında bilgi verdiği halk oyunu, aşağıdakilerden hangisi olabilir?

A)




B)



C)



D)



7. Mezopotamya uygarlıklarından olan Sümerler, gök cisimlerini inceleyerek ay yılı esasına dayanan takvim hazırlamışlardır. Ayrıca dört işlemi kullanmışlar, bölme ve çarpma cetvelleri hazırlamışlar, yüzey ve hacim ölçmeyi gerçekleştirmişler, daireyi 360 dereceye bölmüşlerdir.

Buna göre Sümerlerin dünya uygarlığına hangi alanda katkı sağladığı söylenemez?

A) Matematik

B) Astronomi

C) Geometri

D) Edebiyat

8.



Figen

Mahallemizde çocuklarla saklambaç, körebe, futbol vb. oyunlar oynuyoruz. Böylece iş birliği ve dayanışmayı öğreniyoruz.

Hafta sonu dedem-anneannem, dayım ve halamları ziyaret ettik. Çok güzel zaman geçirdik.



Defne



Burak

Sınıfımdaki arkadaşarımla çok iyi anlaşıyoruz.

Yukarıdaki öğrenciler, sosyalleşmeye katkıda bulunan grup ve kurumlardan hangisi hakkında bilgi vermemiştir?

A) Arkadaş

B) Spor takımı

C) Okul

D) Akraba

9.

ATATÜRK ORTAOKULU
“KÜLTÜRÜMÜZÜ YAŞATIYORUZ”
FESTİVALİ

Etkinlik Programı:

- I. Yörellerimiz - Türkülerimiz
- II. Pizza Yeme Yarışması
- III. Hacivat Karagöz Oyunu Gösterisi
- IV. Beyzbol Maçı

Tarih: 18.11.2019
Yer: Okulumuz bahçesi

Herkesi bekliyoruz.

Kültürümüzle ilgili olmadığı için yukarıdaki festival programından kaç numaralı etkinliklerin çıkarılması gereklidir?

A) Yalnız IV

B) II ve III

C) II ve IV

D) I, II ve III

10. Kültürel unsurlar, ülke içerisinde benzerlik veya farklılık gösterebilir.

Buna göre;

- I. Yemekler
- II. Halk oyunları
- III. Dinî bayramlar
- IV. Millî bayramlar

kültürel unsurlarının sınıflandırılması hangi seçenekte doğru verilmiştir?

	Ülke genelinde farklı kültürel unsurlar	Ülke genelinde benzer kültürel unsurlar
A)	II ve IV	I ve III
B)	I ve III	II ve IV
C)	I ve II	III ve IV
D)	III ve IV	I ve II

Din Kültürü ve Ahlak Bilgisi

1. Bu testte 10 soru vardır.
2. Cevaplarınızı, cevap kâğıdının Din Kültürü ve Ahlak Bilgisi Testi için ayrılan kısmına işaretleyiniz.

1.



Göklerin ve yerin hükümranlığı Allah'ındır. Allah'ın her şeye gücü yeter.

Âl-i İmrân suresi, 189. ayet

Dönüşünüz yalnız Allah'a olacaktır; O, her şeye gücü yetendir.

Hûd suresi, 4. ayet

Bu iki ayette ortak olan özellik aşağıdakilerden hangisi ile ifade edilir?

- A) Alim B) Kadir C) Semi D) Basar

2.



Muhammed Said Öğretmen, "Akıllı ve ergenlik çağına ulaşmış her Müslüman'ın, ramazan ayında oruç tutması farzdır." şeklinde cevap vermiştir.

Buna göre Muhammed Said Öğretmen'e aşağıdaki sorulardan hangisi sorulmuştur?

- A) Ramazan orucu kimlere farzdır?
B) Hangi hâllerde ramazanda oruç tutulmayabilir?
C) Bayram günü oruç tutulabilir mi?
D) Cuma günü oruç tutulabilir mi?

3. Hicri takvim ile ilgili aşağıdaki bilgilerden hangisi yanlıştır?

- A) İlk Müslümanların Medine'ye hicreti başlangıç kabul edilir.
B) Bir ay bazen 29 bazen 30 gündür.
C) 365 gündür.
D) Miladi takvime göre her yıl 11 gün önce gelir.

4.



Yüce Allah'tan bir şey istediğimizde önce elimizden geleni yapmalı, gerekli tedbirleri alırken sonucu da O'ndan beklemeliyiz. Bir şeye ihtiyacımız olduğunda üzerimize düşeni yaparken O'nun yardımını istemekten asla vazgeçmemeliyiz. Yanlış bir davranışta bulunduğumuzda ise Allah'a (cc.) dua etmeli ve bu yanlıştan vazgeçmek için O'ndan yardım ve bağışlanma dilemeliyiz.

Bu parçanın ana fikri aşağıdakilerden hangisidir?


- A) Allah insana dua etmeyi Kur'an-ı Kerim'de öğretir.
B) Elimizi açıp dua etmeden önce gereken her şeyi yapmalıyız.
C) İnsan sadece yanlış yapınca dua etmelidir.
D) Allah dua edenin isteğini kabul etmeyebilir.

5. Hz. İbrahim'in (as.) soyundan birçok peygamber geldiği için ona peygamberlerin atası denilmektedir.

Aşağıdaki peygamberlerden hangisi Hz. İbrahim'in soyundan gelmez?

- A) Hz. Nuh
B) Hz. İsmail
C) Hz. İshak
D) Hz. Muhammed

6.



İhlas suresi ile ilgili;

- I. Kur'an-ı Kerim'in 114. suresidir.
II. Tevhit esasları anlatılmaktadır.
III. Kur'an-ı Kerim'in üçte birine denktir.

bilgilerinden hangileri doğrudur?

- A) I ve II
B) I ve III
C) II ve III
D) I, II ve III

7. İslam dininde duaya verilen büyük önem neticesinde kültürümüzde de birçok dua örneği ortaya çıkmıştır. Günlük konuşmaların hemen her kısmında dua ifadelerine yer verilmiştir.

Aşağıdaki dualardan hangisi hatalı verilmiştir?

- A) Yemek yemeye başlamadan önce "Bismillahirrahmanirrahim"
B) Yemek yedikten sonra "Elhamdülillah"
C) Evden çıkarken "Allah'a (cc.) emanet ol."
D) Okula giderken "Allah (cc.) şifa versin."

8. Oruç Allah rızası için tutulur. Bazı davranışlar orucu bozarken bazıları da oruçluya yakışmaya-çağı için Allah (cc.) katında bu ibadetin değerini düşürür. Müslüman oruçluya yakışmayan bu tür kötü davranışlardan da uzak durmalıdır.

Aşağıdakilerden hangisi bu davranışlardan birisi değildir?

- A) Harama bakmak
B) Haram şeyleri konuşmak
C) Gıybet etmek
D) Kur'an-ı Kerim okumak

9. Aşağıda verilen oruçlarla ilgili hükümlerden hangisi yanlıştır?

- A) Ramazan orucu - Farz
B) Muharrem ayının 9, 10 ve 11. günlerinde oruç tutmak - Sünnet
C) Adak orucu - Vacip
D) Pazartesi ve perşembe oruçları - Farz

10.



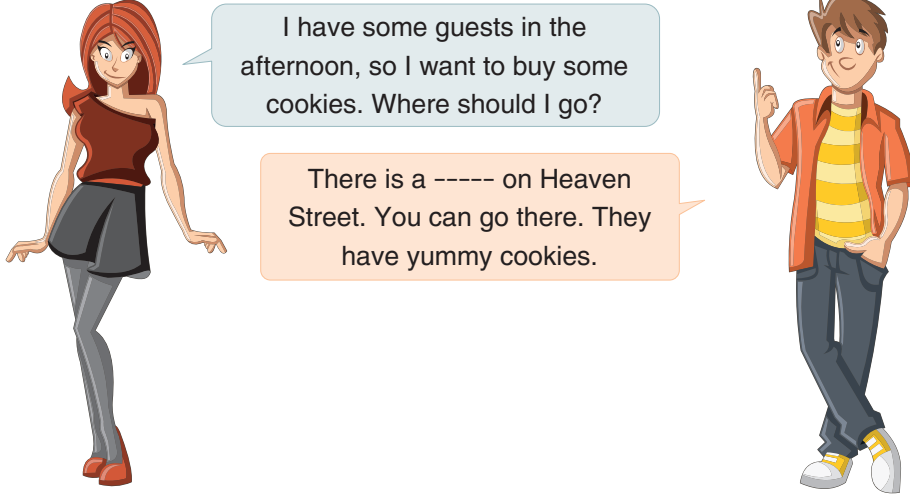
Ramazana özgü ibadetlerden biri fitır sadakasıdır. Ülkemizde buna daha çok fitre denmektedir. Hz. Peygamber dinen zengin sayılan Müslümanlardan kendileri ve bakmakla yükümlü oldukları kimseler için fitre vermelerini istemiştir.

Aşağıdakilerin hangisinde verilecek fitre miktarı doğru tanımlanmıştır?

- A) Veren kişinin bir günlük yemek miktarı
B) Alan kişinin bir haftalık yemek miktarı
C) Veren kişinin bir aylık yemek miktarı
D) Alan kişinin bir yıllık yemek miktarı

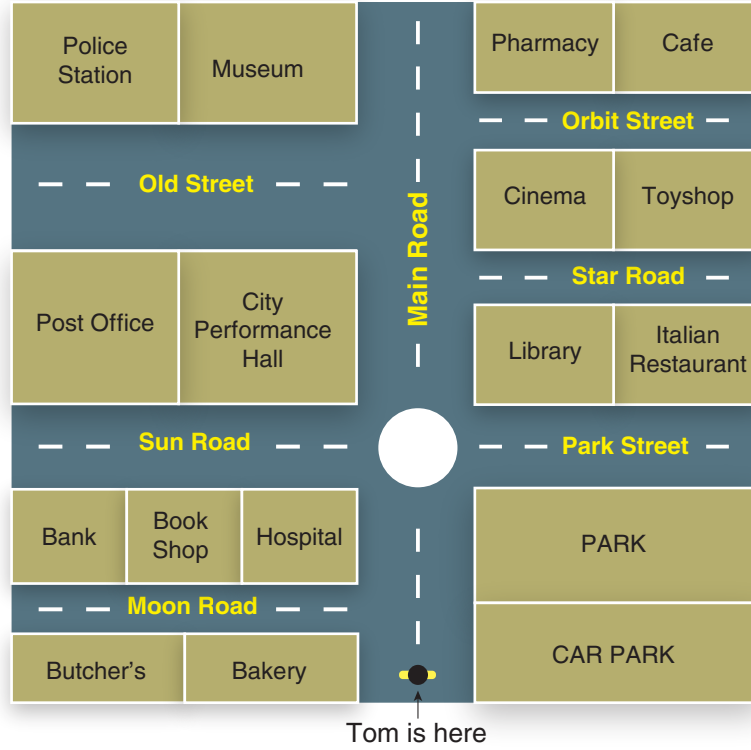
İNGİLİZCE

1. Bu testte 10 soru vardır.
2. Cevaplarınızı, cevap kâğıdının İngilizce Testi için ayrılan kısmına işaretleyiniz.

1. Read the conversation and choose the CORRECT picture to complete it.

Read the text and look at the map below. Then, answer the questions 2-3.

This is Tom's town map and there are some tourists near him. One of them lost his backpack and wants to go to the police station. Tom tells them the route that they should follow.



2. Which option gives the CORRECT route?

- A) Go straight ahead on Main Road. Take the third left into the street, it's the second building on your right.
- B) Go straight ahead on Main Road. Take the second turning on your right. It's the first building on the left.
- C) Go straight ahead on Main Road. Pass the City Performance Hall, turn left into Old Street, it's on your left.
- D) Go straight ahead on Main Road. Pass the park, library and the cinema, turn right into the street, it's on the left corner.

3. Meg : Excuse me, where is the bookshop?

Tom : It's -----.

Which of the following DOES NOT complete the conversation?

- A) on Sun Road
- B) between the bank and the hospital
- C) opposite the hospital
- D) next to the bank

4. Read the information and answer the question.

Hi, my name is Edward. I enjoy spending time with my friends and I like playing outdoor games with them. I don't like indoor activities because they are boring.



Which of the following activity does Edward dislike doing?



5. Read the text and complete the sentence.



Hi, I am Yasemin. I am from Turkey. I speak English and Italian. My favourite school subject is science because I like doing experiments in the lab. I don't like history classes.

According to the speech bubble, Yasemin -----.

A) doesn't speak foreign languages

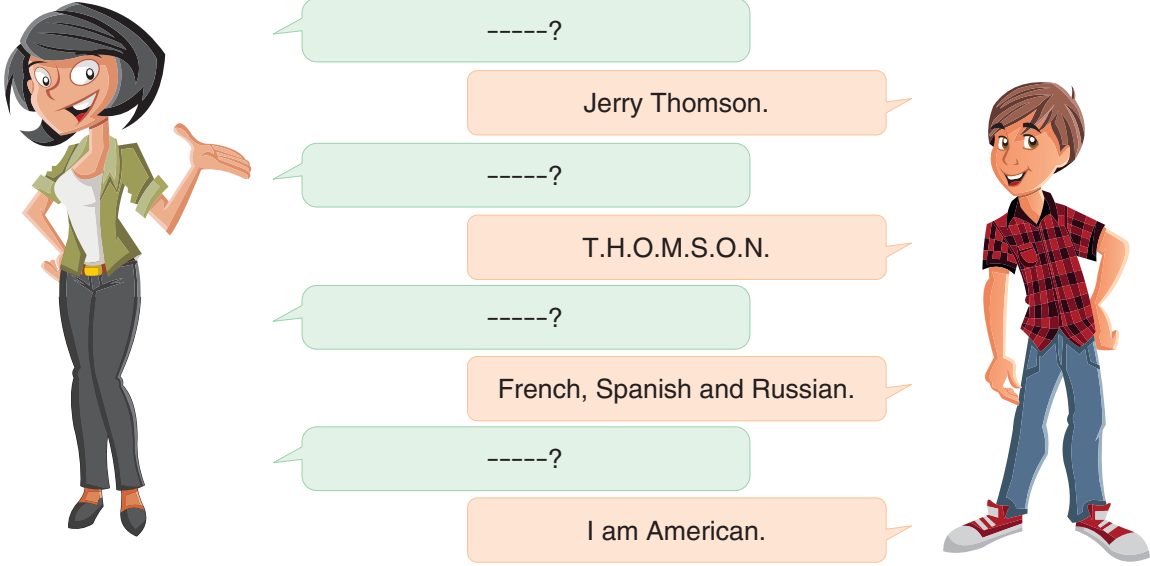
B) can't do experiments

C) likes science classes

D) enjoys history classes

6. Read the conversation and answer the question.

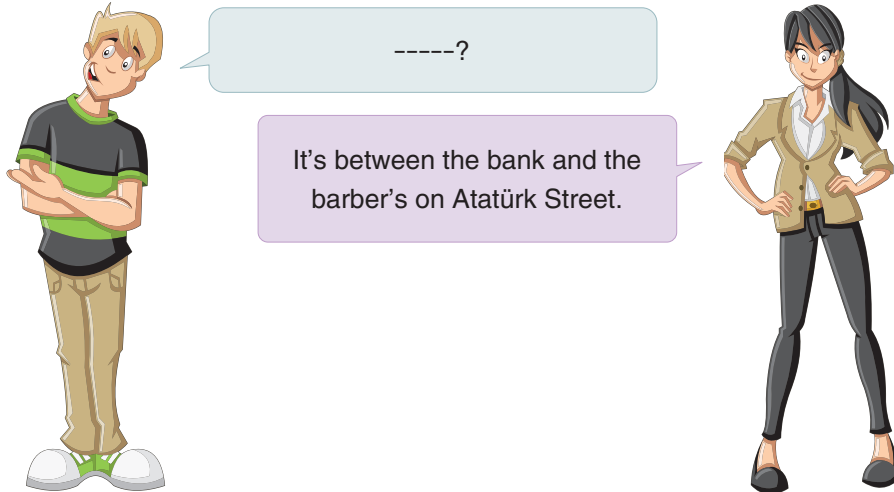
Jerry is new at school. He meets his English teacher. The teacher asks some questions to him.



Which question DOES NOT the teacher ask Jerry?

- A) Where are you from
- B) What nationality are you
- C) How many languages do you speak
- D) What is your name


7.




Which of the following completes the conversation?

- A) How can I get to the barber's
- B) Is there a bank near here
- C) Do you know Atatürk Street
- D) Where is the bookshop

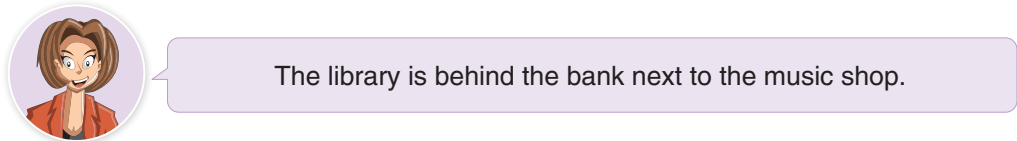
8. Read the conversation and answer the question.



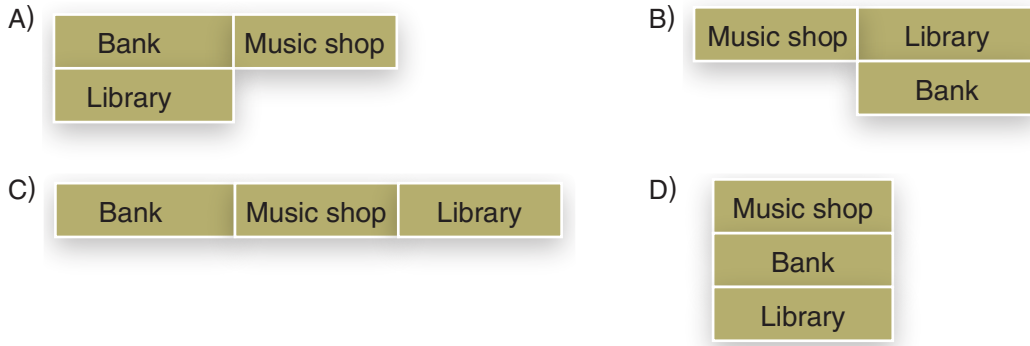
Which picture shows the game?



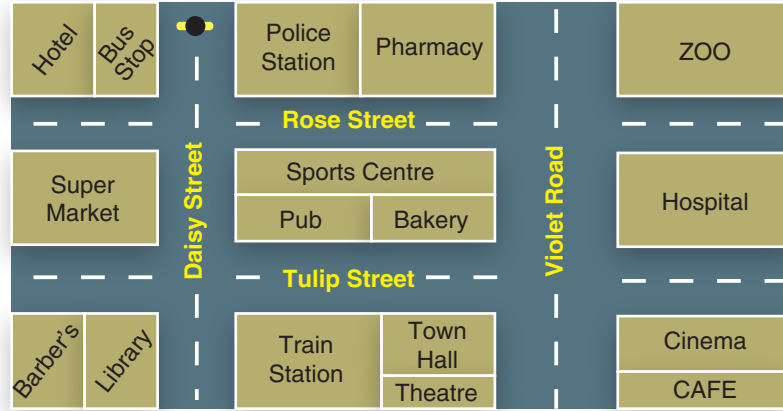
9. Read the text and answer the question.



Which of the following is correct?



10. Read the conversation, look at the map and answer the question.



Tim and Sue are friends. They want to meet in the afternoon. Tim is at the bus stop. Sue gives him the directions on the phone.



Hi, Sue. This is Tom. I am at the bus stop. Where are you now?

I am at the -----.

How can I get there?

Go straight on Daisy Road. Pass the pub and turn left into Tulip Street, go straight ahead and turn right into Violet Road, I am at the second building on your left.

OK. Sue. See you there.



Which of the following completes the conversation?

A) Town Hall

B) cinema

C) theatre

D) cafe

5
sınıf

Türkiye Geneli Kazanım Ölçme ve Değerlendirme Sınavı-2

2. Oturum Sayısal Bölüm

Soru Sayısı: 30

Süre: 45 dakika



Adı ve Soyadı : _____
Sınıfı : _____
Okulu : _____
Öğrenci Numarası : _____

MATEMATİK

1. Bu testte 15 soru vardır.
2. Cevaplarınızı, cevap kâğıdının Matematik Testi için ayrılan kısmına işaretleyiniz.

1. Ahmet Öğretmen'in hazırladığı bir uygulamada, ekrandaki ▲ ve ▼ tuşlarına basılarak bir sayı oluşturuluyor. Oluşturulan bu sayıyı öğrencinin belirli bir sürede okuması isteniyor.
 - ▲ tuşuna her basıldığında ait olduğu basamaktaki rakam 1 artar.
(Rakam 9 iken tuşa basıldığında sayı artmaz.)
 - ▼ tuşuna her basıldığında ait olduğu basamaktaki rakam 1 azalır.
(Rakam 0 iken tuşa basıldığında sayı azalmaz.)




Uygulama şekildeki gibiyken Ahmet Öğretmen ▲ ve ▼ tuşlarına basarak yeni bir sayı oluşturmuş ve Ali de bu sayıyı "yirmi beş milyon altı yüz beş bin yüz yirmi" olarak doğru bir şekilde okumuştur.

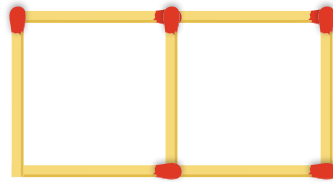
Buna göre Ahmet Öğretmen, ekranda verilen sayıdan sonra ▲ ve ▼ tuşlarına en az kaç kez basmıştır?

- A) 5 B) 6 C) 8 D) 9


2. Kerem'in elinde 80 adet kibrit çöpü bulunmaktadır. Kerem elindeki kibrit çöpleriyle aşağıda verilen şekil örüntüsünün ilk üç adımını oluşturuyor.



1. adım



2. adım



3. adım

Buna göre Kerem, kibrit çöpleriyle bu örüntüyü kaç adım daha devam ettirebilir?

- A) 2 B) 3 C) 4 D) 5

3.



1	2	3	4
$\begin{array}{r} 1265 \text{ (1. sayı)} \\ + 2690 \text{ (2. sayı)} \\ \hline \end{array}$	$\begin{array}{r} 1551 \text{ (1. sayı)} \\ + 4551 \text{ (2. sayı)} \\ \hline \end{array}$	$\begin{array}{r} 1563 \text{ (1. sayı)} \\ + 3289 \text{ (2. sayı)} \\ \hline \end{array}$	$\begin{array}{r} 2346 \text{ (1. sayı)} \\ + 1498 \text{ (2. sayı)} \\ \hline \end{array}$

Alper Öğretmen, matematik dersinde tahtaya 4 farklı toplama işlemi yazmıştır. Tahtaya kaldırdığı öğrencileri Duygu ve Ece'ye yapacakları işlemlerle ilgili aşağıdaki bilgileri vermiştir.

- Duygu, sen birinci sayıları en yakın yüzlüğe, ikinci sayıları da en yakın onluğa yuvarlayarak toplama işlemi yapacaksın.
- Ece, sen de hem birinci hem de ikinci sayıları en yakın yüzlüğe yuvarlayarak toplama işlemi yapacaksın.

Verilen bilgilere göre Duygu ve Ece, kaç numaralı işlemin sonucunu aynı bulur?


A) 1

B) 2

C) 3

D) 4

4.



Bir usta, elinde bulunan 13 metre kabloyu 4 eş parçaya bölmek istiyor.

Buna göre parçalardan birinin uzunluğu kaç metre olur?

A) $3\frac{1}{4}$ B) $4\frac{1}{3}$ C) $4\frac{1}{4}$ D) $2\frac{3}{4}$

5. Aşağıdaki görselde 2019 yılına kadar Dünya'nın en yüksek binasının özellikleri verilmiştir.



**Dünya'nın en yüksek binası
Burç Halife**

Yapım Yılı: 2010
Kat Sayısı: 160
Yüksekliği: $36 \cdot (42 - 19)$ metre

Burç Halife, 2020 yılında Dünya'nın en yüksek binası olma unvanını 1000 metre yüksekliğe sahip Jeddah Tower'a bırakacaktır.

Bu verilere göre Jeddah Tower, Burç Halife binasından kaç metre daha yüksek olur?

- A) 172 B) 165 C) 154 D) 144

6. Eymen, bir oyuncakçı dükkânının önünden geçerken camda bir oyuncak araba görmüş ve bu arabanın fiyatı ile ilgili şunları söylemiştir:

- Oyuncak arabanın fiyatı 5 TL'den fazladır.
- Oyuncak arabanın fiyatı 6 TL'den azdır.



Verilen bilgilere göre ▲ yerine aşağıdaki doğal sayılardan hangisi yazılamaz?

- A) 23 B) 24 C) 25 D) 26

7.

A > → A sayısının 1 fazlasının karesini hesaplar.

< **B** → B sayısının 1 eksiğinin karesini hesaplar.

C >> → C sayısının 1 fazlasının küpünü hesaplar.

>>> **D** → D sayısının 1 eksiğinin küpünü hesaplar.

Yukarıda verilen bilgilere göre;

< **4 + 2** >> işleminin sonucunun >>> **4 - 2** >

işleminin sonucuna göre durumu aşağıdaki-lerden hangisidir?

- A) 6 fazladır. B) 12 fazladır.
C) 18 fazladır. D) Eşittir.

8.

$$\begin{array}{r} \star \quad | \quad 18 \\ \quad \quad | \quad 19 \\ \hline \end{array}$$

★ doğal sayısı, 18'e tam bölünemeyen bir doğal sayıdır.

Buna göre ★ doğal sayısı kaç farklı değer alabilir?

- A) 20 B) 19 C) 18 D) 17

9. Sinan, alacağı çıktıların daha ekonomik olması için sayfaları küçülterek 2 sayfa 1 sayfada olacak şekilde çıktı alıyor.



Yazdır

Yazdırılacak sayfalar

Sayfalar 1 - 125

Sayfa Boyutlandırma

Boyut Poster Çoklu Kitapçık

Kâğıt başına sayfa sayısı 2 / 1

Kâğıdın iki tarafına da yazdır


Ön izleme

Sinan, çıktılarını alırken bir kâğıdın her iki yüzüne de yazdırmıştır.

Buna göre Sinan, 125 sayfalık bir derginin tamamını çıktı almak için kaç adet kâğıt kullanır?

- A) 30 B) 31 C) 32 D) 33

10. Aşağıdaki sayı doğrusunda Ata'nın işaretlemiş olduğu birimkesir verilmiştir.



- Bilge ve Ceyda da Ata'nın çizdiği sayı doğrusunda birer tane birimkesir işaretliyor.
- Bilge'nin işaretlediği birimkesir, Ata'nın işaretlediği birimkesirin sağındadır.
- Ceyda'nın işaretlediği birimkesir ise Ata'nın işaretlediği birimkesirin solundadır.

Buna göre Bilge ve Ceyda'nın sayı doğrusunda işaretlediği birimkesirler aşağıdakilerden hangisi olabilir?

	Bilge	Ceyda
A)	$\frac{1}{6}$	$\frac{1}{2}$
B)	$\frac{1}{6}$	$\frac{1}{8}$
C)	$\frac{1}{8}$	$\frac{1}{6}$
D)	$\frac{1}{2}$	$\frac{1}{6}$

11. Bir markette aynı markaya ait aynı miktardaki sular tekli, ikili ve üçlü paketler hâlinde satılmaktadır. Bu sulara ait satış fiyatları ve marketteki stok adedi verilmiştir. (Stok adedi, o üründen satmaya hazır kaç tane olduğunu ifade eder.)



Tablo: Ürünler ve Fiyatları

Ürün	Fiyatı	Stok Adedi
Tekli paket su	140 kr.	120
İkili paket su	240 kr.	14
Üçlü paket su	350 kr.	18

Verilen bilgilere göre 114 adet şişe su alan bir kişi en az kaç kr. ödeme yapar?

- A) 15960 B) 14140 C) 13680 D) 13300

- 12.



Yukarıdaki her bir hücre 8 basamaklı bir doğal sayının basamaklarını temsil etmektedir. Bu sayının bölüklerinde bulunan sayılar ile ilgili aşağıdaki bilgiler verilmiştir.

Binler Bölüğü: En küçük 3 basamaklı doğal sayıdır.


Milyonlar Bölüğü: Rakamları farklı olan iki basamaklı en küçük çift doğal sayıdır.

Birler Bölüğü: En büyük rakamdır.

Verilen bu bilgilere göre oluşturulacak 8 basamaklı doğal sayının kaç basamağında, basamak değerleri birbirine eşit olan rakam vardır?

- A) 5 B) 4 C) 3 D) 2

13.



1'den 9'a kadar olan rakamların yazılı olduğu toplar 1 ve 2. kutunun içine atılıyor.

Hilal, 1. kutunun içinden rastgele 4 top alıyor ve şu bilgileri veriyor:

- 2 topun üzerindeki rakamların çarpımı 5'tir.
- Diğer 2 topun üzerindeki rakamların çarpımı 8'dir.

Emine, 2. kutunun içinden rastgele 4 top alıyor ve şu bilgileri veriyor:

- 2 topun üzerindeki rakamların çarpımı 10'dur.
- Diğer 2 topun üzerindeki rakamların çarpımı 6'dır.

Verilen bilgilere göre 1. kutuda kalan topların üzerinde yazan rakamlarla oluşturulabilecek en büyük beş basamaklı doğal sayı ile 2. kutuda kalan topların üzerinde yazan rakamlarla oluşturulabilecek en küçük beş basamaklı doğal sayının farkı kaçtır?

A) 63074

B) 63974

C) 64074

D) 64974

14.

$$390 \times 35$$

Yukarıdaki çarpma işlemi yapacak olan Emir yanlışlıkla 390 sayısındaki 9 rakamını 4 olarak almıştır.

Buna göre Emir'in bulduğu sonuç, gerçek sonuçtan ne kadar azdır?

A) 1750

B) 1850

C) 1950

D) 2050

15. Aşağıda bir işlemin zihinden yapılaş aşamaları verilmiştir.

$$144 \div 4 = 36$$

$$36 \cdot 100 = 3600$$

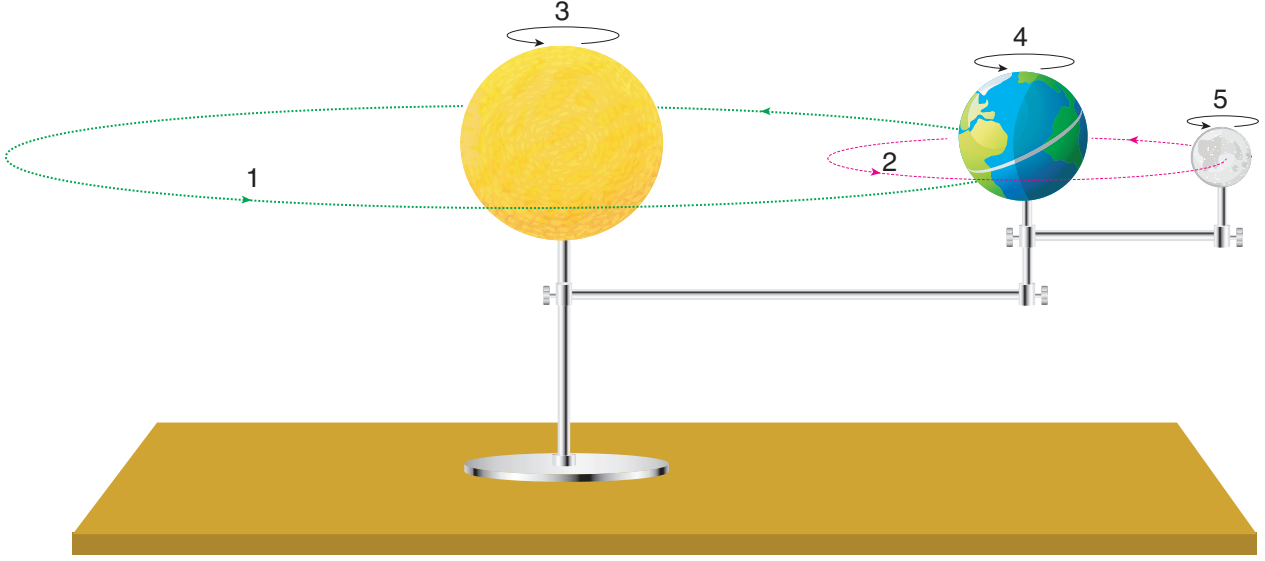
Buna göre bu işlem aşağıdakilerden hangisidir?

A) 144×50 B) 36×25 C) 144×25 D) 72×50

FEN BİLİMLERİ

1. Bu testte 15 soru vardır.
2. Cevaplarınızı, cevap kâğıdının Fen Bilimleri Testi için ayrılan kısmına işaretleyiniz.

1. Güneş, Dünya ve Ay'ın hareketleri şekilde verilmiştir.



Güneş, Dünya ve Ay'ın şekildeki hareketleri ile ilgili 5-A sınıfı öğrencileri aşağıdaki ifadeleri söylüyor.

Emel : 1 numaralı hareketin bir tam turu için geçen süre en uzundur.

Melek : 2 numaralı hareket, Ay'ın evrelerinin oluşumunu sağlar.


Suna : 2 ve 5 numaralı hareketlerin bir tam turu için geçen süre eşittir.

Sıla : Dünya'dan bakıldığında Ay'ın aynı yüzünün görünmesi 3, 4 ve 5 numaralı hareketlerin gerçekleşme süreleri ile ilgilidir.

Buna göre hangi öğrencinin söylediği ifade yanlıştır?

- A) Emel B) Melek C) Suna D) Sıla

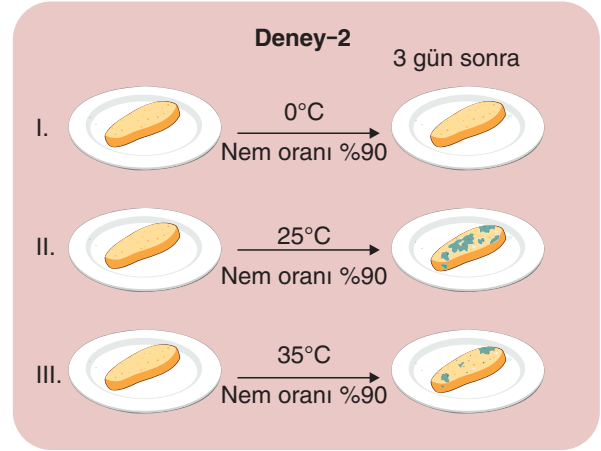
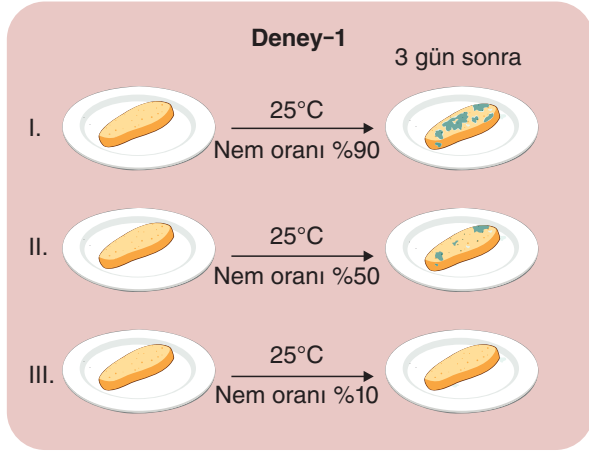
2. Fen Bilimleri öğretmeni Enes Bey'in sınıfa getirdiği kürenin etrafına Metin ve Esra şekildeki gibi geçiyor. Perdeleri ve lambaları kapatan Enes Öğretmen, Metin'in feneri yakarak küreyi aydınlatmasını istiyor.



El feneri Güneş'i, küre Ay'ı, Esra ise Dünya'dan bakan gözlemciyi temsil ettiğine göre Esra küreyi Ay'ın hangi evresinde görür?

- A) Yeni ay B) İlk dördün C) Dolunay D) Son dördün

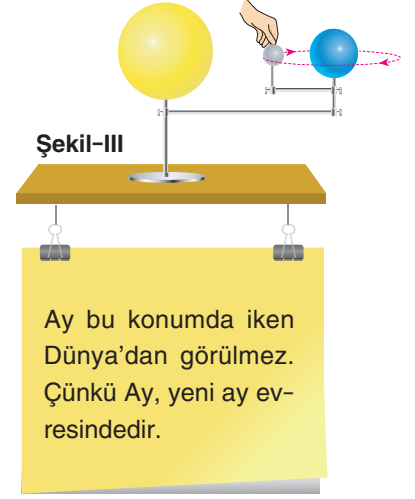
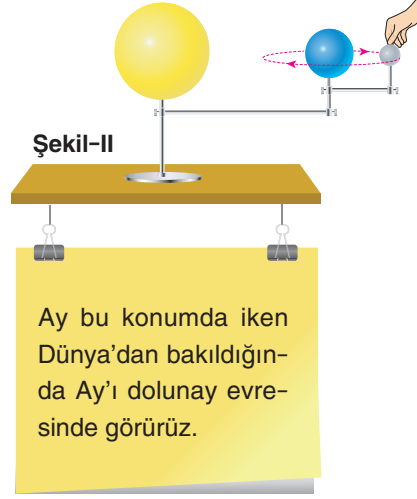
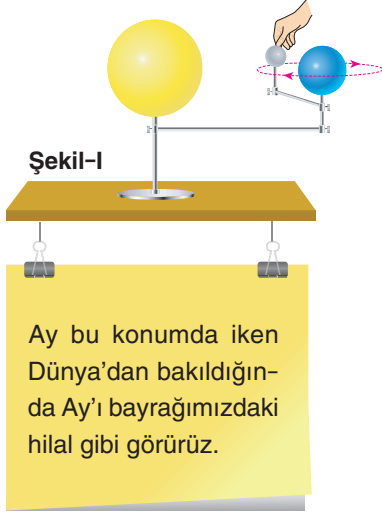
3. Küf mantarlarının üreme hızlarına etki eden faktörlerin belirlenmesi için aşağıdaki deneyler yapılıyor.



Bu deneylerden elde edilen verilerden aşağıdaki çıkarımlardan hangisine ulaşılmaz?

- A) Deney-1'de ortam neminin küf mantarının üremesine etkisi incelenmiştir.
 B) Deney-2'de ortam sıcaklığının küf mantarının üremesine etkisi incelenmiştir.
 C) Her iki deneyden de elde edilen verilere göre küf mantarının nemli ve ılık ortamda daha iyi ürediği söylenebilir.
 D) 7 gün sonra Deney-1'deki III. ekmeğin ve Deney-2'deki I. ekmeğin küflenmeye başlaması.

4. Öğretmenin kurduğu düzeneği kullanarak Ay'ın Dünya etrafında dolanma hareketini arkadaşlarına gösteren Elif, şekillerde verilen konumlarda Ay ile ilgili aşağıdaki açıklamaları yapıyor.



Etkinlikteki uygulamaları ve açıklamaları yapan Elif ile ilgili;

- I. Ay'ın Dünya etrafındaki farklı konumlarında hangi evrelerde olduğunu biliyor.
- II. Ay'ın Dünya etrafında dolanma hareketinin yönünü bilmiyor.
- III. Etkinlik esnasında Dünya'nın yıllık hareketini göstermemiştir.

ifadelerinden hangileri söylenebilir?

- A) Yalnız I B) I ve II C) II ve III D) I, II ve III

5. Ormanlarda, ağaç gövdelerinde veya kütüklerinde, çürümüş yaprakların arasında yaşayan bazı mantar çeşitleri şekilde verilmiştir.



Çörek mantarı



Beyaz mantar



Kuzugöbeği



Yumurta mantarı



Kanlıca mantarı



Borazan mantarı

Şekilde verilen mantar türleri ile ilgili;

- I. Şapkalı mantar olarak adlandırılan bu mantar türlerinin toprağa bağlı olarak yaşamaları bitkilere benzeyen özelliğidir.
- II. Besinlerini dışarıdan hazır olarak alması hayvanlarla benzerlik gösterir.
- III. Protein ve vitamin bakımından besin değeri yüksek olduğu için bazı türleri besin olarak tüketilir.

ifadelerinden hangileri doğrudur?

- A) Yalnız II B) I ve II C) I ve III D) I, II ve III

6. Aşağıda verilen kartlarda Ay ile ilgili bazı bilgiler veriliyor.

I

Ay'ın yüzeyinde kayalıklar ve geniş düzlükler bulunur. Ayrıca Ay'da derin vadiler ve yüksek dağlar da yer alır.

II

Büyük bir hızla Ay yüzeyine çarpan meteorlar, burada çok sayıda çukurlar oluşturmuştur. Bu çukurlar krater olarak bilinir.

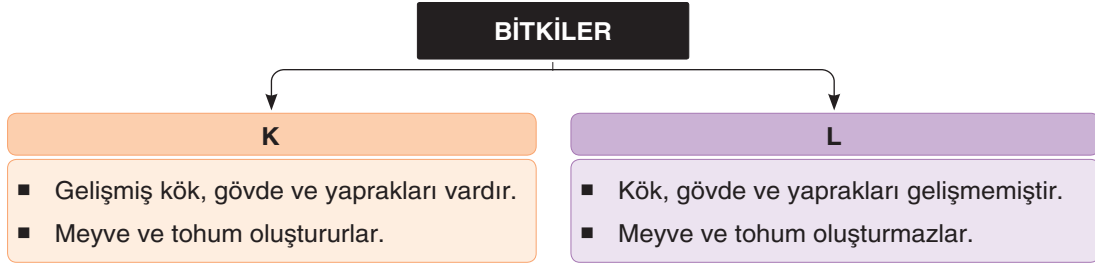
III

Dünya'da meydana gelen yağmur, kar, dolu, rüzgâr gibi meteorolojik olaylar Ay'da görülmez.


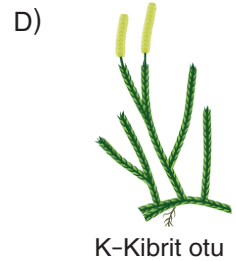

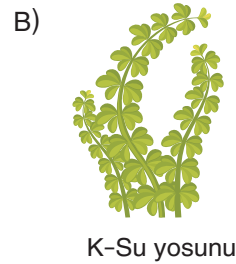

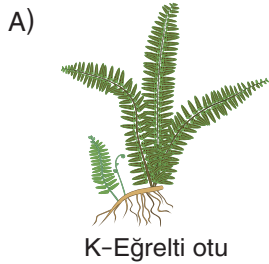
Kartlarda verilen bilgilerden hangileri Ay'ın atmosferinin çok ince olmasından kaynaklanır?

- A) Yalnız I B) I ve II C) II ve III D) I, II ve III

7. Bitkiler kendi besinlerini kendisi üreten canlılardır. Bitkileri çiçekli bitkiler ve çiçeksiz bitkiler olmak üzere iki gruba ayırırız.




Buna göre özellikleri verilen K ve L bitki grubuna aşağıdaki canlılardan hangileri örnektir?




8. Sinan, bahçelerinde bulunan K papatyasının çiçeklerini keserek bahçeden uzaklaştırıyor. 1 yıl sonra bahçede papatya bitkisinin yetişmediği görülüyor.




1 yıl
sonra



Aynı ortam koşullarında bulunan ve herhangi bir işlem yapılmayan L papatyasının 1 yıl sonraki gelişimi ise şekildeki gibi oluyor.




1 yıl
sonra



Bitkiler üzerinde yapılan bu işlemler aşağıdakilerden hangisini kanıtlar?

- A) Çiçeği kesilen bitki besin üretmediği için bir süre sonra ölür.
- B) Çiçek, bitkinin ihtiyacı olan karbondioksidi havadan alan organdır.
- C) Çiçeği kesilen bitki tohum oluşturamadığı için çoğalamaz.
- D) Çiçeği kesilen bir bitkide meyve oluşumu gerçekleşmez.

9.



Şekilde verilen canlıların dâhil oldukları hayvan gruplarının özellikleri ile ilgili Emir, Yasin, Mete ve Rıza aşağıdaki ifadeleri söylüyor.

Emir : Vücutları tüylerle kaplı olup yumurta ile çoğalırlar. Bu canlılar yavrularına bakar.

Yasin : Yumurta ile çoğalan bu canlılar solungaç solunumu yapar.

Mete : Vücutları pullarla kaplı olan bu canlılar akciğer solunumu yapar.

Rıza : Bu canlıların vücutlarında kıkırdaktan ya da kemikten yapılmış bir iç iskelet yoktur.

Öğrencilerden hangisinin söylediği özellik, şekilde verilen canlılardan birine ait değildir?

A) Emir

B) Yasin

C) Mete

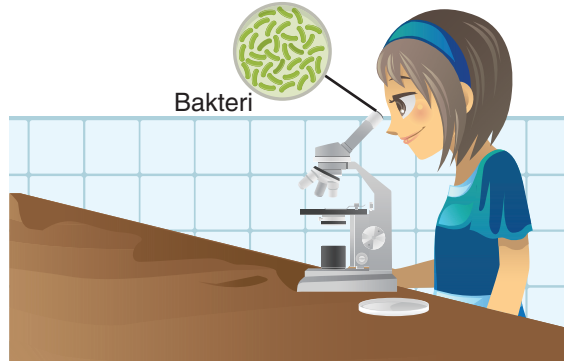
D) Rıza

10. Tuğba, sınıflarında bulunan K ve L panolarına üzerinde hayvan fotoğraflarının bulunduğu kâğıtları ortak özelliklerine göre sınıflandırarak asıyor.



Tuğba'nın elinde bulunan kâğıdı hangi panoya asması gerektiği ile ilgili açıklama yapan aşağıdaki öğrencilerden hangisinin söylediği ifade doğrudur?

- A) **Selim:** K panosunda memeliler, L panosunda ise kuşlar yer almaktadır. Bu nedenle L panosuna asmalıdır.
- B) **Ali:** K panosunda doğurarak çoğalanlar, L panosunda ise yumurtayla çoğalanlar yer almaktadır. Bu nedenle L panosuna asmalıdır.
- C) **Mehmet:** K panosunda omurgalı hayvanlar, L panosunda ise omurgasız hayvanlar yer almaktadır. Bu nedenle K panosuna asmalıdır.
- D) **Yaren:** K panosunda omurgalı hayvanlar, L panosunda ise omurgasız hayvanlar yer almaktadır. Bu nedenle L panosuna asmalıdır.
11. Atık sudan aldığı örneği mikroskopla inceleyen Emine, su içerisinde çok sayıda bakteri olduğunu gözlemliyor.



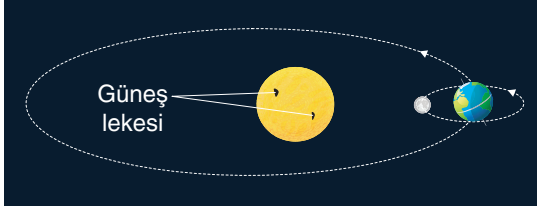
Emine'nin incelediği canlılarla ilgili;

- I. Çıplak gözle görülemeyecek kadar küçük canlılardır.
- II. Havada, suda, toprakta veya canlı vücutlarında yaşayabilirler.
- III. Bu canlıların tüm türleri diğer canlıların yaşamlarını olumsuz etkiler.

ifadelerinden hangileri doğrudur?


- A) Yalnız II B) I ve II C) I ve III D) I, II ve III

12. Güneş, Dünya ve Ay Şekil-I'deki konumda gözlemlendikten yaklaşık 40 gün sonra Şekil-II'deki gibi gözlemleniyor.



Şekil-I

40 gün
sonra



Şekil-II

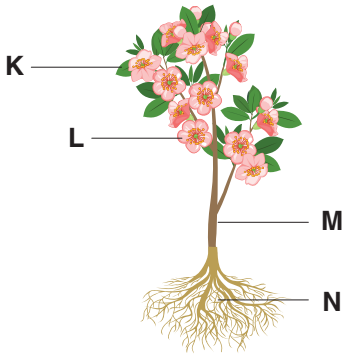
Sadece bu şekiller incelenerek;

- I. Güneş kendi eksenini etrafında dönme hareketi yapar.
- II. Ay, Dünya etrafında dolarken aynı zamanda Dünya ile birlikte Güneş etrafında dolar.
- III. Dünya ve Ay kendi eksenleri etrafında saat yönünün tersine dönerler.

çıkarımlarından hangilerine ulaşılabilir?

- A) Yalnız II B) I ve II C) I ve III D) I, II ve III

- 13.



Yukarıda verilen bitki bölümleri ile ilgili ifadelerden hangisi söylenemez?

- A) K yapısı tüm bitkilerde üremeyi sağlar.
- B) M yapısı, L ve N yapıları arasında madde iletimini sağlar.
- C) L yapısının gelişmesiyle bazı bitkilerde meyve oluşur.
- D) N, topraktan su ve mineralleri alır.

- 14.



Aşağıda özellikleri verilen canlı grubuna ait bir hayvan söyleyiniz.

1. Yumurtayla çoğalırlar.
2. -----.

Fen Bilimleri öğretmeni bir canlı grubuna ait 2. özelliği tahtaya yazınca bazı öğrenciler aşağıdaki örnekleri veriyor.

Selin : Yılan

Sami : Kanarya

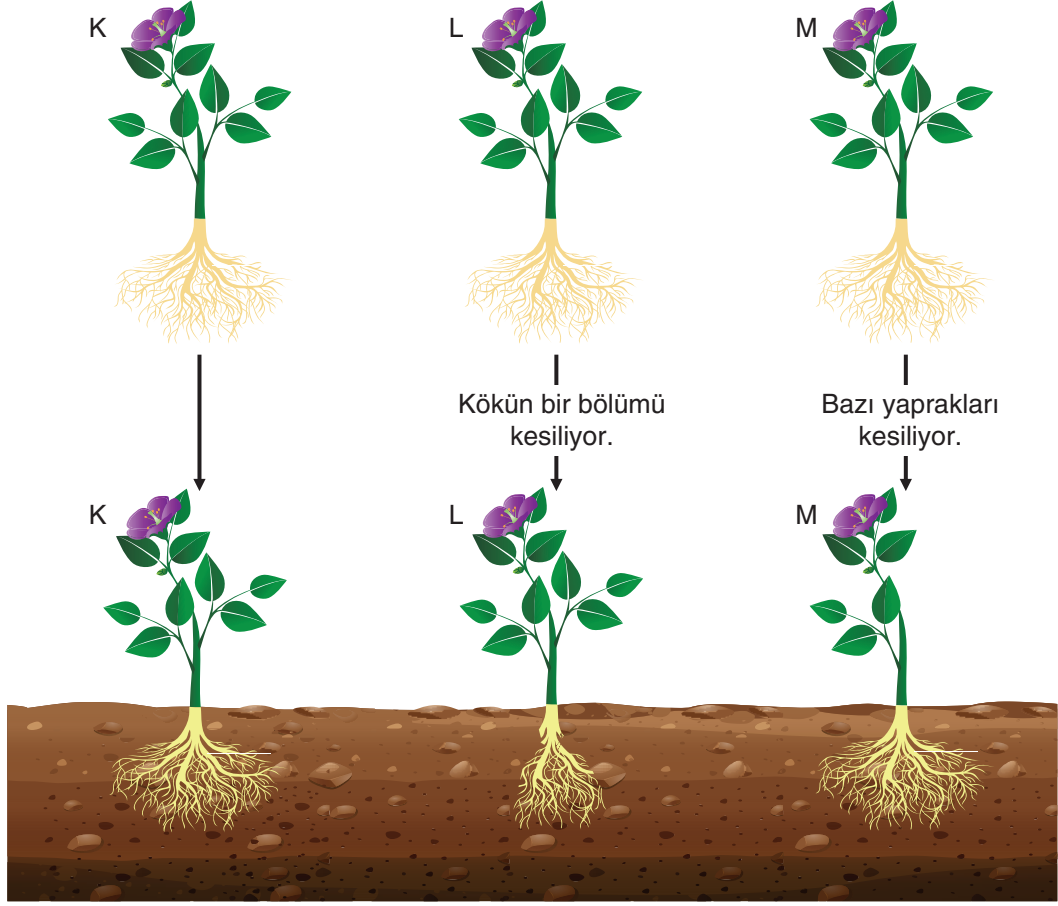
Melek : Hamsi

Melis : Kurbağa

Sadece Sami'nin verdiği örnek doğru olduğuna göre öğretmenin tahtaya yazdığı 2. ifade aşağıdakilerden hangisidir?

- A) Akciğer solunumu yaparlar.
- B) Yavrularına bakarlar.
- C) Solungaç solunumu yaparlar.
- D) Yavrularını sütle beslerler.

15. Özdeş K, L ve M bitkilerine şekilde verilen işlemler yapıldıktan sonra bu bitkiler aynı içeriğe sahip toprağa dikiliyor. Bitkiler eşit zaman aralıklarında eşit miktarlarda su ile sulanıyor.



K, L ve M bitkileri ile ilgili aşağıdaki ifadelerden hangisi söylenemez?

- A) Kökünün bir bölümü kesilen L bitkisi, ihtiyacı olan su veya mineralleri tam olarak karşılayamıyor olabilir.
B) M bitkisine yapılan işlem, bitkinin terleme ve gaz alışverişi faaliyetlerini olumsuz etkilemiş olabilir.
C) Bitki kökünün bitki gelişimine etkisini incelemek için L ve M bitkilerinin gelişimi incelenebilir.
D) Bitkide bulunan yaprak sayısının bitki gelişimine etkisini incelemek için K ve M bitkilerinin gelişimi incelenebilir.

