

### Sözcükte Anlam - 2 (Sözcükler Arası Anlam İlişkisi - Söz Sanatları)

1. • I ve II. sözcük arasında zıt anlamlılık ilişkisi vardır.  
• I ve III. sözcük arasında eş anlamlılık ilişkisi vardır.

**Bu açıklamaya göre aşağıdakilerden hangisinde sözcükler yanlış sıralanmıştır?**

I. Sözcük	II. Sözcük	III. Sözcük
A) Yarar	Zarar	Fayda
B) Uzak	Yakın	Irak
C) Yaş	Kuru	Islak
D) Doğal	Tabii	Yapay

2. **Aşağıdakilerin hangisinde altı çizili sözcükler eş sesli değildir?**

- A) Kırım hanları ile yapılan görüşme iyi geçmiş. Akşam karanlığında hana ulaştık.  
B) Bizim kır evinde büyük bir kütüphane var. Ara sıra kır kokuları getiren bir rüzgâr esiyor.  
C) Yarışmada iki kişiyi birden mat ettim. Çocuk odasındaki duvarın rengi çok mat olmuş.  
D) Gurbet elde başına bir hâl gelmesin. Eline bir kitap alıp koltuğa yavaşça oturdu.

3. Gece konaklamalı bir kamp, dinginliği ve huzuru bulmak adına mükemmel bir etkinliktir. Anadolu toprakları, bu etkinlik için son derece elverişlidir. Dört mevsim kamp yapmaya müsait dağlarımız, yaylalarımız, göl kenarlarımız ve sahillerimiz var. Her türlü deneyim seviyesine uygun kamp rotalarımız sizleri bekliyor.  
**Bu parçada numaralanmış sözcüklerden hangisi anlamca diğerlerinden farklıdır?**

- A) I. B) II. C) III. D) IV.

4. **Aşağıdaki atasözlerinin hangisinde zıt anlamlı sözcükler kullanılmamıştır?**

- A) Dost için ölmeli, düşman için dirilmeli.  
B) Akıllı, söylemeden düşünür; akılsız, düşünmeden söyler.  
C) Kötülük her kişinin kârı, iyilik er kişinin kârı.  
D) Alçak yerde yatma, sel alır; yüksek yerde yatma, yel alır.

5. • Onun kabiliyetli bir genç olduğunu hemen anlamış.  
• Doğum günü için güzel bir hediye aldım.  
• Trafikte uyarı levhalarına dikkat etmeliyiz.  
• Bu sabah hastaneye çok erken gittik.

**Aşağıdakilerden hangisi, bu cümlelerdeki altı çizili sözcüklerden herhangi birinin eş anlamlısı değildir?**

- A) İkaz B) Armağan  
C) Çabuk D) Yetenekli

6. • Soba borusundaki kurumu temizlerken elleri kapkara olmuştu.  
• En son, dedesi ve babaannesi sağ iken köye gelmişlerdi.  
• Çocuklar denize girip yüzmek için can atıyorlar.  
• Gözlerinden, kırları artan sakalına bir iki damla yaş düştü.

**Aşağıdakilerden hangisi, bu cümlelerdeki altı çizili sözcüklerden herhangi birinin eş seslisinin anlamı değildir?**

- A) Derisini çıkarmak, derisini soyamak  
B) Vücutta kalbin bulunduğu tarafın karşısında olan, sol karşıtı  
C) Doğuştan beri geçen ve yıl birimi ile ölçülen zaman  
D) Ocak bacalarında biriken veya çevrede savrulan kalın is

Sözcükte Anlam - 2 (Sözcükler Arası Anlam İlişkisi - Söz Sanatları)

7. Kalbim al renkli bir çiçek  
Ruhum üstündeki böcek  
Size sevgim büyük gerçek  
Renk renk kokulu çiçekler

**Bu dörtlükte geçen "ruh" sözcüğü aşağıdakilerden hangisine benzetilmiştir?**

- A) Böcek  
B) Sevgi  
C) Çiçek  
D) Kalp

8. Güneş ufuklara saplarken mızrak,  
Şehirlerden uzak, köylerden uzak  
Geçmiş günlerimi hep unutarak  
Süslü rüyalara dalasım gelir.

**Bu dörtlükte kişileştirilen unsur aşağıdakilerden hangisidir?**

- A) Güneş  
B) Ufuk  
C) Şehir  
D) Köy

9. Aşağıdaki dizelerden hangisinde kişileştirme vardır?

- A) Ah bu türküler, köy türküleri  
Mis gibi insan kokar, mis gibi toprak  
B) Bahçende çiçekler açsın hep böyle,  
Gül eksik olmasın vazondan.  
C) Akşam rüzgârları der ki Ali'ye  
"Gözler ileriye, gönül ileriye!.."  
D) Ateşin yeni bulunduğu çağlarda  
Yine böyle yanardı bu lambalar

10. Gideceksin buralardan gün gelecek,  
Yavaş yavaş kaybolacak bindiğin tren,  
Eriyen karlar gibi içinden  
Bütün sıkıntıların akıp gidecek.

**Bu dörtlükte yer alan benzetmenin benzeyen ve benzetilen unsurları aşağıdakilerden hangisinde doğru verilmiştir?**

	<u>Benzeyen</u>	<u>Benzetilen</u>
A)	Tren	Gün
B)	Gün	Tren
C)	Kar	Sıkıntı
D)	Sıkıntı	Kar

11. Uçsuz bucaksız köylerimizde kuşlar gibi  
Her sabah çocuklar size uçar  
Ama küçük, ama büyüyen, ama güleç  
Alın benim gönlümden de o kadar.

**Bu dörtlükle ilgili aşağıdakilerden hangisi söylenmez?**

- A) İkilime kullanılmıştır.  
B) "Güleç" sözcüğü mecaz anlamda kullanılmıştır.  
C) Benzetme sanatından yararlanılmıştır.  
D) Eş sesli sözcüğe yer verilmiştir.

12. Ahsen, yabancı dillerden alınmış, dilimize henüz yerleşmemiş sözcüklerin Türkçe karşılıklarını kullanmak istemektedir.

- I. Bu metodu gözden geçirmemiz gerekiyor.  
II. Blender alırsak işimiz çok kolaylaşacak.  
III. Şov yapmaya devam ederse uyaralım.  
IV. Virajı geçince sağda bir konak var.

**Buna göre aşağıdakilerden hangisini numaralanmış cümlelerdeki altı çizili sözcüklerden herhangi birinin yerine kullanamaz?**

- A) Karıştırıcı  
B) Gösteri  
C) Kural  
D) Dönemeç



Kesirlerle İşlemler

1.  $\frac{2}{9} + \frac{1}{3}$  işleminin sonucu kaçtır?

- A)  $\frac{3}{12}$  B)  $\frac{3}{9}$  C)  $\frac{5}{9}$  D)  $\frac{7}{9}$

2.

	$\frac{8}{5}$	
$\Delta$		$1\frac{1}{10}$
	1	

Yukarıdaki şekilde her satır ve her sütundaki sayıların toplamı 3 olacak şekilde sayılar yerleştirilecektir.

Buna göre  $\Delta$  yerine aşağıdakilerden hangisi yazılmalıdır?

- A)  $\frac{5}{2}$  B)  $\frac{7}{4}$  C)  $\frac{8}{5}$  D)  $\frac{3}{2}$

3. Aşağıdaki eşitliklerden hangisi yanlıştır?

- A)  $\frac{4}{6} - \frac{1}{3} = \frac{3}{6}$  B)  $\frac{7}{5} - \frac{9}{15} = \frac{12}{15}$   
C)  $\frac{3}{2} + \frac{3}{8} = \frac{15}{8}$  D)  $\frac{1}{2} - \frac{3}{10} = \frac{2}{10}$

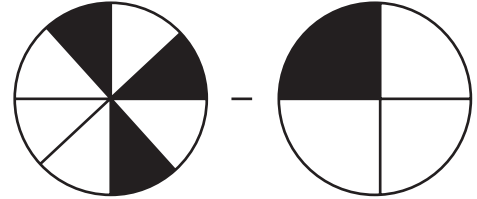
4.  $3 - \frac{3}{4}$  işleminin sonucu kaçtır?

- A)  $\frac{15}{4}$  B)  $\frac{12}{4}$  C)  $\frac{9}{4}$  D)  $\frac{5}{4}$

5.  $1\frac{2}{3} + 3\frac{1}{6}$  işleminin sonucu kaçtır?

- A)  $\frac{31}{6}$  B)  $\frac{29}{6}$  C)  $\frac{25}{6}$  D)  $\frac{23}{6}$

6.



Yukarıdaki modellerde boyalı olarak gösterilen kesirlerle yapılan işlemin sonucu kaçtır?

- A)  $\frac{1}{2}$  B)  $\frac{1}{4}$  C)  $\frac{1}{8}$  D)  $\frac{1}{16}$

Kesirler

7. Bir kovanın  $\frac{4}{5}$ 'ü boştur.

**Kovada 2 litre su olduğuna göre kovanın tamamı kaç litre su alır?**

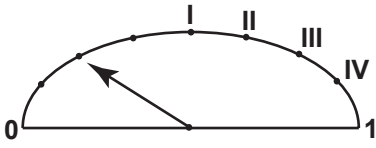
- A) 12      B) 10      C) 8      D) 6

8. Bir çuvaldaki fındıkların  $\frac{1}{3}$ 'ünü Mehmet,  $\frac{1}{4}$ 'ünü Ahmet alıyor.

**Mehmet'in aldığı fındık Ahmet'in aldığı fındıktan 15 kg fazla olduğuna göre başlangıçta çuvalda kaç kilogram fındık vardır?**

- A) 180      B) 150      C) 120      D) 100

- 9.



Bir aracın deposunda kalan benzin miktarının oranı yukarıdaki eşit aralıklı göstergede verilmektedir.

**Bu aracın deposuna, deponun  $\frac{1}{2}$ 'i kadar daha benzin doldurulursa ibre hangi noktayı gösterir?**

- A) IV      B) III      C) II      D) I

10. Kerem bir duvarın 1. gün  $\frac{2}{3}$ 'ünü, 2. gün  $\frac{1}{6}$ 'ini boyuyor.

**Duvarın son durumunu boyalı olarak gösteren kesir modeli aşağıdakilerden hangisi olabilir?**

- A)      B)      C)      D)

11. Gizem 240 sayfalık kitabının ilk hafta  $\frac{3}{10}$ 'ünü, ikinci hafta  $\frac{2}{5}$ 'ini okuyor.

**Buna göre Gizem toplam kaç sayfa kitap okumuştur?**

- A) 120      B) 144      C) 156      D) 168

12. Zehra parasının  $\frac{1}{12}$ 'ini Beyza'ya,  $\frac{1}{4}$ 'ünü Begüm'e veriyor.

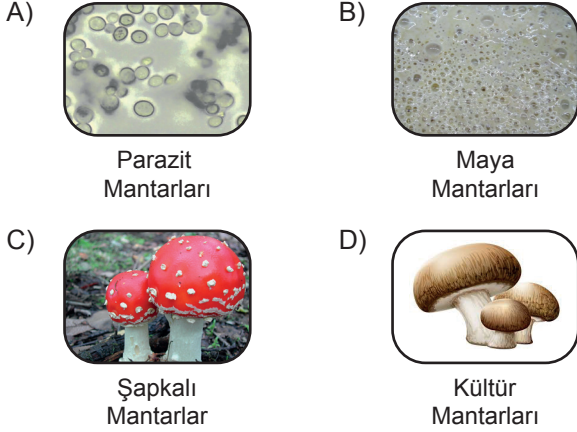
**Geriye parasının kaçta kaç kalmıştır?**

- A)  $\frac{3}{4}$       B)  $\frac{2}{3}$       C)  $\frac{7}{12}$       D)  $\frac{1}{2}$

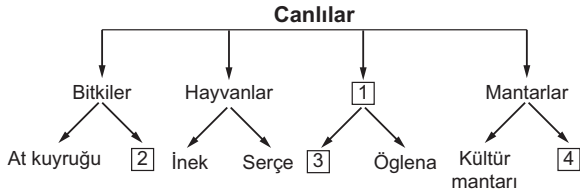


Canlıları Tanıyalım

1. Aşağıdaki mantar türlerinden hangisi insan, hayvan ve bitkilerin üzerinde yaşayarak bazı hastalıklara neden olur?



2. Aşağıdaki şemada canlılar sınıflandırılarak her gruba ikişer örnek verilmiştir.



Şemada boş bırakılan ve numaralandırılmış 1, 2, 3, 4 ile gösterilen yerlere hangi seçenekteki canlılar yazılmalıdır?

1	2	3	4
A) Mikroskopik canlılar	Su yosunu	Maya mantarları	Tırtıl
B) Omurgalılar	Mikroskopik canlılar	Amip	Şapkalı mantar
C) Mikroskopik canlılar	İspanak	Terliksi hayvan	Maya mantarı
D) Parazitler	Elma	Fare	Bakteri

3. • Doğurarak çoğalır.  
• Omurgalı hayvandır.  
• En büyük memeli olarak bilinir.

Verilen özellikler, aşağıdaki canlılardan hangisine aittir?

- A) Ahtapot  
B) Deve kuşu  
C) Fil  
D) Mavi balina

4. Mikroskopik canlılar ile ilgili,

- I. Yalnızca canlı ortamlarda yaşayabilirler.  
II. Hastalıkların oluşmasına neden olabilirler.  
III. Bazı türleri sütün mayalanıp peynir ve yoğurda dönüşmesinde rol oynarlar.

ifadelerinden hangileri doğrudur?

- A) Yalnız I.  
B) I ve II.  
C) II ve III.  
D) I, II ve III.

5. Aşağıdaki metin TÜBİTAK Bilim Genç sitesinden derlenmiştir.

MERCANLAR

Mercanları tanımayan biri, onları gördüğünde ya büyük bir kaya ya da bir su altı bitkisi zanneder. Ancak mercanlar, ne bir kaya ne de bir bitkidir. Mercanlar gerçekte birer hayvandır. Sarı, kırmızı, yeşil gibi parlak renkleri, avlarını kendilerine çekebilmelerini kolaylaştırır. Maalesef günümüzde bu güzel canlıların yaşamları tehlike altındadır.

Bu metinde bahsedilen mercanlarla ilgili,

- I. Günümüzde nesilleri tamamen tükenmiştir.  
II. Hayvanlar sınıfında yer alırlar.  
III. Parlak renkleri av bulmalarını kolaylaştırır.

ifadelerinden hangileri yanlıştır?

- A) Yalnız I.  
B) Yalnız III.  
C) I ve II.  
D) II ve III.

6.




- Omurgasız bir hayvanım.
- Vücudumun dışında sert bir kabuğum var.
- Yumurta ile çoğalırım.

Yukarıda kendisi hakkında bilgi veren canlı türü, aşağıdakilerden hangisidir?

- A) Kurbağa  
B) Kara salyangozu  
C) Solucan  
D) Timsah

Canlıları Tanıyalım

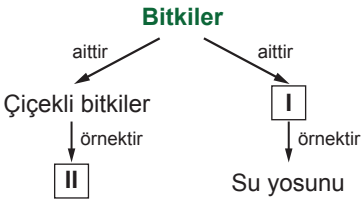
7.



Yukarıda verilen canlılar incelendiğinde hangi ortak özelliğe ulaşılabilir?

- A) Uçabilme B) Doğurarak çoğalma  
C) Besin üretme D) Omurgaya sahip olma

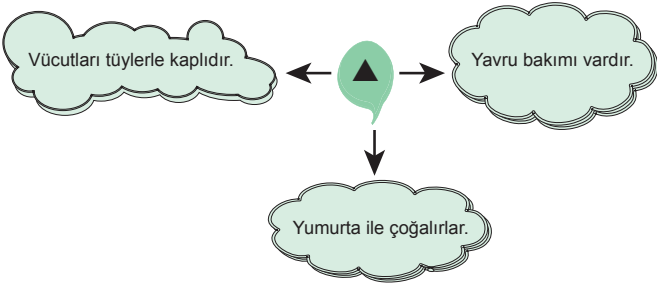
8.



Verilen şemada I ve II ile numaralandırılmış yerlere aşağıdakilerden hangisi yazılmalıdır?

- | I                    | II          |
|----------------------|-------------|
| A) Çiçeksiz bitkiler | Elma        |
| B) Çiçeksiz bitkiler | Eğrelti otu |
| C) Çiçekli bitkiler  | Kara yosunu |
| D) Yapraklı bitkiler | Gül         |

9.



Şekildeki ▲ ile gösterilen yere hangi omurgalı hayvan grubu yazılmalıdır?

- A) Kurbağalar B) Balıklar  
C) Sürüngenler D) Kuşlar

10. Oda sıcaklığında açıkta bırakılan yiyeceklerin çok kısa sürede tat ve kokularının değişerek bozulduğu gözlenmiştir.

Bu duruma sebep olan canlılar, hangi canlı sınıfına ait olabilir?

- A) Bitkiler  
B) Hayvanlar  
C) Mikroskopik canlılar  
D) Şapkalı mantarlar

11.

Özellikler Canlı	Besin üretebiliyor mu?	Doğurarak çoğalıyor mu?	Çiçeği var mı?
I	✓	×	×
II	×	✓	×

Verilen tabloya göre I ve II ile gösterilen canlılar hangileri olabilir?

- |    | I           | II      |
|----|-------------|---------|
| A) | Atkuyruğu   | Yarasa  |
| B) | Leylak      | Kurbağa |
| C) | Eğrelti otu | Baykuş  |
| D) | Menekşe     | Serçe   |

12.

	İfadeler	D / Y
I	Şapkalı mantarların bazıları yiyecek olarak kullanılabilir.	
II	Mantarlar ılık ve karanlık ortamları sever.	
III	Mantarların hepsi gözle görülebilir.	
IV	Maya mantarları çoğalırken gaz kabarcıkları çıkarır.	

Yukarıda verilen ifadelerin yanındaki kutucuklara doğru ise "D" yanlış ise "Y" olduğu belirtildiğinde yukarıdan aşağıya hangi sıralama elde edilir?

- A) 

D
Y
Y
D

 B) 

D
D
Y
D

 C) 

D
Y
D
Y

 D) 

D
Y
D
Y





### İnsanlar, Yerler ve Çevreler - 1

1. Fiziki haritalarda yükselti ve derinlik basamaklarını ifade etmek için farklı renkler kullanılır.

Mavi renk: Bir yerin deniz seviyesine göre derinliğini gösterir. Deniz seviyesinden aşağılara inildikçe mavi renk koyulaşır.

**Buna göre aşağıdakilerden hangisi mavi renk ile gösterilir?**

- A) Çukurova
- B) Marmara Denizi
- C) Ağrı Dağı
- D) Ihlara Vadisi

2. Aşağıdakilerden hangisi yeryüzü şekillerinin yapısını, dağılışını ve yükseltilerini gösteren haritalardır?

- A) Siyasi haritalar
- B) Fiziki haritalar
- C) Özel haritalar
- D) Beşerî ve Ekonomik haritalar

3. • Karalar üzerinde bulunan çukurlara suların birikmesiyle oluşan yer şeklidir.  
• Yeryüzünün, çevresine göre yüksek olan ve oldukça geniş bir alana yayılan bölümleridir.  
• Çevresine göre alçakta kalan geniş düzlüklerdir.

**Yukarıda verilen tanımlar ile aşağıdaki seçenekler eşleştirildiğinde hangi seçenek dışarıda kalır?**

- A) Ova
- B) Göl
- C) Vadi
- D) Dağ

4. Türkiye fiziki haritası incelendiğinde doğusunda kahverengi tonunun daha fazla kullanıldığı görülür.

**Bu durumun nedeni aşağıdakilerden hangisidir?**

- A) Ova ve yaylaların çok olması
- B) Yükseltinin fazla olması
- C) İklimin soğuk olması
- D) Nüfusun seyrek olması

5. Aşağıdakilerden hangisi insanların yoğun olarak yaşadığı yerler arasında gösterilemez?

- A) Ova
- B) Plato
- C) Nehir kıyıları
- D) Dağların dik yamaçları

6. • Yazlar sıcak ve kurak geçer.  
• Kış ayları ılık ve yağışlıdır.  
• Bitki örtüsü maki olarak adlandırılan çalılıklardır.

**Buna göre yukarıda özellikleri verilen iklim tipi aşağıdakilerden hangisidir?**

- A) Karasal İklim
- B) Karadeniz İklimi
- C) Bozkır İklimi
- D) Akdeniz İklimi

İnsanlar, Yerler ve Çevreler - 1

7. Bitki örtüsü genellikle ormandır. Bu nedenle özellikle kırsal kesimdeki evlerin yapı malzemesi ahşaptır.

**Buna göre ahşap yapıların aşağıdaki iklim türlerinden hangisinde daha yaygın olması beklenir?**

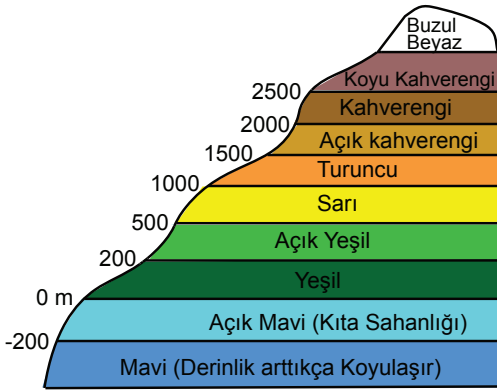
- A) Step İklimi  
B) Akdeniz İklimi  
C) Karadeniz İklimi  
D) Karasal İklim

8. Turunçgiller kış aylarında sıcaklığın çok düştüğü yerlerde yetişemez. Kışların ılık geçtiği yerlerde yetiştirilir.

**Bu durum üzerinde aşağıdakilerden hangisinin etkili olduğu söylenir?**

- A) İklimin  
B) Bitki örtüsünün  
C) Yer şekillerinin  
D) Yüz ölçümünün

9. Fiziki haritalarda yer şekillerini daha belirgin gösterebilmek için yükselti basamakları aşağıdaki renklerle ifade edilir.



**Buna göre aşağıdakilerden hangisi söylenemez?**

- A) Denizler mavi renk ile gösterilir.  
B) Yükselti arttıkça kahverenginin tonu koyulaşır.  
C) Ovaların tümü yeşil renkle gösterilir.  
D) Beyaz renkler kalıcı karları gösterir.

10. Olumsuz hava şartları aşağıda verilen ekonomik faaliyetlerden hangisi üzerinde en az etkilidir?



Tarım



Hayvancılık



Madencilik



Turizm

11. Aşağıdakilerden hangisi yerleşmeye elverişli yerlerden biri değildir?

- A) Verimli topraklar  
B) Turizmin geliştiği yerler  
C) İklimin ılıman olduğu yerler  
D) Yükseltinin fazla olduğu yerler

12. Türkiye'nin fiziki haritası incelendiğinde Konya Ovası ve Antalya Ovası farklı renkte gösterilmektedir.

**Bu durum iki ovanın hangi bakımdan farklı olmasıyla ilgilidir?**

- A) Yükselti değerleri  
B) Bitki örtüsü  
C) Yağış miktarı  
D) Enlem derecesi

