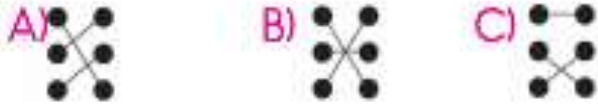


Adı Soyadı: .....

1.  • • Küp
-  • • Üçgen prizma
-  • • Koni

Yukarıdaki nesnelere, benzedikleri geometrik cisimlerle eşleştirildiğinde okların görünümü nasıl olur?



2. Kare prizma ile ilgili aşağıdaki bilgilerden hangisi yanlıştır?
- A) Tüm yüzleri karedir.
- B) 12 ayrıtı vardır.
- C) 8 köşesi vardır.

3. Aşağıdaki şekillerden hangisinin köşegeni yanlış çizilmiştir?



4. Aşağıdaki şekillerden hangisinin köşegeni çizilemez?




5.



Melek, noktalı kâğıttaki noktaları birleştirerek bir dikdörtgen çizmek istiyor.

Buna göre Melek'in kullanacağı doğru parçaları aşağıdakilerden hangisidir?



6.



Noktalı kâğıttaki hangi varlığın bulunduğu nokta yanlış adlandırılmıştır?

- A) Kelebek
- B) Balık
- C) Tavşan

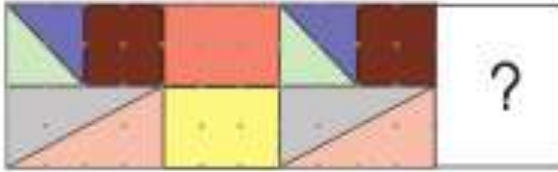
7.

1.  → Altıgen  
 2.  → Sekizgen  
 3.  → Beşgen

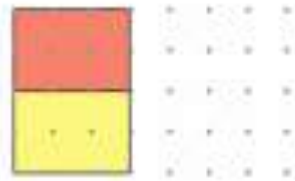
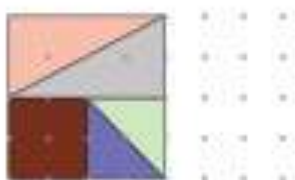
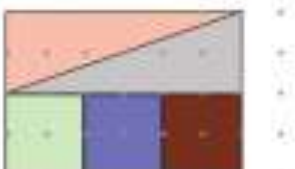
Numaralanmış geometrik şekillerden hangilerinin yeri değiştirilirse, şekiller adları ile doğru eşleştirilmiş olur?

- A) 1 ve 2  
 B) 1 ve 3  
 C) 2 ve 3

8.

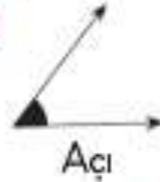




Noktalı kâğıtta verilen kaplama örüntüsü aşağıdakilerden hangisiyle devam ettirilmelidir?

- A)   
 B)   
 C) 

9.

Aşağıdaki modellerden hangisi doğru adlandırılmıştır?

- A)   
 B)   
 C) 

10.

Aşağıdakilerden hangisi bir ışın modelidir?

- A)   
 B)   
 C) 

11.

Aşağıdaki şekillerden hangisinin simetri doğrusu diğerlerinden fazladır?

- A)   
 B)   
 C) 

12.



Duru'nun sallandığı salıncaktaki ipler, aşağıdakilerden hangisine örnektir?

- A) Dikey doğru parçası  
 B) Eğik doğru parçası  
 C) Yatay doğru parçası