

Adı:
Soyadı:

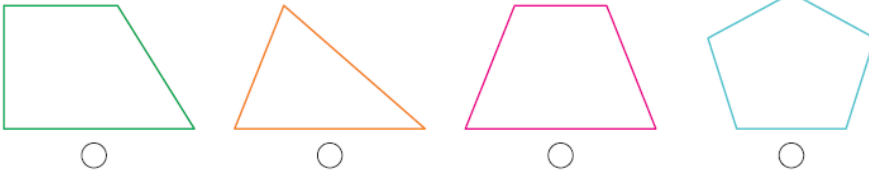
MATEMATİK ÇALIŞMA KAĞIDI



Tarih

Şekilleri Sınıflandırma

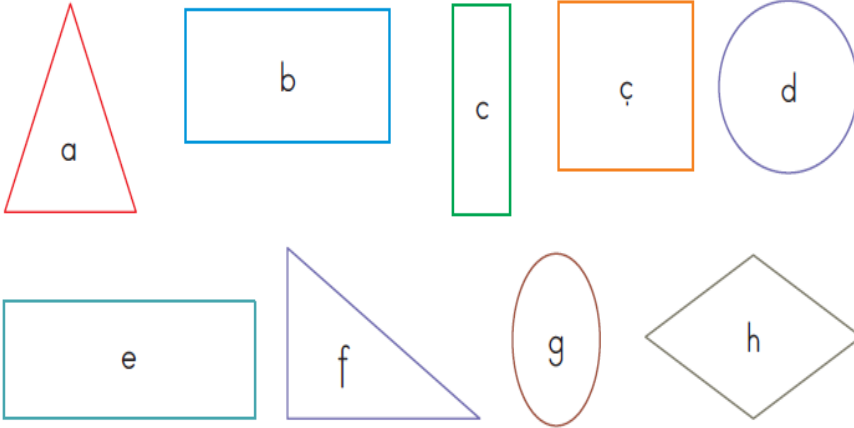
Aşağıdaki şekillerden hangisinin kenar sayısı en azdır? İşaretleyiniz.



Aşağıdaki şekillerden kenar ve köşesi olmayanı işaretleyiniz.

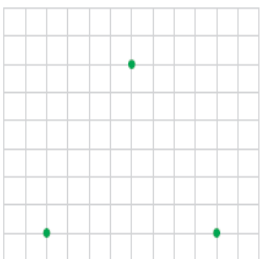


Aşağıdaki şekilleri kenar ve köşe sayılarına göre verilen tabloda sınıflandırınız.

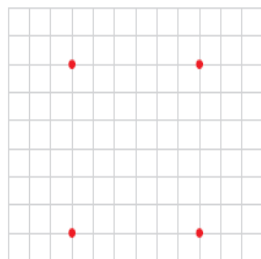


| Üç Köşeli Şekiller | Üç Kenarlı Şekiller | Dört Köşeli Şekiller | Dört Kenarlı Şekiller | Köşesiz Şekiller | Kenarsız Şekiller |
|--------------------|---------------------|----------------------|-----------------------|------------------|-------------------|
| | | | | | |

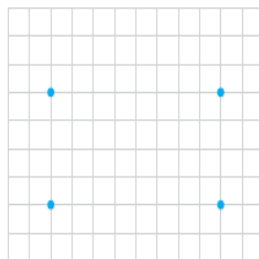
Kareli zeminlerdeki noktaları birleştirip oluşan şeklin kenar ve köşelerini gösteriniz. Köşe ve kenar sayılarını yazınız.



Kenar sayısı: ____



Kenar sayısı: ____



Kenar sayısı: ____

Şekillerin adını ve özelliklerini yazalım.


Şeklin Adı : **Kare**
Kenar Sayısı : **4**
Köşe Sayısı : **4**

Şeklin Adı :
Kenar Sayısı :
Köşe Sayısı :

Şeklin Adı :
Kenar Sayısı :
Köşe Sayısı :

Şeklin Adı :
Kenar Sayısı :
Köşe Sayısı :

Yandaki geometrik şekle göre aşağıdaki noktalı yerleri, uygun ifadelerle tamamlayalım.



- Top, verilen şeklin yer almaktadır.
- Bu geometrik şeklin adı dir.
- Yıldız, verilen şeklin yer almaktadır.
- Verilen şeklin kenarı, köşesi bulunmaktadır.

Aşağıdaki süslemede kullanılan geometrik şekillerin adlarını ve sayılarını yazalım.



.....
.....
.....

Enes SERT

Cümleleri doğru kelimeleri seçerek tamamlayınız.

..... the mask on the desk.

Paint

Draw

Put

..... the mask.

Close

Paint

Down

Ayşe, a mask.

draw

open

please

Görsellere göre Deniz'in arkadaşlarına söylediği cümleleri bulunuz.



Ecem, cut the paper.



Paint the mask.



Stick the mask.



Şule, draw a mask.

Görselleri ifade eden kelimeleri işaretleyiniz.



book



bag



crayon

books

bags

crayons

Aşağıdaki resme göre seçeneklerden hangisi söylenebilir?



- A) Good morning!
- B) Good afternoon!
- C) Good night!

Diyalogu tamamlayan seçeneği işaretleyiniz.



- A) How are you?
- B) Good evening!
- C) What's your name?

Aşağıdaki boşluğa seçeneklerden hangisi getirilemez?
..... the window.

- A) Open
- B) Shut
- C) Cut

Özür dilemek için aşağıdakilerden hangisini kullanırız?

- A) Thank you.
- B) I'm sorry.
- C) Hello!

Aşağıdaki işaretin anlamı hangi seçenekte verilmiştir?



- A) Turn right.
- B) Turn left.
- C) Open the door.

Adı:
Soyadı:

TÜRKÇE ÇALIŞMA KAĞIDI



Tarih

Oku ve Anla

Bir gün, padişahlar padişahı av için şehirden uzaklaşmış. Yolda giderken yaşı doksanı geçkin bir ihtiyara rastlamış. Bu ihtiyar, toprağa bir şeyler ekiyormuş. Bir süre ihtiyar izledikten sonra sormuş:

– Büyük ihtimalle diktığın ağaçların meyvesini yiye-meyeceksin, ne diye uğraşırın?

Yaşlı adam:

– Ey, Oğul! Bizden ewelkilerin diktığı ağaçların meyvelerini yedik, şimdi de bizim diktiklerimizin meyvesini bizden sonrakiler yesin diye uğraşırım, demiş.

Bu cevap padişahın çok hoşuna gitmiş ve çıkarıp bir kese altın vermiş. İhtiyar:

– Gördünüz mü? Diktığım fidanlar şimdiden meyve verdi, diyerek teşekkür etmiş.

Bu cevap da padişahın çok hoşuna gitmiş ve çıkarıp yaşlı adama bir kese altın daha vermiş.

Aksakallı ihtiyar:

– Gördünüz mü? Başkalarının diktığı fidanlar senede bir kez meyve verdiği halde benim diktiklerim iki defa meyve verdiler.

Padişah, ihtiyarın bu cevabına da hayran kalmış ve çıkardığı bir kese altını daha verdikten sonra yanındaki vezirine dönüp:

– Burada daha fazla durmayalım. Yoksa bu ihtiyar bizde para bırakmayacak, demiş.




Oku ve Anla

- HOCA'NIN YÜZÜĞÜ
- Hoca, bir gün bahçeye çıkmış. Kapının önünde sağa sola bakıp duruyormuş. Komşularından biri, Hocaya ne aradığını sormuş.
- Hoca:
 - Yüzüğümü kaybettim, onu arıyorum, demiş.
- Komşusu:
 - Yüzüğünü orada mı düşürdün?
 - Yok, burada düşürmedim. Bodrumda düşürdüm.
 - Hoca, bodrumda düşürülen yüzük kapının önünde aranır mı?
 - Ne yapayım? Bodrum çok karanlık.

Hoca, yüzüğünü neden kaybettiği yerde değil de bahçede arıyormuş?

- A) Bahçede insanların yardımcı olacağını düşündüğünden
- B) Kaybettiği yerin karanlık olmasından
- C) Yüzüğü nerede kaybettiğini bilmediğinden

Hangi öğrenci, metinde geçen zıt anlamlı sözcüklerin bir arada kullanıldığı cümleyi doğru bilmiştir?

- A)  Kapının önünde sağa sola bakıp duruyormuş.
- B)  Hoca, bir gün bahçeye çıkmış.
- C)  Ne yapayım? Bodrum çok karanlık.

ETKİNLİK-1

Aşağıdaki soruların, yukarıdaki metne göre cevaplayınız.

1. Yukarıdaki metne en uygun başlık ne olabilir?

- A) Ağaç Diken İhtiyar
- B) Altın Kesesi
- C) Altın Dağitan Padişah

2. Yukarıdaki öykünün kahramanları arasında aşağıdakilerden hangisi yoktur?

- A) Yaşlı adam
- B) Padişah
- C) Köylüler

3. Yaşlı adam, neden ağaç dikiyor?

- A) Ağaç dikmeyi sevdiği için
- B) Padişahın altın istemek için
- C) Kendinden sonrakilerin meyvesini yemesi için

4. Padişah, neden adama dumadan altın veriyor?

- A) Yardımda bulunmayı sevdiği için
- B) İhtiyarın sözleri hoşuna gittiği için
- C) Yaşlı adam altın istediği için

Düşünce bildiren cümlelerin başına ✓ işareti koyunuz.

- 1 Herkes kendi kapısının önünü temizlerse her yer temiz olur.
- 2 Başarılı kimselerin mutlaka bir hedefi vardır.
- 3 Dayımı evde görünce çok şaşırđım.
- 4 Hafta sonu olduđu zaman piknik yapmak istiyorum.
- 5 Yarın sınıfımıza yeni bir öğrenci gelecekmiş.
- 6 Ağaçlar doğanın en güzel süsüdür.

ETKİNLİK 2 Verilen kelimeleri uygun boşluklara yazalım.

vatanımızı

beyaz

hazır ol

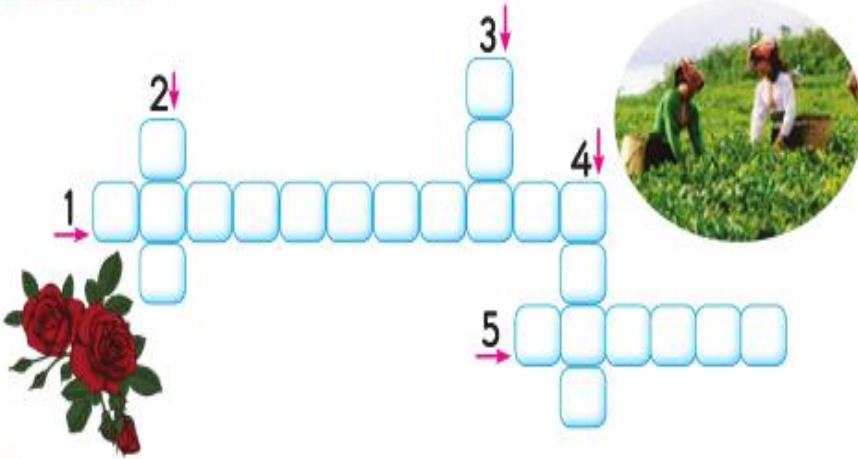
kırmızı

siyah

milletimizi

1. İstiklâl Marşımızı dinlerken pozisyonuna geçmeliyiz.
2. Bayrağımızdaki ay ve yıldız renklidir.
3. Bayrağımızdaki renk şehitlerimizin kanını temsil eder.
4. Bayrak, ve temsil eder.

ETKİNLİK 2 Bulmacayı çözelim.



1. Hayvanları yetiştirerek bakmak ve onları satarak para kazanmaya denir.
2. Rize'deki en önemli geçim kaynağı olan bitkidir.
3. Işparta'da yetiştirilen bir çiçektir.
4. Hayvancılığın en iyi kalitede yapıldığı ilimiz.
5. Topraktan, hayvanlardan, bitkilerden yeni şeyler yapmak.

Boş bırakılan yerleri verilenlerden uygun olanı ile tamamlayınız.

yüksek

takmalıyız

ilaç

güvenli

sol

- 15 Yolculuk sırasında emniyet kemeri
- 16 Okul bahçesi oyun alanlarından biridir.
- 17 Araç içerisinde sesle konuşmamalıyız.
- 18 Karşıdan karşıya geçerken önce tarafa bakmalıyız.
- 19 Hastalandığımızda doktora sormadan almamalıyız.

Aşağıdakilerden hangisi ülkemize özgü bir yemek türüdür?



Aşağıdakilerden hangisinin giysisi ülkemize özgü değildir?



Aşağıdakilerden hangisi ülkemizde özel günlerde yapılan yiyecektir?

- A. Aşure
- B. Menemen
- C. Kuru fasulye



Yukarıdaki model kürede ülkemizin konumu hangi sembole gösterilmiştir?

- A.
- B.
- C.

Aşağıdakilerden hangisi ülkemize komşudur?

- A. Fransa
- B. Almanya
- C. Gürcistan

Adı:
Soyadı:



Matematik Çalışma Kağıdı
Problemler



Tarih
...../...../2017

1) Yarım kg 5 lira olan muzun 3 kg 'mı kaç liradır? (Şekil çizerek yapabilirsiniz)



2)

$$\begin{array}{l} 3 \times \star = 9 \\ 7 \times \circ = 14 \\ 8 \times 2 = \square \end{array}$$

Yukarıda verilmeyen şekillerin toplamı kaçtır?

3) Ayaz 2 yıl önce 4 yaşındaydı. Gargamel'in yaşı Ayaz'ın yaşının 2 katından 5 eksiktir. İki arkadaşın yaşları toplamı kaçtır?



4) Bir sayının çeyreği 9 ise bu sayının 3 katının 3 fazlası kaçtır?

5) Tanesi 8 lira olan tişörtlerden 6 tane aldım. Satıcıya 50 lira verdim geriye para üstü kaç lira almış olurum?




6) 22 metre ipin önce yarısını kullandık. Sonra kalan ipin 4 metresini daha kullandık. Geriye kaç metre kumaş kaldı?



7) 20 sayfa kitabımın çeyreğini okudum, geriye okumam gereken kaç sayfa kitap kaldı?



8) Kilogramı 6 lira olan çaydan 4 kilo , kilogramı 7 lira olan fıstıktan 6 kilo alırsam ne kadar para ödemem gerekir?



9)

Yukardaki sürahi 5 bardakla doluyorsa 4 sürahi kaç bardak ile dolar?


10) Bir doğal sayının dörtte biri 3 ise bu sayının 3 katı kaçtır?

Adı:
Soyadı:

Matematik Çalışma Kağıdı
Problemler

Cevaplarımızı mutlaka yuvarlak
içine alıp belirtelim.

11)



Yukarıdaki görselin yarısının 8 katı kaçtır?

12) Her gün kumbarasına 2 lira atan Cemal , 2 hafta sonra kendisine 18 liralık oyuncak araba alıyor. Kumbarasında geriye kaç lira parası kalmıştır?

13) Sınıfımızın yarısı 20'dir. Sınıfımızda 19 kız öğrenci olduğuna göre erkek öğrenci sayısı kaçtır?

14) 16 çeyrek elma ile 6 yarım elma kaç bütün elma eder?



15)

$$\begin{array}{r|l} \square & 2 \\ - & 7 \\ \hline 0 & \end{array}$$

Yukarıdaki bölme işleminde bölünen kaçtır?

16) 48 lira paramın 32 lirasını harcadım. Kalanın çeyreğini kardeşime verdim. Geriye kaç lira param kalmıştır?

17) Bir çıkarma işleminde çıkan 19 fark çıkandan 5 fazla ise eksilen sayı kaçtır?

18) Aşağıdaki dönüşümleri tamamlayınız.

4 yarım.....çeyrek eder.

2 bütün.....çeyrek eder.

16 çeyrek.....bütün eder.

9 bütün.....yarım eder.

20 çeyrek.....yarım eder.

19) Sınıfımızda 15 sıra vardır. 6 sırada üçerli oturuyoruz. Geri kalan sırada ikişerli oturuyoruz. Sınıfımızın mevcudu kaçtır?

20)



Yukarıdaki görsellerden silgiden 4 tane , kaleminden 9 tane aldım. 60 lira para verdim geriye kaç lira para üstü almam gerekir?

Sorular **beşer** puandır. Dikkatli oku.
Sınavda başarılar dilerim. Sınav süresi **60** dakikadır.