

Adı:
Soyadı:



1/G Çalışma Kağıdı



Tarih
...../...../2019

Metni dört kere okuyalım. Soruları cevaplayalım. Metne başlık yazalım.

.....
Ormana gitmeyi çok severim. Orada çeşit çeşit ağaç var. Kestane, gürgen, çam, palamut, kavak...

Ağaçların yaprakları sanki el ele tutuşmuş, birbirleriyle oyun oynuyor. Ağaçların kocaman dallarından gökyüzünü görmekte zorlanıyorum. Ormanın tertemiz havasını içime çekiyorum.

1. Ormanda çeşit çeşit ne var?

2. Ormanda hangi ağaçlar var?

3. El ele tutuşanlar nelerdir?

Aşağıdaki taşıtların kaç heceden oluştuğunu örnekteki gibi yazalım.

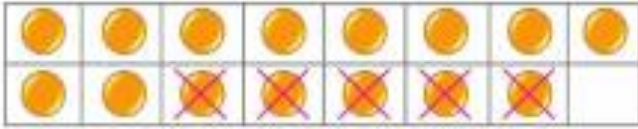
tır	→	1
otobüs	→
traktör	→
uçak	→
minibüs	→
tren	→
helikopter	→
bisiklet	→
motosiklet	→
gemi	→
vapur	→
sandal	→

ATA YAYINCILIK

Aşağıdaki çıkarma işlemlerini
örnekteki gibi yapalım.



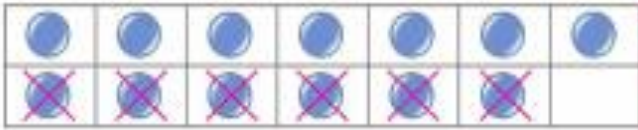
$$18 - 3 = 15$$



$$15 - \square = \square$$



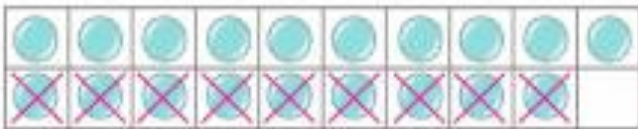
$$14 - \square = \square$$



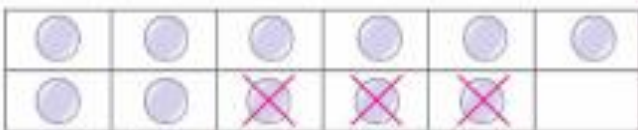
$$13 - \square = \square$$



$$18 - \square = \square$$



$$19 - \square = \square$$



$$11 - \square = \square$$

Sonucu çantanın üzerindeki
rakam olan işlemin bulunduğu
kutucuğu boyayalım.

$$12 - 7$$

$$16 - 8$$



$$9 - 2$$

$$9 - 3$$

$$17 - 9$$

$$14 - 8$$



$$15 - 8$$

$$13 - 5$$

$$9 - 1$$

$$13 - 6$$



$$12 - 7$$

$$14 - 8$$

$$16 - 5$$

$$12 - 5$$



$$14 - 5$$

$$18 - 6$$

$$9 - 4$$

$$11 - 3$$



$$14 - 7$$

$$12 - 6$$