

Adı:
Soyadı:



Fen Bilimleri
4/F Çalışma Kâğıdı



Tarih
...../...../2020

ÇOCUKLARIMA ÖĞÜTLER

Sürmeyin dik yokuşa, hayat arabanızı
Üzmeyin annenizi, dinleyin babanızı.
Hayatın zorlukları bilgilerle aşılr,
Bunu başarmak için şimiden çalışılır.

Sevmeyin, söylemeyin, yaldızlı yalanları,
Hiçbir yalan kirlilemez, erdemli olanları.
Tembellik, geleceği zehirden acı yapar,
Hayat çalışkanları başının tacı yapar.

C.Sıtkı GÜLER



(1, 2, 3 ve 4. soruları okuduğumuz metne göre yanıtlayalım.)

- Şiirin birinci mısrasında anlatılmak istenen düşünce hangi seçenekte belirtilmiştir?
A. Yaşamayı çok sevmek. B. Eğlenerek zaman geçirmek.
C. Hayatı zorlaştırmamak. D. Yolda dikkatli olmak.
- Şiire göre zorluklar ne ile aşılr?
A. gezmeye B. bilgiyle
C. tecrübeye D. deneyimle
- Şairin çocuklardan sevmemelerini istediği nedir?
A. hoşgörüsüzlük B. yaramazlık
C. oyun D. yaldızlı yalanlar
- Şiire göre geleceği zehir eden nedir?
A. hava kirliliği B. yapılaşma
C. yalan D. tembellik

Aşağıdaki görsellere uygun, ünlem cümleleri yazalım.



1

2

3

MİNİ TEST

Aşağıdakilerden hangisi matematik terimidir?

- A. ofsayt B. halter
C. üçgen D. plato

Aşağıdaki cümlelerden hangisinde "ağır, sözcüğü mecaz anlamda kullanılmıştır?

- A. Bu ağır kolye taşıyamam.
B. Üzerinde ağır bir koku vardır.
C. Filler çok ağır hayvanlardır.
D. Pazardan ağır bir karpuz aldım.

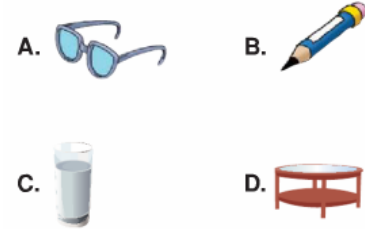
Aşağıdakilerden hangisi deyim değildir?

- A. gözleme yapmak
B. etekleri tutuşmak
C. ölçülü davranmak
D. burnunda tütme

Aşağıdakilerden hangisi basit sözcük değildir?

- A. deniz B. güneş
C. plaj D. yazlık

Aşağıdaki görsellerden hangisinin adı türemiştir?



Pazardan tuzluk, makas, suluk ve

1 2 3

kalemlik aldık.

4

Yukarıdaki cümlede kaç numaralı sözcük türemiş değildir?

- A. 1 B. 2
C. 3 D. 4

Aşağıdakilerden hangisi olumsuz cümledir?

- A. Yarın bize gelecek misin?
B. Öğretmen sınav sonuçlarını açıkladı.
C. Annem bu akşam kek yapacak.
D. Yaz bir türlü gelmek bilmedi.

Darası 100 gram olan süt, su ve yağın kütlelerini bulalım.



Sütün net kütlesi:

Yağın net kütlesi:

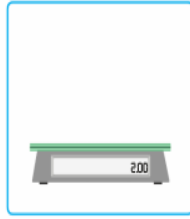
Suyun net kütlesi:

..... - =

..... - =

..... - =

Görseller ile isimlerini eşleştirelim.



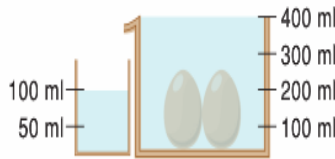
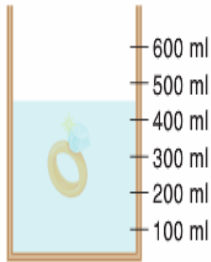
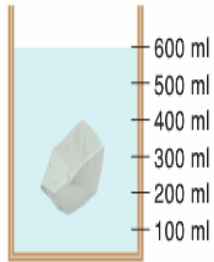
Yaylı kantar

Eşit kollu terazi

Dijital terazi

Baskül

Dereceli kaptaki ilk sıvı miktarı 400 ml olduğuna göre taşın, yüzüğün ve yumurtaların hacmi kaçtır?



Taşın hacmi:

Yüzüğün hacmi:

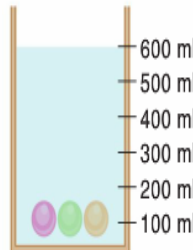
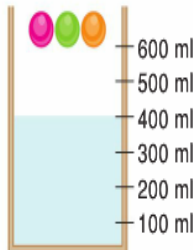
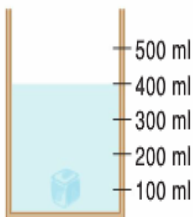
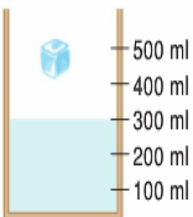
Yumurtaların hacmi:

..... - =

..... - =

..... - =

Verilen maddelerin hacimlerini bulup yazalım.



Buzun hacmi:

Bilyelerin hacmi:

..... - =

..... - =

1. Kütle hangisi ile ölçülmez?

- A. Eşit kollu terazi B. Baskül
C. Yaylı kantar D. Dereceli kap

2. • Maddenin sahip olduğu ölçülebilir değişmeyen madde miktarınaI....
• Maddenin kapladığı yereII....
•I.... veII.... olan tüm varlıklarIII....

Numaralandırılan boşluklar hangi seçenekte doğru eşleştirilmiştir?

- | I | II | III |
|----------|-------|-------|
| A. Madde | Kütle | Hacim |
| B. Kütle | Hacim | Madde |
| C. Hacim | Kütle | Madde |
| D. Madde | Hacim | Kütle |

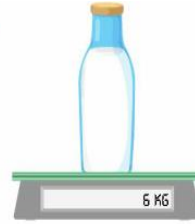
3. Hangisi hacim ölçüm birimidir?

- A. Kilogram B. Derece
C. Litre D. Metre

4. Hacime ait bilgilerden hangisi yanlıştır?

- A. Hacim dereceli kap ile ölçülür.
B. Sıvıların da hacmi ölçülür.
C. Katıların hacmi ölçülmez.
D. Hacim ölçü birimi litredir.

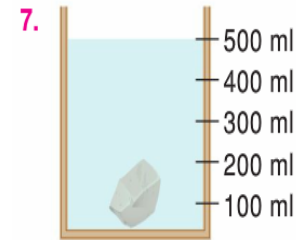
5. Süt dolu kabın darası 1 kg ise sütün kütlesi kaç kg'dır?



- A. 7 kg
B. 6 kg
C. 5 kg
D. 4 kg

6. Hangisi saf madde değildir?

- A. Altın B. Tuz
C. Şeker D. Çelik



Suyun, içine taş atılmadan önceki seviyesi 300 ml ise taşın hacmi kaç ml'dir?

- A. 500 ml B. 400 ml
C. 300 ml D. 200 ml

8. Hangisi katı maddelerin özelliği değildir?

- A. Bir şekilleri vardır.
B. Küçük tanelileri akışkandır.
C. Sıkıştırılabilirler.
D. Dışarıdan bir müdahale ile şekilleri değiştirilebilir.