

ADI SOYADI :

PUAN: Çok iyi İyi Geliştirilmeli

26 EKİM 2018 CUMA



ŞERMİN'İN ALFABESİ

– Alfabeni oku yavrum.
– İşte hemen başlıyorum: a, b, c, ç, d, e, f, g,
yumuşak g, h, ı, i, j, k, l, m, n, o, ö, p, r, s, ş, t, u, ü,
v, y, z.

– Hangi harfler ünlüdür?

– a, e, ı, i, o, ö, u, ü.

Kalanlar da ünsüzdür. Ünlüler kalın ve ince, düz,
geniş, dar ve yuvarlak; ünsüzleri sorarsan sert ve
yumuşak...

Çalıştım öğrendim hepsini, sor şimdi istediğini.

– hangi harfler bulunmaz sözcüklerin sonunda?

– b, c, d, g değil mi? Anne, artık bana izin.

– Peki yavrum, haydi oyna; koca bir aferin sana!

(İlk iki soruyu metne göre cevaplayalım.)

1. Hangi harf Türkçe sözcüklerin sonunda bulunmaz?

A) d B) k C) i

2. Alfabede kaç tane ünlü harf vardır?

A) 29 B) 21 C) 8

m e i l a s

3. Yukarıdaki harfleri kullanarak aşağıdakilerden hangisi yazılamaz?

A) Selami B) sinema C) Melisa

4. Aşağıda verilen harf sıralamalarından hangisinde yanlışlık yapılmamıştır?

A) ğ – h – ı – i – j – k
B) k – l – m – n – o – p
C) ş – t – u – v – y – z

5. Aşağıdaki deyimlerden hangisinde ünsüz harf sayısı daha fazladır?

A) Göz yummak
B) Gözden düşmek
C) Göze almak

I. Zor durumda olan insanların ihtiyacını gidermek.

II. Kitap toplama kampanyaları düzenlemek.

III. İhtiyacı olan insanlar için kermes organize etmek.

6. Yukarıdakilerden hangileri yardımlaşma ve dayanışma faaliyetleri içinde değerlendirilir?

A) Yalnız III B) I ve II C) I, II ve III

7. Aşağıdaki çocuklardan hangisi sosyal yardımlaşma ve dayanışmayla ilgili bir çalışmaya katılmıştır?

A) Muhtaç öğrenciler için okulda kitap toplama kampanyası başlattık.
B) Arkadaşlarımla sınıf bilgisayarında oyun oynadık.
C) Öğretmenime sınıf dolabını düzeltmeye yardım ettim.

I. Okulda ihtiyacı olanlara ihtiyaçlarını gidermek amacıyla bir kumbarada para toplamak

II. Okulun temiz tutulması ve kaynakların bilinçli kullanılması için kampanya yapmak

III. Okul takımını desteklemek için taraftarlık yapmak

8. Yukarıdakilerden hangisi sosyal yardımlaşma ve dayanışmaya örnek değildir?

A) I B) II C) III

Meral: Yardımlaşma faaliyetleri insanları sevindirir.

Elif: Yardımlaşma ve dayanışma önemli değildir.

Seren: Yardımlaşma yaparken dayanışma duygusuyla hareket edilmelidir.

9. Hangi öğrencinin ifadeleri yanlıştır?

A) Meral B) Elif C) Seren

10. Aşağıdaki çocuklardan hangisi okuldaki sosyal dayanışma ve yardımlaşmayla ilgili çalışmalara örnek vermemiştir?

A) Yaşlılara ve kimsesizlere okulda bakmak
B) Kardeş okul için kitap toplama kampanyası yapmak
C) Yardıma muhtaç kişiler için okulda kermes düzenlemek

$$25 + 35 = A$$

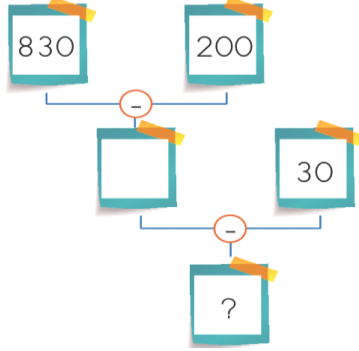
$$A - 50 = B$$

11. Yukarıdaki işlemlere göre "B" sayısı kaçtır?

- A) 10 B) 30 C) 60

12. Yandaki şemada verilen işlemler zihinden yapıldığında "?" yerine aşağıdakilerden hangisi yazılır?

- A) 60
B) 600
C) 630



13. Aşağıdaki çıkarma işlemlerinden hangisi yanlış yapılmıştır?

- A)
$$\begin{array}{r} 520 \\ - 146 \\ \hline 374 \end{array}$$
 B)
$$\begin{array}{r} 210 \\ - 77 \\ \hline 143 \end{array}$$
 C)
$$\begin{array}{r} 944 \\ - 166 \\ \hline 778 \end{array}$$

14. Aşağıda verilen çıkarma işlemlerinden hangisinin sonucu 362'dir?

- A)
$$\begin{array}{r} 610 \\ - 258 \\ \hline \end{array}$$
 B)
$$\begin{array}{r} 682 \\ - 310 \\ \hline \end{array}$$
 C)
$$\begin{array}{r} 648 \\ - 286 \\ \hline \end{array}$$

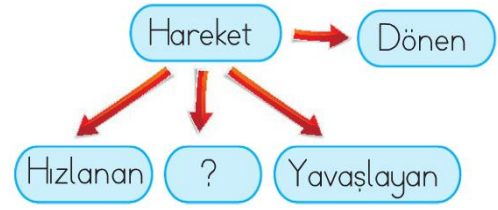
Ütü	347 Lira
Su ısıtıcısı	427 Lira
Tost makinesi	337 Lira

15. Erdem 576 lirasının 239 lirasını harcamıştır. Geriye kalan parası ile hangi ev eşyasını alabilir?

- A) Ütü B) Su ısıtıcısı C) Tost makinesi

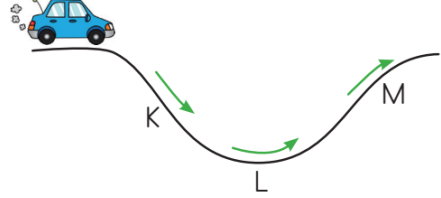
16. Verilen hareket örneklerinden hangisi bir yönüyle diğerlerinden farklıdır?

- A) Tekerleğin hareketi
B) Akrep ve yelkovanın hareketi
C) Salıncağın hareketi



17. Yukarıda verilen "?" ile belirtilen kutucuğa hareketin hangi özelliği yazılmalıdır?

- A) Sallanan B) İlerleyen C) Artan



18. Ok yönünde hareket eden araba hangi noktadan en yavaş geçer?

- A) K B) L C) M

19. Aşağıdakilerden hangisi yanlıştır?

- A) Hasta taşıyan ambulans hastaneye yetişmek için hızlanma hareketi yapar.
B) Yolcu indikten sonra hareket eden otobüs yavaşlama hareketi yapar.
C) Elektrik enerjisi üreten rüzgar türbini dönme hareketi yapar.



20. Görseldeki hareket türleri ile aşağıda verilenler eşleştirildiğinde hangisi dışarıda kalır?

- A) Hızlanma
B) Sallanma
C) Yavaşlama

☺ **KONTROL ETMEYİ UNUTMAYALIM** ☺

NOT: Her soru 5 puandır.