

Adı:  
Soyadı:



## SOSYAL BİLGİLER

### Tema Değerlendirme



Tarih  
...../...../2020

1) Dünya'yı iki eşit parçaya bölen Ekvator'a paralel olarak çizilen dairelere paralel denir.

Aşağıdakilerden hangisi, paralellere ait bir özellik **değildir**?

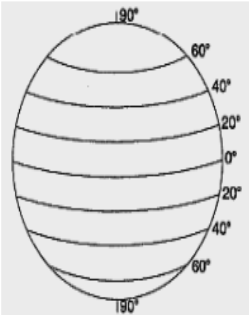
- A) 180 tane paralel vardır.
- B) En büyük paralel ekvatordur.
- C) Paralellerin uzunlukları aynıdır.
- D) Paraleller arası uzaklık 111 km'dir.

2) Dünyada ..... kıta, ..... okyanus vardır. En büyük kıta ....., en büyük olan okyanus ise .....dır. Yukarıda boşlukları karşılayan en uygun seçenek hangisidir?

- A) 7 – 3 – Avrupa - Büyük okyanus
- B) 3 – 7 – Afrika - Atlas okyanusu
- C) 7 – 3 – Asya - Büyük okyanus
- D) 7 – 3 – Asya - Hint okyanusu

3) Aşağıdakilerden hangisi Türkiye'nin Matematik konumunu belirtir?

- A) 36-42 Batı meridyenleri, 26-45 Kuzey paralelleri
- B) 36-42 Doğu meridyenleri, 26-45 kuzey paralelleri
- C) 26-45 Doğu meridyenleri, 36-42 kuzey paralelleri
- D) 26-45 Doğu Meridyenleri, 36-42 Güney Paralelleri



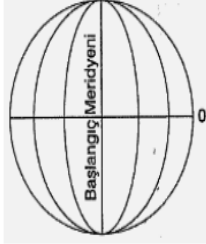
Yandaki şekilde, Dünya üzerindeki paraleller gösterilmiştir.

4) Aşağıdakilerden hangisi paralellerin özelliklerinden **değildir**?

- A) 90 tane kuzey yarım kürede vardır.
- B) Ekvator, başlangıç paralelidir.
- C) İki paralele arası uzaklık 111 km dir.
- D) Paralellerin boyları birbirine eşittir

5) Dünya üzerindeki bir yerin yer altı zenginliklerine, önemli ticaret yollarına, denizlere, okyanuslara ve boğazlara göre yerinin belirlenmesine " özel konum" denir. Aşağıdakilerden hangisi Türkiye'nin özel konumuyla ilgisi yoktur?

- A- Türkiye Asya ve Avrupa kıtaları arasında bir köprüdür.
- B- Türkiye önemli boğazlara sahiptir.
- C- Türkiye bir yarımadadır.
- D- Türkiye'nin en doğusu ile batısı arasında 19 meridyen farkı vardır.



6) Yandaki şekilde, Dünya üzerindeki meridyenler gösterilmiştir.

6) Meridyenlerin aşağıda verilen özelliklerinden hangisi, Dünya'nın yuvarlak olmasının bir sonucudur?

- A) 360 tane meridyen vardır.
- B) Meridyenler arasında zaman farkı vardır.
- C) Başlangıç meridyeninin derecesi sıfırdır.
- D) Meridyenler arasındaki uzaklık Ekvator'dan kutuplara doğru azalır.



7) Yukarıdaki Dünya haritasında, hangi kıta ve okyanusun yeri yanlış gösterilmiştir?

Kıta	Okyanus
A) Güney Amerika	Hint Okyanusu
B) Afrika	Atlas Okyanusu
C) Okyanusya	Büyük Okyanus
D) Kuzey Amerika	Afrika

8) Aşağıdakilerden hangisi **yanlıştır**?

- A) Sıcaklıklar ekvator'dan kutuplara gidildikçe düşer.
- B) Her meridyen arası 4 dakikadır.
- C) Başlangıç meridyeni ekvator'dur.
- D) Meridyenlerin boyları her yerde aynıdır.

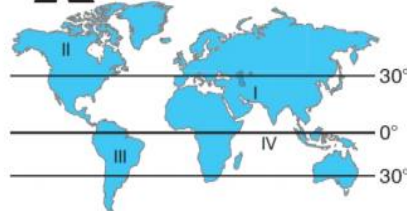
9) Haritalarda ölçek bize neyi gösterir?

- A) Gerçek büyüklüğün kaç defa küçültüldüğünü
- B) Bir yerin iklimini
- C) bir yerin matematik konumunu
- D) bir yerin özel konumunu

10)

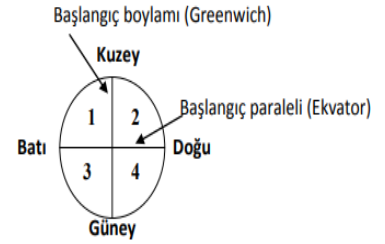


Merhaba ben Hasan, yaşadığım yer Ekvator'un 18° kuzeyinde, başlangıç meridyeninin 15° doğusundadır. Yaşadığım yer haritada kaç numaralı bölgede yer alır?



- A) I
- B) II
- C) III
- D) IV

11) Türkiye 36-42 kuzey paraleli ve 26-45 doğu meridyenleri arasında olduğuna göre ülkemiz aşağıda numaralandırılarak gösterilen hangi yerde bulunur?



- A)1
- B)2
- C)3
- D)4

12) Aşağıdakilerden hangisi, meridyenlerin özelliklerinden biri **değildir**?

- A) 180 adet doğu meridyen yayı vardır.
- B) Meridyenlerin boyları birbirine eşittir.
- C) İki meridyen arasındaki uzaklık her yerde 111 km'dir.
- D) Başlangıç meridyeni İngiltere'nin Greenwich gözlem evinden geçer

13) Bir ülkenin Dünya üzerindeki yerini **en kesin** biçimi ile aşağıdakilerden hangisi belirler?

- A) Hangi kıtada bulunduğu
- B) Hangi paralel ve meridyende olduğu
- C) Denizlere ve boğazlara göre durumu
- D) Hangi yarım kürede yer aldığı

\*\*\*\*\*

15) Aşağıda verilen bilgileri hangisi **yanlıştır**?

- A) Dünyanın üzerinde 7 kıta vardır.
- B) Türkiye güney yarım kürede bulunur.
- C) Başlangıç meridyeni İngiltere'deki Greenwich gözlemevinde geçen meridyendir.
- D) Türkiye Orta Kuşak'ta yer almaktadır.

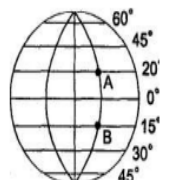
\*\*\*\*\*

16) Sosyal Bilgiler dersinde Ece, öğretmenin sınıfa anlattığı konuda hayır diyerek dersi iyi dinlediğini göstermiş, bir öğretmeninden aferin almıştır. Bu konuda hayır diyerek doğru cevap vermiş olan Ece Öğretmenin aşağıdaki hangi cümlesinden sonra hayır demiş olabilir?

- A) Meridyen yayları arasındaki en fazla mesafe ekvatora yakın yerlerdedir.
- B) Paralel dairelerinin boyları ekvator'dan kutuplara doğru kısılır.
- C) Dünyamızın ekvator'dan basık kutuplardan şişkince olan şekline "Geoid" diyoruz.
- D) İki meridyen arasında toplam 4 dakikalık bir zaman farkı vardır

17) Yandaki şekle göre A noktasından hareket eden bir uçak B noktasına varıyor. Bu uçak toplam kaç km yol almıştır?

- A) 555
- B) 1665
- C) 2220
- D) 3885



**Soru-1:** Ekvatora yatay olarak birer derecelik açılarla çizilen doğudan batıya uzanan hayali çizgilere ..... denir.

Yukarıdaki boşluğa aşağıdaki hangi kavram gelmelidir?

- A) meridyen  
B) kutup noktaları  
C) paralel  
D) dönence

**Soru-2:** Bir kutup noktasından başlayarak diğer kutup noktasında sona eren, ekvatoru dik kesen yaylara..... denir.

Yukarıdaki boşluğa aşağıdaki hangi kavram gelmelidir?

- A) kutup daireleri  
B) meridyen  
C) dönence  
D) paralel

**Soru-3:** Bir yerin çevresine göre önemli ve stratejik noktadaki durumuna özel konum denir.

Yukarıdaki açıklamaya göre aşağıdakilerden hangisi özel konuma girmez?

- A) Paralel ve meridyenlere göre konumu  
B) Komşu ülkelere göre konumu  
C) Kıtalarla göre konumu  
D) Deniz ve okyanuslara göre konumu

**Soru-4:** Aşağıdakilerden hangisi Türkiye'nin matematik (coğrafi) konumunun sonuçlarından biri değildir?

- A) 36- 42 Kuzey Paralelleri (KP); 26- 45 Doğu Meridyenleri (DM) arasında yer alması  
B) Ekvator'un kuzeyinde ve kuzey yarım kürede yer alması  
C) Başlangıç meridyeninin doğusunda yer alması  
D) Asya ile Avrupa kıtaları arasında köprü konumunda yer alması

**Soru-5:** Aşağıdakilerden hangisi Türkiye'nin özel konumunun sonuçlarından biri değildir?

- A) Üç tarafının denizlerle çevrili olması  
B) Asya ile Avrupa kıtaları arasında köprü konumunda olması  
C) İstanbul ve Çanakkale boğazlarına sahip olması  
D) Ekvator'un kuzeyinde, kuzey yarım kürede yer alması

**Soru-6:** Etrafı deniz ve okyanuslarla çevrili büyük kara parçalarına kıta denir.

Yukarıdaki bilgiye göre dünyadaki en büyük ve en küçük kıtası sırasıyla hangi seçenekte doğru olarak verilmiştir?

- A) Avustralya (Okyanusya) - Asya  
B) Asya - Avrupa  
C) Asya - Avustralya (Okyanusya)  
D) Avustralya (Okyanusya) - Afrika

**Soru-7:**

--- Çevresine göre yüksekte kalan, tabandan zirveye doğru yamaçları eğimli yeryüzü şekillerine .....denir.

--- Yeryüzünde belirli bir eğim boyunca sürekli veya zaman zaman akan sulara ..... denir.

--- Denizin, karanın içine doğru sokulduğu büyük girintilere ..... denir.

Yukarıda verilen tanımlarda aşağıdaki hangi kavramın tanımı yoktur?

- A) yarımada  
B) dağ  
C) akarsu  
D) körfez

**Soru-8:** Çevresine göre alçakta olan geniş düzlüklere..... denir.

Yukarıdaki tanım aşağıdaki hangi kavramın tanımıdır?

- A) dağ  
B) vadi  
C) boğaz  
D) ova

**Soru-9:** Ülkemizde batıdan doğuya gidildikçe yükseklik (yüksekti) artar. Ortalama yüksekti 1132 metredir.

Yukarıdaki açıklamaya göre yükseltisi en az ve en fazla bölgelerimiz sırasıyla hangisinde doğru olarak verilmiştir?

- A) Doğu Anadolu - Marmara  
B) Marmara - Doğu Anadolu  
C) Marmara - Güneydoğu Anadolu  
D) Güneydoğu Anadolu - Marmara

**Soru-10:** İklim insan faaliyetlerinde bazı etki ve değişikliklere sebep olur.

Yukarıdaki açıklamaya göre iklim aşağıdakilerden hangisine etki etmez?

- A) Konut (ev) Tipi  
B) Ulaşım  
C) Yeraltı Kaynakları  
D) Turizm

**Soru-11:**

--- Yazlar serin, kışlar ılıktır.

--- En fazla yağış sonbaharda görülür.

--- Dört mevsim yağışlıdır.

--- Bitki örtüsü ormandır.

Yukarıdaki açıklamalar ülkemizde görülen aşağıdaki hangi iklime aittir?

- A) Akdeniz İklimi  
B) Karadeniz İklimi  
C) Marmara (Geçiş) İklimi  
D) Karasal İklim

**Soru-12:**

--- Yazları sıcak ve kurak, kışlar ılık ve yağışlı geçer.

--- Kışın don olayı görülmez.

--- Seracılık yaygın yapılır.

--- Bitki örtüsü makidir.

Yukarıdaki açıklamalar ülkemizde görülen aşağıdaki hangi iklime aittir?

- A) Akdeniz İklimi  
B) Karadeniz İklimi  
C) Marmara (Geçiş) İklimi  
D) Karasal İklim

**Soru-14:** İnsanların yeryüzünde yaptıkları değişimleri inceleyen bilime, beşeri coğrafya denir.

Yukarıdaki açıklamaya göre aşağıdakilerden hangisi beşeri coğrafya alanına girmez?

- A) Sanayi  
B) Ticaret  
C) İklim  
D) Turizm

**İlk Türk İslam devleti olan Karahanlıların,**

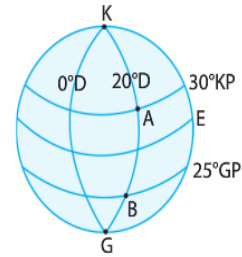
- I. resmî dil olarak Türkçe'yi kullanmaları,
- II. yöneticilerinin "han" ve "yabgu" gibi unvanlar almaları,
- III. medreseler inşa etmeleri

özelliklerinden hangisi ya da hangileri Türklük özelliklerini kaybetmediklerine kanıt olarak gösterilebilir?

- A) Yalnız I  
B) I ve II  
C) II ve III  
D) I, II ve III

**Aşağıdakilerden hangisi 1243 Köseadağ Savaşı sonucunda kurulan beyliklerden biri değildir?**

- A) Danişmentliler  
B) Germiyanogulları  
C) Candaroğulları  
D) Karamanoğulları



Yukarıdaki şekilde 20° Doğu Boylamı üzerinde yer alan A ve B noktalarının bazı özellikleri verilmiştir.

**Bunlar,**

- I. Aynı meridyen üzerinde yer alır.
- II. Ekvator'a uzaklıkları aynıdır.
- III. Yeryüzü şekilleri benzerlik gösterir.

**A ve B noktalarına ait özelliklerinden hangileri aynı boylam üzerinde yer almaları sonucu ortaya çıkmıştır?**

- A) Yalnız I  
B) Yalnız II  
C) I ve III  
D) II ve III