

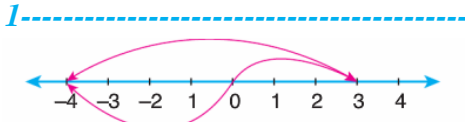
Adı:
Soyadı:



Matematik --- Türkçe Değerlendirme



Tarih
...../...../2019



Yukarıda verilen sayı doğrusunun üzerinden modellenen işlem aşağıdakilerden hangisidir?

- A) $(+3) - (-4)$ B) $(+3) + (-4)$
C) $(+3) - (+7)$ D) $(+3) - (-7)$

2-----

$(+13) + (-9) = \blacktriangle$
 $(-8) + (-2) = \blacksquare$

Yukarıda verilen işlemlere göre $\blacktriangle + \blacksquare$ işleminin sonucu kaçtır?

- A) -10 B) -6 C) +2 D) +6

3-----

Erdem'in bilgisayarda yazdığı programın komutları aşağıdaki gibidir. Sayı girişi yapıldıktan sonra sırasıyla verilen işlemler gerçekleştiriliyor.

- Girilen sayıyı 3 ile topla
- Elde edilen sayıdan 4 çıkar.
- Çıkan sayıyı kendisi ile topla.

Buna göre, programa girilen sayı (-18) olduğuna göre 3. komut sonunda elde edilen sayı kaçtır?

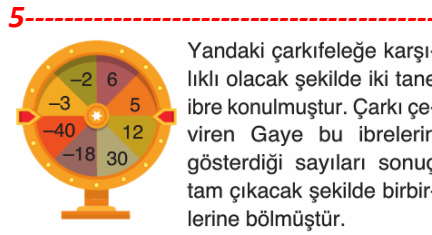
- A) -19 B) -24 C) -38 D) -42

4-----

+32	-15	+5
0	+72	-3
+45	+80	+4
A		B

A kutusunda verilen sayılar, B kutusundaki sayılara bölüldüğünde aşağıdaki sayılardan hangisi elde edilemez?

- A) +9 B) -24 C) +5 D) +3



Yandaki çarkifeleğe karşılıklı olacak şekilde iki tane ibre konulmuştur. Çarkı çeviren Gaye bu ibrelerin gösterdiği sayıları sonuç tam çıkacak şekilde birbirlerine bölmüştür.

Buna göre aşağıdakilerden hangisi Gaye'nin sonuçlarından biri değildir?

- A) -15 B) -8 C) -3 D) -1

6-----

K marketi, hafta içi olan günlerde 180 lira kâr, hafta sonu olan günlerde 60 lira zarar ederken, M marketi hafta içi olan günlerde 30 lira zarar, hafta sonu olan günlerde ise 300 lira kâr ediyor.

Buna göre K ve M marketlerinin bir haftalık kâr - zarar durumları arasındaki fark kaç liradır?

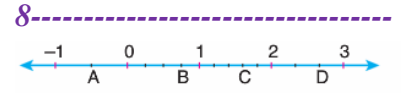
- A) 330 B) 400 C) 450 D) 510



Yukarıdaki sayı doğrusunda -1 ile 3 arası 8 eş parçaya ayrılmıştır.

Buna göre A, B ve C noktalarına karşılık gelen sayılar hangi seçenekte doğru verilmiştir?

	A	B	C
A)	$\frac{1}{2}$	$\frac{1}{2}$	$1\frac{1}{3}$
B)	$\frac{1}{2}$	$\frac{1}{2}$	$2\frac{2}{3}$
C)	$\frac{1}{2}$	$\frac{1}{2}$	$2\frac{1}{2}$
D)	$\frac{1}{2}$	$\frac{1}{3}$	$2\frac{1}{3}$



Yukarıdaki sayı doğrusundaki -1 ile 0 arası 2 eş parçaya, 0 ile 1 arası 4 eş parçaya, 1 ile 2 arası 5 eş parçaya ve 2 ile 3 arası 3 eş parçaya ayrılmıştır.

$A = -\frac{1}{2}$	$B = \frac{3}{4}$
$C = 1\frac{3}{5}$	$D = 2\frac{2}{3}$

Buna göre eşitliklerden kaç tanesi doğrudur?

- A) 4 B) 3 C) 2 D) 1

9-----

$-\frac{2}{3}$, $-\frac{4}{5}$, $-\frac{7}{15}$ rasyonel sayılarının doğru

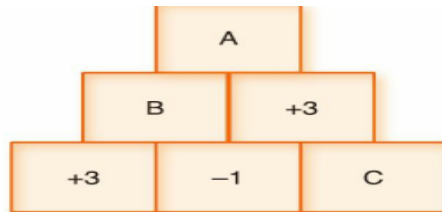
sıralanışı aşağıdakilerden hangisidir?

- A) $-\frac{4}{5} < -\frac{2}{3} < -\frac{7}{15}$ B) $-\frac{2}{3} < -\frac{4}{5} < -\frac{7}{15}$
C) $-\frac{2}{3} < -\frac{7}{15} < -\frac{4}{5}$ D) $-\frac{4}{5} < -\frac{7}{15} < -\frac{2}{3}$

- 10-----
- $-3\frac{1}{3}$ 'ün toplamaya göre tersi $\frac{8}{3}$ tür.
 - $-2\frac{2}{3}$ 'ün toplamaya göre tersi $-\frac{3}{8}$ dir.
 - $2\frac{1}{5}$ 'in toplamaya göre tersi $-\frac{\square}{5}$ ise $\square = 11$ 'dir.

Yukarıdaki ifadelerden hangisi ya da hangileri doğrudur?

- A) Yalnız II B) Yalnız III
C) II ve III D) I ve II



Yukarıdaki şekilde çarpma işlemi uygulanarak şeklin altından yukarı doğru ilerlenip A, B ve C değerleri bulunmaktadır.

Buna göre $(A + C) : B + C$ işleminin sonucu kaçtır?

- A) 0 B) 1 C) 2 D) 3

1-----

"Kedi, sobanın başında mışıl mışıl uyuyor." cümlesinde "uyumak" eylemi durum bildir-mektedir.

Aşağıdaki cümlelerden hangisinde aynı anlam özelliğine sahip bir fiil kullanılmış-tır?

- A) Ben de masaya oturdum ve yemeklerin kokusunu duya duya beklemeye başladım.
- B) Orman yangınlarını durdurabilmek adına bir dizi kararlar aldık.
- C) Sonbaharın hüznü ve asaletiyle yapraklar, büyük bir ağırbaşlılık içinde sararıyor.
- D) Olayı en küçük ayrıntısını bile atlamadan ve kendimden bir şey katmadan anlattım.

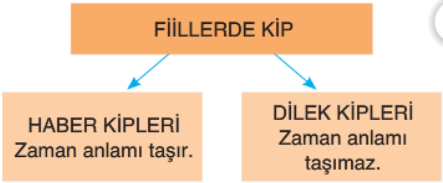
2-----

(I) Filler nasıl eğitiliyor biliyor musunuz? (II) Daha yavruyken kalın bir zincirle hayvanın bacağı bir direğe bağlanıyor. (III) Önceleri hayvan kaçma-ya çalışıyor ama ne kadar uğraşırsa uğraşsın ne zinciri koparabiliyor ne de direği yerinden oynatabiliyor. (IV) Fil yavrusu ayağında zincirle büyüyor ve kaçamayacağını kabulleniyor.

Bu metindeki numaralanmış cümlelerde yer alan fiillerle ilgili aşağıdakilerden han-gisi söylenebilir?

- A) I numaralı cümlede kılış fiili kullanılmıştır.
- B) II numaralı cümlede oluş fiili kullanılmıştır.
- C) III numaralı cümlede kılış, durum ve oluş fiilleri bir arada kullanılmıştır.
- D) IV numaralı cümlede kılış ve durum fiili kul-lanılmıştır.

3-----



Bu şemaya göre aşağıdaki dizelerin han-gisinde hem haber kiplerine hem de dilek kiplerine yer verilmiştir?

- A) Deniz görünmeli çıksam balkona
Tamamlamalı manzarayı
- B) Uzun uzun bakıyorum kıvrılan sokaklara
Tek yaprak bile kıvıldamıyor nedense
- C) Desem ki vakitlerden bir nisan akşamıdır
Rüzgârların en ferahlatıcısı senden esiyor
- D) Biz mi yalnızdık, durmadan yağmur yağardı
Üşür müydük nar çiçekleri ürperirken

4-----

Aşağıdaki cümlelerin hangisinde yapı-lmakta olan bir iş bildirilmektedir?

- A) Korkarım bu çocuğun davranışları düzel-meyecek.
- B) Nihayet bahar geldi de soğuk havalardan kurtulduk.
- C) Seni kırdığımı hiç düşünemedim, özür dile-rim.
- D) Çektiği fotoğrafları montajlayarak sunum hazırlıyor.

5-----

"Eline geçen bu fırsatı da kaçırmış." cümlesin-deki "kaçırmış" fiili anlam özelliğine göre..... fiildir. Çünkü.....

Numaralanmış cümlelerde boş bırakılan yerlere aşağıdaki ifadelerden hangisi yazı-lırsa cümle doğru tamamlanmış olur?

- A) kılış-eylemin yaptığı işten etkilenen bir nesne vardır
- B) oluş-eylem kendi kendine gerçekleşmiştir
- C) durum-eylemin durumu belirtilmiştir
- D) kılış-eylemden etkilenen bir nesne yoktur

6-----

Aşağıdaki dizelerin hangisinde haber ve dilek kipleri bir arada verilmiştir?

- A) Sen beni sever misin
Yeniden çocuk olsam
- B) Çiçekler geldi aklıma her nedense
Gelincikler, kaktüsler, fulyalar
- C) Karanlıkta bulutlar parçalanıyor
Sokak lambaları birden yanıyor
- D) Hayır, başka türlü olmayacak
Ben sana mecburum bilemezsin

7-----



Yukarıdaki kutucuklarda verilen fiillerin doğru gruplandırılabilmesi için hangi fil-lerin birbiriyle yer değiştirmesi gerekir?

- A) Çürümek- Okumak
- B) Aramak- Yazmak
- C) Uzamak- Saymak
- D) Dinlenmek- Okumak

8-----

Bir sözcüğün kendi asıl anlamından uzakla-şarak kazandığı yeni anlamlara mecaz anlam denir.

Buna göre aşağıdaki cümlelerden han-gisinde "ışık" sözcüğü mecaz anlamda kullanılmıştır?

- A) Kitap okuyabilmek için ışığı kitaba doğru tuttu.
- B) Bu ışık, ortamı aydınlatmıyor; aksine loş bir hava katıyordu.
- C) Çocuğun gözlerindeki ışık, onun ileride büyük işler başaracağını gösteriyor.
- D) Duyduğu sestten korkunca sesin nereden geldiğini anlamak için ışığı açtı.

9-----

Aşağıdaki cümlelerden hangisinde altı çizili sözcüğün anlam özelliği yanlış ve-rilmiştir?

- A) Kalp yetmezliği, artık çok küçük yaşlarda da karışımıza çıkıyor.(Terim anlam)
- B) Çerçevenin kırılan kenarını tutkalla tuttur-muş, masanın kenarına saklamış. (Mecaz anlam)
- C) Her düşünce, her söz aslında kişinin karak-terinin bir belgesidir. (Gerçek anlam)
- D) Yaşlı adam, tüm parasını bu kasanın içinde saklıyormuş.(Gerçek anlam)

10-----

	CÜMLE	ANLAM
I	Çocuğun soluk dudakları ne kadar korkmuş olduğunu gösteriyordu.	Rengi atmış olan, solmuş, uçuk
II	Bu genç yazarlar, yazdik-ları öykülerle edebiyatı-mıza yeni bir soluk getir-mişlerdir.	Tarz
III	Çok sinirlendiğinde solu-ğunu tutar, karşındakini korkutuncaya dek öyle kalırdı.	Akciğerlere çekilen, akci-ğerlerden atılan hava
IV	Her solukta şükreden o babacan ve mütevazı adamı çok özliyorum.	Parlaklığını, gücünü yitirmiş

Buna göre kaç numaralı satırda yer alan cümle ile anlam birbiriyle uyuşmamakta-dır?

- A) I. B) II. C) III. D) IV.

11-----

- I. Bir hatıradır şimdi dalgın uyuyan şehir
Solarken albümlerde çocuklar ve askerler
- II. Yüzün bir kır çiçeği gibi usulca söner
Uyku ve unutkanlık gittikçe derinleşir

Numaralanmış dizelerde hangi söz sanat-ları kullanılmıştır?

	I	II
A)	Kişileştirme	Benzetme
B)	Abartma	Konuşturma
C)	Zıtlık	Abartma
D)	Benzetme	Abartma

12-----

- Can atmak
- Kulak misafiri olmak
- Başına karalar bağlamak
- Hümmette kusur etmemek

Aşağıdakilerden hangisi bu deyimlerden herhangi birinin açıklaması değildir?

- A) Yanında konuşulanları konuşmaya katıl-madan dinlemek
- B) Şiddetle arzu etmek, çok istemek
- C) Çok kederlenmek
- D) Küçük kusurları görmezden gelmek

13-----

Aşağıdakilerden hangisinde deyim, an-la-mına uygun kullanılmamıştır?

- A) Kenan çok iyi sır tutan, ağzında bakla ıslan-mayan bir çocuğu.
- B) Bu hataları yüzünden çevresindekilerin gözünden de düştü.
- C) Öğlum burnumda tutuyor, onu bir an önce görmek istiyorum.
- D) Kaşla göz arasında ne zaman geldin ve ne zaman kaybettin paranı?