

Adı:  
Soyadı:



Neler Öğrendik  
DENEME



Tarih  
...../...../2018

1)-----

Sandra is very laid-back. She - - - - .

- A) always works
- B) never comes along
- C) rarely helps you
- D) is never worried about anything

2)-----

A true friend - - - - .

- A) shouldn't support you
- B) never helps you when you need
- C) doesn't like spending time with you
- D) trusts you

3)-----

Ally: - - - - ?


Kim: Yes, I am. I must help my mum.

Ally: That's too bad. Another time, maybe.

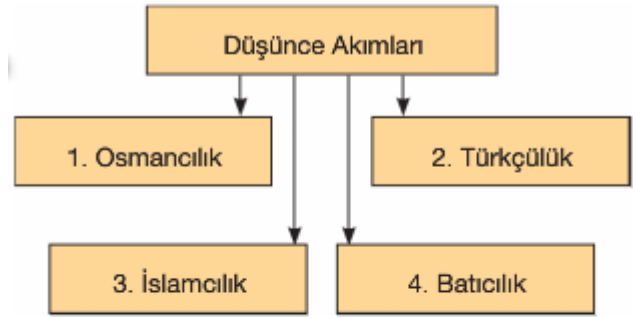
- A) Are you going to be busy all day
- B) What are you doing today
- C) Do you have any plans after school
- D) Why don't you come along

4)-----

'Today is Mary's birthday and she is having a party.' ifadesini anlatan görsel hangisidir?



5)-----



Yukarıdaki şekilde Osmanlı Devleti'nin birlik ve bütünlüğünü sağlamak için ortaya atılan düşünce akımları verilmiştir.

Şekilde verilen düşünce akımlarından kaç numara ile gösterileni Osmanlı ülkesinde yaşayan tüm milletleri Osmanlı yurttaşı kabul etme düşüncesine dayanmaktadır?

- A) 1
- B) 2
- C) 3
- D) 4

6)-----



Yukarıda haritada Mustafa Kemal'in Birinci Dünya Savaşı'nda savaştığı cephe gösterilmiştir.

Buna göre Mustafa Kemal'in savaştığı cephe-ler sırasıyla hangi seçenekte doğru verilmiştir?

- A) I, II, III
- B) II, I, III
- C) III, II, I
- D) I, III, II

7)-----

Aşağıdakilerden hangisi Birinci Dünya Sava-şı'nın nedenlerinden değildir?

- A) Milliyetçilik hareketleri
- B) Sömürgecilik yarışı
- C) Milletler Cemiyeti'nin barışı koruyamaması
- D) Uluslararası rekabet

Adı:  
Soyadı:

## Neler Öğrendik TEST

8-----  
Aşağıdaki cümlelerin hangisinde zarf tamlayıcısı yoktur?

- A) İyilik ve doğruluk olmayan yerde, büyüklük yoktur.  
B) Çocuk, çaresizce annesinin peşinden gidiyordu.  
C) Yaşlı kadın, çekingen bir tavırla mırıldanıyordu.  
D) Oğulları iki yıl önce üniversiteyi kazanmıştı.

9-----  
Gül yaprağı suyun üstünde yüzüyordu.

Bu cümlede bulunmayan öge aşağıdakilerden hangisidir?

- A) Özne  
B) Yüklem  
C) Yer tamlayıcısı  
D) Nesne

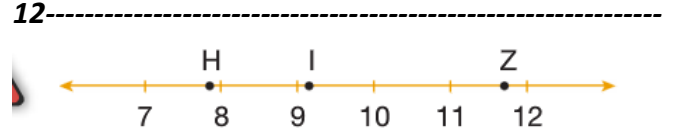
10-----  
Uzamaya başladı günler sahiden;  
Güneşin batmak istemediği belli.  
Yaprakları havalandırarak esen  
Kış boyunca düşündüğüm bahar yeli.

Bu dördlükte kullanılan eylemsileri bulup türleriyle birlikte yazınız.

-----  
-----  
-----  
-----

11-----  
Aşağıdakilerin hangisinde isim - fiil, sıfat - fiil ve zarf - fiil bir arada kullanılmıştır?

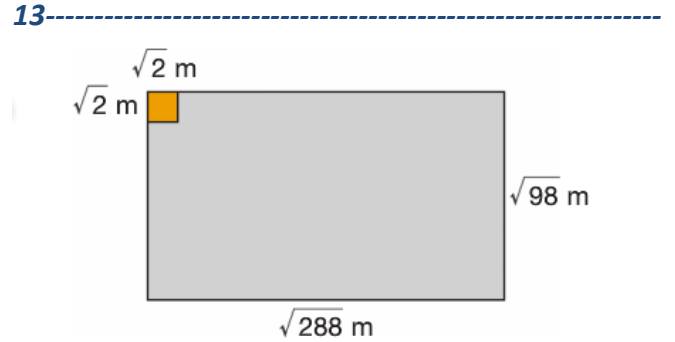
- A) Orijinal olarak başarısız olmayı, bir taklit olarak başarılı olmaya tercih ederim.  
B) İstedığınızı denemenin en iyi yolu yapmaktır.  
C) Yapmak istediğin her şeyi umutla yapıp hayatına öyle devam et.  
D) İlerlemenin tek yolu, geçmişini geride bırakmaktır.



Yukarıda eş aralıklara bölünmüş sayı doğrusu üzerinde H, I, Z noktaları işaretlenmiştir.

Buna göre H, I, Z noktalarına karşılık gelen sayılar aşağıdakilerden hangisi olabilir?

- |    | H           | I           | Z            |
|----|-------------|-------------|--------------|
| A) | $\sqrt{60}$ | $\sqrt{85}$ | $\sqrt{135}$ |
| B) | $\sqrt{66}$ | $\sqrt{86}$ | $\sqrt{140}$ |
| C) | $\sqrt{61}$ | $\sqrt{84}$ | $\sqrt{145}$ |
| D) | $\sqrt{62}$ | $\sqrt{80}$ | $\sqrt{132}$ |



Yukarıda kenar uzunlukları verilen dikdörtgen şeklindeki zemin, bir kenar uzunluğu  $\sqrt{2}$  m olan kare şeklindeki taşlarla zeminde boşluk kalmayacak şekilde döşenecektir.

Bu iş için en az kaç tane taş kullanılır?

- A) 60  
B) 72  
C) 84  
D) 96

14-----  
Bir caddeye her katta 3 daire olmak koşuluyla 4 ve 5 katlı binalar yapılmıştır.

- 4 katlı binaların sayısı  $3^a$  ve 5 katlı binaların sayısı 9'dur.
- 4 katlı binalarda toplam 48 daire vardır.

Buna göre 5 katlı binalarda toplam kaç daire vardır?

- A) 220  
B) 240  
C) 252  
D) 280