

Adı:
Soyadı:

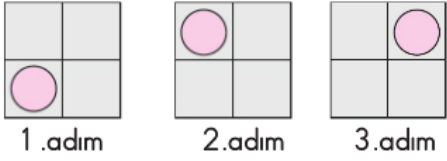


BİLSEM
Çalışma Kağıdı

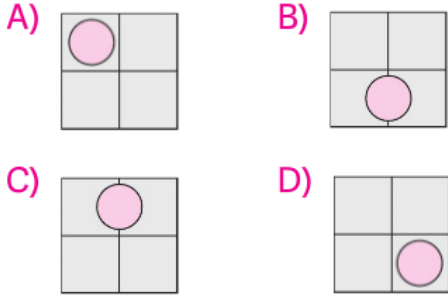


Tarih
...../...../2019

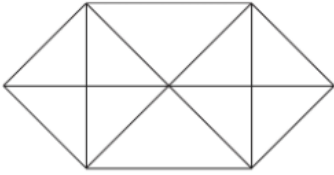
1-----



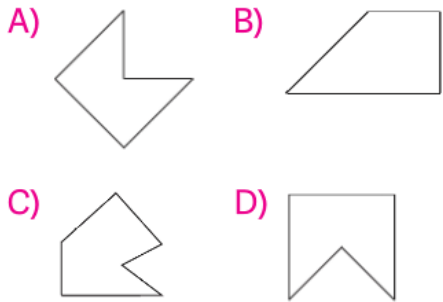
Bu örüntünün 4. adımı aşağıdakilerden hangisidir? (Sıraya koyma)



2-----



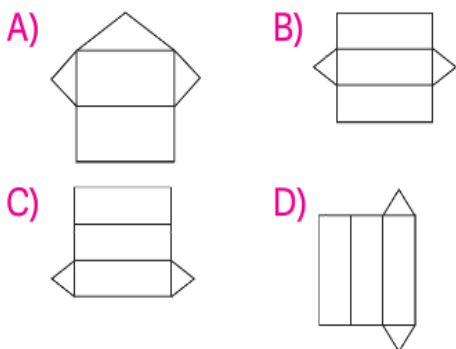
Yukarıdaki çizimde aşağıdaki şekillerden hangisi **yoktur**? (Tasarım)



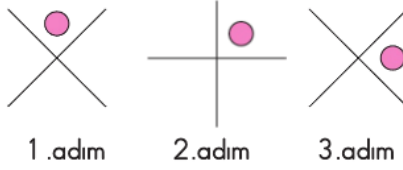
3-----

Aşağıdakilerden hangisi üçgen prizmanın açılımı **değildir**?

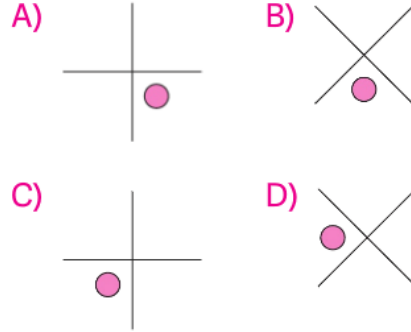
(Benzetme)



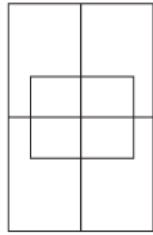
4-----



Bu örüntünün 4. adımı aşağıdakilerden hangisidir? (Sıraya koyma)



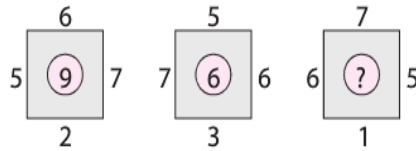
5-----



Yandaki şekilde kaç tane dikdörtgen vardır? (Tasarım)

A) 9 B) 12 C) 15 D) 18

6-----

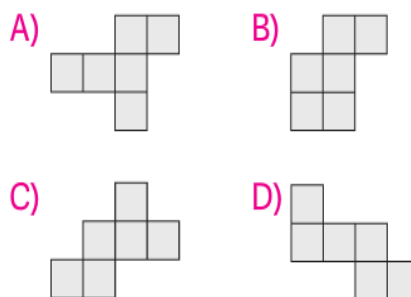


Yukarıdaki şekillerde sayılar aynı kurala göre dizilmiştir. Buna göre "?" olan yere hangi sayı gelmelidir? (Benzetme)

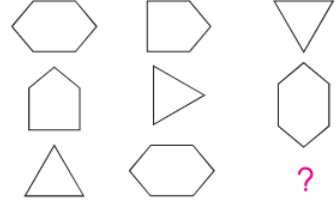
A) 6 B) 9 C) 12 D) 18

7-----

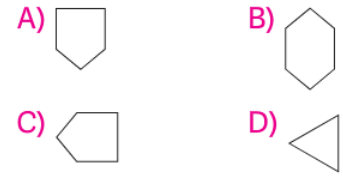
Aşağıdakilerden hangisi küpün açılımı **değildir**? (Tasarım)



8-----

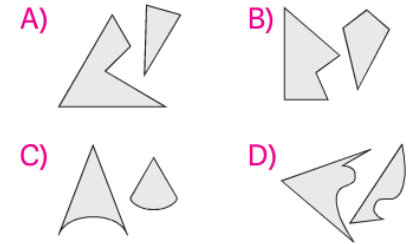


Soru işareti olan yere aşağıdaki şekillerden hangisi gelmelidir? (Gruplama)



9-----

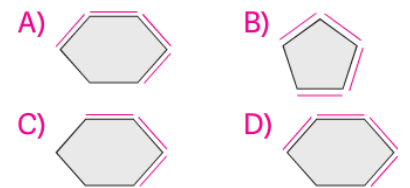
Aşağıdakilerden hangisinde çizilen şekiller birleştirilince üçgen oluşmaz? (Şekiller döndürülebilir.)



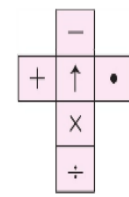
10-----



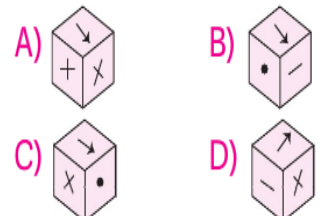
Soru işareti olan yere aşağıdaki şekillerden hangisi gelmelidir? (Sıraya koyma)



11-----



Yan tarafta açılımı verilen küp aşağıdakilerden hangisidir?



12

Aşağıdaki cümleleri anlatım yönünden gruplandırarsak hangi seçenek bu grubun dışında kalır? (Gruplama)

- A) Doğum gününde dağ gibi pasta yaptırmış.
B) Sinemada gülmekten öldü.
C) Sinirlenince kıyameti kopardı.
D) Kedinin o haline çok üzüldü.

13

1. yapmaz
2. hayvanlar
3. bazı
4. yuva

Numaralandırılmış sözcüklerden anlamlı ve kurallı bir cümle oluşturmak için numaraları nasıl sıralayabiliriz? (Sıraya Koyma)

- A) 4-1-3-2 B) 3-2-4-1
C) 4-3-2-1 D) 3-2-1-4

14



Numaralandırılmış sözcüklerin anlamlı ve kurallı bir cümle oluşturması için nasıl sıralanması gerekir? (Sıraya Koyma)

- A) 6-4-1-5-3-2
B) 3-2-5-1-6-4
C) 6-4-3-2-5-1
D) 5-3-2-6-4-1

15

Aşağıdaki cümlelerden hangisinin konusu diğerlerinden farklıdır? (Gruplama)

- A) Kendine güvenmek başarının şartıdır.
B) Emin dost, emanetle tanınır.
C) Güvensizlik başlayınca, dostluk biter.
D) Güvenilir olmak, sevilmekten daha büyük mutluluktur.

16

- Kum tepelikleri vardır.
- Sıcak ve kuru bölgelerdir.
- Çakıl ovaları vardır.

Yukarıdaki cümleler hangi terimin tanımında kullanılır? (Çıkarımda Bulunma)

- A) Orman B) Okyanus
C) Bataklık D) Çöl

17

"Tüm deniz iguanalarının kayalara tutunmalarını sağlayan ve dev dalgalar tarafından sürüklenmesini engelleyen keskin ve uzun vardır."

Bu cümledeki boşluk hangi seçenikle tamamlanmalıdır? (Çıkarımda Bulunma)

- A) ayakları B) tırnakları
C) pençeleri D) kanatları

18



Numaralandırılmış sözcüklerden hangisi yapı bakımından diğerlerinden farklıdır?

- A) 1 B) 2 C) 3 D) 4

19

AKILSIZ

Yukarıdaki sözcüğün harfleri birer kez kullanılarak "kısa, askı, saklı, sakız, asıl, asılsız" sözcüklerinden kaç tanesi yazılabilir? (Gruplama)

- A) 6 B) 5 C) 4 D) 3

20

GÜL

Bu sözcük hangi seçenekte diğerlerinden farklı bir anlamda kullanılmıştır? (Gruplama)

- A) Mutluluktan yüzü gülüyordu.
B) Elinde bir buket gül vardı.
C) Bahçelerinde kırmızı gül açmıştı.
D) Bana verdiğin gülün kokusu çok güzel.

21

1. DOĞA 4. DİZİ
2. DUYGU 5. DENEME
3. DENİZ

Bu sözcükleri sözlük sırasına göre dizersek hangi sözcük ortada olur?

- A) 1 B) 2 C) 3 D) 4

22

90		?	
6	4	5	3
3	6	3	9

1

2

1 ve 2 numaralı tablolar-daki sayılar belli bir kurala göre oluşturulmuştur. Buna göre "?" olan yere hangi seçenekteki sayı yazılmalıdır? (Çıkarımda Bulunma)

- A) 96 B) 90
C) 81 D) 64

23

- 5 9 17 33 65 → A
7 13 25 49 97 → B
2 3 5 ♥ 17 → C

A, B ve C dizilerindeki sayılar bir kurala göre dizilmiştir. Buna göre "♥" sembolü ile belirtilen yere hangi sayı yazılmalıdır? (Benzetme)

- A) 7 B) 8 C) 9 D) 11