

Adı:
Soyadı:



Hayat Bilgisi - Türkçe
Tema Değerlendirme



Tarih
...../...../2019

Hayat Bilgisi

1-----
Eda, arkadaşıyla konuşurken sö-
zünü keser.

Buna göre hangisi Eda'nın bir
özelligi olamaz?

- A. Saygılı
B. Kaba
C. Bencil

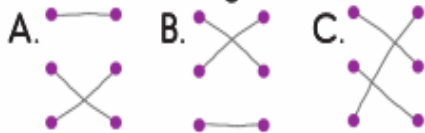
2-----
Sınıfımızda, sınıf temsilcisi seçimi-
ni oy kullanarak gerçekleştirdik.

Buna göre sınıf öğretmeni ile
ilgili hangisi söylenemez?

- A. Sınıfa karşı baskı uygulamıştır.
B. Öğrencilerin düşüncelerinin bir
önemi olmadığını düşünmekte-
dir.
C. Demokratik bir öğretmendir.

3-----
Yangın olduğunda ● ● 155
Güvenlik proble- ● ● 110
minde
Kaza sonucu ya- ● ● 112
ralanmalarda

Yukarıdaki karşılaştırmayı yap-
tıktan sonra oluşan şekil aşağı-
dakilerden hangisidir?



4-----
Kendimize uygun mesleği se-
çerken hangisine dikkat etmeli-
yiz?

- A. Giydikleri kıyafetlere
B. Yeteneklerimize
C. Arkadaşlarımızın seçimine

5-----
Aşağıdakilerden
hangisi bulmaca-
da verilen söz-
cüklerden birinin
eş anlamlısı de-
ğildir?



- A) Ev B) Keder
C) Gülmek

6-----
"tekir, teker, temel" kelimelerini
sözlük sıralamasına koyarsak
hangisi doğru olur?

- | | | |
|----------|-------|-------|
| 1 | 2 | 3 |
| A. teker | tekir | temel |
| B. tekir | teker | temel |
| C. temel | tekir | teker |

7-----
Aşağıdakilerden hangisi ata-
sözü değildir?

- A) Ağaç yaş iken eğilir.
B) Dağdan gelip bağdakini
kovmak
C) Meyve veren ağaç taşlanır.

8-----
★ Sakla samanı gelir zamanı.
▲ Damlaya damlaya göl olur.
● Üzüm üzüm baka baka
kararır.

Aşağıdaki atasözlerinden han-
gileri tasarrufla ilgilidir?

- A) ★ ▲
B) ▲ ●
C) ● ★

9-----
"Bol" sözcüğü hangi cümlede
farklı anlamda kullanılmıştır?

- A. Bol bol su içmelisin.
B. Ayakkabı ayağına bol geldi.
C. Bol elbise sağlığın için dah
iyi.

10-----
"Arkadaşımın ağı kulaklarına
varıyordu."

Bu cümlede anlatılmak istenen
aşağıdakilerden hangisidir?

- A. Arkadaşım çok üzgündü.
B. Arkadaşım çok şaşırmişti.
C. Arkadaşım çok sevinçliydi.

11-----
1. önünde 2. vardı
3. biri 4. kapının
Yukarıdaki sözcüklerden an-
lamlı ve kurallı bir cümle oluş-
turulursa sıralama nasıl olur?

- A. 4-1-3-2 B. 1-2-4-3
C. 1-4-2-3

12-----
"Resim yapmayı hiç"

Bu cümle hangisiyle tamamlanabilir?

- A. sevmiyorum B. sevsem
C. seviyorum

13-----
Yaz mevsiminde anneme "Kış ne
zaman gelecek?" diye sorardım.
Kış geldi mi, martın dokuzunu;
martın dokuzu geçti mi de mayısı
iple çekerdim. Çünkü o günlerde
ramazan ayı tam kışa rastlardı.
Mayıs ayı gelince yaylalara çı-
kardık.

Bu metinde aşağıdaki sorular-
dan hangisinin cevabı yoktur?

- A. Mayısta ne yapardık?
B. Ramazan nasıl geçirdi?
C. Ramazan ayı hangi mevsime
rastlardı?

14-----
Hangi cümlede yazım yanlışı
yoktur?

- A. Aysel, hürriyet mahallesine
taşındı.
B. Vatan caddesi süsleniyor.
C. Avrupa'nın en iyi takımındır.

Hayat Bilgisi soruları bitmiştir.

Fen Bilimlerine geçiniz

Fen Bilimleri

1-----
Aşağıdakilerden hangisi su katmanında yer almaz?

- A. Irmaklar B. Göller
C. Dağlar

2-----
Aşağıdaki maddelerden hangisinin tadına bakmak insan vücuduna zarar verir?

- A) Ayran
B) Şampuan
C) Meyve suyu

3-----
 Bazı maddeler ısıtıldığında katı hâle geçer.

- Gaz hâli, maddenin katı hâli ile sıvı hâli arasındaki hâlidir.
 Sıvıların katılar gibi belirli bir şekli vardır.

Yukarıdaki ifadeler doğru ise kutucuğuna "D" yanlış ise "Y" yazılacaktır.

Buna göre kutucukların görünümü aşağıdakilerden hangisidir?

- A)

D
D
Y

 B)

Y
D
Y

 C)

D
Y
Y

4-----
Aşağıdakilerden hangisi kuvvetin etkilerinden biri değildir?

- A. Kaynama B. Hızlandırma
C. Döndürme

5-----
Aşağıda verilen maddeler ve özellikleriyle ilgili eşleştirmelerden hangisi yanlıştır?

- A.  → Kırılganlık
B.  → Esneklik
C.  → Pürüzsüz olma

6-----
Aşağıdaki işlemlerden hangisinin sonucu, diğerlerinden farklıdır?

- A. $7 + 7 + 7 + 7$
B. $4 + 7$
C. 4×7

7-----
Bir duraktan, her bir saatte 12 minibüs kalkmaktadır.

Bu duraktan, 8 saatte kaç minibüs kalkar?

- A. 86 B. 91 C. 96

8-----
Yasin'in 310 lirası vardı. 107 lirası ile hikâye kitabı seti, 83 lirası ile oyuncak aldı.

Buna göre Yasin'in geriye kaç lirası kalmıştır?

- A. 110 B. 120 C. 130

9-----
 $72 - 78 - 84 - 90 - 96$

Yukarıda kaçar ritmik sayma yapılmıştır?

- A. Yedişer B. Altışar
C. Sekizer

10-----
Kaan $300 - 20$ işleminin sonucunu kolay yoldan bulmak istiyor.

Aşağıdakilerden hangisi sonucu bulmak için Kaan'ın yaptığı işlemler olabilir?

- A. $300 - 10 = 290$
 $290 - 10 = 280$
B. $300 + 30 = 330$
 $330 - 10 = 320$
C. $300 - 10 = 290$
 $290 - 20 = 270$

11-----
9, 0, 2 rakamları birer kez kullanılarak yazılabilecek üç basamaklı en büyük ve en küçük sayıların farkı kaçtır?

- A.  B.  C. 

12-----
Yanda verilen tabloya göre $\circ + \square + \star$ toplamı kaçtır?

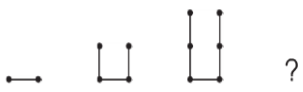
92	52
75	\square
\star	40
100	\circ

- A. 215 B. 195 C. 175




13-----
Çıkarma işleminde \circ ve \square yerine aşağıdakilerden hangisi yazılmalıdır?

$$\begin{array}{r} 182 \\ - 105 \\ \hline 05\square \end{array}$$

- A. $\circ \rightarrow 7$ B. $\circ \rightarrow 7$
 $\square \rightarrow 7$ $\square \rightarrow 2$
C. $\circ \rightarrow 2$
 $\square \rightarrow 7$

14-----
 ?

Örüntü bir adım daha devam ettirilirse "?" yerine hangi şekil gelir?

- A.  B.  C. 

15-----
 $917 > 9\star 7$

ifadesinin doğru olabilmesi için \star yerine aşağıdaki rakamlardan hangisi yazılmalıdır?

- A. 2 B. 1 C. 0

16-----
0, 7, 9 rakamları birer kez kullanılarak üç basamaklı kaç tane sayı yazılabilir?

- A. 2 B. 3 C. 4