

Adı:
Soyadı:



Fen – Hayat Bilgisi
Tema Değerlendirme



Tarih
...../...../2019

Hayat Bilgisi


1-----



Görselde kendini tanıtmak isteyen bir kulak aşağıdakilerden hangisini **söyemez**?

- A. Ben işitme organıyım.
B. Canlıların seslerini ses şiddetlerine göre duyarım.
C. Doğadaki bütün sesleri duyarım.

2-----



Uzaktan konuşan iki kişinin yakından konuşmalarına göre birbirlerini daha zor duymasının sebebi nedir?

- A. Uzaktaki kişinin kısık sesle konuşması
B. Ses şiddetinin uzaklık arttıkça azalması
C. Sesin her yöne yayılmaması

3-----

Bir sesin işitilebilmesini sağlayan özelliğe _____ denir.

Yukarıdaki ifadede boş bırakılan yere hangisi yazılmalıdır?

- A. ses şiddeti
B. ses enerjisi
C. ses kaynağı

4-----



Görsellerdeki canlıların çıkardığı seslerden kaç tanesini duyabiliriz?

- A. 3 B. 2 C. 1

5-----

- Farklı ses kaynakları farklı sesler çıkarır.
 Bütün ses kaynaklarının ses şiddetleri eşittir.
 Ses kaynakları yapay ve doğal olmak üzere iki çeşittir.

Doğru-yanlış etkinliği yapan bir öğrenci yukarıdaki ifadelerin başına sırasıyla hangilerini yazmalıdır?

- A. D - D - Y
B. D - Y - D
C. Y - D - D

6-----

Uzun yıllar matkap ile çalışan Hasan Usta bir süre sonra iyi duymaya başlamıştır.

Bu durumla ilgili aşağıdaki yorumlardan hangisi doğrudur?

- A. Uzun süre şiddetli seslere maruz kalan insanlar bir süre sonra işitme kaybı yaşarlar.
B. Ses şiddetinin az olduğu ortamlarda insanlar iyi duymaz.
C. Ses ortamda iyi yayılmadığı zaman insanlar iyi duymaz.

7-----

Aşağıdaki ses kaynaklarından hangisi doğal ses kaynağına örnektir?

- A. Korna sesi
B. Kuş sesi
C. Flüt sesi

8-----

Aşağıda verilen ışık kaynaklarından hangisi diğerlerinden **farklıdır**?



9-----

Bir varlığın görülebilmesi için aşağıdakilerden hangisine ihtiyaç vardır?

- A. Ses B. Işık C. Isı

10-----



Görsellerdekilerden kaç tanesi yapay ışık kaynağıdır?

- A. 4 B. 3 C. 2

11-----

- I. Dalga sesi
II. Yağmur sesi
III. Saat sesi

Yukarıdaki seslerden hangisi yapay seslere örnek olarak verilir?

- A. I B. II C. III

12-----

Aşağıdakilerden hangisi diğerlerine göre ışığı **daha az** yansıtır?

- A. Tahta parçası
B. Trafik levhası
C. Ayna

13-----

Aşağıdaki ses kaynaklarından hangisinin ses şiddeti **en fazladır**?



14-----

- Güneş, gündüzleri Dünya'mızı aydınlatır.
- Gece, seyir hâlindeki otomobiller yolu görebilmek için farlarını yakar.
- Sokak lambaları, akşam gün batımından sonra yanmaya başlamalıdır.

Yukarıdaki ifadelerden kaç tanesi doğrudur?

- A. 1 B. 2 C. 3

15-----

Aşağıdakilerden hangisi yapay ses kaynağıdır?



Fen soruları bitmiştir.
Hayat Bilgisi sorularına geçebilirsiniz.

Hayat Bilgisi

1-----

Yandaki trafik işaretinin anlamı nedir?



- A. Yaya geçidi
- B. Okul geçidi
- C. Yaya yolu

2-----

Aşağıdakilerden hangisi yayaların geçebileceği yerlerden **değildir**?

- A. Trafik polisinin olduğu yerler
- B. Alt ve üst geçitler
- C. Kavşaklar

3-----

Ailesi ile birlikte deniz kenarında tatil yapan Sude tehlike işaretlerini aşan birinin çırpındığını, dalıp battığını gördü. Hemen yetkililere haber verdi. Bir görevli motorla gidip adamı denizden çıkardı. Denizden çıkarılan adam ambulansla hastaneye kaldırıldı.

Yukarıdaki paragrafta sözü edilen kaza aşağıdakilerden hangisidir?

- A. Yanma
- B. Zehirlenme
- C. Boğulma

4-----

Kaza anında yapılan ilk müdahale aşağıdakilerden hangisidir?

- A. Soruşturma
- B. İlk yardım
- C. Ameliyat

5-----

I	Hazır gıda tüketmek
II	Meyve sebzeleri bol tüketmek
III	Açıkta satılan gıdaları tüketmek

Yukarıdakilerden hangileri sağlıklı beslenme kurallarından **değildir**?

- A. I ve II
- B. I ve III
- C. II ve III

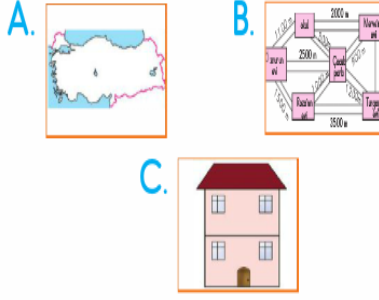
6-----

Aşağıdaki davranışlardan hangisi **olumsuz** davranıştır?

- A. Arkadaşımızın söylediklerini dikkatlice dinlemek
- B. Oyun kurallarına uymamak
- C. Arkadaşımıza anlamadığı derste yardımcı olmak.

7-----

Aşağıdakilerden hangisi krokidir?



8-----

Oya, benzer üç üründen birini almak istiyor. Oyanın ne yapması **doğru** olur?

- A. Kaliteli ve ucuz olanı alması
- B. En pahalı olanı alması
- C. En çok reklamı yapılanı alması

9-----

Aşağıdakilerden hangisi kazaya sebebiyet verebilir?

- A. Her yemekten önce ve sonra ellerimizi yıkamak.
- B. Bisiklet sürerken kask, dizlik ve dirseklik kullanmak.
- C. Makas ya da bıçakla oyun oynamak

10-----

Tanımadığınız bir yetişkin sizi ısrarla dondurma yemeye davet ediyor.

Siz "istemiyorum," dediğiniz halde ısrarından vazgeçmiyor.

Yukarıdaki gibi bir durumla karşılaştığınızda hangisini yapmak **doğru olmaz**?

- A. Yüksek sesle bağıarak yardım istemek
- B. Yetişkinle birlikte dondurma yemeye gitmek.
- C. Hızla oradan uzaklaşmak.

11-----

Acil durumlarda aşağıdakilerden hangisinden yardım isteyebiliriz?



12-----



Halkın kendi kendini yönettiği yönetim biçimidir.

Yukarıda verilen tanım hangi yönetim biçimini açıklar?

- A. Cumhuriyet
- B. Meşrutiyet
- C. Tanzimat


13-----

İstiklâl Marşı'mızın yazarı hangi seçenekte verilmiştir?

- A. Mehmet Akif Ersoy
- B. Mustafa Kemal Atatürk
- C. İsmet İnönü

14-----

Hangi hayvandan yük taşımada **faydalanmayız**?



15-----



Aşağıdakilerden hangisi yukarıdaki görselin ifade ettiği çevre kirliliği türüdür?

- A. Toprak kirliliği
- B. Su kirliliği
- C. Hava kirliliği