

Adı:
Soyadı:



Fen – Hayat Bilgisi
Tema Değerlendirme



Tarih
...../...../2019

1-----
Yarım kg şeftali 1 TL 50 kr. tur.

Aynı şeftaliden 48 kg satan bir satıcının eline geçen para kaç TL'dir?

A) 144 B) 154 C) 164

2-----
Okulumuzun kalorifer kazanında saatte 5 kg kömür yanıyor.

Kalorifer günde 8 saat yandığına göre, 15 günde kaloriferde kaç kg kömür yanmış olur?

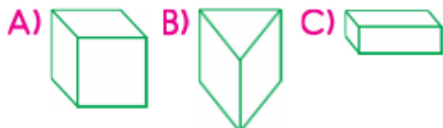
A) 800 B) 600 C) 500

3-----
Bir okulda ilk ders 08.00'de başlamaktadır. Bir ders 40 dakika, bir tenefüs 10 dakikadır.

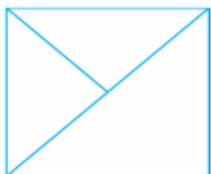
Buna göre 2. ders, saat kaçta başlar?

A) 08.30 B) 08.40
C) 08.50

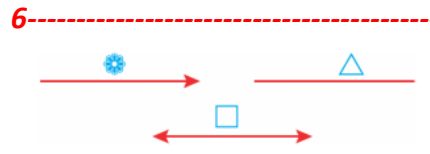
4-----
Aşağıdaki geometrik cisimlerden hangisi ayrıt ve köşe sayısı bakımından diğerlerinden farklıdır?



5-----
Yandaki şekilde kaç tane üçgen vardır?



A) 3 B) 4 C) 5



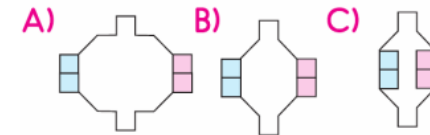
Yukarıda verilen çizgi modellerinin adlandırılışı aşağıdakilerden hangisidir?

A) Işın Doğru parçası Doğru parçası
B) Doğru parçası Işın Doğru parçası
C) Doğru parçası Işın Doğru parçası

7-----
Aşağıdaki harflerin hangisinde yatay ve eğik doğru parçası vardır?

A) K B) A C) N

8-----
Yandaki şeklin simetriği ile oluşan şekil aşağıdakilerden hangisi gibi olur?



9-----
Aşağıdaki eşitliklerden hangisi yanlıştır?

A) 480 cm = 4 m 80 cm
B) 616 cm = 6 m 16 cm
C) 506 cm = 5 m 60 cm

10-----
Aşağıdaki bilgilerden hangisi yanlıştır?

A) Yarım metrede, 5 tane 10 cm vardır.
B) 30 metre, 4 kilometreden kısa bir uzunluktur.
C) 5 tane 4 metre, 20 cm eder.

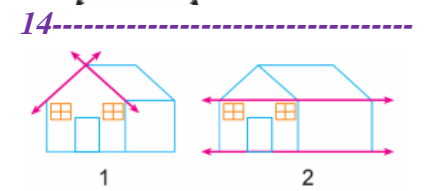
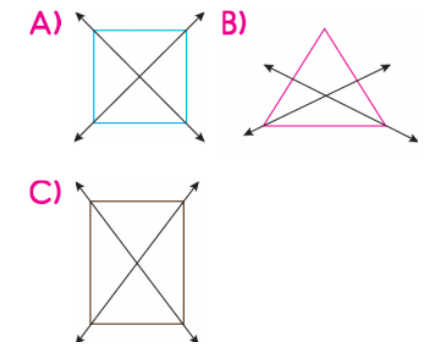
11-----
Aşağıdaki uzunluklardan hangisini ölçmede kilometre biriminin kullanılması uygundur?

A) Sınıf perdesinin uzunluğu
B) Çanakkale - Bursa arasındaki yolun uzunluğu
C) Kalem kutusunun uzunluğu

12-----
Bir aynanın boyu 1 m 50 cm'dir. Asıldığı duvarın uzunluğu, aynadan 50 cm fazla olduğuna göre, duvarın uzunluğu kaç metredir?

A) 2m B) 3m C) 4m

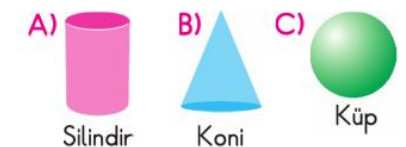
13-----
Aşağıdaki geometrik şekillerden hangisinin simetri doğrusu doğru gösterilmiştir?



Kaç numaralı şekillerde kırmızı doğrular açı oluşturmuştur?

A) Yalnız 1 B) Yalnız 2
C) 1 ve 2

15-----
Aşağıdaki geometrik cisimlerden hangisi yanlış adlandırılmıştır?



1-----
Aşağıdakilerden hangisi kara katmanında yer almaz?

- A) Dağlar
B) Vadiler
C) Irmaklar

2-----
Aşağıdakilerden hangisi farklı bir hareket yapar?



3-----
Gözleri kapalı olan biri, kolonya ile suyu nasıl ayırt edebilir?

- A) Dokunarak
B) İçerek
C) Koklayarak



4-----

	D	Y
Süt, sıvı maddelerdendir.	✓	
Yağmur, katı maddelerdendir.		✓
Su buharı, gaz maddelerdendir.		✓
Ekmek, katı maddelerdendir.	✓	

Tablodaki işaretlemelerden kaç tanesi doğrudur?


- A) 2 B) 3 C) 4

5-----
Aşağıdakilerden hangisi yapay ses kaynağıdır?



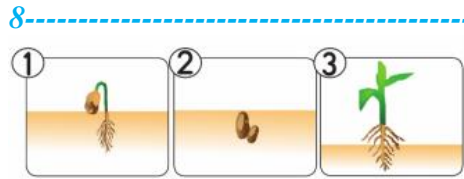
6-----
El feneri ile ilgili aşağıdaki bilgilerden hangisi doğrudur?

- A) Yapay ışık kaynağıdır.
B) Doğal ışık kaynağıdır.
C) Tükenmeyen ışık kaynağıdır.



Baki kimin çaldığı müzik aletinin sesini daha az duyar?

- A) Yusuf
B) Ahmet
C) Bilal



Tablodaki bitkinin yaşam döngüsünün oluş sıralaması aşağıdakilerden hangisidir?

- A) 1-2-3 B) 3-2-1
C) 2-1-3

9-----
Aşağıdakilerden hangisi milli park değildir?



10-----
Aşağıdaki ev araçlarından hangisi pil ile çalışmaz?



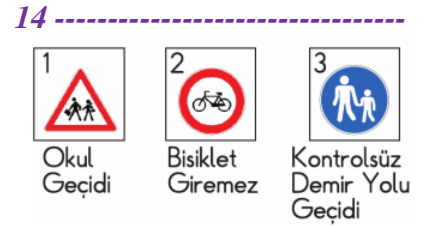

11-----
Aşağıdakilerden hangisi aydınlatma amaçlı kullandığımız kaynaklardan biridir?

- A) Doğal gaz B) Su
C) Elektrik

12-----
Bilinçli bir tüketici aşağıdakilerden hangisini yapmaz?

- A) Bütçesine uygun ürünleri satın alır.
B) Bozuk çıkan ürünü çöpe atar.
C) Aldığı ürünlerde TSE damgası arar.

13-----
Aşağıdaki yiyeceklerden hangisi yaz mevsiminde tüketilmelidir?



Numaralanmış trafik levhalarından hangisinin anlamı yanlış verilmiştir?

- A) 3 B) 2 C) 1

15-----
Aşağıdaki hayvanlardan hangisinin etinden ve sütünden yararlanır?

