

Adı:
Soyadı:

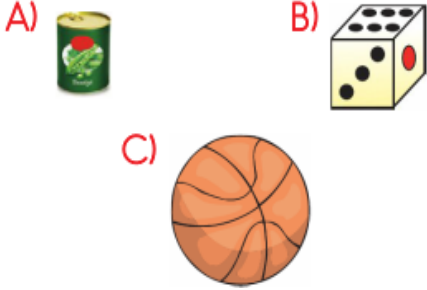


Matematik -Fen - Hayat
Tema Değerlendirme

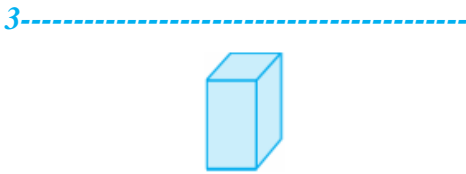
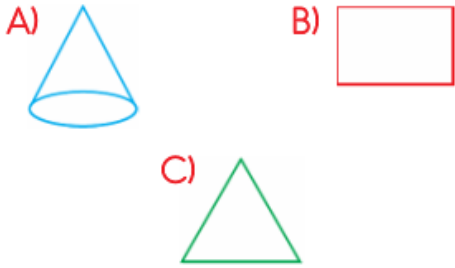


Tarih
...../...../2019

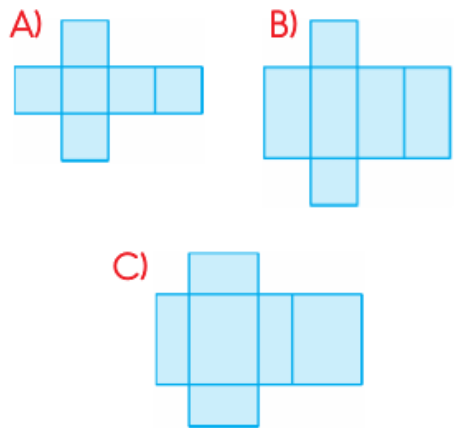
1-----
Aşağıdaki geometrik cisimlerin hangisinin yüzeyi karesel bölgedir?



2-----
Aşağıdakilerden hangisi geometrik cisimdir?

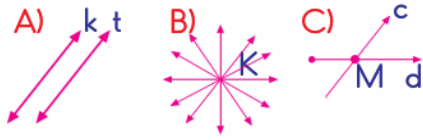


Yukarıda verilen kare prizmanın yüzeylerinin açılmış hâli aşağıdakilerden hangisidir?



4-----
Üçgen prizmanın kaç tane yüzeyi vardır?
A) 4 B) 5 C) 6

5-----
"Bir noktadan sonsuz sayıda doğru geçer." bilgisine uygun model hangi seçenekte verilmiştir?



6-----

Dart oyununda fırlatılan ok aşağıdakilerden hangisine örnektir?
A) Doğru B) Doğru parçası C) Işın

7-----

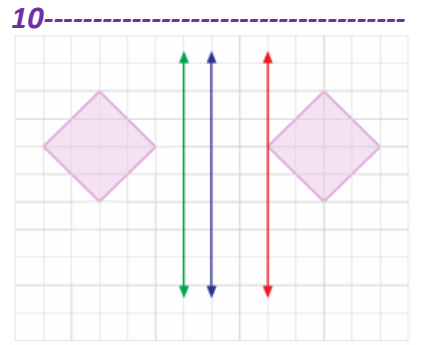
Yukarıdaki şekilde kaç tane üçgen vardır?
A) 4 B) 5 C) 6

8-----

Yanda verilen şekil grubunda aşağıdakilerden hangisi yoktur?
A) Kare B) Üçgen C) Çember

9-----

Yandaki şeklin d doğrusuna göre simetriği hangisidir?
A) B) C)



Yukarıdaki şeklin simetriği hangi renkteki doğruya göre çizilmiştir?
A) Yeşil B) Kırmızı C) Mavi

11-----

Yukarıdaki süslemede kaç tane geometrik şekil kullanılmıştır?
A) 1 B) 2 C) 3

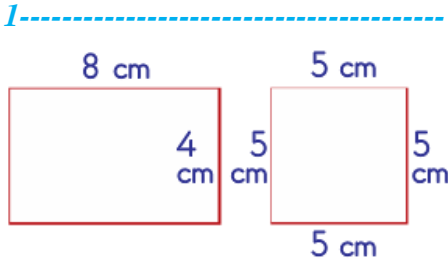
12-----
48 tane elmanın $\frac{1}{4}$ 'ü kaç elmadır?
A) 15 B) 12 C) 10

13-----
Sınıfımızdaki 24 öğrencinin $\frac{1}{3}$ 'ü kız öğrencidir. Sınıftaki erkek öğrenci sayısı kaçtır?
A) 16 B) 14 C) 12

14-----
Dört katlı bir apartmanın yüksekliğini tahmin ettiğimizde hangi uzunluğu söyleyebiliriz?
A) 95 m B) 38 m C) 13 m

15-----

A noktasından B noktasına sonra da C noktasına yürüyen bir kişi kaç metre yol yürümüştür?
A) 21 B) 23 C) 25



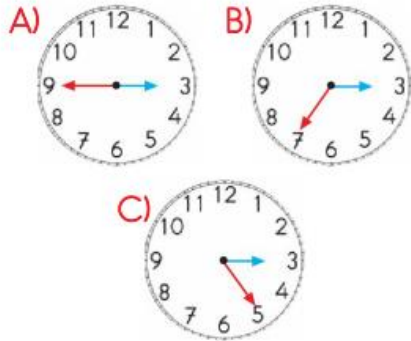
Yukarıda verilen düzlemsel şekillerin çevrelerinin uzunlukları farkı kaç santimetredir?

- A) 5 B) 4 C) 3

2- Aşağıdaki eşitliklerden hangisi yanlıştır?

- A) 300 kr. = 3 TL
B) 6 TL = 600 kr.
C) 800 kr. = 80 TL

3- Yandaki dijital (sayısal) saatin karşılığı aşağıdakilerden hangisidir?



4- 5 kilogram deterjan 25 TL'dir. Deterjanın 1 kilogramı kaç TL dir?



- A) 3 B) 4 C) 5

5- 1 gram altın 96 TL'dir. Anneme alacağımız bilezik 9 gram geldi. 725 TL'miz var. Bileziği almak için kaç TL'ye daha ihtiyacımız vardır?

- A) 118 B) 139 C) 176

6- **■ İşığa ihtiyaç vardır.**
▲ Sese ihtiyaç vardır.

Yukarıda bazı organların çalışmasını etkileyen durumlar verilmiştir.

Buna göre ■ ve ▲ sembolleriyle gösterilen organlar hangisinde doğru verilmiştir?

- A) göz kulak
B) kulak göz
C) göz burun

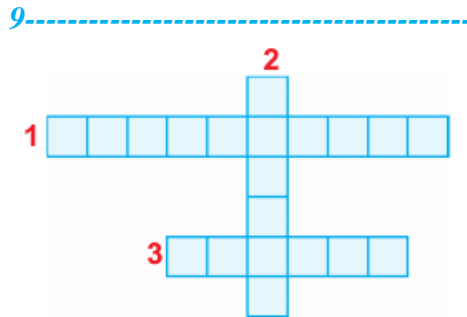
7- Aşağıdaki varlıklardan kaç tanesi canlıdır?



- A) 1 B) 2 C) 3

8- Elektrikli araçlar;
I. Haberleşme,
II. Ulaşım,
III. Isınma amaçlarından hangilerinde kullanılır?

- A) I, II B) II, III C) I, II, III



9- Aşağıdakilerden hangisi bulmacaya uygun bir sözcük değildir?

- A) haberleşme B) ulaşım
C) temizlik

10- Deniz ve göller Dünyamızın aşığıdaki tabakalarından hangisinde bulunur?



- A) hava tabakası
B) kara tabakası
C) su tabakası

11- Öğretmen Duygularımızı bir şekilde ifade etmeliyiz.



Öğretmenin tümcesini hangisiyle doğru olarak tamamlayabiliriz?

- A) uygun B) sessiz
C) kızgın

12- Hangi arkadaşınızın öğrenme ile ilgili görüşü doğrudur?

- A) Herkesin öğrenme biçimi farklıdır.
B) Bütün öğrencilerin öğrenme biçimleri aynıdır.
C) Fen bilimleri, görsel sanatlar ve Türkçe derslerinin tümüne aynı yöntemle çalışmalıyız.

13-



Yukarıdaki işaretlerden kaç tanesinin bulunduğu yerler karşıdan karşıya geçmek için uygundur?

- A) 3 B) 4 C) 5