

Adı:  
Soyadı:



## FEN BİLİMLERİ Tema Değerlendirme



Tarih  
...../...../2019

1-----



Yukarıdakilerden kaç canlı varlıktır?

- A. 5 B. 4 C. 3

2-----

Esin, 1 saksısını havası az olan bir yere, 2 saksısını güneş ışığı alan bir yere koyuyor.



Bir süre sonra bitkilerde nasıl bir değişiklik olur?

- A. 2. bitki, 1. bitkiye göre daha çabuk büyür.  
B. 1. bitkinin yaprakları, 2. bitkinin yapraklarına göre daha çok yeşillenir.  
C. 1. bitki, 2. bitkiye göre daha çabuk büyür.

3-----



Beslenir, büyür ve gelişirler.

Aşağıdaki varlıklardan hangisi Gülay'ın saydığı özelliklere sahiptir?



4-----

Cenk, öğretmenin sorduğu soruya "ormanlar, dağlar ve göller" diyerek doğru yanıt vermiştir.

Buna göre öğretmenin sorduğu soru aşağıdakilerden hangisidir?

- A. Yapay çevre örnekleri nelerdir?  
B. Doğal çevre örnekleri nelerdir?  
C. Hangisi insanlar tarafından oluşturulmuştur?

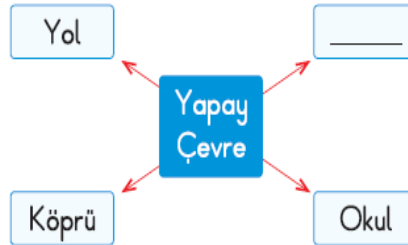
5-----



Yukarıdaki geri dönüşüm kutularını kullanan bir kişinin amacı hangisi **olamaz**?

- A. Çevreyi korumak  
B. Geri dönüşüm maddelerinin ayrılmasına katkı sağlamak  
C. Renkli kutuları değerlendirmek

6-----



Yukarıdaki şemada boş bırakılan kutuya hangisi yazılmalıdır?

- A. Akarsu B. Orman C. Park


7-----



Yukarıda verilenlerden hangisi çevre kirliliğine neden olur?

- A. ■ B. ● C. ☆

8-----



Görseldeki canlıların yaşam alanları sırasıyla hangi seçenekte verilmiştir?

- 1 2 3  
A. Çöl Göl Kutuplar  
B. Çöl Kutup Göl  
C. Çöl Orman Göl

9-----

- I. Dalga sesi  
II. Yağmur sesi  
III. Saat sesi

Yukarıdaki seslerden hangisi yapay seslere örnek olarak verilir?

- A. I B. II C. III

10-----

Aşağıda verilen ışık kaynaklarından hangisi diğerlerinden **farklıdır**?



11-----

Aşağıdakilerden hangisini koklamak veya tatmak sağlığımıza zarar **vermez**?



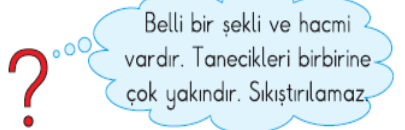
12-----

- Akıcıdır.
- Belli bir şekli yoktur.
- Sıkıştırılmaz.

Yukarıda verilen özelliklerden kaç tanesi sıvı maddelere aittir?

- A. 1 B. 2 C. 3

13-----



Yukarıda özellikleri verilen madde hangi hâlde bulunur?

- A. Katı B. Sıvı C. Gaz

14-----




- Kuvvetin cisimler üzerinde bir etkisi yoktur.
- Kuvvet cisimlerin şeklini değiştirebilir.
- Kuvvet duran cisimleri hareket ettirebilir.

Kuvvet ile ilgili yukarıda verilen bilgilerden kaç tanesi doğrudur?

- A. 1 B. 2 C. 3

## MATEMATİK


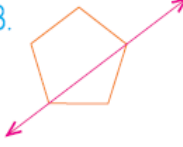

1- Aşağıdaki eşleştirmelerden hangisi doğrudur?

- A.  Doğru parçası  
B.  Işın  
C.  Doğru

2- Aşağıdaki ataşlardan hangisi yere göre yatay konumdadır?

- A.  B.  C. 



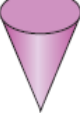
3- Aşağıdaki şekillerden hangisinin simetri doğrusu yanlış çizilmiştir?

- A.  B.   
C. 

4- Aşağıdaki geometrik cisimlerden hangisinin dikdörtgene benzer yüzü yoktur?

- A.  Kare prizma  
B.  Silindir  
C.  Küp

5- Aşağıdaki geometrik cisimlerden hangisinin iki yüzü vardır?

- A.  B.  C. 

6- 

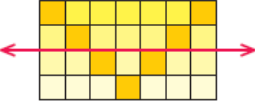
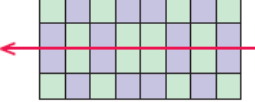
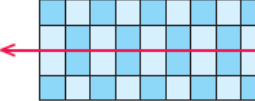
Yukarıdaki düzlemsel şekiller hangi geometrik cisme aittir?

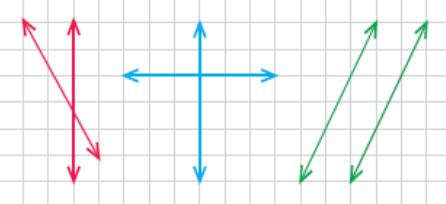
- A. Dikdörtgenler prizması  
B. Küp  
C. Kare prizma

7- Aşağıdaki noktalardan hangisi yanlış adlandırılmıştır?

- A. . D B. . t C. . Z

8- Aşağıdaki süslemelerin hangisinde simetri doğrusu yanlış çizilmiştir?

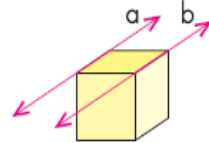
- A.   
B.   
C. 

9- 

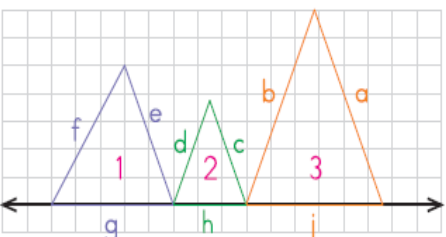
Kareli kâğıtta hangi renkle çizilenler birbirine göre dik doğrulardır?

- A. Mavi B. Yeşil C. Kırmızı

10- Yandaki küp modelinde gösterilen doğrular için hangisi söylenebilir?

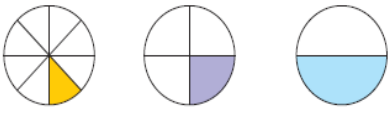


- A. Dik doğrulardır.  
B. Eğik doğrulardır.  
C. Paralel doğrulardır.

11- 

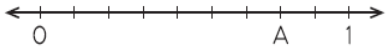
İkinci üçgendeki d doğru parçası modeli, üçgenlerdeki hangi doğru parçası modelleri ile paraleldir?

- A. f ve b B. a ve e C. a ve c

12- 

Hangi seçenekteki kesir yukarıdaki modellerde gösterilmemiştir?

- A.  $\frac{1}{2}$  B.  $\frac{1}{7}$  C.  $\frac{1}{4}$

13- 

Yukarıdaki sayı doğrusunda A harfine karşılık gelen kesir hangisidir?

- A.  $\frac{2}{9}$  B.  $\frac{6}{9}$  C.  $\frac{7}{9}$

14- Nil, günde 108 dakika spor yapıyor.

Nil günde kaç saat kaç dakika spor yapmaktadır?

- A. 1 saat 38 dakika  
B. 1 saat 48 dakika  
C. 1 saat 58 dakika

15- Furkan'ın kumbarasında 10 tane 1 ₺, 6 tane 50 kr., 4 tane 25 kr. var.

Furkan'ın kumbarasında kaç lira vardır?

- A. 12 B. 13 C. 14

16- Yarım kilogramı 24 ₺ olan cevizden çeyrek kilogram aldık. Satıcıya 50 ₺ ödedik.

Geriye kaç lira para üstü alırız?

- A. 38 B. 36 C. 34

17- Bir tabaktaki 20 fındığın  $\frac{3}{5}$ 'ünü Ali,  $\frac{1}{5}$ 'ini Cemre,  $\frac{2}{5}$ 'ini Emir yedi.

Hangisi daha çok fındık yemiştir?