

Adı:
Soyadı:

3. SINIF HAYAT BİLGİSİ
Değerlendirme

Tarih
...../...../2021

A) Aşağıdaki ifadeler doğruysa "D" yanlıřsa "Y" yazalım.

- En önemli meslek doktorluktur.
- Geçmiş ile günümüzde oynanan oyunlarda farklılıklar olabilir.
- Dünyadaki hiçbir insan aynı yetenekte değildir.
- Teknolojik ürünlerin zararı yoktur.
- Odamı toplamak ülkeme karşı sorumluluğumdur.

B) Cümlelerde boş bırakılan yerleri uygun kelimeler ile tamamlayalım.

aynı kişisel özenli

sorumluluklarımızı tasarruf

1. Ülkemize ve ailemize karşı yerine getirmeliyiz.
2. Okul eşyalarını kullanırken kullanmalıyız.
3. etmek bütçemize katkı sağlar.
4. Diş fırçası bakım malzemesidir.
5. Sürekli yiyeceklerle beslenmemeliyiz.

C) Aşağıdaki tedbirleri deprem öncesinde veya deprem sırasında şeklinde gruplandıralım.

1. Deprem çantası hazırlamalıyız.
2. Sakin olmalıyız.
3. Merdivenlerden uzak durmalıyız.
4. Evleri sağlam yapmalıyız.
5. Eşyaları sabitlemeliyiz.
6. Güvenli bir yerde beklemeliyiz.

DEPREM	
Öncesinde	Sırasında

D) Aşağıdaki trafik işaretlerinin altlarına ne anlama geldiğini yazalım.



E) Aşağıdaki menülerden hangileri yeterli ve dengeli beslenen birinin tercihi olabilir? İşaretle-yelim.



MİNİ TESTLER

1. Bilinçli bir tüketici kıyafet alırken ürünün hangi özelliğine dikkat eder?

- A. Markasına
B. Kalitesine
C. Rengine

2. Kişisel bakımımızı yaparken kimden yardım alabiliriz?

- A. Arkadaşımızdan
B. Komşumuzdan
C. Annemizden

3. Aşağıdaki mesleklerden hangisi sağlık sektöründe hizmet vermektedir?

- A. Mühendis
B. Hemşire
C. Savcı

4-----
Aşağıdakilerden hangisi temel ihtiyaç değildir?

- A. Ev
B. Araba
C. Kıyafet

5-----
Karşı binanın yandığını gören Yağmur aşağıdakilerden hangisini veya hangilerini aramalıdır?

- ▲ = 112 ■ = 110 ● = 155
A. ▲ B. ▲ ■ C. ▲ ■ ●

6-----
Aşağıdakilerden hangisi deprem çantasında bulunması gereken bir eşya değildir?

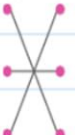


- A.
B.
C.

7-----
Karşıdan karşıya geçerken aşağıdakilerden hangisi yapılmalıdır?




- A. Önce sağa sonra sola bakılır.
B. Önce sola sonra sağa tekrar sola bakılır.
C. Önce sağa sonra sola tekrar sağa bakılır.

8-----
112 • • İtfaiye
110 • • Polis
155 • • Ambulans




Yukarıdaki acil durum numaraları ile birimler eşleştirildiğinde, sonuç hangi seçenekteki gibi olur?

- A.  B.  C. 

9-----
Aşağıdaki durumların hangisinde kask, dizlik, dirseklilik takmaya gerek yoktur?

- A.  B. 
C. 

10-----
Aşağıdaki görsellerin hangisindeki durum bir kazaya sebep olabilir?

- A.  B. 
C. 

11-----
Aşağıdaki davranışlardan hangisi doğru değildir?

- A. "Tanımadığım biri bana para vermek istedi. Nazikçe reddedip hemen oradan uzaklaştım."
B. "İnternet ortamında biriyle tanışıp arkadaş oldum. Fotoğraflarımı ve telefon numaramı ona gönderdim."
C. "Babamı tanıdığını söyleyen biri beni arabayla eve bırakmayı teklif etti. Reddedip oradan uzaklaştım."

12-----
Aşağıdakilerden hangisi günlük yaşantımızda güvenliğimizi tehdit edebilecek bir durum değildir?

- A. Su kesintisi B. Deprem
C. Terör olayları

Üç çocuk kendi aralarında, kişisel bakım eşyaları ve kaynaklarını tahmin etme oyunu oynayacaklardır. Bunlarla ilgili şu ip uçlarını vermişlerdir:

Selda → Dişlerimizi fırçalamak için kullanırız. Onsuz dişlerimiz temizlenmez.

Mert → Banyo yaparken kullanırız. Saçımızın güzel kokmasını da sağlar.

Samet → Elimizi yıkarken kullanırız. O olmadan ellerimiz temizlenmez.

13-----
Selda'nın söylediği kişisel bakım eşyası aşağıdakilerden hangisi olabilir?

- A. Diş ipi B. Diş macunu C. Diş teli

14-----
Üçünün de aklında olan kişisel bakım ürünleri sırasıyla hangi seçenekteki gibi olabilir?

- A. **Selda** → Diş fırçası B. **Selda** → Diş macunu C. **Selda** → Diş ipi
Mert → Saç kremi **Mert** → Sıvı sabun **Mert** → Saç fırçası
Samet → Sıvı Sabun **Samet** → Eldiven **Samet** → Kalıp sabun