

Adı:  
Soyadı:



**TÜRKÇE**  
**Tema Değerlendirme**




Tarih  
...../...../2019

1-----  
Gelecekteki mesleğimizi neye göre belirlemeliyiz?

- A. Maaşına göre seçmeliyiz.  
B. Ailemizin istediği mesleği seçmeliyiz.  
C. Mutlu olacağımız mesleği seçmeliyiz.

2-----  
Karşıdan karşıya geçerken aşağıdakilerden hangisi yapılmalıdır?

- A. Önce sağa sonra sola bakılır.  
B. Önce sola sonra sağa tekrar sola bakılır.  
C. Önce sağa sonra sola tekrar sağa bakılır.

3-----  
 Apartmanın eski kapısı çok geçmeden kırıldı.

Bilge

Bilge'nin söylediği cümlede altı çizili kelime, varlığın hangi özelliğini belirtmektedir?

- A. Sayısı  
B. Şekli  
C. Durumu

4-----  
Merhaba ben Sadık. Bugün izciliğimin ilk günü. Bir hafta boyunca burada kamp yapacağız. Şimdiden çok çeşitli hayvanlarla karşılaştık. Akşama kamp ateşi yakacağız. Kamp çok heyecan verici.

Yukarıdaki metnin konusu hangisidir?

- A. Sadık'ın kamp heyecanı  
B. Sadık ve arkadaşlarının doğa yürüyüşleri  
C. Hayvanları korumak için yapılan çalışmalar

5-----  
Aşağıdaki cümlelerin hangisinde kesme işareti (') yanlış kullanılmıştır?


- A. Ece'ye Anıl'lar da gidecekmış.  
B. En son Begüm'ü parkta görmüş-tüm.  
C. Erol'un çocuğu dedesinin yanına gitmiş.

6-----  
Aşağıdaki cümlelerin hangisinde iki nokta (:) yanlış kullanılmıştır?


- A. Cansu:  
— Kardeşimi gördün mü?  
B. En sevdiğim oyunlar: araba yarışı, msket, futbol.  
C. Evin: pencere ve kapısını yeniledi.

7-----  
Aşağıdaki cümlelerin hangisinde yazım yanlışı vardır?


- A. Pazar günlerimi murat ağabe-yimle geçiririm.  
B. Furkan, polis ya da itfaiyeci olmak istiyor.  
C. Artık kimse mektup yazmıyor.

8-----  
 Yarın hayvanat bah-çesine gideceğiz.

Duru

 Sabah siporu herkesin yap-ması gereken bir etkinliktir.

Özlem

 Zil çalınca teneffüse çka-çağiz.

Eray

Hangi öğrencinin söylediği cümlede yazım yanlışı vardır?

- A. Duru  
B. Özlem  
C. Eray

9-----  
"Katlanacak gücü kalmamak." anlamına gelen deyim aşağıdakilerden hangisidir?

- A. Açık konuşmak  
B. Meydan okumak  
C. Sabrı taşmak

10-----  
Aşağıdakilerden hangisi uyuya-kalmak anlamında bir deyimdir?

- A. İçi gitmek  
B. İçi geçmek  
C. İçi erimek

11-----  
"Güneşsiz evde hastalık eksik olmaz." anlamındaki atasözü aşağıdakilerden hangisidir?

- A. Güneş girmeyen eve doktor girer.  
B. Gülü seven dikenine katlanır.  
C. Güzele ne yakışmaz.

12-----  
 Yıldırım

Volkan

Güneş



 Ateş

Serkan

Serdar

Doğal ışık kaynaklarına örnek veren yukarıdaki öğrencilerden hangisinin verdiği örnek yanlıştır?

- A. Serdar  
B. Serkan  
C. Volkan

13-----  
Aşağıdaki canlılardan hangisi hem karada hem de suda yaşar?

- A. Kedi  
B. Balık  
C. Kurbağa

14-----

Tanımadığınız bir yetişkin sizi ısrarla dondurma yemeye davet ediyor.

Siz "istemiyorum," dediğiniz halde ısrarından vazgeçmiyor.

Yukarıdaki gibi bir durumla karşılaşmanızda hangisini yapmak doğru **olmaz**?

- A. Yüksek sesle bağıarak yardım istemek  
B. Yetişkinle birlikte dondurma yemeye gitmek.  
C. Hızla oradan uzaklaşmak.

15-----



This is a .....

- A. friend  
B. teacher  
C. family

16-----



..... is my mother.

- A. He  
B. You  
C. She

17-----



I'm .....

- A. sad  
B. tired  
C. surprised

18-----



I ..... run fast.

- A. can B. am C. are

19-----



Benim yaşı 3 birlik, 2 yüzlükten oluşmaktadır.

Yukarıdaki ağaç kaç yaşındadır?

- A. 32 B. 203 C. 322

20-----



Nedim yukarıdaki basket potasına üstünde çift sayı yazılı olan topları atmıştır. Nedim basket potasına kaç top atmıştır?

- A. 3 B. 2 C. 1

21-----



Yukarıdaki örüntünün kuralı hangi seçenekte doğru verilmiştir?

- A. 5 azalır, 2 artar.  
B. 5 artar, 2 azalır.  
C. 5 azalır, 2 azalır.

22-----

$$424 + \blacktriangle > 536$$

Yukarıdaki sıralamaya göre  $\blacktriangle$  yerine yazılabilecek en küçük sayı kaçtır?

- A. 114 B. 112 C. 113

23-----

Üç basamaklı en büyük tek sayı ile iki basamaklı en büyük çift sayının farkı kaçtır?

- A. 900 B. 901 C. 909

24-----



Yandaki toplama işleminde  $\blacksquare$  ve  $\blacktriangle$ 'nin basamak değerleri toplamı kaçtır?

- A. 450 B. 560 C. 620

25-----

Bahçemizde 145 ağaç vardı. 56 tanesi kurudu. Babam kuruyanların yerine 83 ağaç dikti.

Bahçemizde kaç meyve ağacı oldu?

- A. 284 B. 201 C. 172

26-----

X	1	5	7
6	$\blacktriangle$	30	42
8	8	40	$\star$

Yukarıdaki tabloya göre  $\blacktriangle \times \star$  işleminin sonucu kaçtır?

- A. 336 B. 90 C. 56

27-----

Bir manav 63 kavunun 21 tane-sini sattı. Kalan kavunları da 3 kasaya sayıları eşit olacak şekilde koydu. Her kasada kaç kavun vardır?

- A. 21 B. 17 C. 14

28-----



Ben 12 yaşıdayım. Babamın yaşı benim yaşı-mın 3 katından 4 fazladır.

Emre'nin babası kaç yaşındadır?

- A. 19 B. 36 C. 40

29-----

Payı 4, paydası 8 olan kesir aşağıdakilerden hangisidir?

- A.  $\frac{8}{4}$  B.  $\frac{4}{8}$  C.  $\frac{4}{5}$