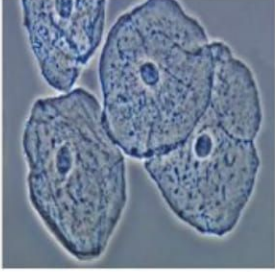


Hücre

1. Bir öğrenci Fen Bilimleri dersinde mikroskopla gözlem yapmaktadır. Okülerden gözlemediği aşağıdaki görüntüdür.



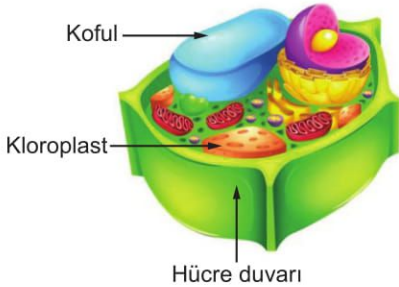
Öğrencinin bu gözlemi sonucunda yapmış olduğu,

- I. Bu bir hayvan hücresidir.
- II. Hücre zarı, çekirdek ve sitoplazmayı net olarak gözlemedim.
- III. Bu hücrede hücre duvarı bulunmaz.

Yorumlarından hangileri doğrudur?

- A) I ve II.
- B) II ve III.
- C) I ve III.
- D) I, II ve III.

2. Şekilde bir bitki hücresine ait bazı yapılar gösterilmiştir.



Bu yapıların hangi özellikleri tüm bitki hücrelerinde aynıdır?

- A) Sayıları
- B) Görevleri
- C) Şekilleri
- D) Hücredeki konumları

3. Buldukları hücrelerin görevlerine göre, bazı organellerin sayısında farklılık görülebilir.

Buna göre süt bezi, gözyaşı bezi ve tükürük bezi gibi yapılarda hangi organel sayıca diğerlerinden fazla olabilir?

- A) Golgi cisimciği
- B) Lizozom
- C) Ribozom
- D) Sentrozom

4. Bir öğrenci kitapta gördüğü bir hücre resminin, bitki ya da hayvan hücresi olduğuna karar vermek istiyor.

Buna göre öğrenci,

- I. Hücre duvarı
- II. Mitokondri
- III. Ribozom
- IV. Kloroplast

yapılarının hücrede bulunma durumlarından hangilerine bakarak bu hücrenin ait olduğu canlı sınıfına karar verebilir?

- A) I ve II.
- B) I ve IV.
- C) II ve III.
- D) III ve IV.

5. Canlı bir hücrede canlılık faaliyetlerini gerçekleştiren "organeller" adındaki yapılar, hücre sitoplazmasında bulunur.

Aşağıdaki tabloda bazı organeller ve bunların hücre içindeki görevleri verilmiştir.

	Organel	Görevi
I	Mitokondri	Enerji üretimini gerçekleştirir.
II	Ribozom	Protein sentezi yapar.
III	Golgi cisimciği	Maddelerin iletimini sağlar.
IV	Koful	Fazla besinleri ve atık maddeleri depolar.

Tablo incelendiğinde kaç numaralı satırda hata yapıldığı söylenebilir?

- A) I.
- B) II.
- C) III.
- D) IV.

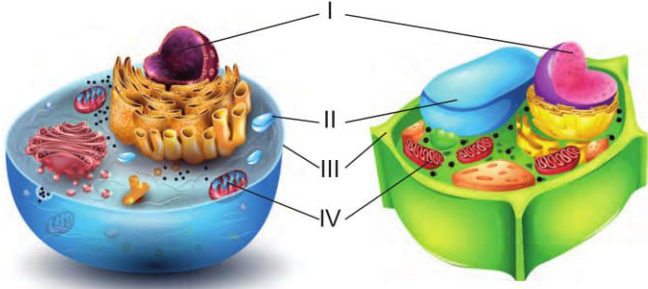
6. I. Hücreye şekil verir.
II. Çoğunluğu sudan oluşan, yarı akışkan ve yarı saydam sıvıdır.
III. Yaşamsal faaliyetleri gerçekleştiren organelleri üzerinde bulundurur.

Yukarıda verilen özelliklerden hangileri hücre sitoplazmasına aittir?

- A) Yalnız III.
- B) I ve II.
- C) I ve III.
- D) II ve III.

Hücre

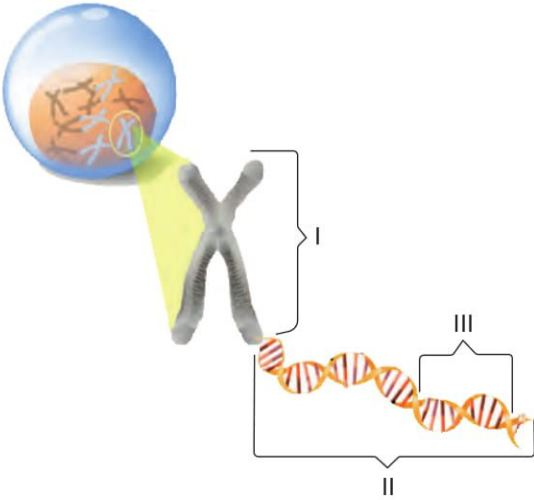
7. Efe, bitki ve hayvan hücrelerinde ortak olan bazı yapıları eşleştirme yaparak aşağıdaki gibi göstermiştir.



Buna göre Efe hangi yapının adını yazarken hata yapmıştır?

- A) I - Çekirdek
B) II - Koful
C) III - Hücre duvarı
D) IV - Mitokondri

8. Aşağıda canlı bir hücrede bulunan yapılar numaralandırılarak gösterilmiştir.



Buna göre bu yapılarla ilgili verilen ifadelerden hangisi yanlıştır?

- A) I, aynı türden olan canlıların hepsinde eşit sayıda bulunur.
B) II, hücrenin yönetici molekülüdür.
C) III, canlıların kalıtsal özelliklerini kontrol eder.
D) I'in sayısı, canlının gelişmişlik düzeyini belirler.

9. Bir öğrenci, bitki ve hayvan hücrelerinin bazı özelliklerini karşılaştırarak aşağıdaki tabloyu hazırlamıştır.

	Bitki Hücresi	Hayvan Hücresi
Hücre duvarı	Var	Var
Koful	Büyük	Küçük
Şekil	Köşeli	Yuvarlak
Kloroplast	Var	Yok

Bu öğrenci, çalışmasının doğru olabilmesi için tabloda hangi değişikliği yapmalıdır?

- A) Hayvan hücresinde hücre duvarını "yok" olarak yazmalıdır.
B) Koful ile ilgili verdiği bilgilerin yerini değiştirmelidir.
C) Hayvan hücresinde kloroplastı "var" olarak yazmalıdır.
D) Bitki ve hayvan hücrelerinin şekilleri ile ilgili verilen bilgilerin yerini değiştirmelidir.

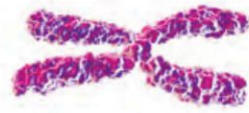
10. Tabloda bir canlıya ait yapı birimleri örnekleri ile verilmiştir.

	I	II	III	IV	V
Yapılar	Sistem	Organ	Doku	Organizma	Hücre
Örnekler	Dolaşım Sistemi	Kalp	Kan	İnsan	Akyuvar

Bu örnekler, en temel birimden karmaşığa doğru sıralanırsa aşağıdakilerden hangisi elde edilir?

- A) V, III, II, I, IV
B) I, III, II, V, IV
C) V, IV, III, II, I
D) I, II, III, V, IV

- 11.



Yukarıdaki yapı ile ilgili verilen bilgilerden hangisi yanlıştır?

- A) Bir türün bütün bireylerinde eşit sayıda bulunur.
B) Farklı türden canlılarda eşit sayıda bulunamaz.
C) Temel yapısını oluşturan molekül, DNA'dır.
D) Canlıların kalıtsal özelliklerini taşır.



Appearance And Personality - 2

ANSWER THE QUESTION 1-5 ACCORDING TO THE CHART BELOW.

	SARAH	SALLY
AGE	20	34
APPEARANCE	1,62 cm 60 kg	1,70 cm 80 kg
PERSONALITY	Likes meeting her friends Never arrives on time Never works hard Never tells a lie Buys her friends presents Sometimes changes her ideas and plans	Likes staying at home Always arrives on time Likes working hard Never tells the truth Never buys her friends presents Never changes her ideas and plans

1. Sally is - - - - because she likes staying at home.

- A) punctual
B) outgoing
C) easygoing
D) couch potato

2. Sarah is more - - - - than Sally.

- A) sociable
B) punctual
C) stubborn
D) hardworking

3. Sarah is - - - - than Sally.

- A) taller
B) older
C) heavier
D) younger

4. Sarah is a - - - - person because she dislikes working hard.

- A) lazy
B) honest
C) punctual
D) hardworking

5. Sally is more - - - - than Sarah because she never changes her ideas.

- A) punctual
B) stubborn
C) dishonest
D) hardworking

6. Jeremy : What does she look like?

Sally : She has got short blonde hair and brown eyes. She is short and plump.



Appearance And Personality - 2

7. **My brother John is very selfish because he always**
----.

- A) thinks only about himself
- B) takes care of poor people
- C) spends time with her friends
- D) buys presents for her friends

8. (I)Our maths teacher Mr. Bandlely is a good looking man.
(II)He always tells the truth. (III)He is tall and well- built.
(IV)He has got short curly fair hair and hazel eyes.

Verilen metinde anlam bütünlüğünü bozan cümleyi işaretleyiniz.

- A) I
- B) II
- C) III
- D) IV

9. **Tim** : Who are they in this photo? They look very lovely and happy.

Jim : They are my parents. They are on holiday with my grandparents in that photo.

Tim : So nice. ----?

Jim : Yes, she is. She is 34 and my father is 37.

- A) What kind of sports does your mother do
- B) Is your mother younger than your father
- C) Where are they going to have a holiday
- D) Can your mother do sports at home

10. **Roar** : I think I'm very fat. It's time to go on a diet. I should stop eating fast food.

Chris : I don't think so. You look fit and healthy. ---- ?

Roar : 63 kg. Isn't it too much?

Chris : To me it is quite normal. I'm heavier than you.

- A) What are you like
- B) Which sports can you do
- C) How much do you weigh
- D) Who is heavier than you

11. **Jack** : My buddy Kevin goes to the same school with you. Do you know him?

Harold : What does he look like?

Jack : He is ----.

Harold : No, I don't know him.

- A) tall and slim with short dark hair
- B) too shy to speak to strangers
- C) friendly and very intelligent
- D) very hardworking and kind

12. **Ted** : Why don't you trust Jack?

Bill : Because he never ----.

Ted : I think he is an honest boy. I hope you will be good friends again.

- A) tells me the truth
- B) shares my secrets
- C) forgets his homework
- D) breaks something at home



Problemler

1. 95 lira borcu olan Sinan 27 lira daha borç alıyor. Daha sonra borcunun 55 lirasını ödüyor.
Son olarak borcunun 32 lirasını daha ödediğine göre Sinan'ın kalan borcu kaç liradır?

A) 8 B) 15 C) 35 D) 67

2. Bir şehirde sabah sıcaklık -3°C olarak ölçülmüş, öğlen sıcaklığın önceki ölçüme göre 9°C arttığı, akşam ise bir önceki ölçüme göre 10°C azaldığı görülmüştür.

Buna göre akşam ölçülen hava sıcaklığı kaç derecedir?

A) 1 B) -1 C) -3 D) -4

3. Deniz seviyesine göre 11 metre derinlikte bulunan bir dalgıç önce 5 metre yukarıya çıkıp sonra 2 metre aşağıya dalıyor.

Buna göre dalgıcın son durumda deniz yüzeyine göre konumunu veren işlem aşağıdakilerden hangisidir?

A) $(-11) + (+5) + (-2)$
B) $(-11) + (-5) + (+2)$
C) $(+11) + (-5) + (+2)$
D) $(-11) - (+5) - (-2)$

4. Bir odadaki termometrede sıcaklık 28 dereceyi göstermekte iken odanın sıcaklığını dakikada 4 derece düşürebilen bir klima açılıyor.

Klima açıldıktan 8 dakika sonra odanın sıcaklığı kaç derece olur?

A) -8 B) -4 C) 0 D) 4

5. 20 soruluk bir testte öğrenciler doğru cevapladıkları her bir soru için +5 puan, yanlış cevapladıkları her bir soru için ise -3 puan almaktadır.

Bu testin tamamını cevaplayan bir öğrenci 14 soruyu doğru cevapladığına göre kaç puan almıştır?

A) 88 B) 64 C) 52 D) 28

- 6.

10	6	2
9	5	1
8	4	0
7	3	-1

Yukarıda bir apartmanın asansör kabinindeki tuşlar verilmiştir. Bu apartmanda Eylül, Zeynep'ten 5 kat aşağıda, Hayat ise Zeynep'ten 6 kat yukarıda oturmaktadır.

Eylül, Zeynep ve Hayat asansöre birlikte binmiş ve oturdukları katlara gitmek için tuşlara basmışlardır.

Buna göre Eylül, Hayat ve Zeynep'in bastıkları tuşlar hangi seçenekte doğru olarak verilmiştir?

	<u>Eylül</u>	<u>Hayat</u>	<u>Zeynep</u>
A)	-1	10	4
B)	-1	9	5
C)	1	10	4
D)	9	10	4

Problemler

7. Aşağıda bir iş yerindeki doğal gaz kombisinin 3 farklı kademesi ve bu kademelerin kullanım durumlarına göre bir saatte harcadıkları gaz tüketimleri verilmiştir.

Kademe	1 saatteki doğal gaz tüketimi (m ³)
1. kademe (düşük)	2
2. kademe (orta)	3
3. kademe (yüksek)	5

Aynı gün içerisinde kombi 09.00'da 3. kademede çalıştırılmaya başlanmış, saat 12.00'de 1. kademeye düşürülmüş ve saat 18.00'de kapatılmıştır.

İşyerindeki doğal gaz sayacı 09.00'da 50 m³ gaz olduğunu gösterdiğine göre bu sayaç 18.00'de kaç metreküp gaz olduğunu gösterir?

- A) 21 B) 23 C) 27 D) 29

8. Kaan ve Doruk hava sıcaklığını tahmin etmeye çalışıyorlar.

Termometreye baktıklarında gerçek sıcaklığın Kaan'ın tahmininden 3°C yüksek, Doruk'un tahmininden ise 1°C düşük olduğunu görüyorlar.

Kaan'ın tahmini -8°C olduğuna göre Doruk'un tahmini kaç °C'dir?

- A) -12 B) -10 C) -6 D) -4

9. Aşağıda 3 farklı ilde aynı gün içinde ölçülen en düşük ve en yüksek hava sıcaklık değerleri verilmiştir.

	En Düşük Sıcaklık (°C)	En Yüksek Sıcaklık (°C)
Trabzon	-5	+2
Ağrı	-17	-1
Ankara	-13	2

Verilen bilgilere göre aşağıdakilerden hangisi yanlıştır?

- A) Ağrı'da ölçülen en yüksek sıcaklık Trabzon'da ölçülen en düşük sıcaklıktan 4°C fazladır.
 B) Ankara'da ölçülen en düşük sıcaklık Trabzon'da ölçülen en yüksek sıcaklıktan 11°C azdır.
 C) Ağrı'da ölçülen en düşük ve en yüksek sıcaklık değerleri arasında 16°C lik fark vardır.
 D) Trabzon'da ölçülen en düşük ve en yüksek sıcaklık değerleri arasında 7°C lik fark vardır.

10. Bir matematik öğretmeni öğrencilerden günlük elliser soru çözmelerini ve her gün için yaptıkları çizelgenin üzerine kaç soru fazla ya da eksik çözdüklerini yazmalarını istiyor. Örneğin 55 soru çözülen gün çizelgeye +5, 40 soru çözülen gün -10 yazmalarını istiyor.

Ada'nın pazar günü hariç bir hafta içinde çözdüğü soru sayılarını gösteren çizelge aşağıda verilmiştir.

Pazartesi	Salı	Çarşamba	Perşembe	Cuma	Cumartesi	Pazar
-7	+8	-4	-5	+11	-5	

Ada çizelgede verilen hafta için toplamda öğretmenin istediği sayıda soru çözdüğüne göre pazar günü kaç soru çözmüştür?

- A) 47 B) 48 C) 52 D) 53



Birey ve Toplum - 2

1. Kitle iletişim araçlarının en önemli görevlerinden biri de kamuoyu oluşturmaktır.

Aşağıdakilerden hangisi kamuoyu oluşturulmasına örnek gösterilemez?

- A) Kız çocuklarının okula gönderilmesi ile ilgili afişler hazırlanması
- B) Televizyon programlarında organ bağıışı ile ilgili haberlere yer verilmesi
- C) Küçük çocuklar için çizgi filmlerin yayınlanması
- D) Kız çocukları için sanatçıların televizyonlarda eğitim kampanyaları yapmaları

2. Medya araçlarından özellikle televizyon insanları kendilerine bağlayarak, sosyal etkileşimi zayıflatmış, insanların boş zamanlarında birbirleriyle yapabilecekleri fikir alışverişlerini engellemiştir. Böylelikle de birbirinden habersiz, birbirine karşı duyarsız insanlardan oluşan bir toplum oluşmasına yol açmıştır.

Metne göre medya araçlarından televizyonun hangi özelliği üzerinde durulmuştur?

- A) Kamuoyu oluşturma işlevi gördüğü
- B) Farklı kültürler hakkında bilgilerin edinilmesini sağladığı
- C) Dinlendirmek için çeşitli yayınlar sunduğu
- D) Bireyler arası ilişki ve etkileşimi azalttığı

3. Bir medya çalışanının haber yaparken;

- I. İnsan hak ve özgürlüklerini korumak,
- II. Mesleğini şahsi çıkarları için kullanmamak,
- III. Farklı düşünce ve fikirlere saygılı olmak

gibi durumlardan hangilerini dikkate alması gerekmektedir?

- A) I ve II.
- B) I ve III.
- C) II ve III.
- D) I, II ve III.

4.

Madde 28.
Basın hürdür, sansür edilemez.
Devlet, basın ve haber alma hürriyetlerini
sağlayacak tedbirleri alır.

Bu madde ile aşağıdaki özgürlüklerden hangisi arasında bağlantı kurulabilir?

- A) Konut dokunulmazlığı
- B) Düşünce ve ifade özgürlüğü
- C) Özel hayatın gizliliği
- D) Bilim ve sanat özgürlüğü

5. Bir gazeteci, ünlü bir sporcunun tatilde izinsiz olarak fotoğraflarını çekmiş ayrıca fotoğrafı kullanarak sporcunun kaza geçirdiği şeklinde yanlış bir haber yapmıştır.

Bu gazeteci ile ilgili olarak;

- I. konut dokunulmazlığı,
- II. özel yaşamın gizliliği,
- III. doğru haber alma hakkı

gibi durumlardan hangilerini ihlal ettiği söylenebilir?

- A) I ve II.
- B) I ve III.
- C) II ve III.
- D) I, II ve III.

6. Üç çocuğu olan Menekşe Hanım, sabah izlediği televizyon programındaki bir haberin çocukların psikolojilerini olumsuz etkileyeceğinden endişelenmiştir.

Menekşe hanım bu konudaki rahatsızlığını ve şikayetini hangi kuruma iletmelidir?

- A) Sağlık Bakanlığı
- B) Gençlik ve Spor Genel Müdürlüğü
- C) Radyo ve Televizyon Üst Kurulu
- D) Kültür ve Turizm Bakanlığı

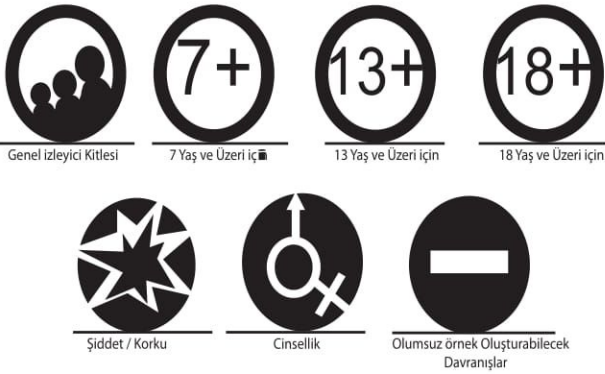
Birey ve Toplum - 2

7. İstanbul'da üniversite öğrencisi olan Çınar, bir gazete haberinde bir yakınının trafik kazası geçirdiğini okur ve hemen ailesini arar, ancak haberin gerçek olmadığını öğrenir.

Buna göre haberi yayınlayan gazete hangi hakkı gözardı etmiştir?

- A) Doğru haber alma hakkı
- B) Özel hayatın gizliliği
- C) Basın ve yayın özgürlüğü
- D) Sağlık hakkı

8.



Yukarıda verilen akıllı işaretlerin amacı hangi şıkta doğru olarak ifade edilmiştir?

- A) Programları daha fazla izletebilmek
- B) Programlar arasında karışıklığı gidermek
- C) İzleyiciyi yayınların olumsuz etkisinden korumak
- D) Yayın saatlerini belirlemek

9. Aşağıda verilen öğrencilerden hangisinin kurmuş olduğu cümle "Ben Dili"ne örnektir?

- A) Veysel : Kitap okurken gürültü yapman, dikkatimi dağıtıyor.
- B) Deren : O davranışları senden hiç beklemezdim.
- C) Mehmet: Senden de yaramazlıklarından da bıktım artık.
- D) Zeynep: Arkadaşlarını rahatsız etmen düşüncesizce davrandığını gösteriyor.

10. Aşağıdakilerden hangisi "Basın Ahlak Yasası" kapsamında değildir?

- A) Gazetenin şahsi taraf tutan kanaatlerine yer verilmez.
- B) Yanlış bilgilerden dolayı gazeteler cevap ve düzeltmeler yapmalıdır.
- C) Ahlaka aykırı yayında bulunulmaz.
- D) Gazeteler duyguları istismar edebilir.

11. Sınıf arkadaşım Şeyma'yı dinlemeye bayılıyorum. O kadar etkili ve güzel konuşuyor ki onu dinledikçe sanki havalara uçuyorum.

Verilen metin aşağıdaki atasözü ve deyimlerden hangisi ile ilişkilendirilebilir?

- A) Bir söyle on dinle
- B) İleri geri konuşmak
- C) Ağızdan bal damlıyor
- D) Bir kulağından girip bir kulağından çıkmak

12. Sosyal medyayı çok sık kullanan Buse, fotoğraflarını sosyal paylaşım sitesindeki hesabından sürekli paylaşıyordu. Fakat bir gün fotoğraflarının kendisinden izin alınmadan başkaları tarafından paylaşıldığını fark etti.

Aşağıdakilerden hangisi Buse'nin sosyal medya kullanımında dikkat etmesi gereken hususlardan biri değildir?

- A) Hiçbir yerde özel bilgiler paylaşılmamalıdır.
- B) Ekranlarda görülen her bilginin doğruluğu mutlaka sorgulanmalıdır.
- C) Kişisel bilgilerin herkese açık görünür şekilde yer almamasına dikkat edilmelidir.
- D) Kullanıcı adı ve şifre bilgilerimizin kolay tahmin edilebilir olmasına dikkat edilmelidir.



Sözcükte Anlam - 1 (Çok Anlamlılık)

1. • İnsanlar ortak tecrübeler taşıdıkları için birbirlerini anlayabilirler.
• Eskiden, hastaları kasabaya kadar sırtımızda taşıydık.
• Bu insanlar içlerinde hep bir suçluluk duygusu taşırlar.
• Büyükbabam gümüş köstekli saatini her zaman yanında taşırdı.

“Taşımak” kelimesi bu cümlelerde aşağıdaki anlamlardan hangisiyle kullanılmamıştır?

- A) Bir şeyi bir yerden alıp başka bir yere götürmek
B) Duymak, hissetmek
C) Bir nesnenin ağırlığını yüklenmek
D) Sahip olmak, özellik olarak bulundurmamak

2. Bir öğretmen, öğrencilerinin “yanmak” sözcüğünü mecaz anlama gelecek şekilde cümle içinde kullanmalarını istemiştir.

Buna göre aşağıdakilerden hangisi bu öğrencilerin söyleyeceği cümlelerden biri olabilir?

- A) Gece oldu, ışıklar yandı, herkes kendi kabuğuna çekildi.
B) Akşama kadar güneş altında kalınca kolları yanmış.
C) Odamız yaz günleri çinko damın altında yanar durur.
D) Müdür, bu konuyla ilgili bir soru sorarsa yandık.

3. “Sade” sözcüğü aşağıdaki cümlelerin hangisinde terim anlamıyla kullanılmıştır?

- A) Çocukların hâleri o kadar sade ve sevimliydi ki imrenmemek mümkün değil.
B) Sade bir dil kullanan şair, şiirlerinde genellikle yalnızlık ve ayrılık konusunu işliyor.
C) Sade, derenin etrafına sıralanan kavak ağaçlarını izlemek bile insanı dinlendiriyor.
D) Sade ve gösterişsiz ortamlardan hoşlanır, her zaman alçak gönüllü olmaya çalışırdı.

4.



Bu grafikte “seçmek” sözcüğünün bazı anlamları ve bir sınıfta “seçmek” sözcüğünü bu anlamlarda kullanan öğrencilerin oranı verilmiştir.

Buna göre aşağıdaki cümlelerden hangisini %15’lik dilime giren öğrencilerden biri söylemiş olabilir?

- A) Yüzüklerden hangisini seçeceğine bir türlü karar veremiyordu.
B) Şairler, karşılıklarına çıkan bu iki yoldan birini seçmek zorundaydı.
C) İnsan zekâsı ile, bir dakika sonra neler olabileceğini seçemiyoruz.
D) Bir de yemek seçme huyun olmasa çok iyi anlaşacağız seninle.

5. Aşağıdakilerin hangisinde altı çizili sözcük, yay ayrıç içinde verilen anlama uygun kullanılmamıştır?

- A) Ne saklayayım gaflet ettiğimi
Elimle batırmışım gençliğimi (Mahvetmek)
B) Birkaç gün önce yağın kar, soğuğu kırmış. (Gücünü, etkisini azaltmak)
C) Yemekler çok güzel, özendiğın belli. (Birini veya bir şeyi taklit etmeye çalışmak)
D) Divan edebiyatı yeniden dirilecek mi, bilmiyorum. (Etkin olmak, geçerli duruma gelmek)

Sözcükte Anlam - 1 (Çok Anlamlılık)

6. En yüksek rakımlı yaylası, iki bin metre ile Dereli Bektaş Yaylası olan Giresun'da kırka yakın yayla bulunuyor. Bu yaylalar nefesinizi ve zihninizi tazeliyor. Muhteşem bir gün batımı izlemek için şehrin simgelerinden olan Giresun Kalesi kaçırılmaz bir fırsat.

Bu parçada numaralanmış sözcüklerin anlam özelliği aşağıdakilerin hangisinde doğru verilmiştir?

I	II	III
A) Gerçek	Mecaz	Terim
B) Terim	Mecaz	Gerçek
C) Mecaz	Terim	Gerçek
D) Terim	Gerçek	Mecaz

7. Aşağıdaki cümlelerden hangisinde "içgüdü, sezgi" anlamında kullanılan bir sözcük vardır?

- A) Boğaz'ın sisle kaplı olduğunu, ön güvertede bir yer bulup oturunca fark etmişti.
B) Bu sözlerde gerçek payı ne kadar çoksa duygu payı da o kadar çoktur.
C) Hikmet Bey'in kurum ve edası, her zamankinden belki yüz kat fazlaydı.
D) Yurt sevgisinin yüce boyutlarını analık radarı ile pek iyi ölçebiliyordu.

8. Muhsin Çelebi bir gün Tebriz Kalesi'ne büyük bir gösterişle girdi. Bu küçük başkentin süse, zenginliğe, renge, süs

eşyasına tutkun halkı, İstanbul elçisinin kaftanını görünce

şaşırdı. Şah, kendisinin hayatında hiç görmediği bir kaftana sahip olan bu zengin elçiye karşı derin bir öfke duydu.

Onu sözleriyle ezmeye karar verdi.

Bu parçada numaralanmış sözcüklerden hangileri gerçek anlamıyla kullanılmıştır?

- A) I ve II. B) I ve III.
C) II ve IV. D) III ve IV.

9. Aşağıdaki cümlelerde altı çizili sözcüklerden hangisi mecaz anlamda kullanılmıştır?

- A) Okuru saran şiir, öykü ve romanlar mutlaka başarıyı yakalar.
B) Bu eser günümüz edebiyat dünyasının seçkin isimlerini değerlendiriyor.
C) Okuryazarlık, insanı güçlü bir bilince taşıyan gizemli bir kuvvettir.
D) Karşı dağlardan gelen serin rüzgâr, vadideki ağaçların arasında dolaşiyor.

10. Her oda ayrı bir dünyadır. Hepsinde ayrı duygular yaşar insan. Farklı anıları vardır her birinde. Eve ayak bastığın-

da ilk önce ayakkabısını koyar ayakkabılığa. Varsa çantasını ve elindeki poşetleri bir kenara... Kendini güvende

hisseder, sevinçle dolaşır evin içinde. Huzur bulmak istediği veya bulduğu yuvasına kavuşmuştur çünkü.

Bu parçada numaralanmış sözcüklerden üçünün anlamı aşağıda verilmiştir.

- Dirlilik, baş dinçliği, gönül rahatlığı.
- Geçmişte yaşanmış çeşitli olaylardan belleğin sakladığı her türlü iz.
- Genellikle ailenin oturduğu ev.

Buna göre kaç numaralı sözcüğün anlamı verilmiştir?

- A) I. B) II. C) III. D) IV.

11. Bu tümsek, koparken büyük zelzele, Son vatan parçası geçerken ele Mehmet'in düşmanı boğduğu sele Mübarek kanını kattığı yerdir.

Bu dördlükteki altı çizili sözcüğün anlamı aşağıdaki-lerden hangisidir?

- A) Herhangi bir yerinden ikiye ayrılmak
B) Bütün ilişkileri kesip büsbütün uzaklaşmak
C) Bir durum veya nitelik çok belirgin olarak görünmek
D) Birdenbire gürültülü ve tehlikeli olaylar başlamak

