

MEB ÖRNEK SORULAR

1. $|a|$, 1 veya 1'den büyük, 10'dan küçük bir gerçekte sayı ve n bir tam sayı olmak üzere $a \cdot 10^n$ gösterimi bilimsel gösterimdir.

Ağaçlar yaptıkları karbondioksit emilimi nedeniyle küresel ısınmanın etkilerini azaltmak ya da ortadan kaldırmak için oldukça önemlidir. Yetişkin bir ağacın bir saatte ortalama 2,3 kg karbondioksit emilimi yaptığı bilinmektedir.



Milli Eğitim Bakanlığı ile Tarım ve Orman Bakanlığı arasında imzalanan iş birliği protokolü gereğince 6 Kasım 2018 tarihinde "Fidanlar, Fidanlarla Büyüyor!" projesi kapsamında 81 ilde eş zamanlı olarak 10 milyon fidan dikimi yapılmıştır.

Proje kapsamında dikilen 10 milyon fidanın tamamının yetişkinliğe erişmesi durumunda bir saatte yapacağı ortalama karbondioksit emilimi miktarının ton cinsinden bilimsel gösterimi aşağıdakilerden hangisidir? (1 ton = 1000 kg)

A) $2,3 \cdot 10^4$

B) $2,3 \cdot 10^5$

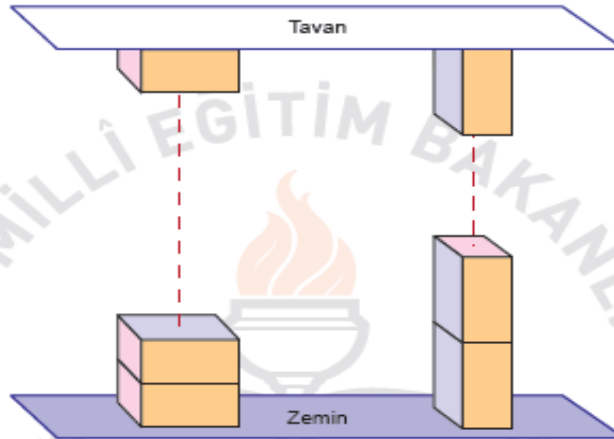
C) $2,3 \cdot 10^6$

B) $2,3 \cdot 10^7$

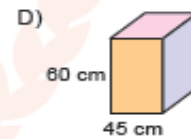
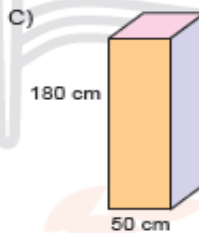
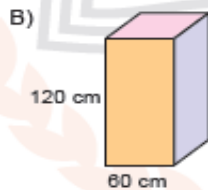
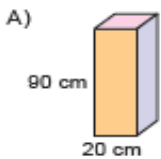
2.



Yukarıdaki kare dik prizma şeklindeki koliler herhangi bir yüzeyi üzerinde üst üste konularak hiç boşluk kalmadan yüksekliği 3 metreden az olan bir soğuk hava deposunda tavana kadar yerleştirilebilmektedir.



Aynı soğuk hava deposunda bu işlem aşağıdaki kare dik prizma şeklindeki kolilerden hangisi ile de yapılabilir?



3. Maraton, 42 195 metrelik bir koşu yarışıdır. Bir maraton koşusunda yarışmacıların su ve gıda ihtiyaçlarını karşılamak amacıyla yolun sol tarafına eşit aralıklarla su istasyonları, sağ tarafına ise eşit aralıklarla gıda istasyonları kurulacaktır. Yarışın bittiği noktada her iki istasyonun da karşılıklı birer tane olması istenmektedir.

Bu istasyonların aralarındaki mesafeler aşağıdaki seçeneklerin hangisindeki gibi olursa karşılıklı istasyon sayısı en az olur?

Su Takviye İstasyonu	Gıda Takviye İstasyonu
A) Her 2,5 km'de bir	Her 3,5 km'de bir
B) Her 2,5 km'de bir	Her 4,5 km'de bir
C) Her 3 km'de bir	Her 4 km'de bir
D) Her 3 km'de bir	Her 4,5 km'de bir

4. $a \neq 0$ ve m, n birer tam sayı olmak üzere $\frac{a^n}{a^m} = a^{n-m}$ dir.

A, B, C, D mikroorganizmaları mikroskop altında büyütülerek ayrı ayrı incelenmiştir.

Aşağıdaki tabloda bu mikroorganizmaların gerçek büyüklükleri ile mikroskopta görülen büyüklükleri verilmiştir.

Tablo: Bazı Mikroorganizmaların Gerçek Büyüklükleri İle Mikroskopta Görülen Büyüklükleri

	Gerçek Büyüklük (mm)	Mikroskopta Görülen Büyüklük (mm)
A mikroorganizması	$2,5 \cdot 10^{-1}$	3,75
B mikroorganizması	$3 \cdot 10^{-2}$	3
C mikroorganizması	$1 \cdot 10^{-4}$	0,1
D mikroorganizması	$2 \cdot 10^{-3}$	2,4

Bu inceleme sırasında hangi canlı için kullanılan büyütme oranı en küçüktür?

- A) A mikroorganizması
B) B mikroorganizması
C) C mikroorganizması
D) D mikroorganizması

5. a ve b birer doğal sayı olmak üzere $a\sqrt{b} = \sqrt{a^2b}$ dir.

Alanı 28 m^2 olan kare şeklindeki bir bahçenin çevresine 2 sıra tel çekilecektir. Telin metre fiyatı satın alınacak miktara göre değişiklik göstermektedir. Telin metre fiyatları aşağıdaki tabloda gösterilmiştir.

Tablo: Tel Miktarına Göre Metre Fiyatları

Tel Miktarı	Metre Fiyatı
20 m den az	15 TL
20 - 39 m	14,5 TL
40 - 59 m	14 TL
59 m den fazla	13,5 TL

Bu iş için kullanılacak telin metresi kaç lira olur?

- A) 13,5 B) 14 C) 14,5 D) 15


6. Eylül Hanım, kredi kartı için her hanesinde bir rakam olan dört haneli bir şifre belirleyecektir. Bunun için soldan sağa doğru ilk haneye yazdığı rakamın karesini ikinci haneye ve ikinci haneye yazdığı rakamın karesini son iki haneye yazarak şifresini oluşturuyor.

Eylül Hanım'ın oluşturduğu şifrenin son rakamı 6 olduğuna göre ilk rakamı kaçtır?

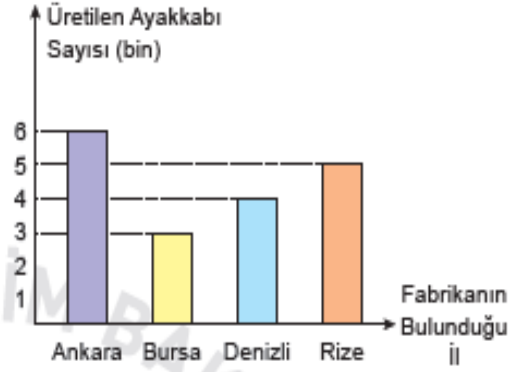
- A) 1 B) 2 C) 3 D) 4

7. Aşağıda ayakkabı üretimi yapan bir firmaya ait 4 farklı ildeki fabrikalarda çalışan işçi sayıları dairesel grafikte ve bu fabrikalarda aralık ayı boyunca üretilen toplam ayakkabı sayıları ise sütun grafiğinde gösterilmiştir.

Grafik: Farklı İllerdeki Fabrikalarda Çalışan İşçi Sayıları



Grafik: Farklı İllerdeki Fabrikalarda Aralık Ayında Üretilen Ayakkabı Sayıları



Buna göre hangi ildeki fabrikada işçi başına üretilen ayakkabı sayısı en fazladır?

- A) Ankara B) Bursa C) Denizli D) Rize

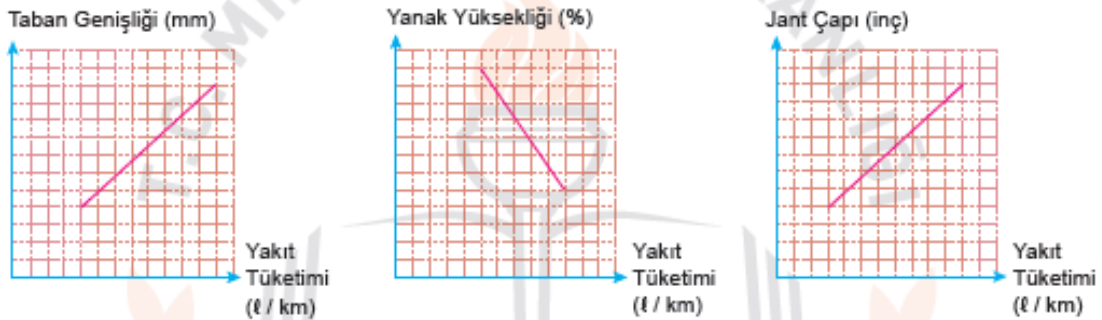
8. Aşağıda Mehmet'in aracının lastiklerinin taban, yanak, jant bölümleri ve bunların ölçüleri verilmiştir.



Tablo : Mehmet'in Aracının Lastik Ölçüleri (190/55/R16)

Lastik Taban Genişliği (mm) (A)	Lastik Yanak Yüksekliği (%) (B)	R – Jant Çapı (inç) (C)
190	55	R16

Aşağıdaki grafiklerde bu ölçülerin değişiminin yakıt tüketimine etkisi gösterilmektedir.



Buna göre Mehmet, aracının lastiklerini aşağıda ölçüleri verilen lastiklerden hangisi ile değiştirirse aracının yakıt tüketiminde azalma olur?

- A) 190/55/R17 B) 190/50/R16 C) 195/55/R16 D) 190/60/R16

9. Bir olayın olma olasılığı = $\frac{\text{İstenilen olası durumların sayısı}}{\text{Tüm olası durumların sayısı}}$

Bir otelde yapılacak çekiliş sonucunda rastgele seçilen bir müşteriye sürpriz hediyeler verilecektir. Bu otelde konaklayan kadın müşterilerin sayısı, erkek müşterilerin sayısından fazladır.

Otele 5 evli çift daha gelmiş ve bu müşteriler de yapılacak olan çekilişe dahil edilmiştir.

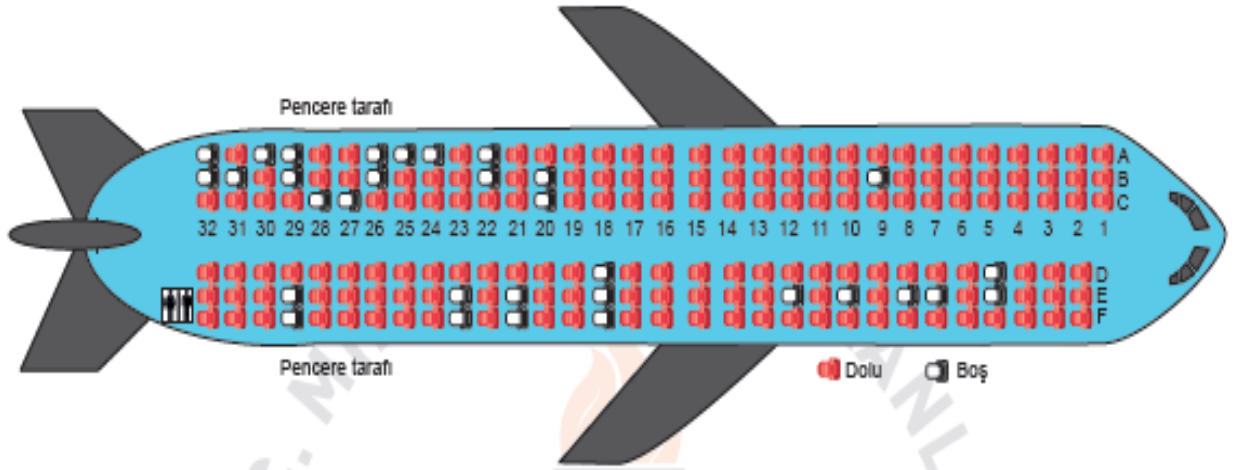
Buna göre yeni gelen müşterilerden sonra yapılacak olan çekilişi kazanan kişinin erkek veya kadın olma olasılığı ile ilgili aşağıdakilerden hangisi doğrudur?

- A) Kadın olma olasılığı artmıştır.
- B) Erkek olma olasılığı artmıştır.
- C) Erkek olma olasılığı azalmıştır.
- D) Kadın olma olasılığı değişmemiştir.

10. Bir olayın olma olasılığı = $\frac{\text{İstenilen olası durumların sayısı}}{\text{Tüm olası durumların sayısı}}$

Uçak ile Ankara'dan Trabzon'a gidecek olan Kerem ve dedesi havaalanına gelmiş ve uçakta oturacakları koltukları belirlemek için gişe memurunun yanına gitmişlerdir. Kerem gişe memuruna dedesi ile yan yana, dedesi ise pencere kenarına oturmak istediğini söylemiştir.

Aşağıdaki görselde dolu koltuklar "kırmızı", boş koltuklar ise "beyaz" renkle gösterilmiştir.



Gişe memuru boş koltuklar arasından her ikisinin de isteğine uyan iki koltuğu rastgele seçip onlara vermiştir.

Buna göre gişe memurunun Kerem'e 26B numaralı koltuğu verme olasılığı kaçtır?

- A) $\frac{1}{2}$
- B) $\frac{1}{4}$
- C) $\frac{1}{8}$
- D) $\frac{1}{16}$

11. Bir olayın olma olasılığı = $\frac{\text{İstenilen olası durumların sayısı}}{\text{Tüm olası durumların sayısı}}$

Aşağıda üzerine 1'den n'ye kadar olan sayma sayıları yazılı olan kartlar verilmiştir.



Bu kartların arasından rastgele çekilen bir kartın üzerinde yazan sayının asal sayı olma olasılığı $\frac{1}{2}$ 'dir.

Buna göre n en çok kaçtır?

- A) 6
- B) 8
- C) 10
- D) 12

12. Bir olayın olma olasılığı = $\frac{\text{İstenilen olası durumların sayısı}}{\text{Tüm olası durumların sayısı}}$

Aşağıda bir mağazanın düzenlediği bahar kampanyası kapsamında müşterilerine sunduğu 3 farklı indirim seçeneği ile ilgili bilgileri içeren görsel verilmiştir.



Bu mağazada alışveriş yapan müşteriler, ödeme yapmak için kasaya geldiklerinde bu 3 indirim seçeneğinden istedikleri birini seçmektedirler. Mert bu mağazadan tanesi 30 TL olan tişörtlerden 3 tane alıyor ve kasaya geldiğinde bu seçeneklerden birini rastgele seçiyor.

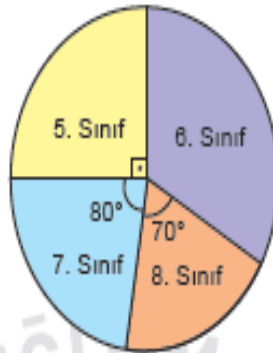
Bu durumda Mert'in aldığı tişörtlerin tanesini 20 liradan almış olma olasılığı kaçtır?

- A) 0 B) $\frac{1}{3}$ C) $\frac{2}{3}$ D) 1

13. Bir olayın olma olasılığı = $\frac{\text{İstenilen olası durumların sayısı}}{\text{Tüm olası durumların sayısı}}$

Aşağıdaki daire grafiğinde Cumhuriyet Ortaokulu öğrencilerinin sınıf düzeylerine göre dağılımı verilmiştir.

Grafik: Sınıf Düzeylerine Göre Öğrenci Dağılımı



Cumhuriyet Ortaokulunda 23 Nisan Ulusal Egemenlik ve Çocuk Bayramı'nda konuşma yapması için ortaokul öğrencileri arasından biri rastgele seçilecektir. Bu okulda 6. sınıfta öğrenim gören kız öğrenci sayısı erkek öğrenci sayısından azdır.

Buna göre seçilen öğrencinin 6. sınıfta öğrenim gören bir kız öğrenci olma olasılığı aşağıdakilerden hangisi ola-
maz?

- A) $\frac{1}{12}$ B) $\frac{1}{10}$ C) $\frac{1}{8}$ D) $\frac{1}{6}$

14. Bir olayın olma olasılığı = $\frac{\text{İstenilen olası durumların sayısı}}{\text{Tüm olası durumların sayısı}}$

Ahmet, Burcu ve Emine'nin de içinde olduğu bir grup sporcu yarıyıl tatilinde Antalya'ya kampa gitmiştir. Kalacakları otelde tek numaralı odalar deniz, çift numaralı odalar kara manzaralıdır.

		DENİZ				
KAT PLANI		1	3	5	7	9
		2	4	6	8	10
		KARA				

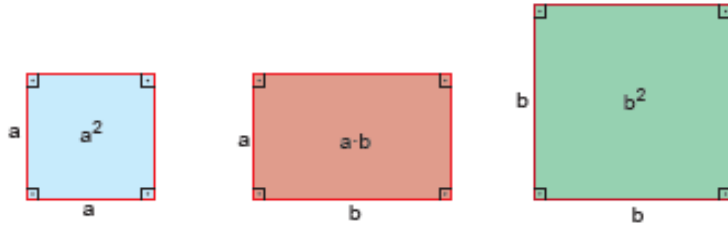
Otele erken giriş yapan Burcu ve Emine aynı katta bulunan deniz manzaralı farklı odalara yerleşmişlerdir.

Daha sonra gelen Ahmet ise deniz manzaralı odalar dolu olduğundan Burcu ve Emine ile aynı katta bulunan tamamı boş olan kara manzaralı odalardan birine rastgele yerleşmiştir.

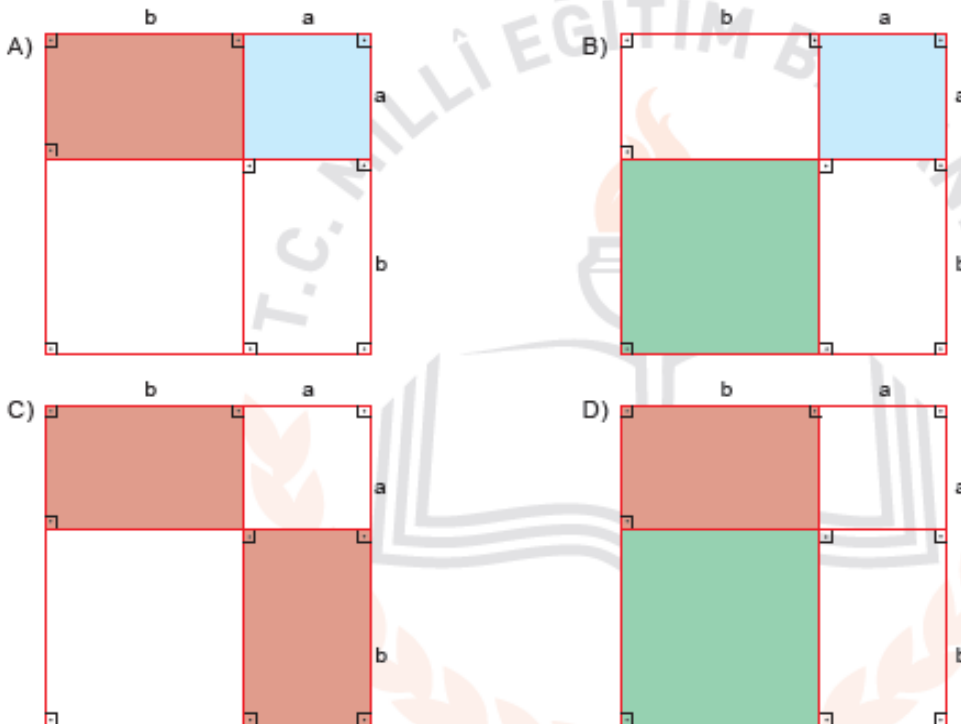
Ahmet'in odasının Burcu'nun veya Emine'nin odasının tam karşısında olmama olasılığı kaçtır?

- A) $\frac{1}{3}$ B) $\frac{3}{5}$ C) $\frac{3}{10}$ D) $\frac{1}{5}$

15. Aşağıda kenar uzunlukları verilen kartonların içlerine alanları yazılmıştır.



Buna göre aşağıdaki şekillerin hangisinde boyalı bölgelerin alanları toplamı $(a + b)^2 - 2ab$ cebirsel ifadesine eşittir?



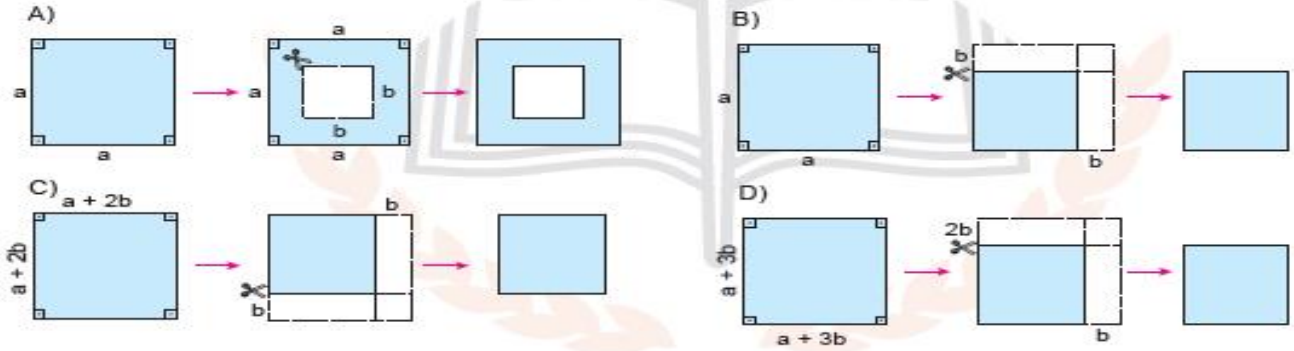
16. Aşağıdaki infografik, EBA (Eğitim Bilişim Ağı)'dan alınmıştır.



Önemli Özdeşlikler / Matematik



Aşağıda verilen şekillerden hangisinin alanı infografikte verilen özdeşliklerden biri ile ifade edilemez?



17. Aşağıda bazı şekiller ve bu şekillerin ifade ettiği işlemler verilmiştir.

: İçine yazılan ifadeyi, bu ifadenin kendisi ile çarpar.

: Üçgenel bölgelerin içine yazılan ifadeleri birbiri ile çarpar.

: ve işlemlerinden elde edilen sonuçları toplar.

Örnek:

: $2m \cdot 2m = 4m^2$

: $3m \cdot 4n = 12mn$

: $4m^2 + 12mn$

Buna göre aşağıdaki işlemlerden hangisinin sonucu $(2x + 3)^2$ ifadesine eşittir?

A)

B)

C)

D)

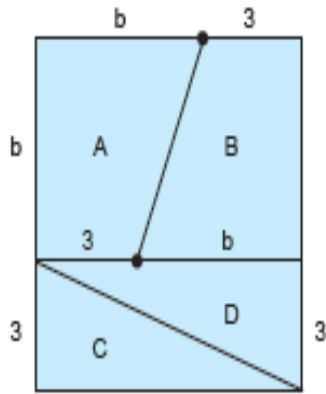
18. Aşağıda kısa kenarı $(4x + 16)$ m, uzun kenarı $(6x + 18)$ m olan dikdörtgen şeklindeki bir konser alanının krokisi verilmiştir. Alanları eşit 6 sıradan oluşan bu konser alanında sıra numarası tek olan bölgeler 4 eş parçaya, sıra numarası çift olan bölgeler 2 eş parçaya ayrılmıştır.

6. sıra	R Blok		S Blok	
5. sıra	M blok	N blok	O Blok	P Blok
4. sıra	K Blok		L Blok	
3. sıra	G Blok	H Blok	I Blok	J Blok
2. sıra	E Blok		F Blok	
1. sıra	A Blok	B Blok	C Blok	D Blok

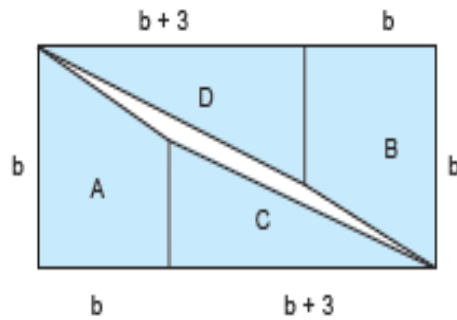
Konser alanında yer alan K ve P bölgelerinin alanları arasındaki fark metrekare cinsinden aşağıdaki cebirsel ifadelerden hangisine eşittir?

- A) $x^2 + 6x + 9$ B) $x^2 + 7x + 12$ C) $x^2 + 8x + 16$ D) $x^2 + 9x + 20$

19.



Şekil I



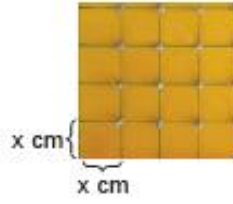
Şekil II

Kare şeklindeki pano Şekil I'de gösterildiği gibi 4 parçaya ayrılıyor. Daha sonra elde edilen bu parçalar Şekil II'deki gibi birleştirilerek bir dikdörtgen elde ediliyor. Elde edilen dikdörtgende parçaların arasında birleşmeyen bir bölgenin kaldığı gözleniyor.


Buna göre Şekil II'de elde edilen dikdörtgende parçalar arasında kalan bölgenin alanını gösteren cebirsel ifade aşağıdakilerden hangisidir?

- A) $b^2 + 3b + 9$ B) $b^2 + 3b - 9$ C) $b^2 - 3b + 9$ D) $b^2 - 3b - 9$


20. Geometri tahtası bir zeminin üzerine eşit aralıklarla yerleştirilmiş çivilerden oluşur.



Kuzey ve Duru, matematik dersi için proje ödevi olarak birer geometri tahtası yapmışlardır. Kuzey'in yaptığı geometri tahtasındaki çiviler arasındaki uzaklık, Duru'nun yaptığı geometri tahtası üzerindeki çiviler arasındaki uzaklıktan 1'er cm daha fazladır.



Kuzey'in hazırladığı geometri tahtası



Duru'nun hazırladığı geometri tahtası

Her ikisi de hazırladıkları geometri tahtası üzerinde eşit sayıda çivi çevreleyen karesel bölgeler gösteriyorlar.

Kuzey'in hazırladığı geometri tahtasında gösterdiği karenin alanı a^2 santimetrekare olduğuna göre Duru'nun hazırladığı geometri tahtasında gösterdiği karenin santimetrekare cinsinden alanını gösteren cebirsel ifade aşağıdakilerden hangisidir?

- A) $a^2 - 4a + 4$ B) $a^2 - 6a + 9$ C) $a^2 - 8a + 16$ D) $a^2 - 12a + 36$

FEN BİLİMLERİ

Fen Bilimleri Örnek Soruları

1. Aşağıdaki tabloda iki şehrin aynı yıl içinde hesaplanan aylık ortalama sıcaklık değerleri "°C" cinsinden verilmiştir.

Aylar	Ocak	Şubat	Mart	Nisan	Mayıs	Haziran	Temmuz	Ağustos	Eylül	Ekim	Kasım	Aralık
Şehirler												
I	8	13	18	20	23	25	27	22	15	10	6	3
II	-15	-12	-6	3	10	17	23	18	12	5	-8	-12

Buna göre bu şehirlerle ilgili aşağıdakilerden hangisine ulaşamaz?

- A) Yer aldıkları yarım küreler
B) Yıllık ortalama sıcaklık değerleri
C) Günlük ortalama sıcaklık değerleri
D) Yaz mevsiminin yaşandığı aylar

2. "Karadeniz açıklarındaki kuru yük gemileri ve Karadeniz'de avlanan balıkçı tekneleri, meteorolojinin şiddetli fırtına ve poyraz uyarısı ile İnebolu Limanı'na sığındı. Balıkçılar, geçmiş yıllarda bu kadar kötü hava koşullarıyla karşılaşmadıklarını ancak bu yıl şiddetli poyraz nedeniyle denize açılmadıklarını belirttiler."

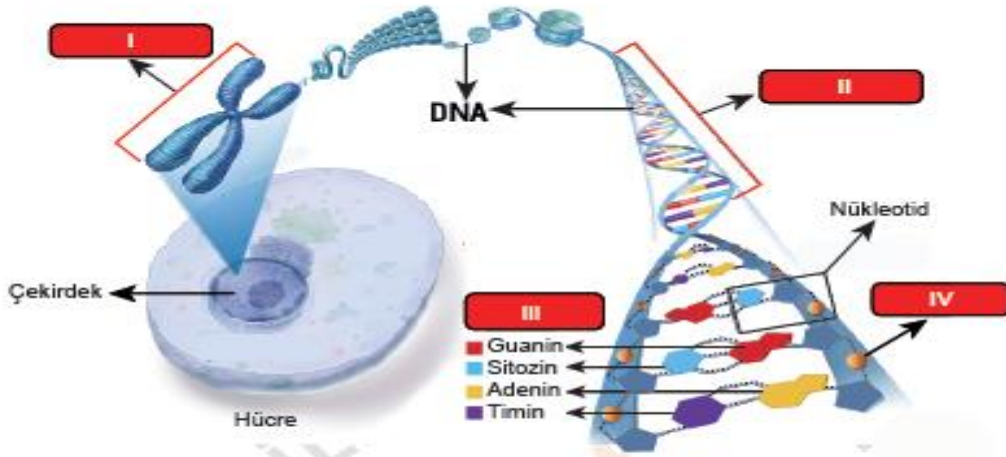
Bu haber metnine göre hava durumu ile ilgili;

- I. insanların yaşamsal faaliyetlerini etkilediği,
- II. değişken olabileceği,
- III. iklimin genel özellikleriyle ters düşmeyeceği

çıkarımlarından hangilerine ulaşılabilir?

- A) I ve II. B) I ve III.
C) II ve III. D) I, II ve III.

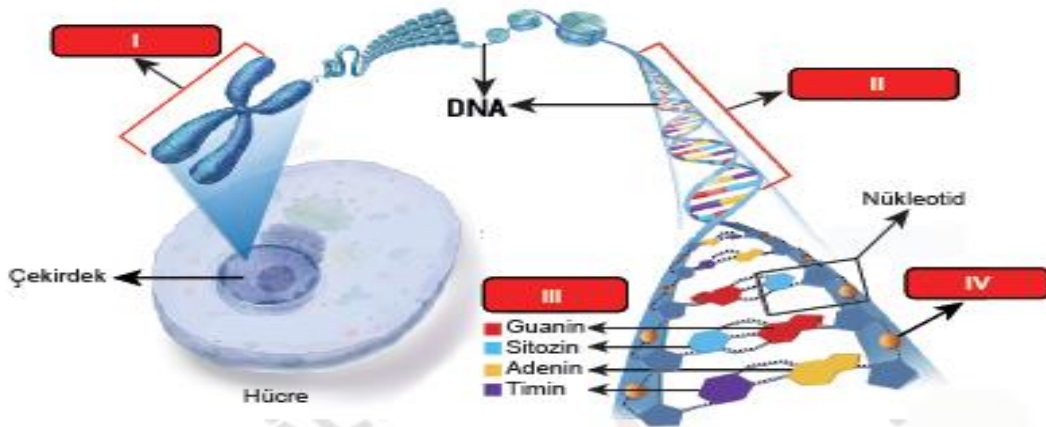
3. Aşağıda hücre çekirdeğinde bulunan kalıtsal materyaller arasındaki ilişki gösterilmiştir.



Buna göre numaralanmış yapılarla ilgili aşağıdakilerden hangisi yanlıştır?

- A) I, farklı canlı türlerinde farklı sayılarda bulunabilir.
B) II, belirli bir karakterden sorumlu bir geni ifade ediyor olabilir.
C) III ile gösterilen moleküller, tüm canlıların DNA'larında da bulunur.
D) IV ile gösterilen molekül, tüm canlı türlerinde farklılık gösterir.

3. Aşağıda hücre çekirdeğinde bulunan kalıtsal materyaller arasındaki ilişki gösterilmiştir.



Buna göre numaralanmış yapılarla ilgili aşağıdakilerden hangisi yanlıştır?

- A) I, farklı canlı türlerinde farklı sayılarda bulunabilir.
B) II, belirli bir karakterden sorumlu bir geni ifade ediyor olabilir.
C) III ile gösterilen moleküller, tüm canlıların DNA'larında da bulunur.
D) IV ile gösterilen molekül, tüm canlı türlerinde farklılık gösterir.

4. Esra Öğretmen, görseldeki DNA'nın kendini eşlemesi sırasında yeni oluşan K ipliğinin "1. Zincir", yeni oluşan L ipliğinin ise "2. Zincir" in kopyası olduğunu öğrencilerine anlatıyor.



Bu görsel ile ilgili öğrenciler tarafından yapılan;

- I. Yeni oluşan K ve L ipliklerinin nükleotid dizilişleri birbirinden farklıdır.
- II. DNA'nın 1 ve 2. zincirlerinin nükleotid dizilişleri aynıdır.
- III. Eşlenme tamamlandığında birbirinin aynısı olan iki DNA sarmalı oluşur.

yorumlarından hangileri doğrudur?

- A) Yalnız II. B) I ve II.
C) I ve III. D) I, II ve III.
5. Aşağıdaki görselde bir erkek kemancı yengeci verilmiştir.



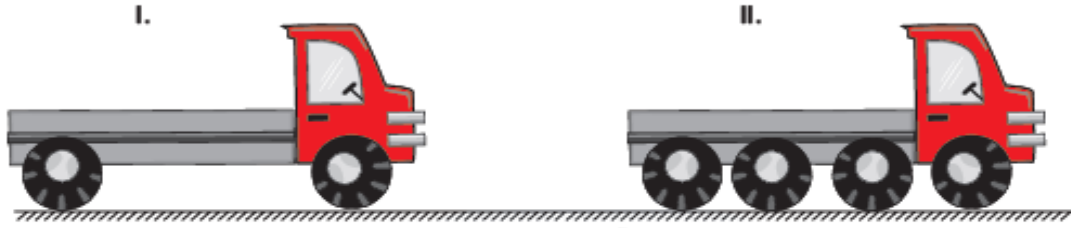
Erkek kemancı yengecinin kısıkaçlarından biri, vücut kütesinin yarısına kadar gelişebilmektedir. Diğer kısıkaçı ise havaya kaldırdığı büyük kısıkaçtan çok daha küçüktür. Büyük kısıkaçını havada sallaması, kendisine yaklaşan diğer erkek yengeç ve avcılarını geri püskürtür. Bu hareket aynı zamanda dişi yengeçlerin dikkatini çekerek üremesine yardımcı olur. Ayrıca yengecin gözlerinin, başının yukarısındaki saplarda yer alması da onun, avcılarını çok uzaktan görebilmesini sağlar. Dolayısıyla bu yengeçlerin kısıkaçları ve gözleri, onun hayatta kalmasını ve soyunun devamını sağlayan en önemli özellikleridir.

Bu metne göre erkek kemancı yengeçleri ile ilgili aşağıdakilerden hangisi yanlıştır?

- A) Büyük kısıkaca ve farklı gözlere sahip olması, bulunduğu çevreye uymasını kolaylaştırmıştır.
- B) Gözlerinin konumlanma biçimi, avcılarından korunmasına yardımcı olmuştur.
- C) Büyük kısıkaca sahip olması, uygun dişi bireyler tarafından seçilmesini kolaylaştırmıştır.
- D) Büyük kısıkaçı ve gözlerinin konumu kalıtsal olmayıp çevrenin etkisiyle ortaya çıkmıştır.

6. Katı maddeler, ağırlıkları nedeniyle buldukları yüzeye kuvvet uygular ve bu kuvvetin etkisiyle basınç oluşur. Katıların buldukları yüzeye uyguladıkları basıncın büyüklüğü; uyguladıkları kuvvet ile doğru, temas ettikleri yüzey alanı ile ters orantılıdır.

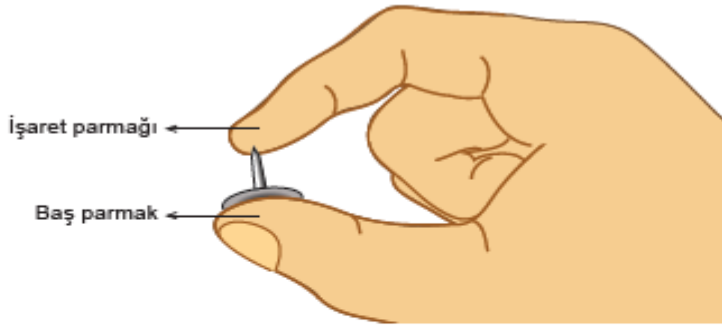
Günlük hayatta bazı durumlarda basıncın az olması istenir.



Yumuşak, ıslak zeminli bir arazide, yük taşımak için kullanılan şekildeki I. kamyon yerine, teker sayısı dışında tüm özellikleri aynı olan II. kamyon tercih edilir.

Bu tercih ile aynı gerekçeye sahip olan uygulama aşağıdakilerden hangisidir?

- A) İnce dokulu kumaştan elbise dikerken ince uçlu iğne kullanılması
B) Islak kum üzerinde duran boş kovanın, içine su dolduruldukça kuma gömülmesi
C) Karlı bir yolda kar ayakkabısı ile daha rahat yürünmesi
D) Bıçağın daha iyi kesmesi için keskin tarafının bilinmesi
7. Katı maddeler, buldukları yüzeye uyguladıkları kuvvetin etkisiyle basınç oluşturur.

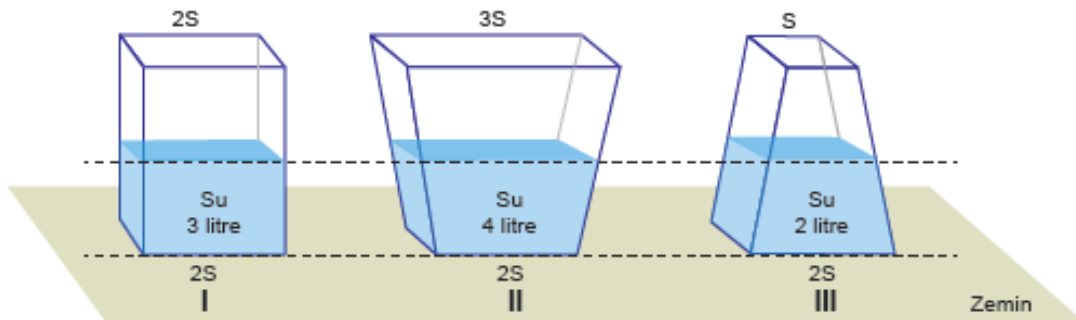


Bir raptiyeyi şekilde görüldüğü gibi baş parmağımız ile işaret parmağımız arasına yerleştirip yavaşça sıktığımızda raptiyenin sivri ucunun değdiği işaret parmağımızda acı duyarız ancak baş parmağımızda acı hissetmeyiz.

Bu durum aşağıdakilerden hangisi ile açıklanır?

- A) Raptiyenin işaret parmağımıza uyguladığı basıncın, baş parmağımıza uyguladığı basınçtan daha küçük olması
B) Raptiyenin baş parmağımızla temas eden yüzeyinin, işaret parmağımızla temas eden yüzeyinden büyük olması
C) Raptiyenin, işaret ve baş parmağımıza uyguladığı kuvvetlerin yönlerinin farklı olması
D) Baş parmağımızın işaret parmağımıza göre acıya daha duyarlı olması
8. Katı maddeler ağırlıkları nedeniyle buldukları yüzeye kuvvet uygular ve bu kuvvetin etkisiyle basınç oluşur. Bu basıncın büyüklüğü zemine uygulanan kuvvete ve temas eden yüzey alanına bağlı olarak değişir.

Şekilde boş ağırlıkları birbirine eşit olan kaplara aşağıda belirtilen miktarlarda su doldurulmuştur.



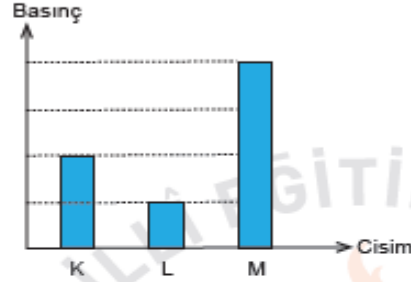
Buna göre, bu kapların zemine uyguladıkları katı basınçları arasındaki ilişki aşağıdakilerin hangisinde doğru verilmiştir?

- A) $I > II > III$
B) $II > I > III$
C) $III > I > II$
D) $I = II = III$

9.

- Katı maddeler ağırlıkları nedeniyle buldukları yüzeye bir kuvvet uygular ve basınç oluşturur.
- Katı maddelerin basıncının büyüklüğü, yüzeye uyguladıkları kuvvet ile doğru orantılıdır.
- Katı maddelerin basıncının büyüklüğü, kuvvet uyguladıkları yüzeyin alanı ile ters orantılıdır.

Özdeş tuğlalar kullanılarak yapılan bir deneyde, tuğla sayısı veya temas yüzeyleri değiştirilerek oluşturulan K, L ve M cisimlerinin yere uyguladıkları basınçların büyüklükleri aşağıdaki grafikte gösterilmiştir.

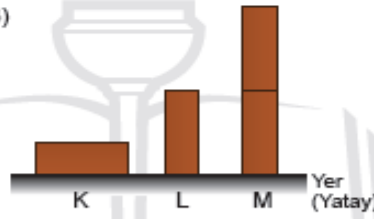


Buna göre bu cisimlerin yer üzerindeki duruş biçimleri aşağıdakilerden hangisidir?

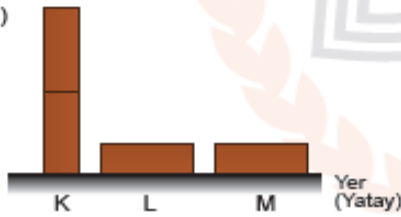
A)



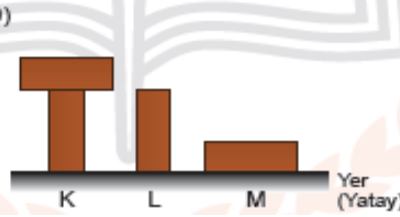
B)



C)



D)



10.

- Katı maddeler, ağırlıkları nedeniyle buldukları yüzeye bir kuvvet uygular ve basınç oluşturur.
- Katı maddelerin basıncının büyüklüğü, yüzeye uyguladıkları kuvvet ile doğru orantılıdır.
- Katı maddelerin basıncının büyüklüğü, kuvvet uyguladıkları yüzeyin alanı ile ters orantılıdır.



Park bekçisi parkta gezerken toprak zemin üzerinde duran aynı boydaki geri dönüşüm kutularının tamamen dolmuş olduğunu ve L kutusunun zemine biraz batmış olduğunu fark ediyor.

Buna göre;

- L kutusunu, yere temas eden yüzeyi daha büyük olan başka bir kutu ile değiştirmek,
- L kutusunun içindeki atık miktarını azaltmak,
- L kutusunu, boyu K kutusundan daha uzun olan başka bir kutu ile değiştirmek

işlemlerinden hangileri yapılmış olsaydı L kutusunun toprağa batması engellenebilirdi?

A) Yalnız I.

B) I ve II.

C) II ve III.

D) I, II ve III.

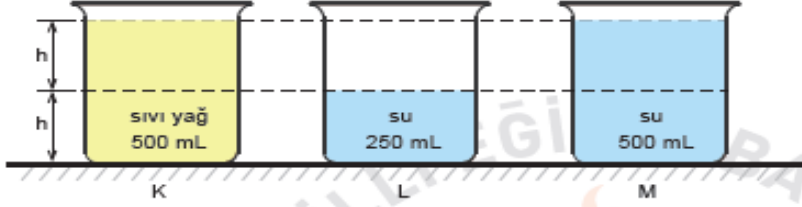
11. Sıvı basıncına etki eden faktörleri gözlemlemek isteyen Burak, aşağıdaki hipotezleri kuruyor:

1. hipotez : Sıvının basıncı, sıvının yoğunluğu ile doğru orantılıdır.
2. hipotez : Sıvının basıncı, sıvının derinliği ile doğru orantılıdır.

Burak bu hipotezlerini test etmek için;

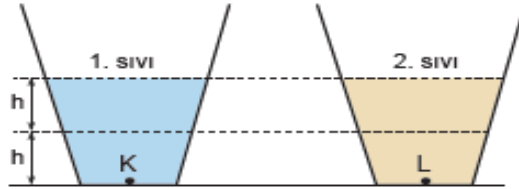
- 3 adet 500 mL'lik özdeş beherglas,
- Yeterli miktarda sıvı yağ ve su

kullanarak deney düzeneklerini şekildeki gibi oluşturuyor.



Burak'ın deneyinde yaptığı işlemlerden hangisi hipotezlerini test etmek için gerekli değildir?

- A) 1. hipotezi için, K ve M kaplarının tabanındaki sıvı basınçlarını ölçerek karşılaştırmıştır.
 - B) 2. hipotezi için, L ve M kaplarının tabanındaki sıvı basınçlarını ölçerek karşılaştırmıştır.
 - C) 1. hipotezi için, K kabındaki yağı yarıya boşaltarak, K ve L kaplarındaki sıvı basınçlarını ölçerek karşılaştırmıştır.
 - D) 2. hipotezi için, M kabındaki suyun yarıya boşaltarak, K ve M kaplarındaki sıvı basınçlarını ölçerek karşılaştırmıştır.
12. Tüm sıvılar, içinde buldukları kabın her tarafına yoğunlukları ve yükseklikleri ile doğru orantılı olarak basınç uygular. Aşağıdaki özdeş kaplar aynı yükseklikte, farklı cins sıvılarıyla doldurulmuştur.



Buna göre, kapların tabanlarındaki K ve L noktalarına uygulanan sıvı basınçlarının büyüklükleriyle ilgili,

- I. 1. sıvının yoğunluğu, 2. sıvının yoğunluğunun iki katı ise K noktasındaki basınç L'dekininki iki katıdır.
- II. 2. sıvının miktarı iki katına çıkarılırsa L noktasına uygulanan sıvı basıncı da iki katına çıkar.
- III. 1. sıvı, h seviyesine kadar boşaltılırsa K noktasındaki sıvı basıncı yarıya düşer.

yargılarından hangileri doğrudur?

- A) Yalnız I.
 - B) Yalnız II.
 - C) I ve III.
 - D) I, II ve III.
13. Açık hava basıncı, atmosfer tabakasındaki gazlardan kaynaklanır ve bu basınç, içinde bulunan bütün cisimlere her yönde etki eder.

Açık hava basıncının etkilerini öğrencilerine göstermek isteyen bir öğretmenin yaptığı deneyin aşamaları şöyledir:

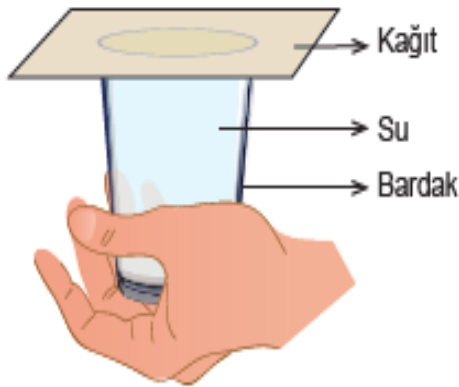
- İçi boş plastik şişeyi alarak yan tarafından deliyor.
- Deliği parmağı ile kapatarak içini su ile doldurduktan sonra parmağını çekiyor ve suyun akışını gözlemliyor. (Şekil I)
- Şişenin kapağını kapatıyor ve kısa bir süre sonra suyun akmadığını gözlemliyor. (Şekil II)




Bu deney ile ilgili yapılan yorumlardan hangisi doğrudur?

- A) Şekil I'de suyun delikten akışında yalnız sıvı basıncı etkilidir.
- B) Şekil II'de şişenin içindeki ve dışındaki basınç dengelenmiştir.
- C) Şekil I'de suyun delikten akışında yalnız açık hava basıncı etkilidir.
- D) Şekil II'de şişe içinde kalan gazlar suda çözünerek akışı engellemiştir.

14. Bir öğretmen, Fen Bilimleri dersinde bardağın tamamını su ile doldurarak üzerini Şekil I'deki gibi kağıt ile kapatıyor. Ardından bardağı hiç hava almayacak biçimde kağıt ile birlikte hızlıca ters çeviriyor. Bardağı Şekil II'deki konuma getirdiğinde kağıdın düşmediğini ve suyun dökülmediğini gözlemliyor.



Şekil I



Şekil II

Öğretmen, öğrencilerin sorduğu sorulardan hangisine cevap vermek için bu deneyi yapmış olabilir?

- A) Açık havanın oluşturduğu bir basınç var mıdır?
- B) Sıvıların basıncı, buldukları kabın şekline bağlı mıdır?
- C) Kap içindeki sıvı yüksekliği sıvı basıncını etkiler mi?
- D) Katıların basıncı ve uygulanan kuvvet arasında bir ilişki var mıdır?

15. Periyodik sistemde elementler, artan atom numaralarına göre dizilirler ve oluşan düşey sıralara grup, yatay sıralara ise periyot adı verilir.

Periyodik sistemdeki ▲, ● ve ■ elementlerine ait şu bilgiler verilmiştir:

- ▲ ve ■ aynı gruptadır.
- ● ve ■ aynı periyottadır.
- Atom numarası en küçük olan ▲'dir.

Buna göre bu elementlerin periyodik sistemdeki yerleri aşağıdakilerden hangisi olabilir?

