

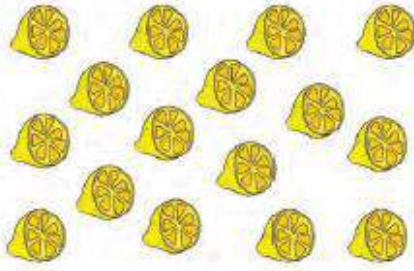
Adı:
Soyadı:



Matematik Çalışma Kağıdı
Problemler

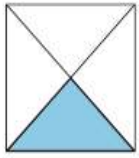


Tarih
...../...../2017




1) Yukarıdaki yarım limonların tamamı kaç limon eder?

2) Aşağıdaki kesirlerin okunuşunu ve kesirleri karşısına yazınız.




Kesir

Okunuşu



Kesir

Okunuşu



Kesir

Okunuşu



3) Ayaz yukarıdaki yumurtaların 5 katını marketten alıyor. Gelirken 12 tanesini kırıyor. Kalanını 3 arkadaşı ile paylaşıyor. Ayaz kaç yumurtayı kendisine almıştır?



4)

Aşağıdaki ifadelerden doğru olanların yanına "D", yanlış olanların yanına "Y" yazınız.

- a. Şekiller kenar sayılarına göre adlandırılır.
b. Kare ve dikdörtgen birer dörtgendir.
c. Üçgenin ve çemberin kenar sayısı eşittir.
ç. Karenin kenar sayısı bazen 6 olabilir.

5) 32 sayfa kitabımın çeyreğini okudum, geriye okumam gereken kaç sayfa kitap kaldı?



6) Kilogramı 6 lira olan çaydan 2 kilo , kilogramı 3 lira olan fıstıktan 6 kilo alırsam ne kadar para ödemem gerekir?



7) Yukarıdaki sürahi 6 bardakla doluyorsa 9 sürahi kaç bardak ile dolar?

8) Bir doğal sayının dörtte biri 4 ise bu sayının 5 katı kaçtır?



9)



Yukarıdaki balıkların 4 katının 17 eksiği kaçtır?

10) Her gün kumbarasına 4 lira atan Cemal , 2 hafta sonra kendisine 18 liralık oyuncak araba alıyor. Kumbarasında geriye kaç lira parası kalmıştır?

11) Sınıfımızın yarısı 15'tir. Sınıfımızda 16 kız öğrenci olduğuna göre erkek öğrenci sayısı kaçtır?

12) 24 çeyrek elma ile 16 yarım elma kaç bütün elma eder?



13) 18'den başlayarak ,ileriye doğru dörder ritmik saydığımızda 5. Sayı kaç olur?



14) Vagonlarda yazan en büyük ve en küçük sayının toplamı kaçtır?

15) 48 sayısının onlar basamağındaki rakam 3 arttırılırsa sayı kaç arttırılmış olur?

16) Cemal'in yaşı 3 düzineden 4 eksiktir.Cemal'in yaşı kaçtır?



17) Koşu yarışmasında baştan 5. Sondan 8. Sıradayım. Sizce bu yarışmaya kaç kişi katılmıştır?

18) Bir Çıkarma İşleminde çıkan 5 fark çıkanın 6 katıdır. Buna göre eksilen sayı kaçtır?

19) Aşağıdaki hayvanların ayak sayıları toplamı kaçtır?



20) Bir baloncunun 18 mavi 17 kırmızı balonu vardır.Balonları 7 çocuğa eşit olarak paylaşacaktır.Kişi başına kaç balon düşer?



Sorular **beşer** puandır.Dikkatli oku.
Sınavda başarılar dilerim.Sınav süresi **60** dakikadır.

ENES SERT
2/F SINIF ÖĞRETMENİ