

Adı:  
Soyadı:



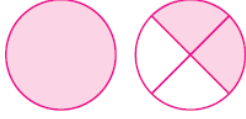
Matematik Çalışma Kağıdı  
Problemler



Tarih  
...../...../2020

1) Aşağıdakilerden hangisi basit kesirdir?

- A)  $1\frac{5}{6}$  B)  $\frac{9}{8}$  C)  $\frac{7}{5}$  D)  $\frac{4}{6}$




2) Yukarıda şekille gösterilen kesri ve okunuşunu yazınız.

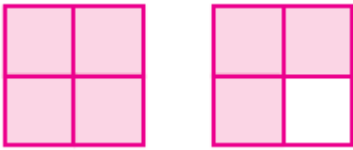
----- :

3) Aşağıdakilerden hangisi bileşik kesirdir?

- A)  $\frac{8}{5}$  B)  $\frac{18}{25}$  C)  $1\frac{1}{2}$  D)  $\frac{2}{3}$



4) Yukarıdaki kesrin pay ve paydasının çarpımı kaçtır?



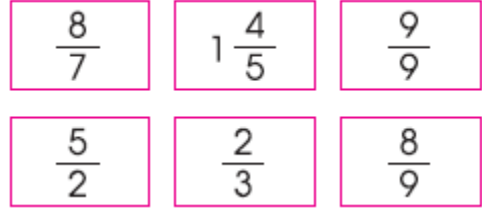
5) Yukarıdaki şeklin ifade ettiği kesir hangisidir?

- A)  $\frac{8}{7}$  B)  $\frac{7}{9}$  C)  $\frac{7}{4}$  D)  $\frac{8}{9}$

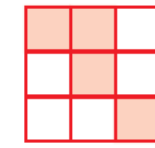
6) Aşağıdakilerden hangisi tam sayılı kesirdir?

- A)  $5\frac{3}{5}$  B)  $\frac{6}{4}$  C)  $\frac{7}{11}$  D)  $\frac{32}{6}$

7) Aşağıdaki basit kesirleri sarıya, bileşik kesirleri kırmızıya, tam sayılı kesirleri maviye boyayınız.

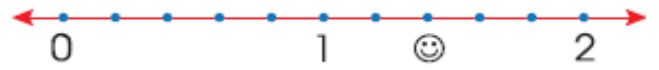


8)



Yanda ifade edilen kesrin sayı doğrusunda gösterimi aşağıdakilerden hangisidir?

- A)
- B)
- C)
- D)



9) Yukarıda sembol ile gösterilen kesir aşağıdaki şekillerden hangisine eşittir?

- A)
- B)
- C)
- D)
- 

10) Yukarıda gösterilen kesri sayı doğrusunda işaretleyiniz.

- A)
- B)
- C)
- D)

