

Ad-Soy Ad: _____

Sınıf: _____

Doğru: _____

Yanlış: _____

Dinozorların nasıl yok olduğuna yönelik farklı teoriler bulunsa da bilim insanları tarafından en çok kabul göreni, yaklaşık 65 milyon yıl önce dünyaya çarpan bir asteroitti. Araştırmacılara göre asteroit sadece dinozorları etkilemedi. Aynı zamanda çok dalgalarını tetikledi ve atmosfere çok miktarda sıcak kaya ve toz yaydı. Bu da sürtünme sebebiyle orman yangınlarını başlattı ve hayvanların ölümüne sebep oldu. Bu parçacıklar atmosfere süzüldü ve yıllarca güneş ışınlarının gelmesine engel oldu. Böylelikle bitkileri ve onları yiyen hayvanları öldürdü. Yapılan yeni bir çalışmaya göre, söz konusu çarpışma, Meksika Körfezi'nden yayılan devasa bir tsunamiye de neden oldu.

Çarpmanın etkisi büyük bir ekolojik yıkıma yol açtı. "Chicxulub" olarak adlandırılan asteroidin böylesi bir yok oluşa sebep olduğu zaten biliniyordu. Ancak tsunami bulgusu çok yeni. Michigan Üniversitesi'nden dünya ve çevre bilimleri araştırmacısı Molly Range, Chicxulub asteroidinin dünya üzerinde çok büyük bir tsunamiye neden olduğunu söylüyor. Range'e göre tsunami o kadar büyüktü ki modern tarihte eşi benzeri görülmemişti.

Araştırmacılar bu asteroidin Meksika Körfezi'ndeki sığ suya çarptığını biliyorlardı. Bulguya göre, söz konusu asteroit dünyanın kabuğunda 1,5 kilometrelik bir krater açtı. Bununla birlikte büyük dalgalar dünya genelindeki okyanuslara yayıldı. Öyle ki Güney Pasifik ve Kuzey Atlantik'te dalgalar 14, Kuzey Pasifik'te ise 4 metreye ulaştı. Bu arada, Meksika Körfezi'nin bazı yerlerindeki dalgalar 100 metreye kadar yükselmişti. Böylesi bir tsunamiyi hayal etmek zor olabilir, bu yüzden araştırmacılar bu tsunamiyi, en az 225 bin kişiyi öldüren 2004 yılındaki Hint Okyanusu tsunamisi ile karşılaştırdılar. İki tsunami, gece ve gündüz kadar farklıydı. Range, "Her iki tsunaminin ilk 7 saatine bakıldığında Chicxulub'un etkisinin, 2004'te Hint Okyanusu'nda gerçekleşen tsunamiden 2 bin 500 kat daha büyüktür." diyor. Hatırlatmak gerekirse Güney yarım kürede şimdiye kadar kaydedilen en büyük dalga Mayıs 2018'de Yeni Zelanda'nın yakınında ölçülen 23,8 metre yüksekliğindeydi.

1, 2 ve 3 soruları metne göre cevaplayınız.

SORU 1

(Meral ÖÇALAN)

Bu metne göre;

1. Chicxulub asteroidinin dünyaya çarpması pek çok doğa olayının ortaya çıkmasını tetiklediği
2. 2004'te Hint Okyanusu'nda gerçekleşen tsunaminin etkisinin günümüzde de devam ettiği
3. Chicxulub asteroidinin çarpmasının tarihte eşi benzeri görülmemiş bir tsunamiye sebep olduğu
4. Meksika Körfezi'ne çarpan devasa asteroidin Güney yarım kürede şimdiye kadar görülen en büyük ekolojik yıkıma sebep olduğu

İfadelerinden hangisine **kesin** olarak ulaşılabilir?

- A) 1 ve 4 B) 2 ve 4
C) 2 ve 3 D) 1 ve 3

SORU 2

(Meral ÖÇALAN)

Bu metin aşağıdaki yazı türlerinin hangisinden alınmış olabilir?

- A) Deneme B) Söyleşi
C) Makale D) Fıkra

SORU 3

(Meral ÖÇALAN)

Bu metnin son paragrafında aşağıdaki düşüncüyü geliştirme yollarından hangisine **başvurulmamıştır**?

- A) Sayısal verilerden Yararlanma
B) Tanımlama
C) Tanık Gösterme
D) Karşılaştırma

Gelmiş geçmiş en yetenekli oyuncularından biri olan George Hagi Galatasaray'da oynadığı yıllarda taraftarın sevgilisi oldu. Orta saha oyuncusu olmasına rağmen attığı gollerle ayakta alkışlandı. Her iki ayağını da kullanabilen Hagi sol ayağını roket gibi kullanırdı. Seni seviyoruz Hagi.

	TAKIM	ÜLKE	YIL
	FARUL	ROMANYA	1982/1983
	STUDENTESC	ROMANYA	1983/1986
	STEAUA BÜKREŞ	ROMANYA	1986/1990
	REAL MADRİD	İSPANYA	1990/1992
	BRESCİA	İTALYA	1992/1994
	BERCELONA	İSPANYA	1994/1996
	GALATASARAY	TÜRKİYE	1996/2001

	TAKIM	GOL	GOL PASI
	FARUL	7	10
	STUDENTESC	53	41
	STEAUA BÜKREŞ	85	63
	REAL MADRİD	15	42
	BRESCİA	5	7
	BERCELONA	7	10
	GALATASARAY	59	51

Kulüp	Göreve başlama ↓	Görevden ayrıldı ↓	Görev	Maçlar ↓	MBP ↓
 FC Viitorul	14/15 (15 Eyl 2014)	<i>muhtemel -</i>	Teknik Direktör	182	1,51
 Galatasaray	10/11 (21 Eki 2010)	10/11 (24 Mar 2011)	Teknik Direktör	24	1,25
 Steaua Bukarest	07/08 (1 Tem 2007)	07/08 (20 Eyl 2007)	Teknik Direktör	11	1,91
 Poli Timisoara	05/06 (7 Kas 2005)	05/06 (21 May 2006)	Teknik Direktör	16	1,19
 Galatasaray	03/04 (22 Mar 2004)	04/05 (28 May 2005)	Teknik Direktör	42	2,12
 Bursaspor	03/04 (1 Tem 2003)	03/04 (28 Şub 2004)	Teknik Direktör	6	0,67
 Romanya	01/02 (1 Eyl 2001)	01/02 (31 Ara 2001)	Teknik Direktör	2	2,00

Hagi'nin oynadığı takımlar ve teknik direktörlük göreviyle ilgili veriler tablolarda verilmiştir. Bu verilerden hareketle aşağıdakilerden hangisi söylenemez?

- A) Dört farklı ülkede yedi takımda futbol oynamıştır.
- B) Futbol oynadığı bazı takımlarda teknik direktörlük görevi de yapmıştır.
- C) Üç takımda verdiği gol pası attığı gollerden fazladır
- D) Bir takımda farklı yıllarda teknik direktörlük görevi yapmıştır.

Anlam karışıklığını önlemek için kullanılır.
-Tuğrul; Onur, Metin ve Nazlı'dan daha çok çalışıyor.
-Mutluluk; sevmek ve paylaşmak demektir.

İçinde virgül bulunan birden çok cümleyi birbirinden ayırmak için kullanılır.
-Eve geldik; odaları,salonu temizledik.

Cümle içinde virgülle ayrılmış tür veya takımları birbirinden ayırmak için kullanılır.
-Dükkanın bir tarafında muz, armut, portakal; diğer tarafında patlıcan, fasülye vardı.
Şehirlerden İzmir, Bursa, Antalya'yı; Ülkelerden Almanya, İtalya, İsveç'i seviyorum



Bu bilgilere göre noktalı virgül(;) aşağıdaki seçeneklerin hangisinde diğerlerinden farklı bir görevde kullanılmıştır?

- A) Trenin sesini işitmiştik; sen bir yana, ben bir yana gitmiştik.
- B) Doluya koydum, almaz; boşa koydum, dolmaz.
- C) Heyecandan içim içime sığmıyor; oturuyor, kalkıyor, odaların arasında gidip geliyordum.
- D) Yılmaz; Ali, Kenan, Tuncay kadar yaramazlık yapmıyor.

- I. Zamanın karanlık katmanları arasından günümüze ulaşan şehirler, farklı kültürlerin tanıklığını yapar.
- II. Bu şehirler, uygarlıkların kendi öykülerini yazdıkları bir kitap gibidir.

Bu iki cümlede ifade edilenlerin “koşul-sonuç” anlamı taşıyacak şekilde birleştirilmiş hâli aşağıdakilerin hangisinde verilmiştir?

- A) Zamanın karanlık katmanları arasından günümüze ulaşan şehirler, farklı kültürlerin tanıklığını yaptıkları için uygarlıkların kendi öykülerini yazdıkları bir kitap gibidir.
- B) Zamanın karanlık katmanları arasından günümüze ulaşan şehirler, farklı kültürlerin tanıklığını yapmak için uygarlıkların kendi öykülerini yazdıkları bir kitaba benzetilir.
- C) Zamanın karanlık katmanları arasından günümüze ulaşan şehirler, farklı kültürlerin tanıklığını yaptığı-nda uygarlıkların kendi öykülerini yazdıkları bir kitaba benzetilir.
- D) Zamanın karanlık katmanları arasından günümüze ulaşan şehirler, farklı kültürlerin tanıklığını yapar ve uygarlıkların kendi öykülerini yazdıkları bir kitap gibidirler.

Komşuluğun önemini ve kıymetini hangimiz bilmeyiz ki? Bize çoğu defa bir duvar mesafesinde olan, kavgalarımıza, mutluluklarımıza, gürültülerimize tanık olan ve en zor zamanlarımızda bize Hızır gibi yetişen komşularımızın kıymetini hangimiz bilmeyiz? Türk toplumunda komşuluk kadar değer verilen çok az değer vardır. Öyle ki hem adet ve geleneklerimizce hem de dini inancımız gereğince komşularımızı çoğu defa akrabalarımızın önünde tutarız. Onlara yaptığımız yardımları, belki akrabalarımıza bile yapmayız. Çünkü biliriz ki onlar bize en yakın insanlardır.

Atalarımız da komşuluğun mahiyetini bilmiş ve komşulukla ilgili birçok söz sarf etmiştir. Atalarımız "Ev alma, komşu al." derken, komşusu olacağımız kişilerin nasıl insanlar olduklarının çok önemli olduğunu vurgulamaya çalışmışlardır. Bir komşu iyi olursa kötü bir evde de mutlu olunur ama komşu kötü ise saraylarda köşklere olsak dahi mutlu olamayız. Komşulukla ilgili bir diğer atasözü de "Komşu, komşunun külüne muhtaçtır." atasözüdür. Bu atasözü ile de komşuların her an birbirine muhtaç oldukları, birbirine yardım etmeleri gerektiği anlatılmıştır.

Komşularımızla iyi geçinmeliyiz. Zor zamanlarında yanında olmalı, mutluluklarını da paylaşmalıyız. Her zaman hallerini hatırlarını sormalı, olası bir ihtiyaçlarını gidermek için elimizden geleni yapmalıyız. "Komşusu aç iken kendisi tok yatan bizden değildir." diyen Hz. Muhammed, komşuluğun ne kadar önemli bir değer olduğunu bize anlatmaya çalışmıştır.

7 ve 8 soruları metne göre cevaplayınız.

SORU 7 (Ahmet BÜYÜKULUSOY)

Bu metinden aşağıdakilerden hangisi çıkarılamaz?

- A) Türk toplumunda en çok komşuluğa değer verilmektedir.
- B) Komşuluğa verilen değer atasözlerimize de yansımıştır.
- C) Komşularımız bazen bize akrabalarımızdan bile yakındır.
- D) Komşularımıza karşı saygılı olmalı, onlara destek olmalıyız.

SORU 8 (Ahmet BÜYÜKULUSOY)

Bu metnin dil ve anlatımı için aşağıdakilerden hangisi söylenemez?

- A) Metnin birinci paragrafında sözde soru cümlelerine başvurulmuştur.
- B) Metnin ikinci paragrafında örneklerden yararlanılmıştır.
- C) Metnin üçüncü paragrafında düşünceleri desteklemek için alıntılar yapılmıştır.
- D) Metinde altı çizili ifade nesnelidir.

SORU 9

(Nimet KÜÇÜK DEMİRKIRAN)

- ✚ Bağlacı olan(bağlı) cümle, bağlaçlar ile birbirine bağlanmış birden fazla cümleden oluşmaktadır.
- ✚ Bağlı cümlelerde "ama, fakat, ancak, halbuki, ve, veya, ne...ne..., hem...hem..."gibi bağlaçlar, anlamca ilgili cümleleri birbirine bağlar.

Bu bilgilere göre aşağıdakilerden hangisi bağlacı olan cümle değildir?

- A) İster bizimle gelirsın ister burada kalırsın.
- B) Ölmek kaderde var lakin vatandan ayrılışın ıstırabı zor.
- C) Gönülümle oturdum da hüzünlendim yine o yerde.
- D) Sözlerinin yanlış anlaşıldığını ve kendisine haksızlık yapıldığını söyledi.

SORU 10

(Muhammer YELTEKİN)

Bir bisikletçiye bisiklet almak için giden Esra, Şeyma, Mustafa, İsmail adlı öğrenciler bisikletçide bulunan sarı, kırmızı, mavi ve yeşil bisikletlerden birini alacaklardır. Bu bisikletlerden birini almak için şunları yapmaları gerekmektedir.



Fiilimsiyi cümlede özne görevinde kullanan öğrenci kırmızı bisikleti alacaktır.



Fiilimsiyi cümlede zarf tümleci görevinde kullanan öğrenci yeşil bisikleti alacaktır.



Fiilimsiyi cümlede nesne görevinde kullanan öğrenci mavi bisikleti alacaktır.



Fiilimsiyi cümlede yer tamlayıcısı (dolaylı tümleç) görevinde kullanan öğrenci sarı bisikleti alacaktır.

Bu bilgilere göre Esra, Şeyma, Mustafa ve İsmail şu cümleleri kullanmışlardır:

- ✚ **Esra:** Yolda bu attan beklenmeyecek bir hız hissettim.
- ✚ **Şeyma:** İri yarı adamlardan biri, söz dinlemeyen bir ata binmiş.
- ✚ **Mustafa:** Arkadaşlarını geçip, hava atmak için doludizgin üstüme geliverdi.
- ✚ **İsmail:** Çalışmak, çabalamak, başarmak isteyen öğrenciler bu sınıftaydı.

Buna göre sarı ve kırmızı bisikleti kimler almıştır?

- A) Esra-Şeyma
- B) Şeyma- Mustafa
- C) Mustafa- İsmail
- D) Şeyma-İsmail

SORU 11

(Muhammer YELTEKİN)

Fiillerin özne ve nesnelere göre göstermiş oldukları durumlara fiillerde çatı denir. Çatı özelliğinin aranması için yüklem fiil soylu bir sözcükten oluşmalıdır. Yüklemi isim soylu sözcüklerden oluşan cümlelerde çatı özelliği aranmaz.

Bu bilgiye göre aşağıda bulunan cümlelerden hangisinde çatı özelliği aranabilir?

- A) Bu konuda bana yardım eden kişi arkadaşım Ahmet'ti
- B) En büyük amacı hayatta başarılı bir birey olmaktı.
- C) Bu ulvi görevi yapabilmek için akşama doğru şehre vardı.
- D) Sınıfın en başarılı öğrencilerinden biriydi.

SORU 12

(Yılmaz DEMİRBAŞ)

Birleşik ve ayrı yazılan kelimelerle eklerin kullanıldığı yerlerle ilgili bazı kurallar şunlardır:

- ✚ Yiyecek, içecek adlarından biriyle kurulan birleşik kelimeler ayrı yazılır.
- ✚ Sıfat veya zarf görevindeki pekiştirmeli sözler bitişik yazılır.
- ✚ İsim durum ekleri ve iyelik ekiyle yapılan ikilemeler ayrı yazılır.
- ✚ Bulunma durumu eki olan -de getirildiği kelimelere bitişik yazılır.

Bu kurallara göre,

- I. Annem, dün akşam gelen misafirlere acılı çiğköfte yaptı.
- II. Geçen hafta gittiğimiz mağaza da çantamı unutmuşum.
- III. Yaşanan son felaketten sonra her yeri simsiyah bir duman sarmıştı.
- IV. Nisan ayında yapılan denemelerde günden güne yükselme görülüyordu.

cümlelerinden hangilerinde yazım yanlışı yapılmıştır?

- A) I ve II.
- B) I ve IV.
- C) II ve III.
- D) III ve IV

SORU 13

(Serkan SEVEN)

Mühendislerin geliştirdiği ve tamamen hareketlere bağlı olarak çalışan bu cihaz, bilgisayarlardan insansız hava araçlarına kadar birçok şeyin sadece kas hareketleriyle kontrol edilmesini sağlıyor. Kol bandının içine yerleştirilen elektrotlar, kullanıcı ellerini ve kollarını hareket ettirdiğinde kaslarında oluşan seyirmeleri, kasılmaları ve gevşemeleri algılıyor. Myo isimli bu cihaz, algılanan sinyalleri bilgisayara iletiyor ve el hareketlerinin ekranda komuta dönüşmesini sağlıyor.

Bu metinde verilen cihaz aşağıdaki görsellerden hangisine daha çok benziyor olabilir?

A)



B)



C)



D)

**SORU 14**

(Serkan SEVEN)

Hayatım boyunca gölge olmaktan, özenle kaçındım; davranışlarımda, konuşmalarımda ve düşüncelerimde -doğru ya da yanlış- hep özen gösterdim.

Bu metinde boşluklara sırasıyla aşağıdakilerden hangilerinin gelmesi anlam bütünlüğü açısından daha uygundur?

- A) kıskançlıktan ve bencillikten – azla yetinmeye
- B) başkalarını taklit etmekten – kendim olmaya
- C) herkesten – özgün olmaya
- D) bir numara olmaktan – herkesin gerisinde kalmaya

SORU 15

(Kubilay ORAL)

Gazeteci: (I)

Sanatçı: Dayım dedi ki; 'Ne hediye istiyorsun?' Ben de ona kemeççe istediğimi söyledim. Bana hediye olarak kemeççe aldı. Aldığım kemeççe ile o yaşlarda ilk şarkımı çıkardım.

Gazeteci: (II)

Sanatçı: Hayır bulmuyorum. Çünkü her şarkıyı tek tek dokuyup, özen gösterip kendinizi ona hazırlıyorsunuz. Benim için tek tek şarkı çıkarmak daha mantıklı geliyor

Bu diyalogda boş bırakılan yerlere aşağıdakilerin hangisi getirilmelidir?

- A) (I) Müzik ile ilk tanışmanız nasıl oldu?
(II) Albüm çıkarmayı düşünüyor musunuz yoksa böyle bir ortamda albüm çıkarmayı mantıklı bulmuyor musunuz?
- B) (I) Hayatınızda ilk hediyenizi kimden aldınız ve bu hediye neydi?
(II) Şimdiki şarkıları verimli buluyor musunuz?
- C) (I) İlk şarkınızı ne zaman çıkardınız?
(II) Şarkı söylemeyi mi yoksa müzisyenliği mi kendinize yakın buluyorsunuz?
- D) (I) Dayınızın yaptığınız sanata katkısı nasıl oldu?
(II) İnternet üzerinden eserin yayımlanmasını etik buluyor musunuz?

Beş Nokta oyunu kırmızı ve beyaz taşlarla oynanan eğlenceli bir oyundur. Oyuna beyaz taşlı oyuncu başlar. Taşını dört bölümden herhangi birine koyabilir, taşını koyduktan sonra bu bölümden birini saat yönünde veya saat yönünün tersine çevirmesi gerekir. Kırmızı taşta sıra geldiğinde o da taşını istediği bir yere koyar ve istediği bir bölümü saat yönünde veya saat yönünün tersine çevirir. Bölümler sadece 90 derece çevrilebilir.




Bu örneklerde olduğu gibi oyunculardan biri beş taşı yatay, dikey veya çapraz yan yana getirmesi ile oyunu kazanır.



Bu oyunda sıra hangi oyuncuda olursa olsun kaç numaralı bölüm çevrilirse iki oyuncu da oyunu kazanabilir?

- A) 1 B) 2 C) 3 D) 4



Telefonunu çocukları kurcaladığı için telefonuna desenli bir şifre yapmak isteyen bir baba şifresi için bir yatay, iki dikey ve iki de çapraz çizgi kullanmıştır.


Bu bilgiye göre aşağıdakilerden hangisi babanın oluşturduğu şifredir?




A)



B)



C)



D)

SORU 18

(Kubilay ORAL)

Dinle sana bir nasihat edeyim
Hatırdan, gönülden geçici olma
Yiğidin başına bir iş gelince
Anı yad ellere açıcı olma

Mecliste ârif ol kelâmı dinle
El iki söylese, sen birin söyle
Elinden geldikçe sen eyilik eyle
Hatıra dokunup yıkıcı olma

Dokunur hatıra kendisin bilmez
Asilzadelerden hiç kemlik gelmez
Sen eyilik et de o zayı olmaz
Darılıp da başa kakıcı olma

Aşağıdaki atasözlerinden hangisi Karacaoğlan'ın bu metindeki öğütlerinden herhangi biriyle ilgili değildir?

- A) Ağaç düşer de yakınına yaslanır.
- B) Akıllı, sözünü akılsıza söyler.
- C) İyilik yap denize at, balık bilmezse halik bilir.
- D) İki düşün bir söyle.

SORU 19

(Kubilay ORAL)

Yapay zekânın geçmişi 1940'lara kadar gidiyor. Diyeceksiniz ki niye şimdiye kadar popüler olmadı? Kullanılıyordu ama bu kadar yaygın değildi. Bunun sebebi bir işlemci güçleri bu kadar kuvvetli değildi. Bir de bu işlemcinin gücünün artıp da işleyebileceği bir veri yoktu. Çünkü yapay zeka dediğimiz şeyin bir tecrübeye dayanması gerekiyor. Nasıl ki insanoğlu kararlarını tecrübesine dayanarak veriyor. Makinanın da elinde bilgi olması gerekiyor. İşte günümüzde bu büyük bilgi verisinin artması ile birlikte yapay zekâ daha kullanılabilir bir düzeye geldi.

Bu metne göre yapay zekâ teknolojisinin daha kullanılabilir bir düzeye gelmesi hangi iki öğenin gelişimiyle sağlanmıştır?

- A) Tecrübe - Bilgisayar
- B) Karar verme - İşlemci
- C) Veri - İşlemci
- D) Veri - Tecrübe

Öğrencilere 21. yüzyılda insanların çok çeşitli becerilerle kendilerini donatmaları gerektiği, tek bir alanda yetiştirmelerle çağın gereklerini karşılamanın artık olanaklı olmadığı anlatılmalı, onlarda kendilerine sunulan fırsatları değerlendirme isteği ve sorumluluğu yaratılmalıdır.

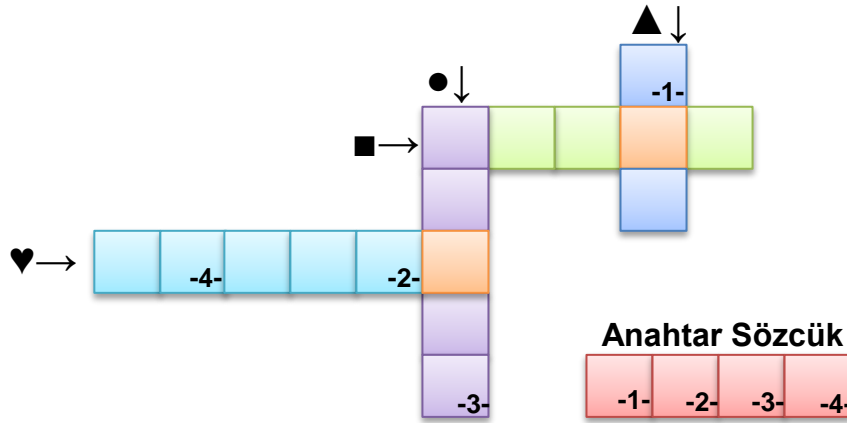
Bu metinde bazı sözcüklerin anlamları “▲, ■, ●, ♥” simgeleri ile verilmiştir. Bu sözcükleri metinden bulmacaya yerleştiriniz.

▲ Kendine özgü bir özellik taşıyan zaman parçası, dönem, devir.

■ Olanak.

● Bir şeye duyulan eğilim, arzu, şevk.

♥ Herhangi bir şey için en uygun zaman, uygun durum veya şart, vesile.



Numaralanmış kutularda yer alan harfler “Anahtar Sözcük” bölümüne yerleştirildiğinde aşağıdaki sözcüklerden hangisi oluşur?

A) ÇALI

B) ÇATI

C) ÇAKI

D) ÇAYI