

Adı:
Soyadı:



Türkçe - Matematik
Çalışma Kağıdı



Tarih
...../...../2019

1-----
Aşağıdaki kelimelerin hangisinde hece (ses) düşmesi vardır?

- A. gözleri B. burnu
C. kalbe D. omuz





2-----
Aşağıdaki kelimelerden hangisi sesli bir harf aldığına yumuşamaz?

- A. çörek B. kitap
C. çorap D. kibrit

3-----
Aşağıdaki şehir adlarından hangisinde sadece ince ünlü harfler yer almaktadır?

- A. Isparta
B. Çanakkale
C. Lüleburgaz
D. Eskişehir

4-----
Aşağıdaki kelimelerden hangisinin yazılışı yanlıştır?

- A.  kâğıdı B.  uçaktan
C.  çalışgan D.  rengi

5-----
Benim de yüreğim heyecanla çarpıyordu.

Yukarıdaki altı çizili kelimedede gerçekleşen ses olayı aşağıdaki sözcüklerden hangisinde vardır?

- A. kaşığı B. otomobili
C. yoğurtçu D. çorapçı

6-----
Hangi cümlede ses düşmesine örnek olacak bir kelime vardır?

- A. Ağabeyim bu yarış geçemedi.
B. Burnu kanayan çocuğa müdahale edildi.
C. Yarışlar çok zorlu geçiyor.
D. Engelli koşu yarışları bu hafta yapılacak.

7-----
Aşağıdaki kelimelerden hangisi yanlış hecelenmiştir?

- A. ark-a-daş-ım-la
B. ko-nuş-ma-ma-lı
C. has-ta-lık-tan
D. gön-der-dik

.....
Bir gün kurt, yakaladığı avını yerken boğazına bir kemik batmış. Ne kadar uğraşmışsa da kemiği boğazından çıkaramamış. Gitmedik doktor kalmamış ama nafile, hiç kimse kurdun boğazındaki kemiği çıkaramıyormuş. Hayvanlardan birisi şöyle demiş; " Bu kemiği çıkarsa çıkarsa, ancak leylek çıkartabilir. Çünkü onun çok uzun bir gagası var.





8-----
Okuduğunuz hikâyenin başlığı ne olabilir?

- A. Yavru ceylan B. Kurt ile Leylek
C. Gökkuşluğu D. Aslan ile Tilki

9-----
Kurdun boğazına ne batmış?

- A. Kalem B. Diken
C. Kemik D. Çatal

10-----
Kurt, boğazına batan cismi çıkartmak için hangi hayvana gitmiş?

- A.  Aslan B.  Tilki
C.  Leylek D.  Kurt

11-----
Dilimizde bir hecede en fazla kaç harf bulunabilir?

- A. 3 B. 4 C. 5 D. 6

12-----


Gel, Gel Ne Olursan Ol Yine Gel.

Mevlana'nın sözünde sırasıyla kaç kelime ve kaç hece vardır?

- A. 7-10 B. 8-12 C. 6-10 D. 7-13

13-----
Aşağıdaki kelimelerden hangisi hecelerine ayrılırken hata yapılmıştır?

- A. bil-gis-a-yar B. kar-na-ba-har
C. ha-nı-me-li D. kuş-bur-nu

14-----
Aşağıdaki sözcük ikililerinden hangisi karşıt anlamlı değildir?

- A. savaş-barış B. ulus-millet
C. uzun-kısa D. aşağı-yukarı

15-----
Aşağıdaki sözcükler sözlük sırasına konulduğunda baştan ikinci sözcük hangisi olur ?

- A. tarak B. tabak
C. tanış D. tay

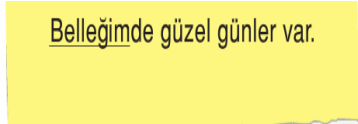
- 16-----
• Kır saçları rüzgârda dalgalanıyordu.
• Davetine gelmediği için kırılmıştı.
• Kır çiçeklerinden taç yaptım.
• Kırdığı odunları sobaya attı.

"Kır" sözcüğü yukarıdaki cümlelerde kaç farklı anlamda kullanılmıştır?

- A. 1 B. 2 C. 3 D. 4

17-----
"Yaz" sözcüğü hangi tümcede farklı bir anlamda kullanılmıştır?

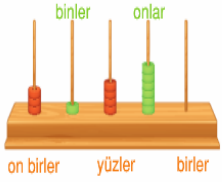
- A. Dün yazdığım şiiri okudum.
B. Yazın doğa bir başka güzel olur.
C. Bu metin yazmakla bitmez.
D. Okulda tahtaya yazılanları defterime yazdım.

18-----


Yukarıdaki cümlede altı çizili sözcüğün eş anlamlısı olan sözcük hangisidir?

- A. Rüya B. Anı
C. Hafıza D. Hatıra

19



Yukarıdaki abaküste modellenen sayı aşağıdakilerden hangisidir?

- A. 33 146 B. 31 046
C. 3146 D. 31 460

20



Yukarıdaki sayının yüz binler basamağındaki rakam ile binler basamağındaki rakam yer değiştirirse yeni sayı aşağıdakilerden hangisi olur?

- A. 412 809 B. 814 309
C. 148 309 D. 418 039

21

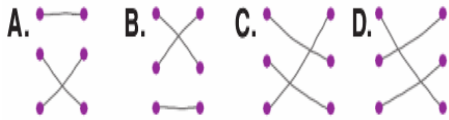
3, 0, 6, 9, 1 rakamları ile oluşturulabilecek 5 basamaklı en küçük sayının binler basamağındaki rakam kaçtır?

- A. 0 B. 3 C. 6 D. 9

22

- dört bin yüz iki • • 4102
yirmi dört bin iki yüz • • 350 083
üç yüz elli bin seksen üç • • 24 200

Yukarıda okunuşları verilen sayılar ile yazılışları eşleştirildiğinde oluşan görüntü nasıl olur?



23

Sayı	Birler Bölüğü	Binler Bölüğü
70 007	★	
265 050		■

Tabloya göre ★ + ■ işleminin sonucu ne olur?

- A. 57 B. 272 C. 345 D. 265

24

263 474

46 954

234 770

66 666

472 613

796 347

Verilen sayılardan kaç tanesi 6 basamaklıdır?

- A) 6 B) 4 C) 2 D) 1

25

- 206 260 İki yüz altı bin iki yüz altmış
 260 206 İki yüz altmış bin iki yüz altmış
 260 620 İki yüz altmış bin altı yüz yirmi

Sayılar ve okunuşları verilmiştir. Okunuşu yanlış olan sayıya "X" koyulmuştur.

Okunuşu yanlış olan sayı veya sayılar hangi seçenekte doğru verilmiştir?

- A)
B)
C)
D)

26

247 416

Verilen sayının okunuşu hangi seçenektir?

- A) Yirmi dört bin dört yüz on altı
B) İki yüz kırk yedi bin dört yüz on altı
C) İki yüz kırk bin dört yüz on altı
D) İki yüz kırk yedi bin dört yüz altı

27

9100

9200

9400

Verilen ritmik saymada boşluğa hangi seçenekteki sayı gelmelidir?

- A) 9210 B) 9300
C) 930 D) 9250

28

416 - 516 - 616 - -

Verilen ritmik sayma devam ettirilirse hangi seçenekteki sayılar yazılır?

- A) 716 - 806 B) 706 - 806
C) 716 - 816 D) 716 - 916

29

3 x 10 000

2 x 1000

4 x 100

3 x 1

Çözümlemiş hâli verilen sayı hangi seçenektir?

- A) 3243 B) 32 043
C) 30 243 D) 32 403

30

800 000 - 200 - 70 000 - 4

Basamak değerleri verilen sayı hangi seçenektir?

- A) 870 204 B) 780 240
C) 872 004 D) 87 204

31

Hangi seçenekteki yüzer ritmik saymada hata yapılmıştır?

- A) 2600 - 2700 - 2800 - 2900
B) 6700 - 6800 - 6900 - 70000
C) 4500 - 4600 - 4700 - 4800
D) 6370 - 6470 - 6570 - 6670

32

Alper para biriktirmektedir.

Bu güne kadar 4200 ₺ biriktiren Alper, 3 tane 100 ₺ daha biriktirirse kaç ₺ biriktirmiş olur?

- A) 7200 B) 4700
C) 4500 D) 6200