

Adı:  
Soyadı:



Türkçe - Matematik  
Tema Değerlendirme



Tarih  
...../...../2019

1-----



Yandaki görseldeki  
duygu aşağıdakilerden  
hangisi olamaz?

- A. Sevinç
- B. Mutluluk
- C. Üzüntü

2-----

"Sonbaharda ağaçların yaprakla-  
rı sararır."

Yukarıdaki cümlede iş, oluş ya da  
hareket bildiren kelime hangisidir?

- A. Sararır
- B. Sonbaharda
- C. Ağaçların

3-----

Aşağıdaki cümlelerin hangisinde  
tarihlerin yazımıyla ilgili yanlışlık  
yapılmıştır?

- A. 24.Nisan.2010 pazar günü  
kardeşim doğdu.
- B. 15 Ağustos Salı günü tatile  
çıkacağız.
- C. Okullar 15 Eylül Pazartesi günü  
açılacak.

4-----

Bu vatan toprağın kara bağrında,  
Sıradağlar gibi duranlarındır.  
Bir tarih boyunca onun uğrunda,  
Kendini tarihe verenlerindir.

Orhan Şaik GÖKYAY

Bu şiirin başlığı aşağıdakilerden  
hangisidir?

- A. Şehit ve Dağlar
- B. Bu Vatan Kimin?
- C. Tarih ve Gelecek

5-----

Aşağıdakilerden hangisi bir adın  
yerini tutmaz?

- A. Bazıları
- B. Onlar
- C. Şimdi

6-----

"..... bugün okula gelmedi."

Cümlesindeki boşluğa hangi kelime  
gelmelidir?

- A. Ben
- B. O
- C. Sen

7-----

"Herkes erkenden uyudu."

Bu cümlede işi yapan varlık aşağı-  
dakilerden hangisidir?

- A. Uyudu
- B. Herkes
- C. Erkenden

8-----

"Vitrindeki kırmızı kazağı arkada-  
şıma aldım."

Hangi varlığın özelliği belirtilmiştir?

- A. Kazağın
- B. Vitrinin
- C. Arkadaşının

9-----

Aşağıdaki cümlelerin hangisinde  
topluluk adı vardır?

- A. Ne çok kalem almışsın.
- B. Ormanda yürüyüş yaptık.
- C. İyi bir dinleyici olmalısın.

10-----

Aşağıdaki cümlelerin hangisinde  
abartılı bir ifade kullanılmıştır?

- A. Her gün düzenli olarak spor  
yaparım.
- B. Buluşıklar dağ gibi birikti.
- C. Bu çanta çok ağır.

11-----

Aşağıdaki kelimelerden hangisi bir  
varlığın özelliğini belirtmek için kul-  
lanılabilir?

- A. Göz
- B. Bilgi
- C. Yeşil

12-----

Aşağıdaki deyimlerin hangisinde  
sevinme anlamı vardır?

- A. Ağzı kulaklarına varmak
- B. Sevinci kursağında kalmak
- C. Göze girmek

13-----



Yanda verilen sembolün  
anlamı nedir?

- A. Aile izleyebilir.
- B. Genel izleyici
- C. Büyükler içindir.

14-----

Aşağıdaki kelimelerden hangisi hem  
özel ad hem de tür adı olarak kulla-  
nılmıştır?

- A. Bilgi
- B. Bolu
- C. Eylül

15-----

Aşağıdaki cümlelerin hangisinde  
yazım yanlışı yapılmamıştır?

- A. Fatih ilkokulunda okuyorum.
- B. Ay, dünyanın uydusudur.
- C. İlkokulu Çanakkale'de okudum.

1-----

..... Tablosu	
Etkinliğin Türü	Kişi Sayısı
Piyano konserine gidenler	
Tiyatroya gidenler	
Sinemaya gidenler	

Yukarıdaki tablonun çeşidi hangisidir?

- A. Sıklık tablosu B. Sayım tablosu  
C. Çetele tablosu

Tiyatroya gidenler kaç kişidir?

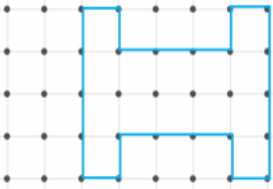
- A. 14 B. 17 C. 20

2-----

Piyano konserine gidenler, sinemaya gidenlerden kaç kişi fazladır?

- A. 3 B. 4 C. 5

3-----

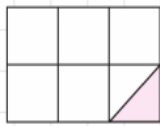


Yukarıdaki şekil kaç birimkareden oluşmuştur?

- A. 9 B. 11 C. 14

4-----

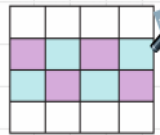
Yandaki şeklin içine boyalı üçgenden kaç tane yerleştirebiliriz?



- A. 12 B. 10 C. 7

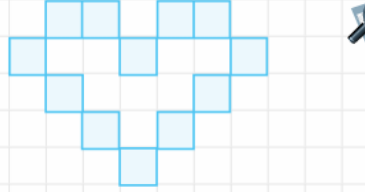
5-----

Yandaki kâğıda dikdörtgensel bölgelerle yapılan süsleme tamamlandığında yüzeyde kaç tane mor dikdörtgen olur?



- A. 6 B. 8 C. 10

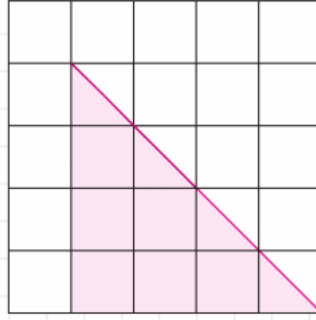
6-----



Yukarıdaki şekil kaç birimkareden oluşmaktadır?

- A. 9 B. 11 C. 12

7-----



Yukarıdaki şekilde üçgenin alanı kaç birimkaredir?

- A. 6 B. 8 C. 9

8-----

Yandaki şekilde üçgenler eşkenar üçgen olduğuna göre 1 üçgenin çevresi kaç cm'dir?



- A. 18 B. 12 C. 9

9-----

Bir kare ile bir eşkenar üçgenin kenar uzunlukları eşittir. Üçgenin bir kenarı 17 cm olduğuna göre karenin çevresi kaç cm'dir?

- A. 54 B. 68 C. 72

10-----

Yandaki büyük eşkenar üçgen dört küçük eşkenar üçgenden oluşmuştur. Bir küçük üçgenin çevresi 21 cm olduğuna göre büyük üçgenin çevresi kaç cm'dir?

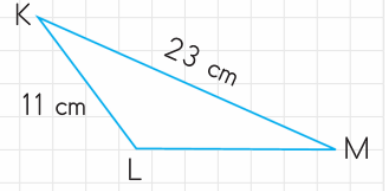


11-----

Uzun kenarı, kısa kenarının 2 katı olan bir dikdörtgenin uzun kenarı 36 cm olduğuna göre dikdörtgenin çevresi kaç cm'dir?

- A. 108 B. 105 C. 100

12-----



Yukarıdaki üçgenin çevresi 50 cm olduğuna göre verilmeyen kenarın 2 katı kaçtır?

- A. 16 B. 32 C. 34

13-----

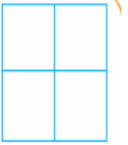
Yandaki dikdörtgenin çevresi kaç cm'dir?



- A. 58 B. 68 C. 78

14-----

Yandaki şekil dört küçük kareden oluşmuştur. Küçük karelerden birinin çevresi 32 cm'dir. Büyük karenin çevresi kaç cm'dir?



15-----

Yarım metre ile çeyrek metrenin toplamı 1 metreden kaç cm daha kısadır?

- A. 25 B. 75 C. 125

16-----

Kardeşimin boyu benim boyumdan 24 cm kısadır.

Kardeşim 118 cm olduğuna göre benim boyum kaç cm'dir?

- A. 142 B. 124 C. 94

17-----

Her gün yarım litre süt içen bir çocuk, 72 günde kaç litre süt içmiş olur?

- A. 24 B. 36 C. 48