

Adı:  
Soyadı:



## TÜRKÇE

### Tema Değerlendirme



Tarih  
...../...../2018

### TÜRKÇE

1-----  
Bahar gelince her yanı çiçekler sarar. Bahçemizde açan güller, renk renk menekşeler mis gibi kokar.

Yukarıdaki metinde öykü unsurlarından yer ve zaman hangi seçenekte verilmiştir?

Yer	Zaman
A. Toprak	Bahar
B. Bahçe	Bahar
C. Orman	Yaz

2-----  
Köpek, minik kuyruğunu sallayarak sokakta dolanıyordu.

Yukarıdaki cümlede hangi sözcük olayın yaşandığı yeri belirtir?

- A. minik B. sokak C. kuyruk

3-----  
Mutfağa girdiğinde tezgâhın üzerindeki malzemeleri gördü. Hemen kek yapmaya koyuldu. Çay için kekler hazırdı.

Yukarıdaki anlatım için hangisi söylenebilir?

- A. Olayın kahramanı bellidir.  
B. Olay mutfakta geçiyor.  
C. Olay akşam vaktinde geçiyor.

4-----  
Piknik malzemelerini hazırladık. Sonra mangalı yaktık. Önce sofrayı hazırladık.

Yukarıdaki paragrafta hangi iki sözcük yer değiştirirse olayın oluş sırası düzeltilmiş olur?

- A. Sonra - Önce  
B. Piknik - Sonra  
C. mangalı - sofrayı

6-----  
Merhaba, ben Minik. En iyi dostumun adı ise Duman. Dün onunla bir parkta oynuyorduk. Birdenbire bir çocuk karşıma çıkıp beni yakaladı. Ama Duman hemen yetişti. Çocuğun elinden fırlayıp kurtuldum. İkimizde oradan uzaklaştık.

Metinde asıl olarak anlatılmak istenen nedir?

- A. Kedi ve köpekler birbirine her zaman yardım eder.  
B. İyi dost zor zamanda belli olur.  
C. Parkta oynamak doğru değildir.

7-----  
Aşağıdaki ifadelerden hangisi bir ana düşünce cümlesi **olamaz**?

- A. Yardımlaşmak herkesi mutlu eder.  
B. Hayvan sevgisi  
C. Çaba gösterirsen amacına ulaşsın.

8-----  
Ebru, soruları doğru yanıtlamış.

Yukarıdaki cümlede altı çizili sözcük hangi sorunun yanıtıdır?

- A. Neyi? B. Nasıl? C. Kimi?

9-----  
"Kardeşlerim" sözcüğünün tekil ad olarak yazılışı hangisidir?

- A. Kardeşler  
B. Kardeşim  
C. Kardeş

10-----  
Hangi çocuk konuşmasında bir varlığın özelliğini **belirtmemiştir**?

- A.  Yaşlı kadın zor yürüyordu.  
B.  Köşedeki okul yeniden yapılacakmış.  
C.  Güle oynaya yola çıktılar.

11-----  
Aşağıdaki sözcüklerden hangisi sözlükte diğerlerinden **önce** yer alır?

- A. deniz B. dalga C. dergi

12-----  

kap	kalemlik	yem
deri	üzüm	balıkçı

Yukarıdaki sözcüklerden kaç tanesi ek alarak yeni bir anlam kazanmıştır?

- A. 2 B. 3 C. 4

13-----  

sıcak	güneş
yaz	
ter	



Yukarıdaki kavram haritasında boş bırakılan yere hangisi yazılabilir?

- A. soğuk B. uyku C. tatil

14-----  
Aşağıda noktalama işaretleri verilmeyen cümlelerden hangisi soru anlamı taşımaktadır?

- A. Giderken bana da haber vermeliydin  
B. Ne zaman buraya geldin  
C. Kaç gündür gelmek istiyordum

15-----  

	_____?	
Ela	Dün gittik.	Duru

Yukarıdaki konuşmada Ela, Duru'ya ne sormuş olabilir?

- A. Ne zaman gittiniz?  
B. Nasıl gittiniz?  
C. Kiminle gittiniz?

*Türkçe soruları bitmiştir.  
Matematiğe geçiniz*

## MATEMATİK

1-----  
Okunuşu "beş yüz beş" olan doğal sayı hangisidir?

- A. 555 B. 550 C. 505

2-----  
 $655 > \square > 458$

Yukarıdaki sıralamada boş bırakılan yere yazılabilecek **en büyük** ve **en küçük** doğal sayılar hangisidir?


- |    | En Büyük | En Küçük |
|----|----------|----------|
| A. | 654      | 459      |
| B. | 656      | 457      |
| C. | 654      | 457      |

3-----  
 $415 + 100 > \star$

Yukarıdaki sıralamada  $\star$  yerine yazılabilecek **en büyük** doğal sayı kaçtır?

- A. 514 B. 515 C. 516

4-----  
12'den başlayıp altışar altışar, 8 kez saydım.  
16'dan başlayıp sekizer sekizer, 7 kez saydım.



Ece ve Ege'nin yaptıkları saymada ortak söyledikleri sayılar hangisidir?

- A. 24 - 42  
B. 32 - 48  
C. 24 - 48

5-----  
110 220 330 440  
AA BB CC ÇÇ

Kutulardaki sayılar belli bir kurala göre dizilmiş ve şifrelenmiştir.

Buna göre boş bırakılan yere hangi kutu gelmelidir?

- A.  $\begin{matrix} 550 \\ AA \end{matrix}$  B.  $\begin{matrix} 660 \\ EE \end{matrix}$  C.  $\begin{matrix} 550 \\ DD \end{matrix}$

6-----  
24A, üç basamaklı çift doğal sayıdır.


Buna göre A yerine yazılabilecek en büyük rakamın Romen rakamı ile gösterilişi hangisidir?

- A. IX B. VIII C. IV

7-----  
Aşağıda verilen ifadelerden hangisi yanlıştır?

- A.  $4 + 8$  işleminde toplam çift sayıdır.  
B.  $12 + 7$  işleminde toplam çift sayıdır.  
C.  $10 + 5$  işleminde toplam tek sayıdır.

8-----



Çamaşır makinesi cep telefonundan 460 ₺ pahalıdır.

Her iki ürünü alan bir kişi kaç lira öder?

- A. 800 B. 900 C. 960

9-----  
Aşağıda, kutulardaki atas sayıları verilmiştir.



Mor kutuda, yeşil ve mavi kutudaki atasların toplamı kadar atas vardır.

Üç kutuda toplam kaç atas vardır?

- A. 826 B. 820 C. 814

10-----  
Aşağıdaki çıkarma işlemlerinden hangisi yanlıştır?

- A.  $\begin{array}{r} 520 \\ -146 \\ \hline 374 \end{array}$  B.  $\begin{array}{r} 210 \\ -77 \\ \hline 143 \end{array}$  C.  $\begin{array}{r} 944 \\ -166 \\ \hline 778 \end{array}$

11-----  
 $416 + 120 > 100 + \square$

Yukarıdaki sıralamada boş bırakılan yere yazılabilecek **en büyük** sayı kaçtır?

- A. 435 B. 436 C. 437

12-----  
Yandaki toplama işleminde verilmeyen toplanan kaçtır?

$$\begin{array}{r} \square \\ + 576 \\ \hline 938 \end{array}$$

- A. 360 B. 362 C. 464

13-----  
Yandaki toplama işleminde sembollerle verilen rakamların toplamı kaçtır?

$$\begin{array}{r} 439 \\ + \star 76 \\ \hline 8\square 5 \end{array}$$

- A. 3 B. 4 C. 5

14-----  
4 kişilik bir ailenin yaşları toplamı 84'tür. Bu ailenin 3 yıl sonraki yaşları toplamı kaç olur?

- A. 87 B. 93 C. 96

15-----  
1, 0, 3 rakamları birer kez kullanılarak üç basamaklı en büyük ve en küçük tek doğal sayılar yazılıyor.

Bu sayıların farkı kaçtır?

- A. 198 B. 208 C. 218

16-----  
Her birinde 28 kalem bulunan 25 kutu kalemin 65 tanesi satıldı.

Geriye kaç kalem kaldı?

- A. 635 B. 655 C. 675

17-----  
Bir sinema salonunda 24 sıra, her sırada 15 koltuk vardır.

Salonda 245 seyirci olduğuna göre kaç boş koltuk vardır?

- A. 113 B. 115 C. 117

18-----  
Gaye 9 yaşındadır. Annesinin yaşı Gaye'nin yaşının 3 katından 4 fazladır.

İkisinin yaşları toplamı kaçtır?

- A. 31 B. 68 C. 40