

Adı:
Soyadı:



TÜRKÇE
Tema Değerlendirme



Tarih
...../...../2019

30-----



Kaplumbağa yukarıdaki yolun $\frac{1}{5}$ 'ini yürümüştür. Kaplumbağanın yürüyeceği kaç metre yol kalmıştır?

- A. 5 B. 10 C. 20

31-----



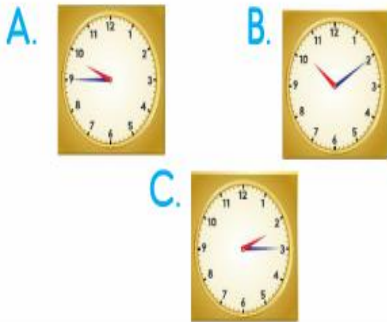
Yukarıdaki iki saat arasında kaç dakikalık bir zaman farkı vardır?

- A. 25 B. 30 C. 35

32-----



Yandaki dijital saatle aynı zamanı gösteren saat aşağıdakilerden hangisidir?



33-----

Aşağıdaki ay ve gün eşleştirmelerinden hangisi **yanlıştır**?

- A. Ocak → 31
B. Mart → 31
C. Mayıs → 30

34-----



Yukarıdaki paralarla aşağıdaki paraların hangisinin değeri eşittir?



35-----

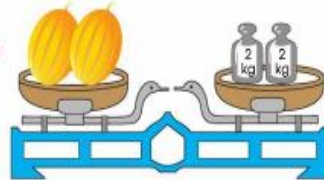


₺ 1 ₺ 1.25 Kr

Yukarıdaki ürünler için satıcıya 5 lira veren Arda para üstü olarak aşağıdakilerden hangilerini alır?



36-----




Yukarıdaki şekillere göre elmaların ağırlığı kaç kilogramdır?

- A. 6 B. 4 C. 2

37-----



Yukarıdaki görselleri adlarına göre sözlük sırasına koyarsak en sonda hangisi yer alır?

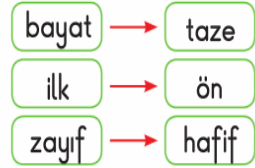


38-----

Aşağıdaki kelimelerden hangisinin eş anlamlısı **yoktur**?

- A. Millet B. Toprak
C. Yurt

39-----



Yukarıda zıt anlamlı kelimeler eşleştirilmiştir. Bu eşleştirmelerden kaç tanesi **yanlıştır**?

- A. 1 B. 2 C. 3

40-----

Aşağıdaki öğrencilerin hangisinin söylediği cümlede eş sesli bir kelime **yoktur**?

- A. Bu yaz Antalya'ya gideceğiz.
B. Bugün çok yoruludum.
C. Annem gül reçeli yaptı.

41-----

“Yağmur, sağanak şeklinde yağıyordu.” cümlesinde hangi sorunun cevabını bulamayız?

- A. Nasıl? B. Nerede?
C. Ne?

42

Aşağıdaki cümlelerin hangisinde hayal ürünü anlatım **yoktur**?

- A. Kedi, fareye gülümsedi.
 B. Köşede bir kedcik soğuktan titriyordu.
 C. Minik kedcik annesine "Günaydın," dedi.

43



Aşağıdakilerden hangisi görseldeki varlığa verilen özel adlardandır?

- A. Küheylan B. At
 C. Hayvan

44

1. Pembe boyalı evin yanında oturuyoruz.
 2. Bisikletimle dolaşım.
 3. Çarşıdan lamba aldım.

Yukarıda verilen cümlelerden hangisinde varlığın özelliğini belirten kelime kullanılmıştır?

- A. 1 B. 2 C. 3

45

- iki • Durum belirtir.
 mavi • Sayı belirtir.
 kare • Renk belirtir.
 bozuk • Şekil belirtir.

Yukarıdaki kelimeler ile belirttikleri özellikler hangisinde doğru eşleştirilmiştir?

- A. B. C.

46

Buse çok dağınık bir kızdı. Odasında aradığı şeyi hiçbir zaman bulamazdı. Çoğu kez kitabı yatağın altından, okul forması masanın altından çıkardı. Kalem, silgi, mendil... Bunların ise nereden çıkacağı hiç belli olmazdı. Bu yüzden sıkıntı yaşar, çoğu kez okula giderken evde bir şey unuturdu. Kısacası, dağınıklığı her zaman başına olmadık işler açardı.

Bu kitap için yazılmıştır.

Yukarıdaki metnin konusu nedir?

- A. Buse'nin dağınıklığı
 B. Buse'nin okula geç kalması
 C. Buse'nin odası

47

Yukarıdaki metnin ana fikri nedir?

- A. Buse okula gitmeyi seviyor.
 B. Dağınıklık ve düzensizlik hayatımızı olumsuz etkiler.
 C. Eşyalarını kaybeden insanlar üzülür.

48

D	Y	Yorumlar
		Her sesin bir kaynağı vardır.
		Ses şiddeti kaynaktan uzaklaştıkça artar.
		Ses her yönde yayılır.

Yukarıdaki doğru yanlış tablosunu doldurduğumuzda aşağıdakilerden hangisini elde ederiz?

- A.

D	Y
✓	
✓	
	✓

 B.

D	Y
✓	
	✓
✓	

 C.

D	Y
✓	
✓	
✓	

49

- Deve • Kutuplar
 Penguen • Orman
 Aslan • Çöl

Yukarıdaki eşleştirmeyi doğru yapan Hande, aşağıdakilerden hangisini elde etmiş olur?

- A. B. C.

50

Aşağıdaki cümlelerden hangisinde "niçin," sorusunun cevabı vardır?

- A. Soğuk havalarda dışarı çıkmamalıdır.
 B. Kar yağdığı için yollar kapandı.
 C. Yorgun olduğu hâlden belliydi.

51

- Eve gelmeyecekti.
 Yeni bir kitap almış.
 Kalemimi kaybetmiş.

Yukarıdakilerden hangisi olumlu cümle **değildir**?

- A. B. C.

52

"Bu yöntemi bana ağabeyim öğretti."

Yukarıdaki cümlede hangi kelime, adın yerine kullanılmıştır?

- A. bu
 B. yöntemi
 C. bana