

Adı:
Soyadı:



TÜRKÇE
Tema Değerlendirme



Tarih
...../...../2019

30-----
Sözcüklerin anlamı aşağıdaki kaynakların hangisinden öğrenilir?

- A) Sözlük
B) Ders kitabı
C) Yazım kılavuzu

31-----
barkod bandrol barut
barbar baraj

Yukarıda karışık olarak verilmiş sözcükler, sözlük sırasına göre dizilirse hangi sözcük sondan 2. sırada yer alır?

- A) bandrol B) barbar
C) barkod

32-----
Aşağıdaki sözcük ikililerinden hangisinin arasında "sağ-sol" sözcükleri arasındaki anlam ilişkisi vardır?

- A) Fakir - Zengin
B) Hediye - Armağan
C) Millet - Ulus

33-----
Anlamları farklı, yazılışları aynı olan sözcüklere eş sesli (sesteş) sözcükler denir.

Aşağıdaki cümlelerin hangisinde eş sesli (sesteş) sözcük her iki anlamıyla da kullanılmıştır?

- A) Ayakkabısının bağını bağlayıp bağa gitti.
B) Eline bir sabun alıp elini yıkadı.
C) Babamın gözlerindeki yaşları görünce benim de gözlerim doldu.

34-----
Dayım Van'da öğretmen olarak görev yapmaktaydı. Yaz tatilinde bizleri Van'a davet etti. Yaz tatilini iple çekişirdim. Tatil günü geldiğinde büyük bir heyecanla hazırlanıp havaalanından uçağa bindik. Uçaktan iner inmez ayağımızın tozuyla dayım bizi Van Gölüne kahvaltıya götürdü. Van'ın meşhur otlu peynirinden severek yedik. Van'da geçirdiğim tatil günlerimi hiç unutmam.

Metinde "ayağımızın tozuyla" sözüyle anlatılmak istenen aşağıdakilerden hangisidir?

- A) Yoldan gelir gelmez, dinlenmeden
B) Ayakkabılarını temizlemeden
C) Yeni ayakkabı alınmadan

35-----
Aşağıdaki durumların hangisinde "iple çekmek" deyiimi kullanılır?

- A) İstemediğimiz bir yere giderken
B) Çok istediğimiz bir zamanın gelmesini sabırsızlıkla beklerken
C) Birinden bir şey isterken

36-----
★ Sakla samanı gelir zamanı.
▲ Damlaya damlaya göl olur.
● Üzüm üzüme baka baka kararır.

Aşağıdaki atasözlerinden hangileri tasarrufla ilgilidir?

- A) ★ ▲
B) ▲ ●
C) ● ★

37-----
Sağlığın - olmayan - hasta -
1 2 3
bilmez - kadrini
4 5
Numaralanmış sözcüklerle anlamlı ve kurallı bir cümle oluşturulmak istendiğinde sıralama nasıl olmalıdır?

- A) 1 - 2 - 5 - 4 - 3
B) 3 - 4 - 1 - 2 - 5
C) 3 - 2 - 1 - 5 - 4

38-----
Ayşe heyecanlı bir şekilde, () Öğretmenim, gelir misiniz, dedi.

Yukarıdaki cümlede yay ayrıçla gösterilen yere hangi noktalama işareti getirilmelidir?

- A) Uzun çizgi (—)
B) İki nokta (:)
C) Nokta (.)

39-----
Aşağıdaki sözcüklerin hangisi yanlış yazılmıştır?

- A) Eşofman B) Fren
C) Klavuz

40-----
"Ayşe ve Demet tatilde Artvin'e gideceklermiş." cümlesinde kaç tane özel isim vardır?

- A) 3 B) 2 C) 1


41-----
Beyaz kedim,
Siyah kedim,
Sarı kedim,
Adı "Rengin" olsun dedim.

Yukarıdaki dördlükte kaç tane sözcük varlığı nitелеmek amacıyla kullanılmıştır?

- A) 2 B) 3 C) 4

42-----

8 yaşındaki Kerim'in hangi akıllı işaretin olduğu programı izlemesi uygun olur?



43-----



Sembollerle belirtilen sayılardan hangileri aynı yüzlüğe yuvarlanır?

- A) ★ ve ■ B) ■ ve ✿
C) ★ ve ✿

44-----



Yukarıdaki sayı örüntüsünde kuralı bozan sayı hangisidir?

- A) 18 B) 34 C) 44

45-----

Aşağıdaki eşleştirmelerden hangisi yanlıştır?

- A) XIX = 19
B) XI = 9
C) XIV = 14

46-----

Bir müzeyi dün 345, bugün ise dünden 69 fazla turist ziyaret etmiştir.

Müzeyi dün ve bugün toplam kaç turist ziyaret etmiştir?

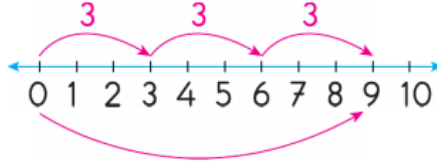
- A) 414 B) 759 C) 859

47-----

3 tişört için 84 TL ödeyen Feride, 5 tişört alsaydı kaç TL öderdi?

- A) 280 B) 240 C) 140

48-----



Bu sayı doğrusu üzerinde gösterilen çarpma işlemi aşağıdakilerden hangisidir?

- A) $3 \times 4 = 12$
B) $4 \times 3 = 12$
C) $3 \times 3 = 9$

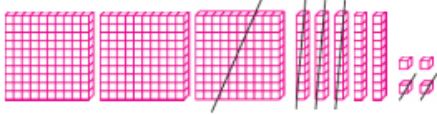
49-----

$$\begin{array}{r} \blacktriangle \bullet 9 \\ - 45 \blacksquare \\ \hline 234 \end{array}$$

Yandaki işlemde, "▲" "●" ve "■" yerine yazılması gereken rakamlar aşağıdakilerin hangisinde doğru verilmiştir?

- A) ▲ → 4 B) ▲ → 6 C) ▲ → 6
● → 3 ● → 7 ● → 8
■ → 5 ■ → 4 ■ → 5

50-----



Modellenen çıkarma işlemi aşağıdakilerden hangisidir?

- A) $354 - 222$ B) $354 - 132$ C) $252 - 132$

51-----

Bir sınıfta 9 kız, 22 erkek öğrenci vardır.

Sınıfta 15 sıra olduğuna göre öğrenciler ikerli oturduğunda kaç öğrenci ayakta kalır?

- A) 0 B) 1 C) 2

52-----

Ali, Seda ve Murat'ın 5 yıl sonraki yaşları toplamı 57 olacaktır.

Üçünün 2 yıl önceki yaşları toplamı kaçtır?

- A) 36 B) 38 C) 42

53-----

$$8 + 8 + 8 + 8 = \blacktriangle \times 8$$

$$7 + 7 + 7 + 7 + 7 = \blacksquare \times 7$$

işlemlerine göre ▲ x ■ kaçtır?

- A) 20 B) 24 C) 28

54-----

Bir öğretmen, sınavda başarılı olan 23 öğrencinin her birine 17 kalem veriyor.

Buna göre öğretmen, öğrencilere toplam kaç kalem vermiştir?

- A) 292 B) 391 C) 492

55-----

X	10	5
8	80	▲
★	90	45



Yukarıdaki çarpım tablosuna göre, ▲ - ★ işleminin sonucu kaçtır?

- A) 40 B) 33 C) 31

55-----

Kalanlı bir bölme işleminde bölen 5, bölüm 15'tir.

Buna göre, bölünen sayı en fazla kaç olabilir?

- A) 75 B) 79 C) 80

56-----

$87 \div 3 < M$ işleminde "M" yerine yazılabilecek en küçük sayı kaçtır?

- A) 30 B) 28 C) 27

57-----

15 eksiği 48 olan sayının 10 katı kaçtır?

- A) 530 B) 620 C) 630

58-----

Bir deste mendilin 3 katının $\frac{1}{6}$ 'i kaç mendildir?

- A) 4 B) 5 C) 6



59-----

Akşam saat 20.00'de uyuşup sabah 07.00'de kalkan kişi kaç saat uyumuş olur?

- A) 11 B) 10 C) 9