

Adı:
Soyadı:


MATEMATİK
ÇALIŞMA KAĞIDI



Tarih
...../...../2018

Bütün, Yarım ve Çeyrek

1 Aşağıdaki şekillerin yarısını boyyalım. Cümlelerdeki boşlukları uygun sayılarla tamamlayalım.



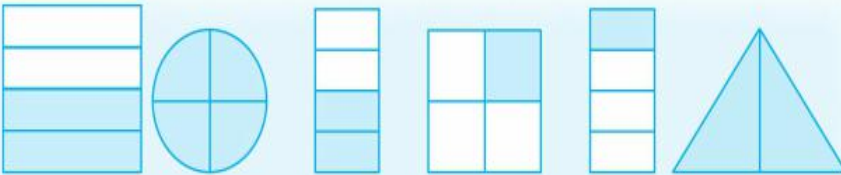
- Bir bütün, tane yarım dan oluşur.
- tane yarım, 1 bütün eder.

2 Aşağıdaki şekillerin çeyreğini boyyalım. Cümlelerdeki boşlukları uygun sayılarla tamamlayalım.

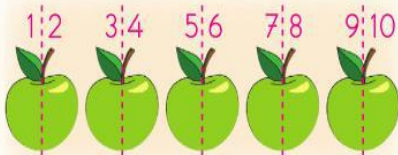


- Bir bütün, tane çeyrekten oluşur.
- tane çeyrek, 1 bütün eder.

3 Aşağıdaki şekillerin boyalı kısımlarını "bütün, yarım, çeyrek" olarak yazalım.



4 Örnekten yararlanarak cümlelerdeki boşlukları tamamlayalım. Varlıkların kaç yarım ettiğini bulalım.



5 elma, yarım elma eder.



10 kayısı, yarım kayısı eder.



6 çilek, yarım çilek eder.



9 muz, yarım muz eder.

TEKRAR ETKİNLİKLERİ

Basamak adları verilen sayıları doğru şekilde sayılarla eşleştirelim.

Birler Basamağı: 3

Onlar Basamağı: 7



Birler Basamağı: 2

Onlar Basamağı: 9



Birler Basamağı: 8

Onlar Basamağı: 5



Birler Basamağı: 1

Onlar Basamağı: 4

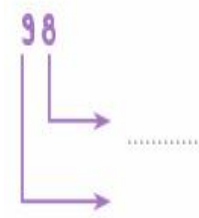
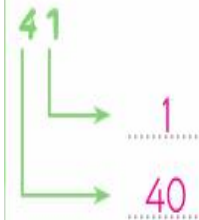


Birler Basamağı: 0


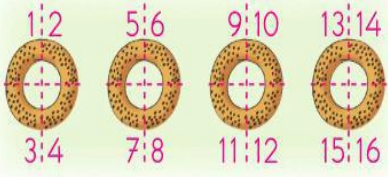
Onlar Basamağı: 6



Sayıların basamak değerlerini yazalım.



5 Örnekten yararlanarak cümlelerdeki boşlukları tamamlayalım. Varlıkların kaç çeyrek ettiğini bulalım.



4 simit, 16 çeyrek simit eder.

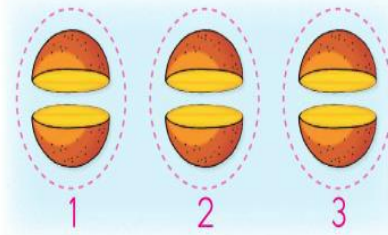
6 ekmek, çeyrek ekmek eder.



5 pasta, çeyrek pasta eder.



8 şeker, çeyrek şeker eder.

6 Örnekten yararlanarak cümlelerdeki boşlukları tamamlayalım. Yarım varlıkların kaç bütün ettiğini bulalım.



6 yarım, 3 bütün kayısı eder.


10 yarım, bütün limon eder.



8 yarım, bütün karpuz eder.

16 yarım, bütün pizza eder.

7 Cümlelerdeki boşlukları tamamlayalım. Çeyrek varlıkların kaç bütün ettiğini bulalım.



8 çeyrek, bütün simit eder.

12 çeyrek, bütün elma eder.

Sayıların bir desteden ne kadar fazla veya eksik olduğunu örnekteki gibi yazalım.

13 → 10 (3 fazla)

17 →

15 →

8 →

3 →

19 →

7 →

1 →

Okunuşu ve yazılışı verilen sıralama sayılarındaki boşlukları örnekteki gibi dolduralım.

ikinci → 2.

beşinci →

yedinci →

birinci →

üçüncü →

dekuzuncu →

..... dördüncü ← 4.

..... ← 10.

..... ← 8.

..... ← 6.

..... ← 1.

..... ← 5.

..... ← 9.



Adı:
Soyadı:

TÜRKÇE ÇALIŞMA KAĞIDI



Tarih
...../...../2018

OKUDUĞUNU ANLAMA

Nasrettin Hoca, bir yaz gecesi, geç vakit, köyün ıssız ve sessiz sokaklarında eşeğiyle dolaşıyormuş. Mahallenin güvenliğiyle görevli bekçi, hocayı görünce gülererek sormuş:

— Hayırdır Hoca Efendi! Bu saatte sokakta ne arıyorsun?

Nasrettin Hoca şöyle cevap vermiş:

— Uykum kaçtı da onu arıyorum.



Aşağıdaki okuma anlama etkinliklerini okuduğumuz fıkraya göre yapalım.

1. Okuduğumuz fıkraya uygun olabilecek başlıkları işaretleyelim.



Nasrettin Hoca



Uykum Nerede?






Uykum Kaçtı



Bekçinin Sakarlığı

2. Fıkranın geçtiği zamanı işaretleyelim.



Aşağıdaki görseli fıkranın geçtiği zamana göre renkler seçerek boyayalım.



Oluş Sırası



- Ardından kramponlarını giydi.
- Yeşil çimenlere çıktı.
- İlk olarak formasını giydi.
- Kramponlarının bağcıklarını bağladı.
- Sonra top oynamaya başladı.

Özel mi Tür mü

Adlar	Özel Ad	Tür Adı
Kayseri		
Nihat		
balon		
kaşık		
Sinem		
sümbül		
vazo		
lahana		

Eş Anımlı Kelimeler

- yaşlı → ihhtiyar
- misafir → _____
- sene → _____
- isim → _____
- kelime → _____
- hatıra → _____
- hikâye → _____

Aşağıdaki sözcükleri sözlük sırasına göre dizelim.

• fare • tilki • halı • limon

• kalem • nane • defter • kömür

• makas • sincap • çarşaf • şelale

Verilen sözcüklerin zıt anlamlılarını cümle içinde kullanalım.

az →

fakir →

kalin →

aşağı →

taze →

Aşağıdaki sözcük dizilerinden cümle olanları işaretleyelim.

Okula giderken Bu kitabı çok sevdim. Gördüm.

Ali, top almaya gitti. Kapı Dikkat, arabal

Okudum. Ali gidiyor. Onu çağırmadım.

Üşüdün mü? Karikatürist Düşecek.

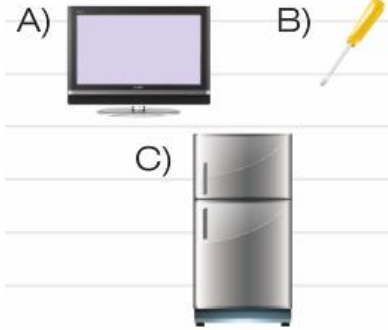
Seninle geleceğim. Ağaç Çiçekleri su

Kitap Nazlı, ip atlamayı çok seviyor.

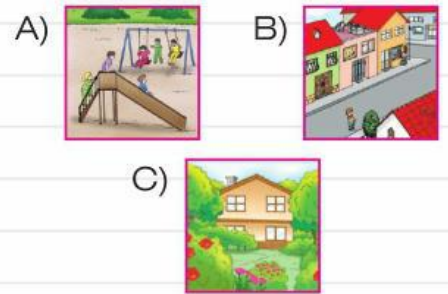
Yayaların uyması gereken trafik kuralları ile ilgili hangi bilgi **yanlıştır**?

- A) Gece görüş kolaylığı için açık renk kıyafetler giymeliyiz.
B) Yaya kaldırımının solundan yürümeliyiz.
C) Karşıdan karşıya geçerken yaya geçitlerini kullanmalıyız.

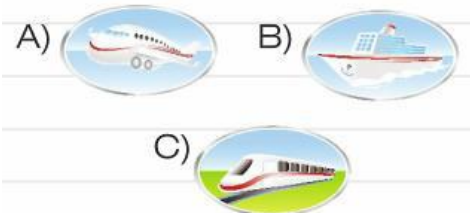
Hangisi evde kullandığımız teknolojik araç gereçlerden **değildir**?



Hangisi güvenli oyun alanlarından **değildir**?



Hangisi hava yolu taşıtıdır?



İtfaiyenin numarası kaçtır?

- A) 122 B) 110 C) 112