

Adı:
Soyadı:



UZAKTAN EĞİTİM
DENEME -1



Tarih
...../...../2020



Balonlardaki sözcüklerin sözlükteki sıralanışı aşağıdakilerden hangisidir?

- A) deniz - gemi - kamara - liman
B) gemi - deniz - liman - kamara
C) liman - deniz - kamara - gemi
D) deniz - gemi - liman - kamara

2-----
Doğrular ne kadar gerekliyse yanlışlar da o kadar gereklidir. Yanlışlar gerçeği bulmanın bir yoludur. Önemli olan yapılan hatalardan ders almaktır.

Bu metnin ana fikri aşağıdakilerden hangisidir?

- A) Doğruyu bulmak her zaman mümkün olmaz.
B) Hata yapmak insanlara özgüdür.
C) Bazı insanlar hiç hata yapmazlar.
D) Kişi yaptığı hatalardan ders çıkarmalıdır.

3-----
 Soru işareti konulan cümleler ayrıca soru cümlesi de olur.
 Tamamlanmış cümlelerin sonuna nokta konur.
 Virgül benzer nesnelere birbirlerinden ayırmak için cümle içinde birden fazla konulabilir.

Verilen ifade doğru ise "D", yanlış ise "Y" yazarak aşağıdakilerden hangisi doğru olur?

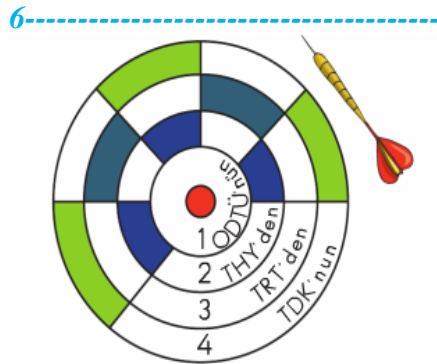
- A) Y B) D C) Y D) D
D Y D D
D D D D

4-----
"İstiklal" sözcüğünün eş anlamlısı aşağıdakilerden hangisidir?

- A) Esaret B) Tutsaklık
C) Bağımsızlık D) Hâkimiyet

5-----
Aşağıdaki cümlelerin hangisinde "karşıt anlamlı" sözcükler bir arada kullanılmıştır?

- A) Öğretmenimizi önce dinledik sonra dinlediklerimizi not aldık.
B) Teneffüse daha çıkamadık.
C) Az önce matematik dersinden çıktık.
D) Arkadaşlarımla çok iyi vakit geçiriyorum.



Ali dart oynamayı çok sever. Elindeki oku yazım yanlış olan sözcüğe atacaktır.

Buna göre, Ali kaç numaralı yere ok atmalıdır?

- A) 1 B) 2
C) 3 D) 4

7-----
Aşağıdaki sözcüklerden hangisinin anlamı yanlış verilmiştir?

- A) Çöl: Çorak, susuz arazi.
B) Emek: Bir işin yapılması için harcanan güç
C) Çelimsiz: Çok güçlü, kuvvetli.
D) Izdırap: Acı çekmek, üzüntü.

8-----
"Ekmeden biçilmez." atasözünün açıklaması aşağıdakilerden hangisidir?

- A) Kişi, ancak ihtiyacı giderilince rahat eder.
B) Allah, her yarattığının rızkını da verir.
C) Kendiliğinden gelen bir şey geri çevrilmez.
D) Emek vermeden hiçbir şey elde edilmez.

9-----
Aşağıdakilerden hangisi hayalî unsurlar içeren bir cümle değildir?

- A) Arkadaşlarımla oyun oynamayı çok severim.
B) Gökyüzünde süzülerek uçuyorum.
C) Gece olunca ay bana gülümsüyor.
D) Uçan halımla tüm dünyayı gezdim.

10-----
Masallarda yoksul bir adam zengin, zengin bir adam yoksul olabilir. Bir padişah bile kolayca tahtından olabilir. Yoksul bir kız bir prensle evlenebilir. Hatta masallarda bir kupa üzerine binen kahraman gözünü açıp kapayınca kadar bin yıl sürecek bir yolculuk yapabilir.

Paragrafta masalların hangi özelliği vurgulanmaktadır?

- A) Kahramanların olağanüstü varlıkları olduğu
B) Gerçeklikten uzak ve hayalî olduğu
C) Yer kavramının olmadığı
D) Zaman kavramının olmadığı

11-----

Aşağıdaki cümlelerin hangisinde benzetme yapılmıştır?

- A) Kırmızı kazak ona çok yakışmıştı.
- B) Dedesini ziyaret edeceği için çok mutluydu.
- C) Yazısı o kadar güzeldi ki inci gibiydi.
- D) Maçı kaybedeceğini hiç düşünmemişti.

12-----

Evimiz sokağın alt başında. Yatıp kalktığım odanın penceresinden bakınca bir baştan bir başa bütün sokağı görüyorum. Bir saat sonra yola çıkacağım. Odamda öte beri eşyaları bavuluma yerleştirmiş doğruluyordum ki sokaktan gelen bir çocuk ağlaması beni pencerenin önüne çekti. Karşı komşumuzun küçük oğlu; yalın ayak, kapılarının önüne yüzü koyun düşmüş, ağlıyor.

Bu metinde aşağıdaki hikâye unsurlarından hangisine yer verilmemiştir?

- A) Yer
- B) Zaman
- C) Olay
- D) Şahıs kadrosu

13-----

Aşağıdaki cümlelerin hangisinde "ki"nin yazımı doğrudur?

- A) İyi ki senin gibi bir annem var.
- B) Bizim araba sizinkinden hızlı.
- C) Duydum ki ödevlerini yapmamışsın.
- D) Evde ki hesap çarşıya uymadı.

14-----

"Çok tatlı konuşmak" anlamına gelen deyim aşağıdakilerden hangisidir?

- A) Ağzından bal damlamak
- B) Dil dökmek
- C) İçi içine sığmamak
- D) Temize çekmek

15-----

Aşağıdaki cümlelerle bir paragraf oluşturulduğunda hangisi giriş cümlesi olur?

- A) "Tamam tamam, gücümü hepinize göstereceğim." demiş.
- B) Ama arkadaşları buna çok sinirlenmiş.
- C) Bir gün güneş dayanamamış, "Madem o kadar güçlüsün bize de göster." demiş.
- D) Rüzgâr kendini çok beğenirmiş. Sürekli arkadaşlarından daha güzel olduğunu söyleyip durmuş.

16-----

"2008 () 2009 sezonunda 1() olan Beşiktaş, şampiyon oldu()" cümlesinde yay ayrıçla gösterilen yerlere sırasıyla aşağıdaki noktalama işaretlerinden hangileri getirilmelidir?

- A) (-) (-) (!)
- B) (-) (,) (...)
- C) (,) (;) (.)
- D) (-) (.) (.)

17-----

Aşağıdaki cümlelerin hangisinin sonundaki noktalama işareti yanlış kullanılmıştır?

- A) Öyle korkuyorum ki...
- B) Önce hangi konudan başlayalım?
- C) Kitap okuma alışkanlığı kazanmalıyız.
- D) Bu soru birkaç kişiye sorulmuştur?

18-----

Aşağıdaki cümlelerin hangisinde "de"nin yazımında yanlışlık yapılmıştır?

- A) Marketten elmada alır mısın?
- B) Yarın dayım da bize gelecek.
- C) Kalemimi evde unutmuş.
- D) Vişneli dondurmayı Ayşe de sever.

19-----

Aşağıdaki cümlelerin hangisinde altı çizili kelimenin kısaltması yanlış gösterilmiştir?

- A) Abim avukat (Av.) olmak istiyor.
- B) Bugün kaç sayfa (s.) kitap okudun?
- C) Telefon (Telef.) numarasını kâğıda yazdı.
- D) Saat (sa.) yedi olunca hemen uyanır.

20-----

Kokar burcu burcu güller.
Öter dallarda bülbüller.
Açar menekşe, sümbüller.
Ne güzeldir, Türkiye'miz.

Bu dörtlüğe getirilebilecek en uygun başlık aşağıdakilerden hangisidir?

- A) Doğa Sevgisi
- B) Doğanın Önemi
- C) Türkiye'miz
- D) Doğada Hayat

21-----

Yazı yazdığı kâğıt ---- olmuştu.

Bu cümlede boş bırakılan yere yazılması gereken pekiştirmeli sözcük aşağıdakilerden hangisidir?

- A) parparça
- B) paraparça
- C) paramparça
- D) paranparça

22-----

Aşağıdaki cümlelerin hangisinde ayrı yazılması gereken "ki" birleşik yazılmıştır?

- A) Sokaktaki sesleri dinliyorum.
- B) Defterdeki ödevlerimi bitirdim.
- C) Akşamki film çok güzeldi.
- D) Pasta o kadar güzelki yemeye doyamazsın.

Adı:
Soyadı:



UZAKTAN EĞİTİM
DENEME -1



Tarih
...../...../2020

1-----
416 812 doğal sayısının okunuşu aşağıdakilerden hangisinde doğru verilmiştir?

- A) Dört yüz altı bin sekiz yüz on iki
B) Dört yüz on altı bin sekiz yüz on iki
C) Dört yüz on altı bin sekiz yüz iki
D) Dört yüz on altı bin sekiz yüz yirmi iki

2-----
20 861 doğal sayısının çözümlenmiş hâli aşağıdakilerden hangisidir?

- A) $2 \times 10\ 000 + 8 \times 100 + 6 \times 10 + 1 \times 1$
B) $2 \times 1000 + 8 \times 100 + 6 \times 10 + 1 \times 1$
C) $2 \times 10\ 000 + 8 \times 1000 + 6 \times 10 + 1 \times 1$
D) $2 \times 10\ 000 + 8 \times 1000 + 6 \times 100 + 1 \times 10$

3-----
 $314\ 716 < \square < 314\ 724$

Bu sıralamada \square yerine aşağıdaki sayılardan hangisi getirilemez?

- A) 314 718 B) 314 722
C) 314 723 D) 314 724

4-----
Aşağıda sayılar, en yakın yüzlüğe yuvarlanmış hâllerile eşleştirilirken hata yapılmıştır.

Buna göre, kaç numaralı eşleştirme yanlıştır?

- | | | |
|---------|---|------|
| 1) 1376 | → | 2400 |
| 2) 2981 | → | 2900 |
| 3) 1814 | → | 1800 |
| 4) 2372 | → | 1400 |

- A) 1 B) 2 C) 3 D) 4

5-----
1500'den başlayarak 1000'er ritmik ileri saydığımızda 6. söylediğimiz sayı kaçtır?

- A) 4500 B) 5500
C) 6500 D) 8500

6-----
 $1 - 7 - 0 - 5 - 2$

Yukarıda verilen rakamlar birer kez kullanılarak oluşturulabilecek 70 000'den büyük en küçük sayı kaçtır?

- A) 71 052 B) 70 502
C) 70 205 D) 70 125

7-----
On binler basamağında 3, yüzler basamağında 4, birler basamağında 7 olan beş basamaklı sayı kaçtır?

- A) 347 B) 30 047
C) 30 407 D) 34 700

8-----
$$\begin{array}{r} 2\ 4\ 6\ 3 \\ +\ 8\ 9\ 4 \\ \hline 3\ 2\ 5\ 7 \end{array}$$

Yukarıdaki toplama işlemini yapan Kaan sonucu hatalı bulmuştur.

Kaan'ın yaptığı hata aşağıdakilerden hangisidir?

- A) Birler basamağını yanlış toplamış.
B) Toplamı yazarken basamakları alt alta yazmamış.
C) Yüzler basamağındaki sayıları toplarken eldeyi unutmuş.
D) Onlar basamağındaki rakamları yanlış toplamış.

9-----
25'ten başlayarak 8 artan bir sayı örüntüsünde 5.terim ile 3.terim arasındaki fark kaçtır?

- A) 57 B) 33 C) 16 D) 12

10-----
Yandaki çarpma işleminde \blacksquare , \blacktriangle ve \star yerine hangi rakamlar gelmelidir?

$$\begin{array}{r} 216 \\ \times 4\blacksquare \\ \hline 1728 \\ + 8\star\blacktriangle \\ \hline \end{array}$$

- | | \star | \blacksquare | \blacktriangle |
|----|---------|----------------|------------------|
| A) | 6 | 8 | 4 |
| B) | 4 | 8 | 6 |
| C) | 4 | 6 | 8 |
| D) | 6 | 4 | 8 |

11-----
18 sayısını 5, 25, 50 ve 100 ile kısa yoldan çarpmak isteyen Ünal aşağıdaki işlemlerin hangisinde hata yapmıştır?

- A) $18 \times 5 = ?$
 $18 \times 10 = 180$
 $180 \div 2 = 90$
B) $18 \times 25 = ?$
 $18 \times 100 = 1800$
 $1800 \div 4 = 450$
C) $18 \times 50 = ?$
 $18 \times 100 = 1800$
 $1800 \div 2 = 900$
D) $18 \times 100 = ?$
 $18 \div 2 = 9$
 $9 \times 50 = 450$

12-----
Bir çiftlikte 6 koyun, 7 tavşan, 8 de tavuk bulunmaktadır.

Buna göre bu çiftlikte bulunan hayvanların toplam ayak sayısı kaçtır?

- A) 61 B) 68
C) 70 D) 76

13

$$A > 264 \div 11$$

Yukarıdaki karşılaştırmaya göre en küçük A doğal sayısı kaçtır?

- A) 25 B) 26 C) 27 D) 28

14

1 $121 \div 11$

2 $999 \div 9$

3 $185 \div 14$

4 $798 \div 21$

Kaç numaralı tahtada bulunan bölme işleminde bölüm 3 basamaklıdır?

- A) 1 B) 2 C) 3 D) 4

15

780 metre uzunluğundaki bir yola yirmişer metre ara ile elektrik direği dikilecektir.

Buna göre, kaç direğe ihtiyaç vardır?

- A) 39 B) 40
C) 41 D) 142

16

Bir çiftlikte bulunan hayvanların $\frac{3}{8}$ 'ü büyükbaş, $\frac{1}{8}$ 'i küçükbaş, kalanı ise tavuktur.

Çiftlikte 240 tane tavuk bulunduğuna göre çiftlikteki büyükbaş hayvan sayısı kaçtır?

- A) 120 B) 140
C) 180 D) 220

17



Sayı doğrusu üzerinde B harfiyle gösterilen kesir aşağıdakilerden hangisidir?

- A) $\frac{3}{7}$ B) $\frac{8}{3}$ C) $\frac{8}{5}$ D) $\frac{7}{4}$

18

4'e bölünebilen yıllar artık yıldır. Buna göre, doğum günü 29 şubat olan bir kişi aşağıdaki yıllardan hangisinde doğum gününü kutlamıştır?

- A) 2000 B) 2001
C) 2002 D) 2003

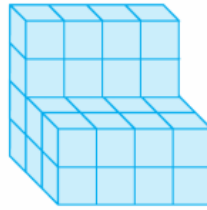
19

Hızlı tren Eskişehir-Ankara arasındaki yolculuğunu 1 saat 27 dakikada tamamlamaktadır.

Eskişehir'den saat 11.38'de hareket eden tren Ankara'ya saat kaçta ulaşır?

- A) 12.38 B) 13.05
C) 13.00 D) 13.15

20

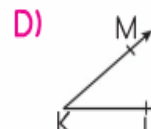
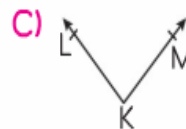


Yukarıdaki yapıya önden bakan bir kişi kaç tane küp görür?

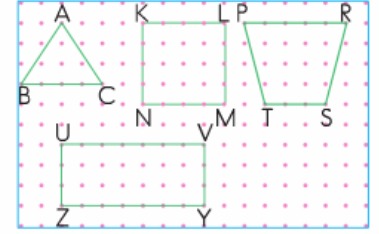
- A) 12 B) 14 C) 16 D) 20

21

Aşağıdaki açılardan hangisi \widehat{KLM} sembolü ile gösterilir?



22



Yukarıda yer alan geometrik şekillere ait isimlendirmelerden hangisi yanlıştır?

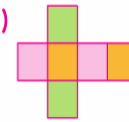
- A) ABC üçgeni
B) KLMN dörtgeni
C) PRST dörtgeni
D) UVZY dörtgeni

23

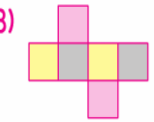
Feyza elindeki küpleri açarak karşılıklı yüzlerini aynı renge boyayıp sınıf panosuna asmak istiyor.

Feyza'nın yaptığı çalışmalardan hangisi pano için uygun değildir?

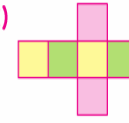
A)



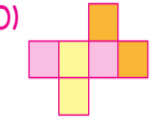
B)



C)

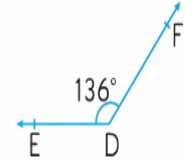


D)



24

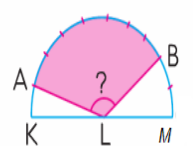
Yandaki D açısının ölçüsü dik açının ölçüsünden kaç derece fazladır?



- A) 43 B) 45 C) 46 D) 48

25

Yandaki şekilde KLM açısının ölçüsü 180° 'dir. KLM açısı 10 eş parçaya bölünmüştür.



Buna göre, ALB açısının ölçüsü kaç derecedir?

- A) 114 B) 120
C) 126 D) 132

Adı:
Soyadı:



UZAKTAN EĞİTİM DENEME -1

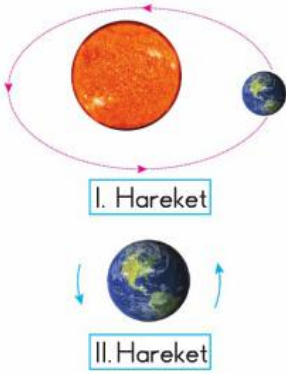


Tarih
...../...../2020

1-----
Kayaç→Kaya→Çakıl→Taş→Kum
Yukarıdaki sıralamanın büyükten kü-
çüğe doğru olabilmesi için hangi
ikisinin yer değiştirmesi gerekir?

- A) Çakıl - Taş
B) Kum - Taş
C) Kayaç - Kaya
D) Kayaç - Taş

2-----



Yukarıda verilen Dünya'mızın ha-
reketleri sonucunda hangi olaylar
gerçekleşir?

- | I. Hareket | II. Hareket |
|------------|-------------|
| A) 1 yıl | 1 saat |
| B) 1 gün | 1 hafta |
| C) 1 yıl | 1 gün |
| D) 1 ay | 1 gün |

3-----

"Ezgi, hastalandığı için annesi onu
doktora götürüyor. Doktor, Ezgi'ye
hastalıklara karşı yeterli dirence sahip
olmadığını belirterek tedavisi boyunca
bazı besinleri bol miktarda tüketmesini
tavsiye ediyor."

Doktorun Ezgi'ye tavsiye ettiği bu
besinler aşağıdakilerden hangisi
olabilir?

- A) Yağlar
B) Vitaminler
C) Mineraller
D) Karbonhidratlar

4-----

- Mineraller bütün besinlerde bu-
lunmaz.
 Vitaminler hastalıklara karşı bizi
korur.
 Ekmek, patates, buğday, yulaf
ve pirinçte bol miktarda karbon-
hidrat bulunur.
 Yağların fazlası vücutta depo-
lanmaz, vücuttan dışarı atılır.

Yukarıdaki ifadeler doğru ise
başındaki kutucuğa "D", yanlış
ise "Y" yazıldığında kutucukların
görünümü hangi seçenekteki gibi
olur?

- A)

D
D
Y
Y

 B)

D
D
D
Y

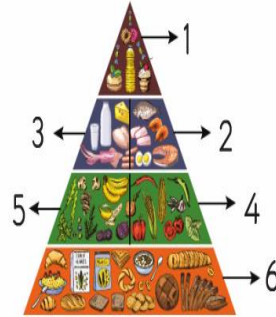
 C)

Y
D
D
Y

 D)

Y
D
Y
D

5-----



Yukarıdaki besin piramidine göre
dengeli beslenmek için numaralan-
mış besinlerden hangisini en az tü-
ketmemiz gerekmektedir?

- A) 1 B) 2 C) 4 D) 5

6-----

Aşağıdakilerden hangisi alkol ve
uyuşturucu madde bağımlılığı olan
insanlara yardım etmek amacıyla
kurulmuştur?

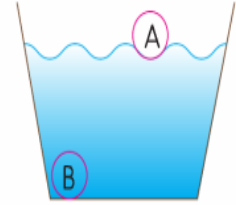
- A) AMATEM B) KIZILAY
C) AFAD D) TEMA

7-----

Aşağıdaki uygulamalardan hangisi
cisimde hızlanmaya neden olur?

- A) Cisme hareketinin tersi yönünde
kuvvet uygulanması
B) Cismin hareketine dik yönde kuv-
vet uygulanması
C) Cisme uygulanan kuvvetin orta-
dan kalkması
D) Cisme hareketi yönünde kuvvet
uygulanması

8-----



Yukarıdaki deneyde A ve B madde-
lerinin sudaki konumları verilmiştir.

Buna göre, aşağıdakilerden hangisi
söylenebilir?

- A) A maddesi tahta kaşık, B maddesi
madeni para olabilir.
B) A maddesi çivi, B maddesi bilye
olabilir.
C) A maddesi makas, B maddesi pin-
pon topu olabilir.
D) A maddesi tahta, B maddesi boş
plastik şişe olabilir.

9-----



Makarna-su karışımı

Yukarıdaki karışımı ayırmak için kul-
lanılacak yöntem hangisidir?

- A) Eleme
B) Miknatısla ayırma
C) Süzme
D) Isıtma

10-----

Ali aydınlatma aracı tasarlamak istiyor.

Ali'nin aşağıdakilerden hangisini yapması doğru olur?

- A) Kullanımı kolay bir model belirler.
- B) Tasarrufu ön planda tutmaz.
- C) İnsan sağlığını tehlikeye atacak maddeler kullanır.
- D) Dayanıklılığı göz ardı eder.

SOSYAL BİLGİLER

1-----

Dedesi Levent'e "Yavrucuğum bizim zamanımızda - - - - yoktu. Biz arkadaşlarımızla - - - - oynardık." dedi. Bu cümlede boş bırakılan yerlere sırasıyla aşağıdakilerden hangisi yazılmalıdır?

- A) topaç, körebe
- B) beştaş, bez bebek
- C) bilgisayar, çelik çomak
- D) birdirbir, bilgisayar

2-----

Aşağıdakilerin hangisi Millî Mücadele yıllarında Atatürk'ün yaptıkları arasında yer almaz?

- A) Samsun'a çıkması
- B) TBMM'yi açması
- C) Toplantılar düzenlenmesi
- D) Ölçü ve tartıda değişiklik

3-----

Millî Mücadele kahramanları ve mücadele ettikleri cephele aşağıdakilerden hangisinde yanlış eşleştirilmiştir?

- A) Doğu Cephesi - Kâzım Karabekir
- B) Batı Cephesi-İsmet Paşa
- C) Kuzey Cephesi - Hasan Tahsin
- D) Güney Cephesi - Ali Saip Bey

4-----

Akışkan ince kumun bir bölmeden diğerine akmasıyla geçen zamanı belirten saat çeşidi aşağıdakilerden hangisidir?

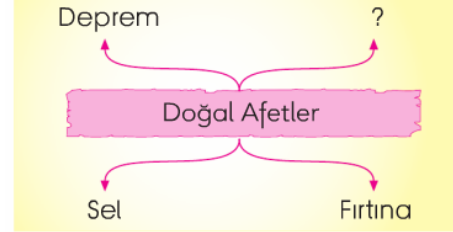
- A) Pilli saat
- B) Kurmalı saat
- C) Kum saati
- D) Güneş saati

5-----

Aşağıdakilerden hangisi beşerî unsur değildir?

- A)  Köprü
- B)  Ev
- C)  Yol
- D)  Göl

6-----



Yukarıdaki şemada "?" yerine hangisi getirilebilir?

- A) Yağmur
- B) Kar
- C) Çiğ
- D) Rüzgâr

7-----

- 1 Uçak → Haberleşme
- 2 İlaç → Sağlık
- 3 Telefon → Ulaşım
- 4 Bilgisayar → Eğitim

Yukarıdaki eşleştirmelerden hangileri doğrudur?

- A) 1 ve 2
- B) 3 ve 4
- C) 1 ve 3
- D) 2 ve 4

8-----


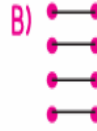

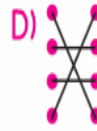
Aşağıdakilerden hangisi bilinçli tüketicilerin ambalajlanmış ürünlerin üzerinde aradığı işaretlerden biri değildir?

- A) 
- B) 
- C) 
- D) 

9-----

• Guglielmo Marconi • Radyo
• Johannes Gutenberg • Stetoskop
• Rene Laennec • Ultrason
• Lazaro Spallanzoni • Matbaa

Mucitler ile icatları aşağıdakilerin hangisinde doğru eşleştirilmiştir?

- A) 
- B) 
- C) 
- D) 

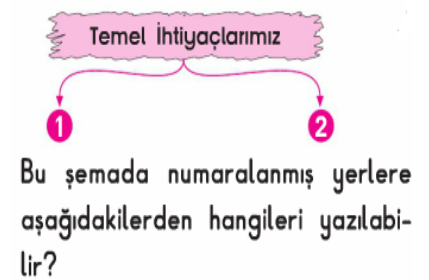
10-----



Verilen şemada numaralanmış yerlere sırasıyla aşağıdakilerden hangisi gelmelidir?

- | 1 | 2 | 3 |
|------------|---------|---------|
| A) Üretim | tüketim | dağıtım |
| B) Tüketim | dağıtım | üretim |
| C) Dağıtım | üretim | tüketim |
| D) Üretim | dağıtım | tüketim |

11-----



- | 1 | 2 |
|----------|----------|
| A) Ekmek | Su |
| B) Su | Cips |
| C) Ev | Çikolata |
| D) Giyim | Spor |

Adı:
Soyadı:



UZAKTAN EĞİTİM
DENEME -1



Tarih
...../...../2020

1-----



- A) Come in
B) Open the window
C) Look at the board
D) Close the door

2-----



Hangi kelimenin görseli verilmemiştir?

- A) Door B) Pencil
C) Window D) Ruler

3-----

Can you give me your eraser?
-----.



- A) No, I can't
B) Be quiet
C) Sorry, not right now
D) Here you are

4-----



- A) Yes, I am B) It is in Britain
C) Yes, it is D) No, she isn't

5-----



Görseli verilen kişi için hangisi söylenebilir?

- A) She is Turkish.
B) She is from Pakistan.
C) She is American.
D) She is Russian.

6-----

These people ---- from Japan.



- A) is B) are not
C) isn't D) are

7-----



This is ---- bike.
He can ---- it.

- A) her - climb B) his - ride
C) my - drive D) your - dive

8-----



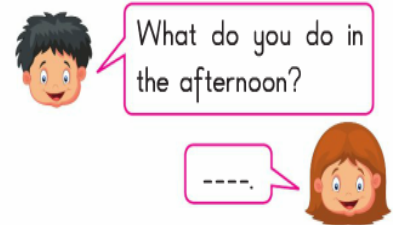
- A) No, he isn't B) Yes, he can
C) Yes, he is D) No, he can't

9-----



- A) playing chess
B) reading comics
C) riding a bike
D) watching cartoons

10-----



- A) I wake up
B) I have breakfast
C) I do my homework
D) I go to bed

11-----

in the morning | teeth brush my

Verilen kelimelerle anlamlı bir cümle oluşturulduğunda son ifade hangisi olur?

- A) teeth B) in the morning
C) brush D) my

12

Yolda gördüğüm bir yavru kediye süt verdim. Onu yol kenarına aldım. Arabaların kediye zarar vermesini engelledim. Ara sıra arkadaşlarımla birlikte yavru kediye yiyecekler verip onu seviyoruz.



Bu öğrencinin davranışının İslam dinindeki karşılığı aşağıdakilerden hangisidir?

- A) Sevap
- B) Günah
- C) Haram
- D) Vacip

13

- Allah'a (c.c.) olan inancımızı ifade etmiş oluruz.
- Her işe onun adı ile başlamış oluruz.
- Yapacağımız işlerde onun yardımını isteriz.

Yukarıda hangi dinî ifadenin önemi anlatılmıştır?

- A) Bismelinin
- B) Sevabın
- C) Günahın
- D) Kur'an'ın

14

- Örnek kişilerdir.
- Allah'tan (c.c.) aldıkları buyrukları insanlara aktarırlar.
- Seçilmiş kişilerdir.
- Emanete sahip çıkmazlar.

Yukarıdakilerden kaç tanesi peygamberlerin özelliklerindedir?

- A) 1
- B) 2
- C) 3
- D) 4

15

"Komşusu aç iken tok yatan bizden değildir." (Hadis)

Peygamberimizin (s.a.v.) bu sözü İslam'ın aşağıdaki şartlarından hangisi ile ilişkilidir?

- A) Namaz
- B) Oruç
- C) Hac
- D) Zekât

16

Kur'an-ı Kerim'de bir cüz kaç sayfadan oluşur?

- A) 10
- B) 20
- C) 30
- D) 40

17

Özge Hanım, kız kardeşini ziyarete Antalya'ya gitmiştir.

Buna göre Özge Hanım hangi hakkını kullanmıştır?

- A. Seyahat hakkı
- B. Konuşma hakkı
- C. Dinlenme hakkı
- D. Sağlık hakkı

18

- ❖ Başkalarının haklarına saygı duymaktır.
- ❖ Yaşanan sorunlara karşı duyarsız olmaktır.
- ❖ Haklarımızı kullanırken başkalarının özgürlüklerine dikkat etmemektir.
- ▼ Bize ait sorunlarla başkalarına zarar vermemektir.

Yukarıda hak ve özgürlüklerle ilgili verilen bilgilerden hangileri yanlıştır?

- A. ❖ ❖
- B. ❖ ▼
- C. ❖ ❖ ❖
- D. ❖ ▼

19

Adaletli olan bir kişi aşağıdaki davranışlardan hangisini yapmaz?

- A. Huzuru sağlamak için haksızlıklara karşı çıkmaz.
- B. Toplumsal hayatta daima haklının yanında olur.
- C. İhtiyacı olanlara yardım elini uzatır.
- D. Başkasına yapılan haksızlıklara da karşı çıkar.

20

Eşitlik, kurallar ve ile güvence altına alınmıştır.

Haklının haksızdan ayrılmasına ve haksızın ceza almasına denir.

Yukarıdaki boşluklara sırasıyla hangi kelimeler gelmelidir?

- A. hak- yasa
- B. eşitlik- adalet
- C. adalet- yasalar
- D. yasalar- adalet

21

Eda televizyon izlemek isterken kardeşi Feyza kitap okumak istiyor. Televizyonun sesinden rahatsız olan Feyza, televizyonu kapatmayan Eda'yla tartışmaya başlıyor.

Yukarıdaki olayda çatışma durumu nasıl çözülebilir?

- A. Feyza kitap okumayı bırakmalıdır.
- B. Eda televizyonun sesini daha fazla açmalıdır.
- C. Feyza kardeşine ceza vermelidir.
- D. Feyza kitabını başka bir odada okumalıdır.

22



Efeciğim, bu günlük bilgisayar oynamaya süren doldu. Dişlerini fırçala ve yatmaya hazırlan.

Yukarıdaki konuşmada Efe, babasına hangi cevabı verirse doğru yapmış olur?

- A. Babacığim biraz daha oynamak istiyorum.
- B. Baba yatmak istemiyorum.
- C. Sürem daha dolmadı 1 saat daha oynayacağım.
- D. Babacığim ben de şimdi kapatıp yatmak için hazırlanıyorum.

Deneme Sınavımızda Toplam 90 soru vardır. Süremiz 120 dakikadır. Soruları dikkatlice okuyalım.

Soruların çözümleri enes sert YouTube'de 6 Nisan 'da yayınlanacaktır.