



7. Birinci İnönü Savaşı'nın zaferle

noktalamasından sonra, TBMM Hükümeti temsilcileri ie Afganistan arasında 1 Mart 1921 tarihinde bir dostluk antlaşması imzalandı. Buna göre;

- I. Taraflardan biri saldırıya uğrarsa diğer taraf, saldırıya uğrayana yardım edecektir.
- II. TBMM, Afganistan'a öğretmen ve subay gönderecektir.
- III. İki ülkede karşılıklı elçiler göndermiştir.

hangi alanda iki ülke arasındaki ilişkileri geliştirdiği söylenemez?

- | | |
|-----------|-------------|
| A) Eğitim | B) Siyasi |
| C) Askeri | D) Ekonomik |

8. Maraş 10 ay İngiliz işgalinden sonra

Fransızlara verildi. Fransızlar buraya Ermenilerden oluşan askeri birlikler getirdiler. Burada Ermeniler çeşitli taşkınlıklarda bulundular. Sütçü İmam iki Türk kızının yüzünü açmaya çalışan iki Ermeni askerini öldürerek direnişi başlattı. Bir gece Fransızlar Maraş Kalesi'nden Türk bayrağını indirip kendi bayraklarını asınca bu bardağı taşıran damla oldu. Ulu Cami imamı Rıdvan Hoca "Kalesinde düşman bayrağı dalgalanan bir ülkede Cuma namazı kılmak caiz değildir" diyerek halkı harekete geçirmiştir. 20. ve 3. Kolordulardan gelen subaylarla halk Fransızları kışlalarında sıkıştırdı. 11 Şubat 1920'de Fransızlar kenti terk etmek zorunda kaldı.

Bu bilgilere göre aşağıdakilerden hangisi söylenemez?

- A) Fransızların Anadolu'yu terk ettiği
- B) Maraş halkının direnişi başarıya ulaştığı
- C) Direnişi Sütçü İmam'ın başlattığı
- D) Ermenilerin, işgallere destek verdiği

9. İngiltere ve Fransa, Osmanlı Devleti'nin

I.Dünya Savaşı'nda tarafsız kalmasını ve savaşa girmemesini istiyordu. Böylece Osmanlı topraklarında yeni cephele açılmayacak, Güney Akdeniz kıyısındaki ve Uzak Doğu'daki sömürgelerine giden yollar güven altında olacaktı. İtilaf Devletleri, Osmanlı sırf savaşa girmesin, tarafsızlığını korusun diye kapitülasyonları kaldıracaklarını ve borçları silme konusunda yardım edeceklerini bildirdiler. Balkan Savaşları sırasında Osmanlı Devleti; İngiltere, Fransa ve Rusya'nın güven vermeyen tutumlarından dolayı bu devletlerden uzaklaştı.

Buna göre, aşağıdakilerden hangisi söylenemez?

- A) Osmanlı'nın jeopolitik konumunun önemli olduğu
- B) İtilaf Devletleri'nin ekonomik olarak Osmanlı'ya yardım edeceği
- C) Osmanlı'nın Almanya'nın yanında savaşa girdiği
- D) İtilaf Devletleri'nin, Osmanlı'nın asker sayısından çekindiği

10. "Ben tebaamın Müslümanını camide, Hristiyanını kilisede, Musevîsini havrada fark ederim. Aralarında fark yoktur. Cümlesi hakkında muhabbet ve adaletim kavidir ve hepsi hakikî evlâdımdır."

(Sultan II. Mahmud)

Sultan II.Mahmud'un yukarıdaki sözü, Osmanlı Devleti'nin dağılmasını önlemek amacıyla ortaya çıkan fikir akımlarından hangisi ile ilgilidir?

- | | |
|-----------------|--------------|
| A) İslamcılık | B) Türkçülük |
| C) Osmanlıcılık | D) Batıcılık |



5. Bu haritada verilen Birinci Dünya Savaşı'nın başında oluşan bloklar ile ilgili,

- I. Osmanlı Devleti Almanya'nın yanında savaşa girmesi
- II. İtalya'nın savaşın gidişatında saf değiştirdiğini
- III. Savaşa katılan devletlerinin amacının sömürgecilik olduğunu

çıkarımlarından hangisi ya da hangilerine ulaşılabilir?

- A) Yalnız I B) Yalnız II C) II ve III D) I, II ve III

DENEME SINAVI- 8.SINIF

6. Büyük Millet Meclisi'ne karşı çıkarılan ayaklanmaların bazıları aşağıda tabloda verilmiştir.

İstanbul Hükümeti Tarafından Çıkarılan İsyanlar	Kuva-yı Milliye Yanlısı Olup Sonradan Ayaklananlar
<ul style="list-style-type: none"> ▪ Kuva-yı İnzibatiye(Halifelik Ordusu) Ayaklanması ▪ Anzavur Ayaklanması <p><i>Ali Fuat Paşa ve Ethem Bey birlikleri tarafından bastırıldı.</i></p>	<ul style="list-style-type: none"> • Ethem Bey İsyanı • Demirci Mehmet Efe İsyanı <p><i>Demirci Mehmet Efe isyanını Refet Bey , Ethem Bey isyanını ise İsmet Bey komutasındaki düzenli ordu birlikleri bastırdı.</i></p>

Buna göre verilen isyanların özellikleri arasında;

- I. Ayaklanmalar düzenli ordu tarafından bastırılmıştır.
- II. BMM'nin Anadolu'daki otoritesi artmıştır.
- III. Ülkede milli birlik ve beraberliğin bozulmasına sebep olmuştur.

çıkarımlarından hangilerine ulaşılabilir?

- A) Yalnız I B) I ve II C) II ve III D) I, II ve III



LGS DENEME SINAVI-3

1. Bu testte 10 soru vardır.

Adı & Soyadı :

2. Sınav süresi 15 dakikadır.

Sınıfı :

1. Harp Akademisinden sınıf arkadaşı olan General Asım Gündüz de bu konuda şunları söylüyor: "...Doğup büyüdüğü Selanik'in Batı'ya daha çok bağlantılı bulunması sebebiyle olacak dikkati çeken fikirleri vardı. Etrafına topladığı arkadaşlarla cesaretle konuşuyor ve onları güzel konuşmasıyla kısa zamanda tesiri altına alıyordu... İttihatçıların Paris'te yayımladıkları gazeteleri getiriyordu... Bizler, vatan, millet, Türklük fikirlerini çok defa, Harp Akademisi sıralarında ondan duymuştuk..."

Yukarıdaki Metinde Mustafa Kemal'in kişilik özelliklerinden hangisi değinilmemiştir?

- A) Liderlik B) Açık sözlülük
C) Milliyetçilik D) Askeri dehası

2. Erzurum Kongresi'nde alınan " Kuvay-i Milliye'yi etkin, milli iradeyi hakim kılmak esastır." Kararı

I. Milis güçlerin direnişe başlaması
II. TBMM'nin açılması
III. Sevr Barış Antlaşması'nın kabul edilmesi
doğrultusunda yapıldığı söylenebilir?

- A) Yalnız I B) I ve II
C) I ve III D) I, II ve III

3. 30 Ekim 1918 tarihinde I. Dünya Savaşını fiili olarak bitiren, Mondros Ateşkes Antlaşması imzalanmıştır. Osmanlı Devleti'nin orduları terhis edilmeye başlanmış ve cephaneleri toplatılmıştır. 15 Mayıs 1919'da İzmir'in işgali ile başlayan ve işgalleri Anadolu'nun her yerine yaymak isteyen İtilaf Devletleri, Samsun'da Türklerin ordularının terhis edilmediğini ve silahların toplatılmadığını ileri sürerek bölgeyi işgal etme tehdidinde bulunmuşlardır.

Yukarıdaki metinle ilgili aşağıdakilerden hangisi çıkarılamaz?

- A) İtilaf Devletleri, işgalleri kolaylaştırmaya çalıştığı
B) Osmanlı Devleti'nin resmen sona erdiği
C) Yapacağı işgalleri yasal dayanak oluşturdukları
D) Osmanlı Devleti savunmasız bırakılmaya çalışıldığı

4.

HAKİMİYET-İ MİLLİYE GAZETESİ

*Cephelerde felah ve istiklal ordusu
Yunanla mücadele ederken, Ankara'da
muallimler programını hazırlıyor.
Vatandan milli ordu düşmanı ve muallim
ordusu da cehaleti kovacak.*

18 Temmuz 1921

Yukarıdaki Hakimiyet-i Milliye gazetesinin "İki Cephe" başlıklı köşe yazısı verilmiştir. Bu köşe yazısı hangi gelişmeyle ilgili yazılmış olabilir?

- A) Maarif Kongresi'nin toplanması
B) İstiklal Mahkemelerin kurulması
C) Türkiye İktisat Kongresi'nin toplanması
D) Mebusan Meclisi'nin toplanması

Adı:
Soyadı:



Sosyal-Din Tema Değerlendirme



Tarih
...../...../2019

1-----

KAZA ve KADER





Allah'ın her şeyi belli bir ölçü, düzen ve uyum içerisinde programlamasına kader denir.

Zamanı geldiğinde olayların bu programa uygun olarak gerçekleşmesine kaza denir.

Allah'ın yarattığı hiçbir şeyde düzensizlik ve dengesizlik görülmez.

İnsan doğum, ölüm zamanı gibi konularda kaderini kendisi belirler.

Verilen tabloda doğru olan ifadeler karalandığına aşağıdaki şekillerden hangisi ortaya çıkar?

- A)  B) 
- C)  D) 

2-----



Metne göre evrenin yaratılışı ile ilgili aşağıdakilerden hangisi söylenemez?

- A) Kainat canlıların yaratılışına uygun yaratılmıştır.
B) Evrendeki yaratılış tesadüf eseri olmamıştır.
C) Canlıların yaşaması için gerekli olanlar özel olarak yaratılmıştır.
D) Yaşamın devamı olan sistem kendiliğinden devam etmektedir.

3-----

"Güneş ve Ay bir sisteme göre hareket eder.... Göğü Allah yükseltti ve mizanı dengeli bir şekilde yarattı. Sakin dengeyi bozmayın." (Rahman/5-8)

Aşağıdakilerden hangisi bu ayetin mesajına uygun bir davranış değildir?

- A) Cam ve plastik atıkların geri dönüşüme kazandırılması
B) Kimyasal atıkların deniz ve akarsulara karışması için önlem alınması
C) Bol ürün elde etmek için tarımsal ürünlere hormon takviyesi yapılması
D) Fabrika bacalarına filtre takılması

4-----



Adaletin olduğu yerde barış ve huzur olur.





Bu yarığdan hareketle Toplumsal yasalarla ilgili olarak aşağıdakilerden hangisi söylenemez?

- A) İnsanlar arasındaki ilişkileri düzenler.
B) Allah'ın evrene koyduğu yasalardan biridir.
C) Toplumsal olaylarla ilgili sebep - sonuç ilişkisini ifade eder.
D) Fiziksel yasalarla aynı konuları inceler.

5-----

- Yazın çalışan, kışın gülüşür.
- Yazın başı pişenin, kışın aşı pişer.
- Yazın sıcakta terleyen kışın soğukta üşümez.

Bu sözler hangi alanla ilgili söylenmiştir?

- A)  B) 
- C)  D) 

6-----

"Biz, her şeyi bir ölçüye göre yarattık."

(Kamer/49)

Bu ayete göre aşağıdakilerden hangisi söylenemez?

- A) Evrendeki her şey bir ölçü ve düzen içerisinde yaratılmıştır.
B) Evrendeki canlı ve cansız varlıklar eşsiz bir uyum içindedir.
C) Evrendeki her varlığın bir amacı vardır.
D) Evrendeki varlıklar evrimle meydana gelmiştir.

7-----

"...Her şeyi yaratmış, ona bir ölçü, biçim ve düzen vermiştir." (Furkan/2)

Altı çizili bölümde aşağıdaki kavramlardan hangisine işaret edilmiştir?

- A) İrade B) Kader
C) Kaza D) Ömür

8-----

"Bilsin ki insan için kendi çalışmasından başka bir şey yoktur." (Necm/39)

"Hiç kimse, kendi emeğiyle kazandığından daha hayırlı bir lokma yememiştir." (Buhari)

Yukarıdaki ayet ve hadis kaderle ilgili kavramlardan hangisiyle yakından ilişkilidir?

- A)  B) 
- C)  D) 

9-----

- I. Deney, gözlem ve araştırmalar neticesinde anlaşılabilir.
II. Evrensel bir niteliğe sahiptir.
III. Madde ve enerjinin oluşumu, değişimi, yapısı, hareketi ve maddeler arası ilişkilerle ilgili prensiplerdir.

Verilen açıklamalar aşağıdakilerden hangisine aittir?

- A) Biyolojik yasalar B) Fiziksel yasalar
C) Toplumsal yasalar D) Bilimsel buluşlar