

Adı:
Soyadı:



Matematik
Tema Değerlendirme



Tarih
...../...../2019

MATEMATİK

1-----

Yandaki yapı kaç eş küpten oluşmuştur?



- (A) 15
(B) 17
(C) 19
(D) 21

2-----

toplama - masa - saman - mantı - ?

Yukarıdaki sözcükler belli bir kurala göre dizilmiştir. Buna göre "?" yerine hangi sözcük yazılabilir?

- (A) timak (B) tirmik
(C) timar (D) tıpkısı

3-----

2	4	8
6	12	24
18	36	

- (A) 72
(B) 48
(C) 64
(D) 96

4-----

ELİF sözcüğünü gösteren sayı aşağıdakilerden hangisi olabilir?

- (A) 7675 (B) 3686
(C) 5873 (D) 4649

5-----

SET 743
TOP 361
PAS 187

Yukarıdaki sözcükler sayılarla gösterilmiştir. Buna göre ATA sözcüğünü gösteren sayı hangisidir?

- (A) 838 (B) 673 (C) 386 (D) 383

6-----

Dünden önceki gün cumartesi olduğuna göre yarın hangi gündür?

- (A) Pazartesi (B) Pazar
(C) Salı (D) Çarşamba

7-----

Şebnem, Murat'ın solunda, Levent ise Şebnem'in solundadır. Buna göre Levent ile Murat arasında kim oturmaktadır?

- (A) Murat (B) Berk
(C) Levent (D) Şebnem

8-----

Annem benden 22 yaş büyüktür. Ben babamdan 26 yaş küçük olduğuma göre babam, annemden kaç yaş büyüktür?

- (A) 3 (B) 4
(C) 5 (D) 6

9-----

Büyük bir kutunun içinde 4 kutu, bu kutuların her birinin içinde de üçer kutu vardır. Kutuların hepsi kaç tanedir?

- (A) 12 (B) 9
(C) 17 (D) 19

10-----

Hangisi bir yönüyle diğerlerinden farklıdır?




11-----

SİMETRİ sözcüğü hangi sayıyla kodlanmış olabilir?

- (A) 2345678
(B) 1123456
(C) 1234456
(D) 1234562

12-----



Yukarıdaki sayı dizisi hangi sayıyla devam etmelidir?

- (A) 5050 (B) 5870
(C) 6480 (D) 6589

13-----

Hangi sözcük bir yönüyle diğer sözcüklerden farklıdır?

- (A) saf (B) diz
(C) dal (D) can

14-----

Hangi cümlede anlatılan iş diğerlerinden farklı bir zamanda yapılmıştır?

- (A) Depremde birçok insan hayatını kaybetti.
(B) Her zaman böyle erken gelir.
(C) Neden geç kaldın?
(D) Makasla değişik şekiller elde etti.

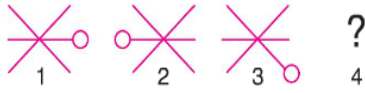
15-----

Tablodaki sayılar belli bir kurala göre dizilmiştir. Buna göre "?" yerine hangi sayı yazılmalıdır?

3	80	91
15	400	455
30	?	910

- (A) 700 (B) 750
(C) 800 (D) 850

16-----




Yukarıdaki ilk üç şekil belli bir kurala göre dizilmiştir. Aynı kurala uyan dördüncü şekil hangisidir?



17-----

Hangisi bir yönüyle diğerlerinden farklıdır?



18-----

Tablodaki sayılar belli bir kurala göre dizilmiştir. Buna göre A yerine hangi sayı gelmelidir?

342	81
9	A

- (A) 29 (B) 33
(C) 35 (D) 38

19-----

Hangisi bir yönüyle diğerlerinden farklıdır?

- (A) palamut
(B) çam
(C) papatya
(D) kavak

20-----

Arda yandaki yapıdan 8 tane daha çiziyor. Ardanın çizdiği toplam küp sayısı kaç olur?



- (A) 256 (B) 274
(C) 288 (D) 306

21-----

kazak - zakkum - kumsal - ?

Yukarıdaki sözcükler belli bir kurala göre dizilmiştir. Buna göre "?" yerine hangi sözcük yazılabilir?

- (A) salyangoz (B) salıncak
(C) sandal (D) saman

22-----

kirli - lira - rakam - kamçı - ?

Yukarıdaki sözcükler belli bir kurala göre dizilmiştir. Buna göre "?" yerine hangi sözcük yazılmalıdır?

- (A) kamyon (B) çivi
(C) çingirak (D) çınar

23-----



Yukarıdaki sayı dizisi hangi sayıyla devam etmelidir?

- (A) 82 (B) 92
(C) 99 (D) 102

24-----

Yandaki tabloda "?" işaretlerinin yerine gelecek harfleri bulup yukarıdan aşağıya okuduğumuzda bir varlığın adını bulacağız. Buna göre bu varlık hangisidir?

? İ L E T
K A B ? K
Ü T Ü ? Ü
S A K ? Z
B E Ş İ ?

- (A) batak (B) ballı
(C) biber (D) balık

25-----

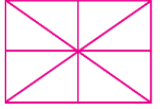


Yukarıdaki sayı dizisi hangi sayıyla devam etmelidir?

- (A) 150 (B) 165
(C) 180 (D) 190

26-----

Yandaki dikdörtgenin içinde kaç tane üçgen vardır?



- (A) 8 (B) 12
(C) 10 (D) 16

27-----

Hangi sözcük bir yönüyle diğerlerinden farklıdır?

- (A) Korku
(B) Düşünce
(C) Kalem
(D) Cesaret

28-----




Harfleri karışık olarak verilen sözcüğün eş anlamlısı kaç harflidir?

- (A) 3 (B) 4 (C) 5 (D) 6

29-----

Hangisi bir yönüyle diğerlerinden farklıdır?



30-----



Heceleri karışık olarak verilen ilimiz hangi yönüyle aşağıdaki illerden biriyle aynı özelliği taşımaktadır?

- (A) Kahramanmaraş (B) Trabzon
(C) Bolu (D) Adana