

ADI SOYADI :

PUAN: Çok iyi İyi Geliştirilmeli

6 Nisan 2018 Cuma



ŞEF OLMAK

Fırat, Yasemin ve Oya bir aşçılık kulübü kurdular. Haftada bir kez Oya'nın evinde buluşuyorlardı. Bu haftaki buluşmalarında pasta yapmaya karar verdiler. Annesiyle sık sık pasta yaptığı ve yemek kitabını hep yanında taşıdığı için Yasemin'i şef seçtiler. Yaptıkları ilk pasta hiç kabarmadı. Çünkü maya koymayı unutmışlardı. İkinci pastanın üstü yandı ve içi tamamen çiğ kaldı. Çünkü fırını çok yüksek ısıya ayarlamışlardı. Tüm pahalı pişirilen pastalardan şef olduğu için Yasemin'i sorumlu tuttular.

(İlk beş soruyu şiiire göre cevaplayalım.)

1. Kulüp üyeleri nerede buluşmaktadır?

- A) Yasemin'in evinde
B) Pastacıda
C) Oya'nın evinde

2. Çocukların yaptığı ilk pasta neden kabarmamıştır?

- A) Maya koymayı unuttukları için
B) Yasemin şef olduğu için
C) Yemek kitabına bakmadıkları için

3. Aşçılık kulübünü kuranlar arasında kim yoktur?

- A) Yasemin
B) Annesi
C) Oya

4. Hangisi Yasemin'in şef seçilmesinin nedenlerinden değildir?

- A) Annesiyle sık sık pasta yapması
B) Yemek kitabını hep yanında taşıması
C) Yaşının büyük olması

5. Fırını çok yüksek ısıya ayarlamalarının sonucunda ne olmuştur?

- A) Pasta yandı ve kurudu.
B) Pasta yandı ve içi çiğ kaldı.
C) Pasta kabarmadı.

6. Aşağıdaki cümlelerin hangisinde adın yerine kullanılan sözcük yoktur?

- A) Ömer, sana yardım edebilir.
B) Cevizleri ben kırarım.
C) Murat, problemi çözmüş.

İşleyen demir ışıldar.

Sakla samanı gelir zamanı.

Ne ekersen onu biçersin.

7. Yukarıdaki atasözlerinin hangisinde adın yerine kullanılan bir kelime vardır?

- A) B) C)

8. "Bu kitabı okudun mu?" cümlesindeki boş bırakılan yere aşağıdakilerden hangisi gelmelidir?

- A) Ben B) Sen C) O

"Efe ve Ayşe birlikte sinemaya gittiler."

9. Yukarıdaki ifadeye altı çizili sözcüklerin yerine aşağıdakilerden hangisi yazılabilir?

- A) Biz B) Siz C) Onlar



10. Haritadan Türkiye'nin yerini bulmak için hangi öğrencinin söylediği denizden yararlanılamaz?

- A) Esra B) Banu C) Tuna

11. İstiklal Marşı'mızın yazarı kimdir?

- A) Mustafa Kemal Atatürk
B) Osman Zeki Üngör
C) Mehmet Akif Ersoy

12. Aşağıdaki bilgilerden hangisi yanlıştır?

- A) İstiklal Marşı'mızın bestecisi Osman Zeki Üngör' dür.
B) Bayrağımızda ay ve yıldız vardır.
C) Atatürk'ün Gençliğe Hitabesi, bağımsızlık sembollerimizden biridir.

13. Türkiye'nin başkenti neresidir?

- A) Ankara B) İstanbul C) Selanik

Bayrak, bir millet için çok önemlidir. Çünkü

14. Yukarıdaki cümle aşağıdakilerden hangisi ile tamamlanamaz?

- A) bağımsızlığımızı temsil eder.
B) savaşı temsil eder.
C) vatani ve milleti temsil eder.

15. Aşağıdakilerden hangisi ülkemize komşudur?


- A) Fransa B) Almanya C) Gürcistan





16. Resimdeki çocuklar İstiklâl Marşı söylenirken neden "hazır ol" durumunda saygıyla duruyorlar?

- A) Bayrağımıza ve İstiklâl Marşı'mıza saygı duydukları için
B) Mecbur oldukları için
C) Öğretmenleri öyle istediği için

17. Aşağıdakilerden hangisi bağımsızlık sembollerimizden biri değildir?

- A)  B)  C) **İSTİKLAL MARŞI**
Köküm, sömür bu sefâlarında gönen öl vıcık.
Sözmeden gürdünün süzünde tiken an son ocuk.
Ö benim milletim yıldızlar parlayacak.
Ö benimdir o benim milletimdir aracak.
Çalma, kurban olayım, çehreni ey nazlı Nâzi!
Kahrıman arma bir gül! Ne bu şiddet, bu celâli?
Sana olmaz dökülen kanlarımız sonra helâli.
Hâsıdır, Hâsı'nı rapen, milletim! Aştı öl!
Mehmet Ârif Ersoy

18. Aşağıdaki boyalı şekillerden hangisi bir çeyreği ifade eder?

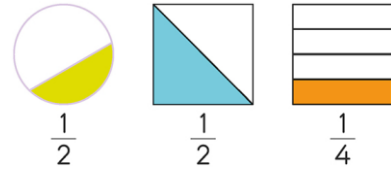
- A)  B)  C) 

19. Hangisi bir bütüne eşit değildir?

- A) 4 çeyrek
B) 2 yarım
C) 3 çeyrek

20. Yandaki elmayı ifade eden kesir aşağıdakilerden hangisidir?

- A) $\frac{1}{2}$ B) $\frac{1}{4}$ C) $\frac{1}{5}$



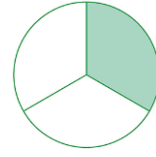
21. Yukarıdaki modellerin gösterdiği kesirler altlarına yazılmıştır. Kaç tanesi yanlıştır?

- A) 3 B) 2 C) 1



22. Yukarıdaki şekille gösterilen kesrin okunuşu hangisidir?

- A) İki de altı
B) Altıda iki
C) Dörtte iki



23. Yukarıda verilen modele göre aşağıdakilerden hangisi yanlıştır?

A) Payı 1, paydası 4 olan kesir şeklindeki gibi modellenilebilir.

B) Boyalı bölge, $\frac{1}{3}$ kesri ile gösterilir.

C) Boyalı bölgeyi gösteren kesrin paydası, 3'tür.

$$\frac{1}{4}, \frac{1}{2}, \frac{4}{4}$$

24. Yukarıdaki kesirlerin paydalarında yazılı olan sayılar sırasıyla hangi seçenekte verilmiştir?

- A) 1, 1, 4
B) 2, 4, 4
C) 4, 2, 4



25. Yukarıda verilen yarım ekmeklerden kaç tane çeyrek ekme elde edilir?

- A) 10 B) 15 C) 20

☺ **KONTROL ETMEYİ UNUTMAYALIM** ☺

NOT: Her soru 4 puandır.