




Adı Soyadı : .....

Ödev Kontrol : .....



◆ Aşağıdaki şiiri okuyalım.

## UÇURTMAM

Bak, uçuyor uçurtmam  
Gökyüzünün mavisinde.  
Kuyruğu var rengârenk  
Kıvrılıyor peşinde.

Bıraksa diyor beni  
Özgürce uçsam.  
Oynayan kuşlar gibi  
Kardeşçe kanat çırpсам.



◆ Aşağıdaki uçurtmayı yönergelere uygun şekilde boyalım.

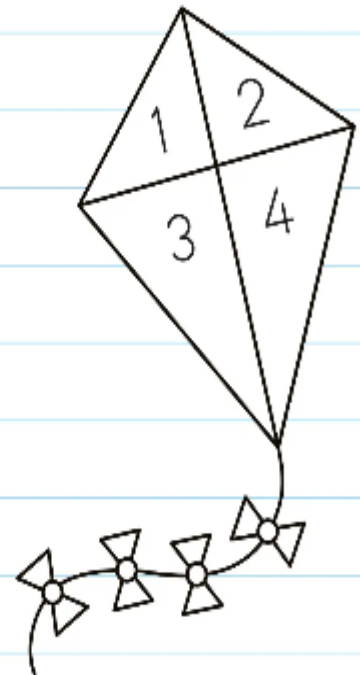
◆ 1 numaralı yeri maviye boyayalım.

◆ 2 numaralı yeri pembeye boyayalım.

◆ 3 numaralı yeri sarıya boyayalım.

◆ 4 numaralı yeri yeşile boyayalım.

◆ Kuyruğunu rengârenk boyayalım.



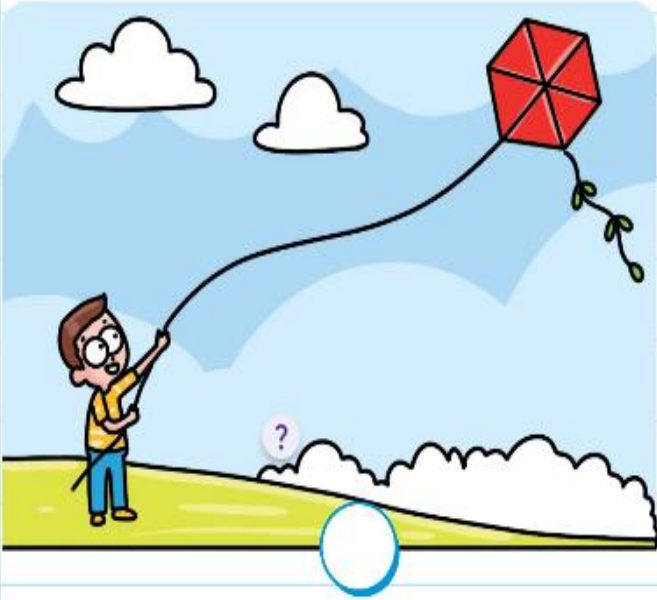
◆ Aşağıdaki soruları şiire göre yanıtlayalım.

? Uçurtma nerede uçuyormuş?

? Uçurtmanın kuyruğu nasılmiş?

? Uçurtma neler yapmak istiyormuş?

◆ Aşağıdaki görselleri oluş sırasına göre numaralandıralım.



## ÇIKARMA İŞLEMİ ALIŞTIRMALARI

Aşağıdaki çıkarma işlemlerini yapalım.

$$\begin{array}{r} 4 \\ - 1 \\ \hline 3 \end{array}$$

$$\begin{array}{r} 8 \\ - 4 \\ \hline \end{array}$$

$$\begin{array}{r} 9 \\ - 6 \\ \hline \end{array}$$

$$\begin{array}{r} 2 \\ - 2 \\ \hline \end{array}$$

$$\begin{array}{r} 3 \\ - 2 \\ \hline \end{array}$$

$$\begin{array}{r} 5 \\ - 3 \\ \hline \end{array}$$

$$\begin{array}{r} 7 \\ - 5 \\ \hline \end{array}$$

$$\begin{array}{r} 6 \\ - 3 \\ \hline \end{array}$$

$$\begin{array}{r} 8 \\ - 2 \\ \hline \end{array}$$

$$\begin{array}{r} 9 \\ - 9 \\ \hline \end{array}$$

$$\begin{array}{r} 6 \\ - 0 \\ \hline \end{array}$$

$$\begin{array}{r} 9 \\ - 8 \\ \hline \end{array}$$

$$\begin{array}{r} 6 \\ - 4 \\ \hline \end{array}$$

$$\begin{array}{r} 8 \\ - 7 \\ \hline \end{array}$$

$$\begin{array}{r} 4 \\ - 4 \\ \hline \end{array}$$

$$\begin{array}{r} 2 \\ - 1 \\ \hline \end{array}$$

$$\begin{array}{r} 4 \\ - 2 \\ \hline \end{array}$$

$$\begin{array}{r} 6 \\ - 5 \\ \hline \end{array}$$

$$\begin{array}{r} 3 \\ - 3 \\ \hline \end{array}$$

$$\begin{array}{r} 7 \\ - 6 \\ \hline \end{array}$$

$$\begin{array}{r} 3 \\ - 0 \\ \hline \end{array}$$

$$\begin{array}{r} 5 \\ - 1 \\ \hline \end{array}$$

$$\begin{array}{r} 7 \\ - 4 \\ \hline \end{array}$$



## ÇIKARMA İŞLEMİ ALIŞTIRMALARI - Ev Etkinliği

Aşağıdaki çıkarma işlemlerini yapalım.

$$\begin{array}{r} 9 \\ - 8 \\ \hline \end{array}$$

$$\begin{array}{r} 8 \\ - 6 \\ \hline \end{array}$$

$$\begin{array}{r} 4 \\ - 4 \\ \hline \end{array}$$

$$\begin{array}{r} 8 \\ - 5 \\ \hline \end{array}$$

$$\begin{array}{r} 6 \\ - 5 \\ \hline \end{array}$$

$$\begin{array}{r} 3 \\ - 0 \\ \hline \end{array}$$

$$\begin{array}{r} 5 \\ - 2 \\ \hline \end{array}$$

$$\begin{array}{r} 8 \\ - 1 \\ \hline \end{array}$$

$$\begin{array}{r} 3 \\ - 1 \\ \hline \end{array}$$

$$\begin{array}{r} 9 \\ - 3 \\ \hline \end{array}$$

$$\begin{array}{r} 5 \\ - 4 \\ \hline \end{array}$$

$$\begin{array}{r} 2 \\ - 2 \\ \hline \end{array}$$

$$\begin{array}{r} 8 \\ - 3 \\ \hline \end{array}$$

$$\begin{array}{r} 9 \\ - 6 \\ \hline \end{array}$$

$$\begin{array}{r} 4 \\ - 2 \\ \hline \end{array}$$

$$\begin{array}{r} 6 \\ - 6 \\ \hline \end{array}$$

$$\begin{array}{r} 7 \\ - 1 \\ \hline \end{array}$$

$$\begin{array}{r} 5 \\ - 3 \\ \hline \end{array}$$

$$\begin{array}{r} 1 \\ - 0 \\ \hline \end{array}$$

$$\begin{array}{r} 7 \\ - 4 \\ \hline \end{array}$$

$$\begin{array}{r} 2 \\ - 1 \\ \hline \end{array}$$










$$\begin{array}{r} 9 \\ - 7 \\ \hline \end{array}$$

$$\begin{array}{r} 6 \\ - 2 \\ \hline \end{array}$$



## TOPLAMA PROBLEMLERİ

Problemleri çözelim.

1	Palyaço tiyatro salonunda 12 kız çocuğu, 6 erkek çocuğu güldürmüştür. Palyaço toplam kaç çocuğu güldürmüştür?	
		
2	Otobüste 4 yolcu vardı. Durakta 7 yolcu daha bindi. Otobüste toplam kaç yolcu oldu?	
		
3	Sivrisinek Hayko dün 5 kişiye konmuştur. Bugün 13 kişiye konmuştur. Hayko 2 günde toplam kaç kişiye konmuştur?	
		
4	Kedimiz Tekir dün 6 fare yakaladı. Bugün ise 8 fare yakaladı. Tekir toplam kaç fare yakalamıştır?	
		
5	Parktaki salıncakta sabah 6, öğle 7, akşam ise 10 çocuk sallanmıştır. Salıncakta sabah ve akşam toplam kaç çocuk sallanmıştır?	
		
6	Civciv Kuki yumurtadan çıkmak için önce 9, sonra 6 gaga darbesi atmış ve yumurtayı kırmıştır. Kuki yumurtayı toplam kaç gaga darbesinde kırmıştır?	
		
7	Kamyonet giderken 5 koli yük taşımıştır. Dönüşte ise 13 koli yük taşımıştır. Kamyonet toplam kaç koli yük taşımıştır?	
		
8	Salı günü 3 saat, perşembe günü 4 saat, pazar günü ise 6 saat televizyon izledim. İsmi P harfi ile başlayan günlerde kaç saat televizyon izlemiştir?	
		
9	Kümeden sabah 8 yumurta, akşam ise 12 yumurta topladım. Bugün kümeden kaç yumurta topladım?	
		
10	Bugün benzinlikten 6 araba, 4 minibüs, 3 motosiklet yakıt almıştır. Bugün benzinlikten kaç tekerlekli taşıt yakıt almıştır?	
