




Aşağıda () ile belirtilen yerlere uygun noktalama işaretlerini getiriniz.

Canım Dedem ()

Yaz tatilinde yanına geleceğim için çok heyecanlıyım () Seninle yine uçurtma uçurmak () bakkala gitmek () piknik yapmak çok eğlenceli olacak () Ben 3 () sınıfa geçeceğim () Karnemi aldıktan sonra senin yanına getirecek babam bizi () Oradaki arkadaşlarım Kerem () Emir () Ceren ve Tülay'la harika günler geçireceğim. Sabahları seninle yürüyüş yapacağız () Dedeciğim () seni görmeyi çok istiyorum ()



Aşağıdaki cümlelerin belirttiği duyguları örnekteki gibi yazınız.

Cümleler	Belirttiği Duygu
İmdat, çocuk balkondan düşecek!	Korku
Eyvah, okula geç kalacağım bugün!	
Aaa, sınıf arkadaşlarım da buradaymış!	
Sakin bir daha meyveleri yıkamadan yemeyin!	
Off, biz sabah beşten beri burada bekliyoruz!	
Hey, vakit geçmeden bu oyuna katıl!	



Aşağıdaki metinde yay ayraç () ile boş bırakılan yerlere uygun noktalama işaretlerini getiriniz.

?

Eyvah () Boncuk yine evden kaçmış () Salona () çalışma odasına () balkona () banyoya baktım ama yok () Bahçeye koştum () Komşulara seslendim () Birlikte aramaya başladık () Ahmet () Çiçek () Melike de bana yardım etti () Sonunda bakkalda bulduk () Oh () Onu yeniden görmek çok güzel ()



Görselle ilgili aşağıdaki cümlelere uygun noktalama işaretini getiriniz.

Çevreyi temiz tutmak hepimizin görevidir

Topladığımız çöpleri nereye atalım

Ooo, yerler o kadar kirlenmiş ki

Çöpleri toplayan arkadaşlarım nereye gitti



Aşağıdaki cümlelerin karşlarına noktalama işareti doğru kullanılmışsa "D", yanlış kullanılmışsa "Y" yazınız.

Çantayı okulda mı unuttun?

Dişlerimi fırçalayıp uyurum.

Aaaa, buraya gelenlere bakın?

Ne varsa toplayıp sepete doldurmuş.

Dün aldığımız çilekler çürümüş,

Kaldırımdaki yaralı kuş yok?

Tüh, çocuk kaydıraftan düştü!

Nerede gelen hediye paketi?



ÖRNEK

Aşağıdaki cümlelerden hangilerinde yazım yanlışı yapılmıştır? Yazım yanlışı yapılan cümleleri işaretleyiniz.

Van Gölü ülkemizin en büyük gölüdür.

Bahçedeki diğer kediler pamuğu köşeye sıkıştırmış.

Yurdumuzda cumhuriyet bayramı kutlamaları var.

Millî Eğitim Bakanlığı okullarımıza kitap gönderdi.



Aşağıdaki soruları cevaplayınız.

1. Bir iş yerinde 36 kişi çalışıyordu. Şirkete yeni alınan personellerle şirkette çalışan kişi sayısı 55 oldu.

Şirkete sonradan kaç personel alınmıştır?

?

2. Bir çiftlikteki inek ve öküzlerin toplam sayısı 37'dir.

Çiftlikte 15 öküz bulunduğuna göre inek sayısı kaçtır?

?

3. Üç toplananlı bir toplama işleminde 1. toplanan 17, ikinci toplanan 25, toplam 82'dir.

Buna göre bu işlemde 3. toplanan kaçtır?


?

Okul kantininde 50 adet tost ekmeği vardı. Kantinde 17 kaşarlı, 15 karışık tost satıldı. Kantinde kaç adet tost ekmeği kalmıştır?




?

Mini Test Matematik




1.  64 sayfalık kitabımın 42 sayfasını okudum. Geriye okuyacak kaç sayfam kaldığını sayıları en yakın onluğa yuvarlama yöntemini kullanarak tahmin etmek istiyorum."

Zeynep'in okuyacağı tahmini sayfa sayısını bulmak için yapılacak işlem hangi seçenekte verilmiştir?

- A) $60 - 42 =$
B) $60 - 40 =$
C) $64 - 40 =$


2.  $85 - 21 = ?$

Yukarıda verilen işlemin tahmini sonucunu, sayıları en yakın onluğa yuvarlama yöntemini kullanarak bulan öğrenci hangisidir?

- A)  70 B)  64
C)  60


3. Aşağıda verilen çıkarma işlemlerinden hangisinin tahmini sonucu ile işlem sonucu arasındaki fark en azdır?

- A) $\begin{array}{r} 42 \\ - 17 \\ \hline \end{array}$ B) $\begin{array}{r} 58 \\ - 24 \\ \hline \end{array}$
C) $\begin{array}{r} 64 \\ - 35 \\ \hline \end{array}$

4.  $? - 45 = 16$


Yukarıdaki işlemde eksilen sayıyı bulabilmek için yapılması gereken işlem, hangi seçenekte verilmiştir?

- A) $45 - 16 = 29$
B) $45 + 16 = 61$
C) $54 + 16 = 70$

5.  $? + 36 = 20 + 26$

Yukarıda verilen işlemlerde eşitliğin sağlanabilmesi için "?" yerine yazılması gereken doğal sayı kaçtır?

- A) 26 B) 20 C) 10

6.  $27 + 18 = 15 + 30$

$34 + 20 = 30 + 24$

$24 + 42 = 30 + 36$

Kutucuklarda verilen eşitliklerden kaç tanesi doğrudur?

- A) 3 B) 2 C) 1

7.  Seda
Ben ve ikiz kardeşim 9 yaşındayız. Ablam bizden 7 yaş büyüktür.

Seda'nın ifadesine göre üç kardeşin üç yıl sonraki yaşları toplamı kaç olur?

- A) 16 B) 34 C) 43

8. 5'ten başlayıp ileriye doğru beşer ritmik sayarken 50'den önce söylediğimiz doğal sayı ile, 2'den başlayıp ileriye doğru ikişer ritmik sayarken 18'den sonra söylediğimiz doğal sayının farkı kaçtır?

- A) 50 B) 35 C) 25


9. 27 fazlası iki basamaklı en büyük doğal sayıya eşit olan sayı kaçtır?


- A) 72 B) 54 C) 37


10. Annem her birinde 1 deste yumurta bulunan 4 koli yumurta almıştır. Yumurtaların 8 tanesini kullanmış, 6 yumurta da kırılmıştır.

Buna göre kaç yumurta kalmıştır?

- A) 14 B) 26 C) 32

11.  Ebru
15 yaşındayım.

 Ege
Efe'den büyük, Ebru'dan küçüğüm.

 Efe
9 yaşındayım.

Çocukların ifadelerine göre yaşlarının toplamı en fazla kaç olabilir?

- A) 26 B) 34 C) 38