


Ayaz, mavi kalemle bir balık çizdi.

1) Kim bir balık çizdi?

- Arda  Ayaz  Aylin

2) Hangi görseldeki harf sayısı diğerlerinden fazladır?



Minik kuş yavaşça yuvasına girdi.


3) Minik kuş yuvasına nasıl girdi?

- Yavaşça  
 Hızlıca  
 Sessizce



4) Görseldeki varlığın isminde bulunan sesli harfler hangileridir?



- s-n-d-y  
 a-a-e  
 s-n-d-l-y



5) Yukarıda verilenlerden kaç tanesi harftir?

- 4  3  2

6) Aşağıdaki hayvanlardan hangisinin ismi alfabemizin son harfi ile başlamaz?



Tuğçe, tabağa bir çilek daha koyacak.

7) Tabaktaki çilek sayısı için hangisi söylenbilir?

- Çilek sayısı artar.  
 Çilek sayısı azalır.  
 Çilek sayısı değişmez.

$$9 + 3 = \heartsuit$$

8) Toplama işleminde  $\heartsuit$  yerine hangi sayı yazılmalıdır?

- 10  11  12



9) Hangi çıkarma işleminin sonucu farklıdır?

- 16-7     19-9     18-9



10) Yukarıdaki paraların toplamı kaç liradır?

- ₺4     ₺5     ₺6

$$\begin{array}{r} 3 \\ +4 \\ \hline \square \end{array} \quad \begin{array}{r} \square \\ +7 \\ \hline ? \end{array}$$




11) Yukarıdaki toplama işlemlerine göre ? yerine ne yazılmalıdır?

- 14     7     4

12) Yavru kedi 2, anne kedi 6 yaşındadır.

Anne kedi, yavrusundan kaç yaş büyüktür?

- 6     5     4



13) Yukarıda verilen besinlerin ortak özelliği hangisidir?

- Hayvansal besinler olması.  
 Bitkisel besinler olması.  
 Lezzetli olması.

14) Hangisi yemekte uymamız gereken bir görgü kuralıdır?

- Sınıfımızı temiz tutmalıyız.  
 Oturarak yemek yemeliyiz.  
 Sabah arkadaşlarımıza "günaydın" demeliyiz.

15) Hangisi temel ihtiyacımız değildir?

