



Elif, tabağındaki yemeği afiyetle .....

1) Yukarıdaki cümleyi hangi kelimeyle tamamlamak uygun olur?

- yedi       içti       izledi




2) Görseli anlatan en uygun cümle hangisidir?

- Sevgi ve Sinan ip atlıyor.  
 Sinan ve Sevgi top oynuyor.  
 Sinan ve Sevgi saklambaç oynuyor.

R

3) Bu harften bir önce ve bir sonra gelen harfler hangileridir?

- Ö-P       P-S       P-T



4) Görseldeki varlığın adı ile ilgili bilgilerden hangisi yanlıştır?

- 5 harften oluşur.  
 1. ve 3. harfi aynıdır.  
 3 hecelidir.

Küçük balık etrafına dikkatle bakıyordu.

5) Yukarıdaki cümle kaç kelimedenden oluşmuştur?

- 4       5       6

6) "Kelebek" kelimesi ile aşağıdaki kelimelerden hangisinin hece sayısı aynıdır?

- kedi       karınca       kaplan

$$8 + 3 + 6$$

7) Bu toplama işlemi ile ilgili verilen bilgilerden hangisi doğrudur?

- Toplam 18'dir.  
 Üç toplananı vardır.  
 1.toplananı 6'dır.

$$\begin{array}{r} 14 \\ - 7 \\ \hline \square \end{array} \quad - \quad \begin{array}{r} 10 \\ - 3 \\ \hline \square \end{array} = \square$$

8) Yukarıdaki işlemlere göre "?" yerine hangi sayı yazılmalıdır?

- 0       7       9

$$1 \text{ onluk} + 2 \text{ birlik} = A$$

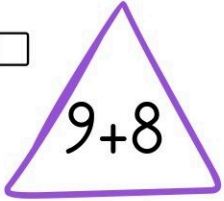
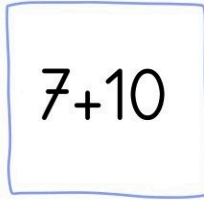
$$7 \text{ birlik} = B$$


9) Buna göre  $A + B$  işleminin sonucu kaçtır?

- 19       17       12





10) Hangi işlemin sonucu farklıdır?


  






11) Yukarıdaki para ile hangisini alabiliriz?



12) Bir haftada 6 şişe su tüketiyoruz.  
2 haftada tükettiğimiz suyun 3  
şişe fazlası kaç şişedir?

- 12  15  18



13) Kaç numaralı görsel kitle iletişim aracıdır?

- 1  2  3

İletişim araçlarını bilinçsiz  
kullandığımızda sağlık  
sorunları yaşayabiliriz.

14) Hangisi bu sorunlardan biri olamaz?

- Vücudumuzda şekil bozukluğu olabilir.  
 Gözümüz bozulabilir.  
 Çok yemek yeriz.

"Ela, bilgisayara çok uzun süre  
bakıyor."

15) Bunun sonucunda Ela'nın hangi duyu organı  
zarar görebilir?

