

ADI SOYADI: .....

## TÜRKÇE



Eylül ayı olmasına rağmen dışarıda yaz mevsimini aratmayan sıcak bir hava vardı.



Sema heyecanla ve hızlı adımlarla okula doğru gidiyordu. Annesi "Yavaş yavrum, ter içinde kalıp hasta olacaksın." demesine rağmen hızlı adımlarla yürümeye devam etti Sema. Arkasına bakmadan "Anneciğim hızlı yürür müsün? Öğretmenim ve arkadaşlarım bahçede sıra oldular. Geç kalmak istemiyorum." dedi ama aslında onları çok özlediği için acele ediyordu.

Okulun önünde toplanan velilerin arasından zorlukla içeri girdi. Annesine görüşürüz der gibi elini kaldırıp hemen sırasına koştu. Sıraya geçince heyecanının yerini sevinç duygusu aldı. Çünkü özlemle aradığı arkadaşlarının ve öğretmenin yanındaydı artık.

*Microne*

(İlk üç soruyu metne göre cevaplandırınız.)

1-Sema okuluna nasıl bir duyguyla gidiyordu?

- A)heyecanlı B)sakin C)mutlu

2-Sema neden hızlı adımlarla okuluna gitmiş?

- A) Annesi istediği için hızlı yürümüş.  
B) Okuluna kavuşmak için hızlı yürümüş.  
C) Okula geç kalmamak için hızlı yürümüş.

3-Aşağıdakilerden hangisi metne uygun bir başlık değildir?

- A) Okulun Açılışı B) Okulda İlk Gün  
C) Yaz Tatili




4-Aşağıdaki kelimelerden hangisi dört harfli tek heceli bir kelimedir?

- A) kalp B) mavi C) aile

5- Aşağıdaki özel isimleri alfabetik sıraya göre sıraladığımızda hangisi sonda olur?

- A) Enes B)Esmâ C)Elif

6-Aşağıdaki görsellerle ilgili kelimelerden hangisi anlam ilişkisi bakımından diğerlerinden farklıdır?

- A) öğrenci B) siyah C) hikaye
-   
- talebe beyaz öykü

M	B	A	Ş
O	H	Y	S
K	I	H	Ü
N	Z	E	L

7-Aşağıdaki kelimelerden hangisinin eş anlamlısı tabloda yoktur?

- A)Kafa B)Sürat C)sene

8-Hangi görselin adında "ka" hecesi yoktur?

- A)  B)  C) 

Defne, öğretmenine çiçek verdi.

9-Aşağıdaki 5N1K sorularından hangisinin cevabı yukarıdaki cümlede vardır?

- A) niçin B) nerede C) ne

Bu yıl 3. sınıfa başladık.  
Bu sene 3. sınıfa başladık.

10-Tablodaki cümlelerde, kırmızı renkle yazılı kelimelerle ilgili aşağıdaki ifadelerden hangisi yanlıştır?

- A) Kelimeler cümleye farklı anlam katmıştır.  
B) Kelimeler eş anlamlıdır.  
C) Kelimelerin yeri değişse de anlam değişmez.

Dildeki bir sesi gösteren ve abeceyi oluşturan, sözcükleri yazmaya yarayan işaretlerden her birine ..... diyoruz.

11-Tablodaki tanımın doğru olabilmesi için noktalı yere aşağıdaki kelimelerden hangisi yazılmalıdır?  
A) harf B)hece C)kelime

Okullar bu sene 11 09 2023 tarihinde açıldı Arkadaşlarımla birlikte 3 sınıfa geçmiştik Okul bahçesinde saat 08 50'de sıra olduk

12-Yukarıdaki paragrafta noktalar konulmamıştır. Paragrafta kaç nokta kullanılmalıdır?


- A) 7 B) 5 C) 3

## MATEMATİK



1-Yandaki sayı, aşağıdaki sayıların hangisinden büyüktür?

- A)771 B)398 C)611



2-Yukarıdaki taban bloklarıyla oluşturulan doğal sayı aşağıdakilerden hangisidir?

- A) 536 B) 356 C) 653

3-Aşağıda bazı sayıların yazılışları ile okunuşları eşleştirilmiştir.

Bu eşleştirmelerden hangisi **yanlıştır**?

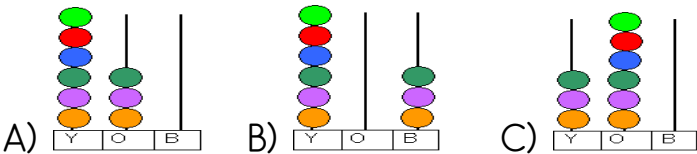
- A) 308 = Üç yüz sekiz  
B) 951 = Dokuz yüz elli bir  
C) 490 = Dört yüz dokuz



4-Görseldeki sayıyı oluşturan rakamların, basamak değerleri toplamı kaçtır?

- A) 640 B) 600 C) 10

5-Aşağıdaki abaküslerden hangisinde "altı yüz üç" sayısı gösterilmiştir?



100

0

10

6-Yukarıda çözümlenmiş olarak verilen sayının, basamaklarda gösterilmiş şekli aşağıdakilerden hangisidir?

A) 

Yüzler basamağı	1
Onlar basamağı	0
Birler basamağı	1

 B) 

Yüzler basamağı	1
Onlar basamağı	1
Birler basamağı	0

C) 

Yüzler basamağı	0
Onlar basamağı	1
Birler basamağı	1

7-"123" sayısında hangi rakamın basamak değeri en küçüktür ?

- A) 1 B) 2 C) 3

8-Aşağıdaki sıralamalardan hangisi yanlıştır?

- A)  $917 > 800 > 398$  B)  $684 < 712 < 756$

- C)  $572 < 370 < 475$



9-"Hangi basamakta bulunur-sam değerim hiç **artmaz**?"

- A) Birler basamağı B) Onlar basamağı  
C) Yüzler basamağı

10-"3,8,5" rakamlarıyla yazılabilecek en büyük sayı aşağıdakilerden hangisidir?

- A)358 B)583 C)853



11-Lokomotifteki sayıdan başlayarak, vagonlara üzer ritmik sayıları yazdığımızda, son vagona hangi sayı yazılmalıdır?

- A)715 B)655 C)825




HARF	SAYI	YÜZLÜK	ŞİFRE
E	315	300	...
S	372	600	...
E	489	500	...
N	603	400	...

12-Yukarıdaki sayılar en yakın yüzlüğe yuvarlanıp, harflere göre eşleştirildiğinde hangi kelime oluşur?

- A) ENES      B) ENSE      C) SENE

### HAYAT BİLGİSİ

1-Aşağıdaki çocuklardan hangisi, olumlu bir yönünden bahsetmiştir?

- A)  Sabırlı bir insanım.  
 B)  Sadece kendimi düşünürüm.  
 C)  Arkadaşlarımla çok inatlaşırım.

Mira, görsel sanatlar dersinde yaptığı çalışmalarla herkesten büyük takdir alıyordu. Mira'nın en büyük hayalide resimlerinin dünyaca tanınması...

2-Mira'nın hayallerini gerçekleştirebilmesi için özellikle kimden yardım alması gerekir?

- A) ressam      B) öğretmen      C) arkadaş

Zahide, basketbol oynamayı çok istiyordu. Fakat arkadaşları kadar başarılı olamayacağını düşünüyordu.



3- Zahide, bu konuda ne yapmalı?

- A) Basketbol oynamayı bırakmalı.  
 B) Yardım istemeli ve çalışarak eksikliğini gidermeli.  
 C) Futbolda şansını denemeli.

vefalı	saygılı	kibirli
esprili	sinirli	nazik

4-Yukarıdaki kavramlardan kaç tanesi insanlarda olması gereken olumlu davranışlardandır?

- A) 2      B) 4      C) 6

5-Aşağıdaki ifadelerden hangisi yanlıştır?

- A) Farklılıklara saygı göstermeliyiz.  
 B) Farklılıklarımız bizi diğer insanlardan üstün kılar  
 C) Benzerlik ve farklılıkları doğal karşılamalıyız.

"Güneş sıra arkadaşı olduğu için daha çok Defne ile oyun oynamakta, diğer arkadaşlarını oyunlarına pek katmamaktadır."

6-Bu durumda Güneş için ne söylenebilir?

- A) Güneş taraflı davranmaktadır.  
 B) Güneş arkadaşlarına adil davranır.  
 C) Güneş arkadaşlarıyla oynamayı seven biridir.



Resim yapmayı seviyorum.

Spor yapmak harika!



7-Çocukların konuşmalarından hangi sonucu **çıkaramayız**?

- A) Çocukların özellikleri birbirine benzemeyebilir.  
 B) İlgileri aynı olmayan çocuklar birbiriyle anlaşamaz.  
 C) Çocuklar arasındaki benzerlik ve farklılıklar doğaldır.

Kerem sınıf arkadaşlarıyla iyi anlaşır. Onlara karşı duyarlı davranarak hepsinin sevgisini kazandı. Ayrıca planlı birisi olduğu içinde derslerinde çok başarılı. Bu özelliklerinden dolayı arkadaşları Kerem'i sınıf başkanı seçti.

8-Kerem için hangi özellikleri söyleyebiliriz?

- A) Güler yüzlü - hırçın - kışkırtıcı  
 B) Bencil - saygılı - açık sözlü  
 C) Hoşgörülü - yardımsever - güvenilir

## FEN BİLİMLERİ

ÖZELLİKLER	Kara Katmanı	Su Katmanı	Hava Katmanı
Dünya'yı, Güneş'in zararlı ışınlarından korur.			
Rüzgar, yağmur, kar bu katmanın içinde oluşur.			
Yeryüzünün dörtte üçlük kısmını kaplar.			
Orman ve şehirlerin bulunduğu katmandır.			

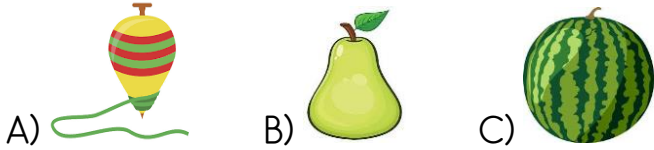
1-Tablodaki verilen özelliklerin Dünya'mızın hangi katmanına ait olduğunu işaretlediğimizde tablonun görünümü nasıl olur?

A)	B)	C)
K	S	H

2-Dünya'nın yuvarlak olduğunu ilk iddia eden bilim insanı kimdir?

- A)Galileo B)Pisagor C)Macellan

3-Dünya, alt ve üstten basık, yanlardan hafif şişik görünen bir küreye benzediğine göre aşağıdaki görsellerden hangisi Dünya'mıza benzemektedir?




4- Aşağıdakilerden hangisi Dünya'nın küreye benzediğini **kanıtlamaz**?

- A) Sürekli aynı yönde giden uçağın başladığı yere geri dönmesi  
 B) Dünya'dan bakan birinin Güneşi yuvarlak görmesi.  
 C) Uzaktan gelen geminin önce dumanı sonra yelkeni en son gövdesinin görünmesi

5-Aşağıdaki ifadelerden hangisi **yanlıştır**?

- A) Karalar sulardan daha çok yer kaplar.  
 B) Su katmanı mavi renkle gösterilir.  
 C) Dünya'mız küre şekline benzemektedir.



6-Benim adım Macellan. Araştırma ve incelemelerim sonucunda Dünya'nın küre şeklinde olduğunu anlayınca, Dünya'nın etrafını ilk kez ..... ulaşımla dolandım.

Tablodaki ifadenin doğru olabilmesi için noktalı yere hangi kelime yazılmalıdır?

- A)uçak B)gemi C)at

	Su katmanı
	Çekirdek
	Manto
	Taş katmanı
	Hava katmanı

7-Dünyamızı oluşturan katmanları içten dış doğru sıralanışı aşağıdakilerden hangisidir?

- A) 

4.
1.
2.
3.
5.

 B) 

2.
4.
5.
3.
1.

 C) 

5.
1.
3.
2.
4.

- I. Eski Mısırlılar ,Dünya'nın büyük bir kutuya benzediğine inanıyorlardı.  
 II. Eskiden çağlarda insanlar ,Dünya'yı düz bir tepsi şeklinde sanıyorlardı.  
 III. İnsanlar eski çağlardan beri Dünya'nın şeklini küreye benzediğine inanıyorlardı.

8-Yukarıda verilen bilgilerden hangisi ya da hangileri doğrudur ?

- A) I – II B) II – III C) I – II – III

**BASARILAR...**