


Faruk amca 13 taksitle bir telefon aldı. 4 taksitini kızı, 4 taksitini oğlu ödedi. **Telefonun ödenmeyen kaç taksiti kaldı?**



16 kasa vişnenin 6 kasası satıldı. 5 kasası meyve suyu yapıldı. **Geriye kaç kasa vişne kaldı?**



Onur saat 07.00'de evden çıktı. İş yerine geldiğinde saat 10.00'du. **Onur iş yerine kaç saatte varmıştır?**




Okulumuz üç katlıdır. Birinci katta 6, ikinci katta 4, üçüncü katta ise 5 sınıf vardır. **Okulumuzda toplam kaç sınıf vardır?**




18 yumurtanın 5'iyle kek, 7'siyle pasta yaptık. Geriye kalan yumurtaları da dolaba koyduk. **Dolaba kaç yumurta koyduk?**



Kantindeki 20 tostun ilk teneffüs 6 tanesi satıldı. İkinci teneffüs ise kalan tostlar satıldı. **İkinci teneffüs kaç tost satıldı?**



Annem pazardan aldığı 20 elmanın 5'iyle komposto yaptı. Geri kalan elmaları ise kuruttu. **Annem kaç tane elma kurutmuştur?**



Sınıfımızda 20 öğrenci vardır. Erkek öğrencilerin sayısı 11'dir. **Kız öğrencilerin sayısı kaçtır?**

