




Adı Soyadı : .....

Ödev Kontrol : .....



Veli Kontrol:

Parçayı sesli ve sessiz 3 defa oku

## ÖĞRETMEN OLMAK İSTİYORUM

Öğretmen sınıfa girince sor-  
du:

- Büyüyünce ne olmak istiyorsunuz?

Gonca:

- Önceleri doktor, hakim, hemşire hatta bir ara mühendis olmak istiyordum. Şimdi ise tüm bu meslek çalışanlarını yetiştiren bir öğretmen olmak istiyorum. Sizin gibi öğretmenim, dedi.



Doğru cevabın önündeki kalbi boyayalım.

1. Öğretmen sınıfa ne sormuş?

♡ Ne olmak istediklerini

♡ Ne yapmak istediklerini

2. Hangisi Gonca'nın önceden olmak istediği mesleklerden değildir?

♡ hakim

♡ mimar

3. Gonca kimi örnek alıp onun gibi olmak istiyor?

♡ öğretmenini

♡ annesini



Görsellerle ilgili cümleyi bulalım. İşaretleyelim.




- Çocuklar ip atlıyor.
- Çocuklar halat çekme yarışını yapıyor.
- Çocuklar dans ediyor.



- İlknur, Nuran ve Hasan ders çalışıyor.
- İlknur, Nuran ve Hasan şarkı söylüyor.
- İlknur, Nuran ve Hasan uçurtma uçuruyor.



- Erhan ve Hilal böcekleri inceliyor.
- Erhan ve Hilal resim yapıyor.
- Erhan ve Hilal paten sürüyor.



- Öğrenci sınıfı temizliyor.
- Öğrenci kitap okuyor.
- Öğrenci deney yapıyor.



Lütfen, resimlere dikkatli bak!

## Okuyalım, Cevaplayalım

☀️ Metinleri okuyalım. Soruları cevaplayalım.

1

Menekşe en sevdiği pembe kadife elbisesini giydi. Arkadaşının doğum gününe gitti.

\* Menekşe **ne** giydi?

?

\* Menekşe **nereye** gitti?

?

\* Verilen görsellerden hangisi Menekşe olabilir? İşaretleyelim.

?



2

Ege'nin babası dün akşam yemek yaptı. Ege, yemeğin tadını çok beğendiği için hepsini yedi.

\* Yemeği **kim** yaptı?

?

\* Ege **neden** yemeğin hepsini yedi?

?



Soruları dikkatlice oku ve düzgün yazmayı unutmaa 😊

## Toplama ve Çıkarma İşlemi Problemleri

◆ Aşağıdaki problemleri çözelim. Sonucun yazılı olduğu güneşi boyayalım.

?

Hakan 12 yaşındadır. Kardeşi, Hakan'dan 3 yaş küçüktür. Buna göre Hakan'ın kardeşinin yaşı kaçtır?

15

9

?

Bir minibüste 13 yolcu vardı. Durakta minibüsten 4 yolcu indi. Minibüste kaç yolcu kaldı?

9

17

Sınıfımızda 9 kız, 11 erkek öğrenci vardır. Sınıfımızdaki toplam öğrenci sayısı kaçtır?

18

20

?

Kumbaramda 16 lira vardı. Paramın 9 lirasını harcadım. Kumbaramda kaç lira kaldı?

7

11

Aşağıdaki problemlerin numarasını çözümünün üstüne yazalım.

1. Bir yarışmada Ezgi 18 puan, Sezin 9 puan almıştır. Ezgi'nin puanı, Sezin'den kaç fazladır?
2. 9 yaşında olan ikiz kardeşlerin yaşları toplamı kaçtır?
3. Ali, içinde 16 bulmaca olan bir bulmaca kitabı aldı. Bulmacaların 7 tanesini çözdü. Kitapta çözülmemiş kaç bulmaca kaldı?
4. Canan, 16 lirasının 9 lirasıyla su aldı. Canan'ın geriye kaç lirası kaldı?
5. Emre'nin 9, Can'ın 7 tane oyuncu kartı vardır. Emre ile Can, kartlarını bir araya getirirlerse toplam kaç kartları olur?

?

.....

$$9 + 9 = 18$$

?

?

.....

$$9 + 7 = 16$$

?

1

$$18 - 9 = 9$$

.....

$$16 - 7 = 9$$

.....

$$16 - 9 = 7$$



Soruları dikkatle oku ve anlamaya çalış. Sonra işlem yap.

- ◆ Aşağıdaki toplama işlemlerinde verilmeyen toplananları örneklerdeki gibi çıkarma işlemi yaparak bulalım.

$$\begin{array}{r} 8 \\ + 5 \\ \hline 13 \end{array}$$

$$\begin{array}{r} 13 \\ - 8 \\ \hline 5 \end{array}$$

$$\begin{array}{r} 9 \\ + 7 \\ \hline 16 \end{array}$$

$$\begin{array}{r} 16 \\ - 7 \\ \hline 9 \end{array}$$

$$\begin{array}{r} 9 \\ + \dots \\ \hline 19 \end{array}$$

$$\begin{array}{r} \dots \\ - \dots \\ \hline \dots \end{array}$$

$$\begin{array}{r} \dots \\ + 4 \\ \hline 11 \end{array}$$

$$\begin{array}{r} \dots \\ - \dots \\ \hline \dots \end{array}$$

### HAYAT BİLGİSİ

1. Aşağıdaki davranışları doğru ve yanlış olarak belirterek şifreyi çözelim.

- 1 Okulu yöneten kişiye müdür denir.
- 2 Okulun temiz olmasını sağlayan kişiye kantinci denir.
- 3 Okul müdürüne yardım eden kişi müdür yardımcısıdır.
- 4 Rehber öğretmen, yönetim ve idari işlerden sorumludur.
- 5 Öğrencilere eğitim ve öğretim veren kişi öğretmendir.


?	D	Y
?	S	O
?	K	Ü
?	P	L
?	U	E
?	R	N

1 2 3 4 5

? ŞİFRE

--	--	--	--	--

1. Aşağıdaki görsellerden şeref köşesinde yer alan eşyaları uygun şekilde eşleştirelim.



1



2



3

