

Adı Soyadı: _____ Tarih: _____

Kısa Metin

Metni okuyun, soruları yanıtlayın.



KAR TANELERİ

Emir, uyumadan önce pencereden dışarı baktı. Uçuşan kar tanelerini görünce saymaya başladı. 1, 2, 3... Yüze kadar saydı.

Emir, yüzden sonra saymayı bilmediği için başa döndü.



1 Emir, pencereden dışarıya ne zaman baktı?

2 Emir, uçuşan kar tanelerini görünce ne yaptı?

3 Emir, yüzden sonra saymayı bilemediği için ne yaptı?

4 Sence öykü nasıl devam etmelidir? Bir cümle yazın.

Cevapları cümle niteliğinde tamamlamalısınız.

Önce ve Sonra Gelen Harfler

Verilen harflerden bir önce ve bir sonra gelenleri yazın.

a.

Önceki	Harf	Sonraki
	k	
	f	
	o	
	c	
	n	

b.

Önceki	Harf	Sonraki
	e	
	ö	
	y	
	t	
	v	

Sözcükleri alfabe sırasına göre numaralandırın.

a. ocak şubat mart

?

2

3

1

b. beş altı yedi

?

○

○

○

c. salı cuma pazar

?

○

○

○

ç. yaz ilkbahar kış

?

○

○

○

Varlıkların adını hecelerine ayırarak yazın.



sa-la-ta-lık



Varlıkların adındaki eksik harfleri ve hece sayılarını yazın.



2 uçak

g m

p r ş t



z m

r k

p r t k l



k r b ğ

r d k

b l k

Görselleri ifade ettiği sözcükle eşleştirin.



ateş



vazo

cüzdan



akvaryum



olta



değirmen



Çıkarma işlemlerini yapın.

$10 - 1 = \boxed{?}$

$11 - 6 = \boxed{?}$

$12 - 9 = \boxed{?}$

$12 - 2 = \boxed{?}$

$13 - 7 = \boxed{?}$

$14 - 8 = \boxed{?}$

$14 - 3 = \boxed{?}$

$15 - 8 = \boxed{?}$

$16 - 7 = \boxed{?}$

$16 - 4 = \boxed{?}$

$17 - 9 = \boxed{?}$





$18 - 6 = \boxed{?}$

$18 - 5 = \boxed{?}$

$19 - 10 = \boxed{?}$

$20 - 5 = \boxed{?}$

Çıkarma işlemi terimlerine karşılık gelen sayıları yazın. Çıkarma işlemlerini yapın.

	$\boxed{8}$	Eksilen: 8		$\boxed{}$	Eksilen: 9
	$\boxed{2}$	Çıkan: 2		$\boxed{}$	Çıkan: 5
$\boxed{}$	Fark: $\underline{}$		$\boxed{}$	Fark: $\underline{}$	

PROBLEM ÇÖZELİM

Kırtasiyeden 6 TL'ye ataş, 3 TL'ye balon aldım.

Satıcıya kaç lira ödedim?

Çözüm

Kumbarama geçen hafta 10 TL, bu hafta 8 TL attım.

Kumbarama toplam kaç lira attım?

Çözüm

Kırtasiyeden 7 TL'ye silgi aldım.

Çözüm

Satıcıya 10 TL verdim.

Kaç lira para üstü alırım?

12 TL olan simit alıp ödeme yaptım.

Çözüm

Simitçi 3 TL para üstü verdi.

Simitçiye kaç lira vermişim?

Cebimdeki 18 TL'nin bir kısmını kumbara-
rama attım. Cebimde 10 TL kaldı.

Çözüm

Kumbarama kaç lira attım?

Fiyatı 15 TL olan kalemi alabilmem için
5 TL daha biriktirmem gerekiyor.

Çözüm

Kaç liram var?

Cebimde 17 TL vardı.

Çözüm

8 TL'ye bir silgi aldım.

Geriye kaç liram kaldı?

Fiyatı 19 TL olan kalem, 4 TL indirimle
satılıyor.

Çözüm

Kalemin indirimli fiyatı kaç liradır?

PARALARIMIZI TANIYALIM

Ülkemizin para birimi Türk lirasıdır. Türk lirası "TL" şeklinde kısaltılır. "₺" sembolü ile gösterilir.

KAÇ PARA VAR?

Kumbaralarda modellenen paraların toplam miktarını yazın.

