



2/A Sınıfı Ev Çalışmaları

Bizler çiçekleriyiz  
Umudun ve sevincin,  
Habercileriyiz biz,  
Gelen mutlu günlerin.  
Biz hepimiz kardeşiz.  
Hep dünya çocukları,  
Kuracağız birlikte  
Yaşanası dünyayı.

Gülsüm AKYÜZ

1 ve 2. soruyu yukarıdaki şiire göre cevaplayalım.

1. Şiirin konusu hangisidir?

- A) Temizlik B) Çiçekler  
C) Kardeşlik

2. Şiirin başlığı hangisi **olamaz**?

- A) Dünya Çocukları  
B) Çocuk Oyunları  
C) Hepimiz Kardeşiz


Aşağıdaki görsellere göre noktalı yerleri tamamlayalım.



..... yarım ekmek




..... bütün ekmek eder.



..... çeyrek simit

..... bütün simit eder.



..... yarım elma

..... bütün elma eder.



..... çeyrek portakal

..... bütün portakal eder.

Tam, Yarım ve Çeyrek Saatler

Aşağıdaki analog ve dijital saatlerde gösterilen zamanların okunuşlarını yazalım.



.....



.....



.....



.....



2/A Sınıfı Ev Çalışmaları

Kültürel Değerlerimiz - Farklı Kültürlere Saygı

Aşağıdaki görsellerin hangi kültürel miras ögemize örnek olduğunu bulup numaralarını yazarak eşleştirelim.



1



2



3



4



5

Gelenek ve görenekler

Halk oyunları

Yöresel kıyafetler

Yöresel çalgılar

Yöresel yemekler

Look at the pictures and put a tick. ✓

1



rabbit

turtle

bird

fish

2



parrot

dog

cat

hamster

3



dog

fish

cat

parrot

4



cat

dog

rabbit

turtle

5



fish

parrot

bird




rabbit





2/A Sınıfı Ev Çalışmaları

Oku ve Renklendir



1. Color the rabbit pink.

3. Color the hamster brown.

5. Color the dog black.

7. Color the bird blue.

2. Color the turtle green.

4. Color the fish red.

6. Color the parrot yellow.

8. Color the cat orange.

yemek - barış - gelenek - yardımcı - saygı

- ..... ve görenekler, kuşaktan kuşağa iletilen alışkanlıklar ve davranışlardır.
- Her bölgemizin kendine özgü ..... kültürü vardır.
- İnsanlar farklı kültürlerden olsa da ..... içinde yaşayabilirler.
- Ülkemizde yaşayan farklı kültürdeki insanların yaşam şekillerine ..... göstermeliyiz.
- Ülkemizde yaşayan farklı kültürdeki insanlara ..... olmalıyız.

Saatlerin Okunuşunu Yazalım



.....

.....

.....

.....

## 2/A Sınıfı Ev Çalışmaları

in

on

under

where

is


1.

Where is the dog?

It is under the table.

2.

\_\_\_\_\_ is the turtle?



It is on the desk.

3.

Where is the bird?



It is \_\_\_ the cage.

4.

Where is the rabbit?



It is \_\_\_ the table.

5.

Where is the hamster?



It \_\_\_ under the table.

## Mini Problem

1 16 kurabiye, 4 çocuğa eşit sayıda paylaştırılırsa her çocuğa kaç kurabiye düşer?

**ÇÖZÜM:**

2 Merve'nin yaşının 3 katı 21'dir. Merve, 4 yıl sonra kaç yaşında olur?

**ÇÖZÜM:**





2/A Sınıfı Ev Çalışmaları

• Olayların Oluş Sırası •

Arkadaşımdan ödevimi öğrendim.  
Telefonu kapattım.  
Telefonu elime aldım.  
Arkadaşımın annesini aradım.

Önce .....  
Sonra .....  
Daha sonra .....  
En sonunda .....

Uçurtmamızı uçurduk.  
Rüzgârlı bir havada dışarı çıktık.  
Babam bize uçurtma yaptı.  
Uçurtma malzemesi aldık.

Önce .....  
Sonra .....  
Daha sonra .....  
En sonunda .....

**Noktalama işaretlerini Tamamlayalım**

- Sınavım çok iyi geçti
- **Cafer** nereye gitti
- Pikniğe tavuk  sucuk  meyve  sebze götürdük
- Tüh  yarışmacıya yazık oldu
- Heey  Ben de geliyorum
- Yarın mı sinemaya gideceksiniz
- 23  03  1995  te ablam doğmuş

**Bölmeyi Unutma**

$$\begin{array}{r|l} 16 & 2 \\ \hline - & \\ \hline & \end{array}$$

$$\begin{array}{r|l} 18 & 2 \\ \hline - & \\ \hline & \end{array}$$

$$\begin{array}{r|l} 18 & 3 \\ \hline - & \\ \hline & \end{array}$$

$$\begin{array}{r|l} 12 & 3 \\ \hline - & \\ \hline & \end{array}$$