

ŞİİRİ EN AZ 3 DEFA OKU

AĞAÇ SEVGİSİ

Kucak açarsın herkese
Bu dost, bu düşman demeden
İyilik yaparsın herkese
Bir karşılık beklemeden.

Güzel yurdumun süsüsün
Bulutlara dal uzatan
Kuru, yeşil örtüsüsün
Gölge veren, dal uzatan.

Ne kadar çok çeşidin var,
Elma, armut, meşe, kavak,
Tatsız geçer sensiz bahar,
Sensiz toprak olur kurak.

M. Necati ÖNGAY

Aşağıdaki soruları şiire göre yanıtlayalım.

1 Bu şiirin konusu nedir?

.....
.....

2 Bu şiirin konusunu en iyi yansıtan görsel aşağıdakilerden hangisidir? İşaretleyelim.



Soru eki "mi(mı-mu-mü)"nin doğru yazıldığı cümleleri işaretleyelim

♡ Parka mı gitmek istiyorsun?

♡ Resim çizmeyi seviyormusun?

♡ Kitap okumayacak mıyız?

♡ Pastayı senmi yedin?

♡ Yarışmada birinci mi oldun?

♡ Gökkuşuğunu gördün mü?

Aşağıdaki cümleleri büyük harflerin kullanımı ile ilgili yapılan yanlışlıkları düzelterek yeniden yazalım.

♡ Annem kurban bayramı için yeni bir ayakkabı aldı.

.....

♡ Eskiden lale sokak bu kadar kalabalık değildi.

.....

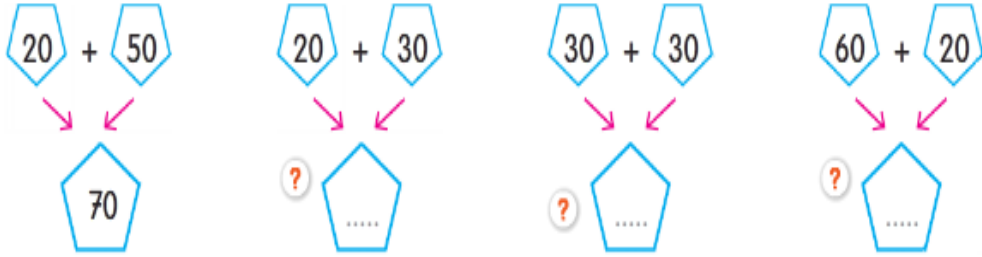
♡ Babamla birlikte Zafer bayramı kutlamalarına katıldık.

.....

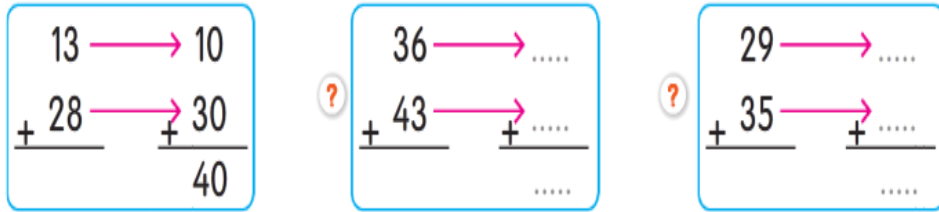
♡ 21 mayıs 2004 tarihinde bu evde doğmuşum.

.....

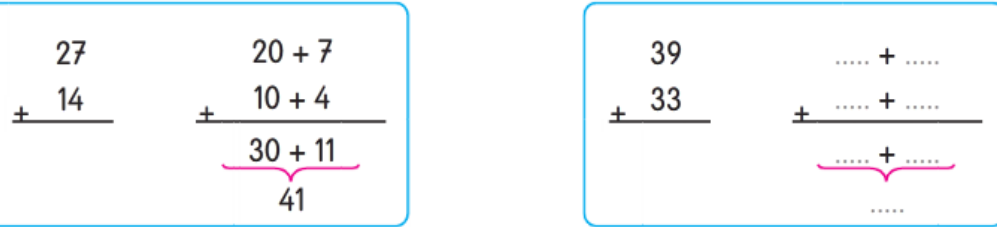
Aşağıdaki toplama işlemlerini örnekteki gibi zihinden yapınız.



Aşağıdaki toplama işlemlerinin sonuçlarını örnekteki gibi tahmin ediniz.



Aşağıdaki toplama işlemlerini örnekteki gibi yapınız.



Adı Soyadı:

Konu Testi

1. $\begin{matrix} \textcircled{1} \\ 18 + 14 \end{matrix}$ $\begin{matrix} \textcircled{2} \\ 22 + 26 \end{matrix}$
 $\begin{matrix} \textcircled{3} \\ 12 + 13 \end{matrix}$ $\begin{matrix} \textcircled{4} \\ 16 + 16 \end{matrix}$

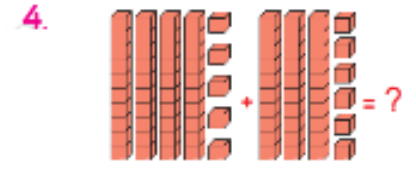
Numaralanmış toplama işlemlerinden hangilerinin sonuçları aynıdır?

- A) 1 ve 2 B) 2 ve 3
C) 1 ve 4

2. $57 + 23$ $37 + 39$ $48 + 27$
 $\textcircled{70}$ $\textcircled{76}$ $\textcircled{80}$ $\textcircled{75}$

Yukarıdaki toplama işlemleri sonuçlarıyla eşleştirildiğinde hangi sayı açıkta kalır?

- A) 70 B) 75 C) 80

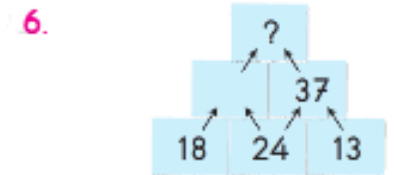


Taban bloklarıyla modellenen toplama işleminin doğru yapılışı aşağıdakilerden hangisidir?

- A) $46 + 35 = 81$
B) $45 + 37 = 82$
C) $45 + 36 = 81$

3. Aşağıdakilerden hangisi eldeli toplama işlemidir?

- A) $35 + 23 =$
B) $54 + 26 =$
C) $60 + 23 =$



Şekildeki oklara göre sayılar toplandığında "?" yerine hangi sayı gelir?

- A) 42 B) 55 C) 79

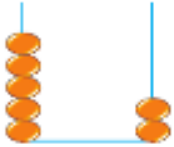
7.

$$\begin{array}{r} 48 \rightarrow \text{Toplanan} \\ + 34 \rightarrow \text{.....} \\ \hline 82 \rightarrow \text{Toplam} \end{array}$$

Tahtadaki noktalı yere hangi ifade yazılmalıdır?

- A) Çıkan B) Toplanan
C) Fark

8.



Abaküste verilen sayının 18 fazlası kaçtır?

- A) 66 B) 68 C) 70

9.

+	15	16	17
25		A	
34			B

Toplama tablosuna göre A ve B yerine gelebilecek sayıların toplamı kaçtır?

- A) 92 B) 82 C) 72

10.

4 1 Yandaki rakamlar birer kez kullanılarak yazılabilecek iki basamaklı sayıların toplamı kaçtır?
A) 65 B) 55 C) 54

11.

$$\begin{array}{r} 35 \\ 12 \\ + 26 \\ \hline 73 \end{array} \quad \begin{array}{r} 37 \\ 28 \\ + 14 \\ \hline 79 \end{array} \quad \begin{array}{r} 22 \\ 35 \\ + 25 \\ \hline 83 \end{array}$$

Numaralanmış toplama işlemlerinden hangisinin sonucu yanlış verilmiştir?

- A) 1 B) 2 C) 3

12.

28 Yandaki sayıdan bir önce ve bir sonra gelen sayıların toplamı kaçtır?
A) 56 B) 58 C) 62

13.

33 37 Şemadaki boş kutucuğa hangi sayı yazılmalıdır?
A) 69 B) 70 C) 73

DÜŞÜNELİM BULALIM ÇÖZELİM



KİM KAÇ YAŞINDA?

Mehmet amca Tuna ailesinin en büyüğü. Bir gün Mehmet amca ailesini topladı. İlkokula giden Deniz'den ailedekilerin yaşlarını bulmasını istedi. Deniz çok heyecanlandı. Çünkü işlem yapmayı çok seviyordu. Tuna ailesi, Deniz'in yaşlarını bulmasını beklemeye başladı.

Biz de verilen ipuçlarını okuyalım. Tuna ailesindeki kişilerin yaşını bulup altlarına yazalım.



- ❖ Dede Mehmet Tuna, torunu Deniz'den 68 yaş büyüktür.
- ❖ Bülent, Mehmet Tuna'dan 36 yaş küçük, Tülay'dan 6 yaş büyüktür.
- ❖ Neriman, Mehmet Tuna'dan 4 yaş küçük, Pınar'dan 69 yaş büyüktür.

Biz de verilen ipuçlarını okuyalım. Tuna ailesindeki kişilerin yaşını bulup altlarına yazalım.



Aşağıdaki ifadeler doğru ise başındaki kutuya "D", yanlış ise "Y" yazalım. Doğru bilginin verildiği cümlelerin ilk harflerini sırayla yazarak gizli sözcüğü bulalım.

? Ders araç gereçlerimizi günlük ders programına göre hazırlamalıyız.

? Bazen kaba davranışlar sergilemekte sakınca yoktur.

? Okul kaynakları ve eşyalarını kullanırken özen göstermeliyiz.

? Paramızı öncelikle isteklerimizi karşılamak için kullanmalıyız.

? Sınıfla ilgili karar alma sürecine katılmalıyız.

? Ten rengimiz fiziksel özelliklerimiz arasında yer alır.

? Grup çalışmalarının bizlere hiç bir faydası yoktur.

? Lazım olmayan eşyalar için para harcamamalıyız.

? Uzun gereksiz konuşmalar iletişimi olumsuz etkiler.

? Bizim gibi düşünmeyen insanlardan uzak durmalıyız.

? Kendimize ait farklı özellikleri tanımalıyız.

Sözcük



?

Aşağıda verilen akrabalık unvanlarının numaralarını açıklamalarının yazılı olduğu kutulara yazarak unvanları açıklamalarıyla eşleştirelim.

Dayı

1

? Babamın kız kardeşlerine denir.

Amca

2

? Annemizin erkek kardeşlerine denir.

Anneanne

3

? Babamın annesine denir.

Teyze

4

? Babamın erkek kardeşlerine denir.

Enişte

5

? Annemizin kız kardeşlerine denir.

Babaanne

6

? Annemizin annesine denir.

Hala

7

? Halamın veya teyzemizin eşine denir.



Aşağıdaki cümlelerin başına cümleler doğru ise "D", yanlış ise "Y" yazalım.

? Karşılıklı sevgi akrabalık bağlarını güçlendirir.

? Sadece iyi günde akrabalarımızın yanında olmalıyız.

? İyi akrabalık ilişkileri toplumu güçlendirir.

? Uzakta olan akrabalarımızla görüşmemeliyiz.

? Sadece yakın akrabalarımızı ziyaret etmeliyiz.

? Sevgi, vefa, şefkat akrabaları bir arada tutan değerlerdendir.

? Dayanışmanın akrabalık ilişkilerine bir katkısı yoktur.

