



Başarılar :)

ADI SOYADI : .....

PUAN: .....  Çok iyi  İyi  Geliştirilmeli



kap	kalemlik	yem
deri	üzüm	balıkçı

1. Yukarıdaki sözcüklerden kaç tanesi ek alarak yeni bir anlam kazanmıştır?

- A) 2 B) 3 C) 4

2. Aşağıdaki sözcüklerden hangisinin sonuna getirilen ek, sözcüğün anlamını değiştirmiştir?

- A) Çardaklar B) Simitçi C) Matematikten

3. "tuz" sözcüğüne aşağıdaki eklerden hangisi eklenirse "tuz kabı" anlamı kazanır?

- A) -lu B) -suz C) -luk

4. Aşağıdaki altı çizili sözcüklerden hangisinin sonuna "-lik" eki getirilirse cümle anlamlı olur?

- A) Büyük şeker.... ağzına kadar dolu.  
B) Çorba çok tuz.... olmuş.  
C) Pilav.... suyunu çekmiş.

5. "demir" sözcüğüne aşağıdaki eklerden hangisi getirilirse yeni anlamda bir sözcük oluşmaz?

- A) -ci B) -li C) -ler

6. Aşağıdakilerden hangisi 3.sınıf öğrencisinin yapamayacağı işlerden biridir?

- A) Sofra hazırlamaya yardım etmek  
B) Balıklara yem vermek  
C) Ütü yapmak

7. Aşağıdakilerden hangisi doğrudur?

- A) Evdeki işler iş birliği içerisinde yapılmalıdır.  
B) Evde herkes aynı işi yapmalıdır.  
C) Evdeki bütün işleri çocuklar yapmalıdır.

Sofra hazırlamada yardımcı olma	Faturaları ödeme
Eşyaların tamirinde babaya yardımcı olma	Kendi odasını toplama
Bitki yetiştirmeye yardım etme	Çalışıp para kazanma

8. Yukarıda verilenlerden kaç tanesi çocuklara verilebilecek sorumluluklardandır?

- A) 6 B) 5 C) 4

**Melisa:** Ailedeki görevler dağıtılırken herkesin fikrine başvurulmalıdır.

**Sema:** Evdeki tüm işleri anne yapmalıdır.


**Yusuf:** Çocuklara görev vermek çocuklarda sorumluluk duygusunu geliştirir.

9. Öğrencilerden hangisi ailedeki sorumluluklar hakkında yanlış bilgi vermiştir?

- A) Melisa B) Sema C) Yusuf

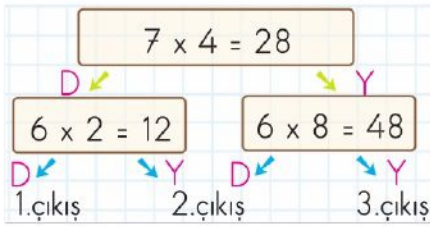
10. Aşağıda verilen kişi ve görevleriyle ilgili eşleştirmelerden hangisi yanlıştır?

- A) Anne → Ev işlerini yapar ve yemeği yapar.  
B) Abla → Kardeşine derslerinde yardım eder, odasını toplar.  
C) Kardeş → Okula gitmez ve mendil satarak eve para getirir.



11. Yukarıdaki kedilerin toplam ayak sayısı aşağıdaki çarpma işlemlerinden hangisinde doğru verilmiştir?

- A)  $3 \times 5 = 15$   
B)  $4 \times 5 = 20$   
C)  $6 \times 4 = 24$



**12.** Yukarıdaki şemada verilen eşitlikler doğru "D" veya yanlış "Y" olarak değerlendirildiğinde kaç numaralı çıkışa ulaşılır?

- A) 1 B) 2 C) 3

**13.** Aşağıdaki çarpma işlemlerinden hangisinin sonucu 36'dır?

- A)  $9 \times 4$   
B)  $8 \times 5$   
C)  $5 \times 7$

**14 ve 15. soruları grafiğe göre cevaplayınız.**



**14.** Kağan'ın bir yılda okuduğu kitap sayısı kaçtır?

- A) 30 B) 36 C) 48

**15.** Kağan'ın okuduğu hangi tür kitapların toplamı 20 adettir?

- A) macera – bilim kurgu  
B) bilim kurgu – tarih  
C) macera – tarih

**16.** Aşağıdaki ifadelerden hangisi yanlıştır?

- A) Çilek kokusuz bir meyvedir.  
B) Ağaç gövdesi pürüzlüdür.  
C) Maddelerin tadını dilimizle ayırt edebiliriz.



Esra'nın bir elinde cam bardak, diğer elinde karton bardak vardır.

**17.** Esra, bardakları aynı yükseklikten aynı anda yere bırakırsa ne olur?

- A) Cam bardak eğilir, karton bardak eğrilmez.  
B) Cam bardak kırılır, karton bardak kırılmaz.  
C) Cam bardak erir, karton bardak erimez.

**18.** Aşağıda verilen maddeler ve eşleştirilen özelliklerinden hangisi yanlıştır?


- A) Cam - pürüzsüz  
B) Su - renksiz  
C) Sünger - kırılğan



**19.** Öğrencilerin, yukarıda özelliklerini saydığı madde, aşağıdakilerden hangisi olabilir?

- A) Bulaşık süngeri  
B) Buzdolabı kapağı  
C) Pencere camı

**20.** Aşağıdakilerden hangisi hem sert hem de esnek maddedir?



© KONTROL ETMEYİ UNUTMAYALIM ©

**NOT:** Her soru 5 puandır.

3/A Sınıfı Çalışmaları