

Adı Soyadı: _____ Sınıfı: _____



Nasrettin Hoca karısıyla dere kenarına çamaşır yıkamaya gitmiş. Dere kenarında çamaşır yıkarlarken bir karga gelip sabunu kapmış. Hoca'nın karısı, "Karga sabunu kaptı!" diye bağırmış.



Hoca "Bu kargayı yakalayamam!" diye düşünmüş. Karısına "Aman üzülme! Onun sabuna daha fazla ihtiyacı var. Baksana üstü başı kapkara. Bırak o temizlensin." demiş.

- 1 Nasrettin Hoca, karısı ile dere kenarına niçin gitmiş?
- 2 Dere kenarına gelen karga ne yapmış?
- 3 Hoca, karısına neden üzülme demiş?
- 4 Fıkraya bir başlık yazın.

Beceri Temelli Sorular

Ağaçları çok seviyorum
Pek çok çeşidi var
Hem insanlara hem hayvanlara
Pek çok yararı var



Yukarıdaki şiirin kaçınıcı dizesi cümle **değildir**?













- A. Birinci B. İkinci C. Üçüncü

2


seviyorum	oynamayı
çok	oyun

Oya, yukarıdaki renkli zeminlerin üzerine sözcükler yazmıştır. Renkli zeminlere sırayla zıplayarak anlamlı ve kurallı bir cümle oluşturmuştur.

Buna göre Oya, sırasıyla hangi renk zeminlere zıplamıştır?

- A.    
- B.    
- C.    

3

 bana  Ezgi  uzattı  elini

Yukarıdaki sözcüklerle anlamlı ve kurallı cümle oluşturulacaktır.

Buna göre doğru sıralama nasıl olmalıdır?

- A.    
- B.    
- C.    

Problemler

Bir sepete 4 yumurta daha konursa
sepette 10 yumurta oluyor.

Bu sepette kaç yumurta vardı?

Bir tabaktaki 12 cevizin 4 tanesini
yedik.

Tabakta kaç ceviz kaldı?

Bir kutudaki 17 kalemın 4 tanesi
mavi, diğeri siyahtır.

Kutuda kaç siyah kalem vardır?

Ablam 13 yaşındadır. Ben ablamdan
7 yaş küçüğüm.

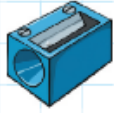
Buna göre ben kaç yaşındayım?

Sınıf kitaplığındaki 15 kitabın 3 tanesi
şiir, diğeri öykü kitabıdır.

Kitaplıkta kaç öykü kitabı vardır?

Yanda fiyatı verilen kitap hangi seçenekte
verilen paralarla alınabilir?





7 TL



10 TL



3 TL



8 TL

20 lira ile yukarıda fiyatları verilenlerden hangi üç ürünü **ala-**
mayız?



Boş bırakılan yerleri verilenlerden uygun olanlarıyla tamamlayın.



- a. 4 tane 5 TL, ____ TL değerindedir.
b. 20 TL içinde 4 tane ____ TL vardır.
c. 10 tane 10 TL, ____ TL değerindedir.
ç. 5 TL içinde 5 tane ____ TL vardır.
d. 50 TL içinde 5 tane ____ TL vardır.

Aşağıda modellenen paraların değerini **küçükten büyüğe** doğru numaralandırarak eşleştirin.



1

2

3

4

5

Adı Soyadı: _____ Sınıfı: _____



Bölüm Değerlendirme