

Metin Değerlendirme 1



SOFRA KURALLARI

Yemek **yemek** ayrı bir **görenek** ve görgü ister. Yemek masası aileyi bir araya getiren yerdir. Bu yüzden yemek sırasında güler yüzlü olmalıyız. Yemeğe oturmadan önce ellerimizi yıkamalıyız. **Sofrada** belirtilen yere oturmalıyız. Tabağımıza yiyebileceğimiz kadar yemek koydurmalıyız. Yemekte çatal kaşık kullanmalıyız. Yemek yerken ağızımızı şapırdatmamalıyız. Lokmaları, mümkün olduğunca **ağızımız** kapalı çiğnemeye çalışmalıyız.

Yemek bittikten sonra yemeği hazırlayana "Eline sağlık." demeliyiz. Bu yemeği hazırlayanların emeğine, yorgunluğuna karşı bir teşekkürdür. Yemekten sonra ellerimizi yıkamalı, dişlerimizi fırçalamalıyız.

Aşağıdaki soruları metne göre yanıtlayınız.

1 Yemek sırasında sofradakilere **nasıl** davranmalıyız?

?

2 Sofrada **nerede** oturmalıyız?

?

3 Yemek yerken **ne** kullanmalıyız?

?

4 Yemeği hazırlayanlara **niçin** "Eline sağlık." demeliyiz?


?

5 **Kime** "Eline sağlık." demeliyiz?

?

6 Dişlerimizi **ne zaman** fırçalamalıyız?

?



Alfabemizdeki harfler yukarıdaki klavyeye sırasıyla yazılırken bazı harfler atlanmıştır.

Bu harflerin **tamamıyla** aşağıdaki sözcüklerden hangisi oluşturulabilir?

A. ÖZLEM B. GÖZLEM C. ÖZGEM

Heceden Sözcüğe

Ortadaki hecelere örnekteki gibi yeni heceler ekleyerek yeni sözcükler oluşturunuz.

? pı ? da ?

ka o ki

? kapi ? oda ?

Tek Başına Anlamı Olmayan Sözcükler

1.	Selin, havuza	denize gitmiştir.	<input type="checkbox"/> ile	<input checked="" type="checkbox"/> veya
2.	Yorgundum	eve gidemezdim.	<input type="checkbox"/> ya da	<input type="checkbox"/> fakat
3.	Kitap okumayı severim	bilgilendirir.	<input type="checkbox"/> çünkü	<input type="checkbox"/> ama
4.	Uyumadan önce masal	hikâye okurum.	<input type="checkbox"/> ya da	<input type="checkbox"/> ama
5.	Ayşe	bizimle gelecek.	<input type="checkbox"/> de	<input type="checkbox"/> gibi

Baştaki kutularda verilen sözcüklerin eş anlamlılarını bulup boyayınız.

- a. siyah → al ~~kara~~ beyaz kırmızı
- b. cevap → yanıt soru sual anlam
- c. vatan → lider millet halk yurt
- c. nehir → göl deniz ırmak şelale
- d. doğa → çiçek tabiat orman ağaç
- e. kıymetli → ucuz anlamlı pahalı değerli
- f. cümle → sözcük harf tümce kelime

ŞİFREYİ BUL

	Cümleler	Zıt Anlamlısı
1.	Sudeler büyük bir evde oturuyorlar.	L kısa K küçük
2.	Elif'in elbisesi çok temiz.	A kirli E pak
3.	Bu kutu çok ağır, yardım et.	R hafif Ş zor
4.	Bugün hepimiz çok yemek yedik.	A az İ fazla
5.	Garson boş tabakları aldı.	M hızlı N dolu
6.	Dar sokaklardan geçiyoruz.	G uzun F geniş
7.	Bu kedi çok aç, yürüyemiyor.	İ tok U şiş
8.	Bu saatte açık pastane bulamayız.	Y koyu L kapalı

? ŞİFRE → 1 2 3 4 5 6 7 8

Yan Yan Çıkarma İşlemi

Aşağıdaki çıkarma işlemlerini örnekteki gibi yapınız.

$$\begin{array}{r} 2-1=1 \\ \hline 29 - 14 = 15 \\ \hline 9-4=5 \end{array}$$

$58 - 16 = _ _$

$49 - 23 = _ _$

$57 - 23 = _ _$

$67 - 42 = _ _$

$68 - 25 = _ _$

Aşağıdaki çıkarma işlemlerini yapınız. İşlemleri sonuçlarıyla eşleştiriniz.

a.

$\begin{array}{r} 35 \\ - 17 \\ \hline \square \end{array}$	$\begin{array}{r} 48 \\ - 19 \\ \hline \square \end{array}$	$\begin{array}{r} 61 \\ - 26 \\ \hline \square \end{array}$	$\begin{array}{r} 31 \\ - 14 \\ \hline \square \end{array}$	$\begin{array}{r} 45 \\ - 26 \\ \hline \square \end{array}$	$\begin{array}{r} 33 \\ - 17 \\ \hline \square \end{array}$
17	35	29	18	16	19

b.

$\begin{array}{r} 41 \\ - 18 \\ \hline \square \end{array}$	$\begin{array}{r} 61 \\ - 24 \\ \hline \square \end{array}$	$\begin{array}{r} 51 \\ - 23 \\ \hline \square \end{array}$	$\begin{array}{r} 71 \\ - 34 \\ \hline \square \end{array}$	$\begin{array}{r} 81 \\ - 45 \\ \hline \square \end{array}$	$\begin{array}{r} 91 \\ - 36 \\ \hline \square \end{array}$
36	37	55	37	23	28

Zihinden Çıkarma İşlemi

Çıkarma işlemlerini verilen yöntemi kullanarak zihinden yapınız.

$$\begin{array}{r} 6 - 4 = 2 \\ \hline 60 - 40 = 20 \end{array}$$

?

$$70 - 20 = \underline{\quad}$$

?

$$80 - 20 = \underline{\quad}$$

$$90 - 50 = \underline{\quad}$$

?

$$50 - 20 = \underline{\quad}$$

?

$$40 - 30 = \underline{\quad}$$

$$30 - 10 = \underline{\quad}$$

?

$$20 - 10 = \underline{\quad}$$

?

$$60 - 10 = \underline{\quad}$$

Problem Çözme

Aşağıdaki tablolarda üç öğrencinin paraları ve bazı ürünlerin fiyatları verilmiştir.

Adı	Para Miktarı
Erdi	27 ₺
İrmak	22 ₺
Ebru	44 ₺

Ürün	Fiyatı
Top	20 ₺
Bebek	24 ₺
Çanta	34 ₺

Tablolara göre problemleri çözünüz.

Erdi, İrmak ve Ebru'nun paraları toplamı kaç liradır?



Ebru ve İrmak paralarını birleştirerek top ve çanta alıyorlar. Geriye kaç liralari kalır?

Aşağıdaki toplama işlemlerini örnekteki gibi zihinden yapınız.

$$\begin{aligned} 25 + 13 &= 20 + 5 + 10 + 3 \\ &= 20 + 10 + 5 + 3 \\ &= 30 + 8 \\ &= 38 \end{aligned}$$

?

$$\begin{aligned} 34 + 16 &= \underline{\hspace{2cm}} \\ &= \underline{\hspace{2cm}} \\ &= \underline{\hspace{2cm}} \\ &= \underline{\hspace{2cm}} \end{aligned}$$

$$\begin{aligned} 32 + 18 &= \underline{\hspace{2cm}} \\ &= \underline{\hspace{2cm}} \\ &= \underline{\hspace{2cm}} \\ &= \underline{\hspace{2cm}} \end{aligned}$$

?

$$\begin{aligned} 27 + 23 &= \underline{\hspace{2cm}} \\ &= \underline{\hspace{2cm}} \\ &= \underline{\hspace{2cm}} \\ &= \underline{\hspace{2cm}} \end{aligned}$$

Çıkarma İşleminin Sonucunu Tahmin Etme

İki doğal sayının farkını tahmin ederken eksilen ve çıkan en yakın olduğu onluğa yuvarlarız.

1 Aşağıdaki çıkarma işlemlerinin sonuçlarını tahmin ediniz. Tahminlerinizi işlem sonuçlarıyla karşılaştırınız.

a.

İşlem	Tahmin	Gerçek Sonuç
$\begin{array}{r} 42 \\ - 19 \\ \hline \end{array}$	$\begin{array}{r} \rightarrow 40 \\ \rightarrow -20 \\ \hline 20 \end{array}$	$\begin{array}{r} 42 \\ - 19 \\ \hline 23 \end{array}$

?

b.

İşlem	Tahmin	Gerçek Sonuç
$\begin{array}{r} 67 \\ - 44 \\ \hline \end{array}$		

c.

İşlem	Tahmin	Gerçek Sonuç
$\begin{array}{r} 83 \\ - 32 \\ \hline \end{array}$		

?

ç.

İşlem	Tahmin	Gerçek Sonuç
$\begin{array}{r} 85 \\ - 58 \\ \hline \end{array}$		

Aşağıdaki bulmacayı çözünüz.

1. Annemizin annesi

2. Anne, baba ve çocuklardan oluşan topluluk

3. Anne ve babanın kardeşlerinin çocukları

4. Amcamızın eşi

5. Annemizin erkek kardeşi

6. Annemizin kız kardeşi

7. Babamızın babası

8. Teyzemizin eşi

9. Babamızın erkek kardeşi

1 N

2

3

4

5

6

7

8

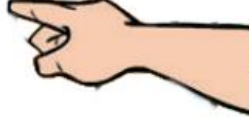
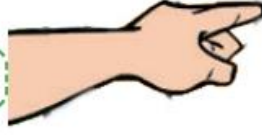
9

Tasarrufun Aile Bütçesine Katkısı


Evdeki kaynakları tasarruflu kullanma ile ilgili aşağıdaki tabloda verilenlerden hangisine uyarız?

	Her zaman	Bazen	Hiçbir Zaman
Dişlerimi fırçalarken musluğu açık bırakırım.	<input type="radio"/>	<input type="radio"/>	<input type="radio"/>
Aydınlatma için tasarruflu lambalar kullanırım.	<input type="radio"/>	<input type="radio"/>	<input type="radio"/>
Gereksiz yanan lambaları kapatırım.	<input type="radio"/>	<input type="radio"/>	<input type="radio"/>
İsteklerimi karşılamak için para biriktiririm.	<input type="radio"/>	<input type="radio"/>	<input type="radio"/>
Sıcak havalarda kaloriferi kapatırım.	<input type="radio"/>	<input type="radio"/>	<input type="radio"/>

That is arain.



That is aebra.



That is aorilla.

Order the dialogue.

Hi, Elif!

Great, thanks.

I'm fine, you?

1 Good morning, Jack.

How are you?

