




Adı Soyadı : .....

Ödev Kontrol : .....



Veli Kontrol:

Parçayı sesli ve sessiz 4 defa oku

☀️ Aşağıdaki soruların doğru cevaplarını işaretleyelim.



## SAĞLIKLI BESLENME



Yusuf, abur cubur yemeyi çok severdi. Sebze ve meyve yemekten hiç hoşlanmazdı. Okulda düzenlenen koşu yarışmasına katıldı ancak yarış sırasında çok yoruldu. Yarışı tamamlayamadı. Öğretmeni ona sağlıklı beslenmenin önemini anlattı. Yusuf, sebze ve meyve yemeye başladı. Günler geçtikçe kendini daha enerjik hissetti. Katıldığı yarışmalarda başarılı oldu.




1. Yukarıdaki metnin konusu nedir?

- (A) Sağlıklı beslenmenin önemi (B) Hızlı koşmanın faydaları  
(C) Arkadaşlığın önemi


2. Alfabemizde kaç harf vardır?

- (A) 26 (B) 27  
(C) 29

4. Aşağıda verilen varlıklardan hangisinin adı 8 harften oluşmaktadır?




- (A)  (B)  (C) 

3. Aşağıdaki varlıklardan hangisinin adı ünlü harf ile başlar?

- (A)  (B)   
(C) 

5.

Aşağıdakilerden hangisinin adı alfabemizin 14. harfi ile başlar?

- (A)  (B)   
(C) 


6. A N K A ☆ A


"☆" ile gösterilen yere hangi harf yazılırsa anlamlı bir sözcük oluşur?

- (A) R (B) Z  
(C) T

7. Aşağıdakilerden hangisinin adı hecelerine doğru ayrılmıştır?

(A)  → kav-un

(B)  → ağ-aç

(C)  → de-ve

8. Aşağıdaki sözcüklerden hangisi bir hecelidir?

- (A) sarı (B) kurt  
(C) akıl

9. Aşağıdakilerden hangisinin hece sayısı diğerlerinden farklıdır?

- (A) gergedan (B) biber  
(C) araba

10. Satır sonuna sığmayan sözcüklerin hangisi yanlış bölünmüştür?

- (A) 

	kas-
aba	

 (B) 

	di-
reksiyon	

  
(C) 

	şe-
kerli	

11. Aşağıdaki sözcüklerden hangisi satır sonunda bölünebilir?

- (A) akıl (B) umut  
(C) sabır



Soruları dikkatle oku ve anlamaya çalış. Sonra işlem yap.

## 2. Aşağıda verilen ifadelere uygun kelimeler yazalım.

İki hayvan adı yazalım.

İki meyve adı yazalım.




## 1. Aşağıda verilen karışık hecelerle sözcükler oluşturalım.

? nek - i 

? ta - la - sa 

? tes - ta - pa 

? lık - çı - ba 

? kak - so 

? sa - ba - ka 

İki ağaç adı yazalım.

İki sebze adı yazalım.



## 3. Aşağıda anlamları verilen kelimeleri bulup işaretleyelim.

? Hastaları iyileştiren kişi. →  Polis  Doktor

? Uçabilen hayvan. →  Kuş  Eşek

? Ağaçta yetişen bir meyve. →  Çilek  Kiraz

? Üzerine oturulan bir eşya. →  Sandalye  Masa

## HAYAT BİLGİSİ

➔ Aşağıda verilen özelliklere göre görseldeki çocukların isimlerini noktalı yerlere yazalım.



?  
.....

?  
.....

?  
.....

?  
.....

☀ Begüm, çok iyi gitar çalar.

☀ Toprak, çok iyi bir yüzücüdür.

☀ Tolga, iyi bir basketbol oyuncusudur.

☀ Elif, hayvanları çok sever.

➔ Aşağıdaki cümlelerde boş bırakılan yerleri uygun sözcüklerle tamamlayınız.

teknikine

erken

iki

sık sık

bir

önce ve sonra

öğün

☀ Yemekten ..... ve ..... ellerimizi yıkamalıyız.

☀ Haftada en az ..... kez banyo yapmalıyız.

☀ Günde en az ..... defa dişlerimizi fırçalamalıyız.

☀ Sabah ..... kalkmalıyız.

☀ Kıyafetlerimizi ..... değiştirmeliyiz.

☀ Dişlerimizi ..... uygun fırçalamalıyız.

☀ Günde üç ..... yemek yemeliyiz.





**Örüntü Kuralı:** Birer azalarak ilerleyen örüntü



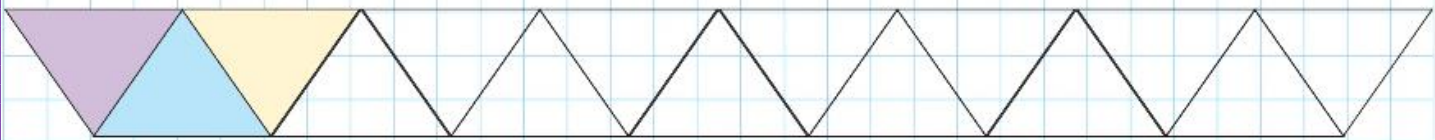
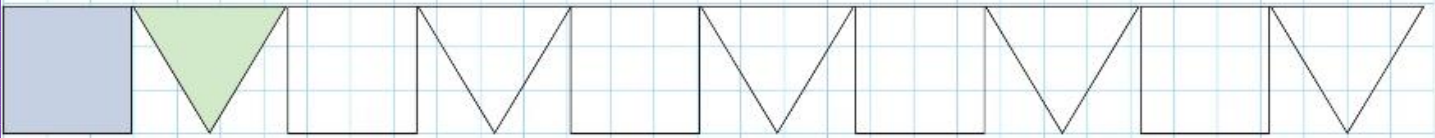
**Örüntü Kuralı:** İkişer azalarak ilerleyen örüntü



**KURALI BOZAN SAYIYI BULALIM VE BOYAYALIM**



➔ Aşağıda verilen örüntüleri boyuyarak ilerletelim.



Anlamak için bol bol kitap okumalısın 📖

 Aşağıdaki problemleri çözelim.

**1** Nisa ile kardeşinin yaşlarının toplamı 19' dur. Kardeşi 6 yaşında olduğuna göre Nisa kaç yaşındadır?

**2** Gökhan Öğretmen, 20 dakikalık dersin 6 dakikasında şarkı dinlettiğine göre geriye kaç dakikas kalır?

**3** Bir simitçi elindeki 16 simitten 8'ini sattığına göre geriye kaç simit kalır?

**4** Elif Naz, kalemliğinde 17 tane eşya olduğunu sayar. Bunların 4'ü silgi, geriye kalanlar ise kalem ise kalemlikte kaç kalem vardır?

**5** Doktor Seda Hanım 19 kişiyi muayene etmiştir. Bunların 6'sı çocuk, geri kalanı yetişkindir. Buna göre yetişkin hasta sayısı kaçtır?

**6** Nesrin, bahçesinden geçen koyun ve keçilerin sayısını 17 olarak sayar. Bunların 10'u koyun, kalanı keçi ise keçilerin sayısı kaçtır?



Düşün anla ve çöz 😊



# ÇİZGİ SANATI

5

Ad Soyad: .....

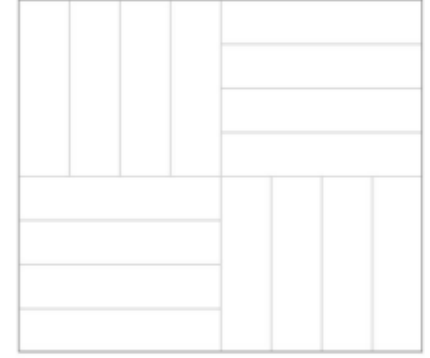
**Yönerge:** Örnek şekilde verilen çalışmaya ulaşmak üzere 1 ve 2 numaralı şekildeki çizgilerin üzerinden çizin. 3 numaralı şekilde de benzer şekli oluşturup renklendiriniz.



1



2



3

