

Adı:  
Soyadı:

Parçayı en az  
3 defa oku



Tatilin son günleriydi. Emir ve ailesi tatil için Güneydoğu Anadolu Bölgesini gezmeyi tercih etmişlerdi. Son olarak Mardin'i gezip tatillerini bitireceklerdi. Mardin'e vardıklarında Emir adeta büyülenmişti. Daha önce gezdiği yerlere hiç benzemiyordu burası. Şehrin tamamı tarihi yapılarla çevriliydi ve farklı farklı kültürlerden insanlar burada uyum içinde yaşıyordu. Birlikte Dara Antik Kentini ziyaret ettiler. Orada adına zindan dedikleri ama geçmişte su deposu olarak kullanılmış kocaman bir tarihi yapı gördüler. Bu bilgileri zindanı gezerken yanlarına gelen bir çocuk vermişti. Çocuk antik kentin yakınında bir köyde yaşıyor ve burayı ziyarete gelenlere bilgi veriyordu. Yaptığının karşılığı olarak da bahşiş vermek isteyenleri geri çevirmiyor böylece harçlığını çıkarmış oluyordu. Bu Emir'in çok hoşuna gitmişti. Eve döndüğünde çevresindeki gezilecek yerler hakkında bilgi toplamaya ve rehberlik yapmaya karar verdi. Böylelikle hem yeni şeyler öğrenecek hem de harçlığını kazanacaktı.

» Metne göre aşağıdaki soruları cevaplayalım.

1 Emir ve ailesi tatilde nereleri gezmişler?

.....  
.....

2 Zindan denilen yer eskiden hangi amaçla kullanılıyormuş?

.....  
.....

» Aşağıdaki dairelere ortadaki harften bir önce ve bir sonra gelen harfleri yazalım.



Aşağıda verilen cümlelerle yandaki numaralı kutucukları rakamları kullanarak eşleştiriniz.

1 Alfabemizdeki toplam harf sayısıdır.

1 yirmi bir

2 Alfabemizdeki ünlü harf sayısıdır.

2 yirmi dokuz

3 Alfabemizdeki ünsüz harf sayısıdır.

3 sekiz

» Aşağıdaki tabelalarda verilen kelimelerin örnekteki gibi ünlü ve ünsüz sayılarını yazalım.

oyuncak  
ünlü: 3  
ünsüz: 4

kalp  
ünlü:  
ünsüz:

cumartesi  
ünlü:  
ünsüz:

ayakkabı  
ünlü:  
ünsüz:

karpuz  
ünlü:  
ünsüz:

şömine  
ünlü:  
ünsüz:

üşümek  
ünlü:  
ünsüz:

Balikesir  
ünlü:  
ünsüz:

» Aşağıda verilen kelimeleri alfabetik sıraya dizelim.

1 erik eski eşya elma

3 gümüş altın kömür bakır

2 koltuk korsan konu kolonya

4 pırasa patates ıspanak maydanoz

» Aşağıdaki kelimeleri hecelerine ayıralım.

SÖZCÜKLER	HECELEME
Aslan	
Basamak	
Perde	
Televizyon	

» Aşağıdaki tabloda boş bırakılan yerleri uygun şekilde dolduralım.

SÖZCÜKLER	ÜNLÜ SAYISI	ÜNSÜZ SAYISI	HECE SAYISI
Ankara			
Basketbol			
Kitaplık			
Pencere			
Kumanda			



### SAYILARI YAZALIM

» Aşağıda okunuşları verilen sayıları yanlarındaki kutucuğa yazalım.

Bin dokuz yüz seksen yedi



Beş yüz iki bin yüz on sekiz



Kırk bir bin altı yüz elli altı



Yedi bin beş yüz yirmi dört



İki yüz üç bin dokuz yüz dokuz



On iki bin iki



Seksen bin altmış yedi



Altı yüz kırk iki bin üç yüz yirmi dört



» Aşağıda rakamla yazılmış olan sayıların okunuşlarını örnekteki gibi yanlarına yazalım.

8954 : Sekiz bin dokuz yüz elli dört

28147 :

365741 :

1001 :

10000 :

100121 :

7490 :



» Aşağıda verilen cümlelerin karşılıklarına cevaplarını yazalım.

Bir basamaklı en küçük doğal sayı →

Üç basamaklı en küçük doğal sayı →

Bir basamaklı en büyük doğal sayı →

Üç basamaklı en büyük doğal sayı →

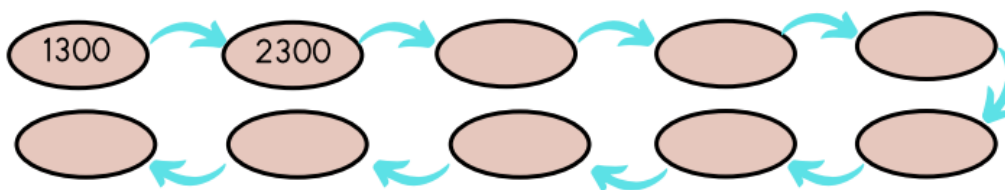
İki basamaklı en küçük doğal sayı →

Dört basamaklı en küçük doğal sayı →

İki basamaklı en büyük doğal sayı →

Dört basamaklı en büyük doğal sayı →

» Aşağıda verilen biner ritmik saymayı okları takip ederek tamamlayalım.



## YÜZER VE BİNER RİTMİK SAYMA

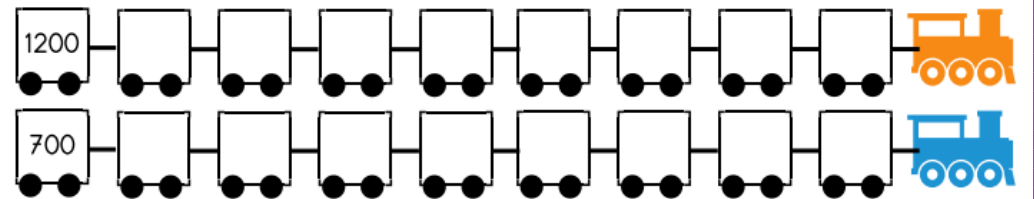
» Aşağıda verilen şekillere 100'den başlayarak 5000'e kadar yüzer yüzer yazalım ve sayalım.



» Aşağıda verilen biner ritmik saymalarda boş bırakılan yerleri tamamlayalım.



» Aşağıdaki trenlerin vagonlarında yazılan sayılardan başlayarak yüzer ritmik sayma yapalım.



» Aşağıdaki verilen sayılardan başlayarak geriye doğru yüzer ve biner ritmik sayma yapalım.

Yüzer Say

Biner Say

1900

7840

2150

9100

» Aşağıda verilen kelimeleri uygun boşluklara dolduralım.

paleontoloji

kayaç

Jeolog

yerküre

Jeoloji

mineral

- Yer kabuğunda oluşan büyük ve sert tabakalara ..... denir.
- Kayaçların farklı renkte ve büyüklükte olmasının yapısındaki ..... kaynaklarıdır.
- Dünyamızda , tüm canlıların yaşadığı tabakaya ..... denir.
- Fosilleri inceleyen bilim dalına ..... denir.
- ..... yer kabuğunun yapısını inceleyen bilim dalıdır.
- Yer kabuğunun yapısını inceleyen bilim insanına ..... denir.

» Aşağıda verilen kayaçların parçalanma sırasını kelimelerin numaraları ile eşleştirelim.



1 taş

2 kum

3 kayaç

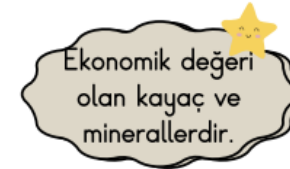
4 kaya

5 çakıl

» Aşağıda verilen bilgilerle altlarındaki kelimeleri ok çizerek eşleştirelim.



maden



maden ocağı



ham madde

Aşağıdaki ifadelerden hangileri farklılıklara saygı duyan bir kişide görülür? İşaretleyelim. ?

Hoşgörü

Ayrımcılık

Güler yüz

İyi niyet

Kibir

Yardımlaşma

Dalga geçmek

Nezaket

Kusur aramak

Empati

Ön yargı

Saygı

Tahammül-süzlük

Eşitlik

Adalet

ENES SERT 4/A SINIFI