



Aşağıdaki problemleri çözelim, şifreyi bulalım.

1.
?



Sanem'in her kutuda 8 tane boya kalemi olduğuna göre boya kalemlerinin sayısı kaçtır? (Z)

2. Serap 5 yaşındadır. Annesinin yaşı Serap'ın yaşının 6 katıdır. Serap'ın annesi kaç yaşındadır? (L)

3. Emrelerin okulu 5 katlıdır. Okulun her katında 9 sınıf vardır. Buna göre Emrelerin okulunda kaç sınıf vardır? (E)

4.
?

23 Nisan Ulusal Egemenlik ve Çocuk Bayramı töreninde 2/A sınıfı öğrencileri üçerli 8 sıra oluşturdu. Buna göre 2/A sınıfında toplam kaç öğrenci vardır? (A)

5.
?



Ceren

Babamla marketten 5 koli yumurta aldık.

Bir kolide 10 yumurta olduğuna göre Cerenler toplam kaç yumurta almışlardır? (D)

6.
?

Erenler içinde 6 çay bardağı olan kolilerden 2 koli çay bardağı aldılar. Erenler kaç tane çay bardağı almışlardır? (G)



7. Feyza okula bir torba erik getiriyor. 7 arkadaşına beşer tane erik dağıtıyor. Feyza'nın arkadaşlarına dağıttığı erikler kaç tanedir? (İ)

10. Bir tepside 6 sıra kurabiye vardır. Her sırada da 3 kurabiye bulunmaktadır. Buna göre bu tepsideki kurabiye sayısı kaçtır? (I)

8. Mustafaların sınıfında 9 sıra vardır. Her sırada 3 kişi oturduğuna göre Mustafaların sınıfının mevcudu kaçtır? (Ü)

11.



Ata

Aklımdan tuttuğum sayıyı 5 ile çarptığımda çarpım 40 oluyor.

- Ata'nın aklımdan tuttuğu sayı kaçtır? (Ş)

9. Selma'nın tahtaya yazdığı sayı 3 sayısının 10 katıdır. Selma'nın tahtaya yazdığı sayı kaçtır? (L)

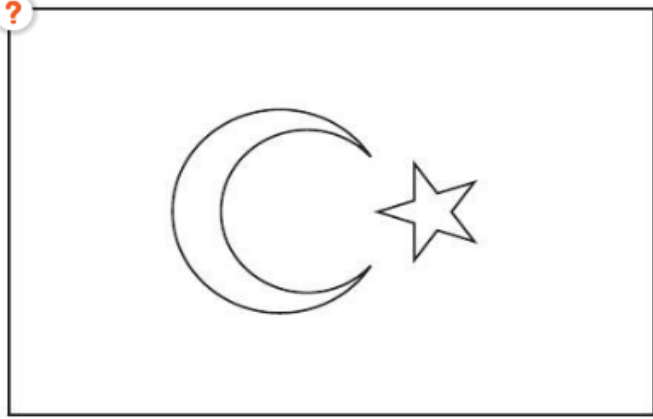
12. Bir garajda 7 adet 4 tekerlekli araba vardır. Bu arabaların tüm tekerlekleri yenisiyle değiştirilecektir. Kaç tane yeni tekerleğe ihtiyaç vardır? (N)

Şifre

50 27 32 45 28 30 35

12 24 30 18 8

Bayrağımızı renklerine uygun olarak boyayalım.



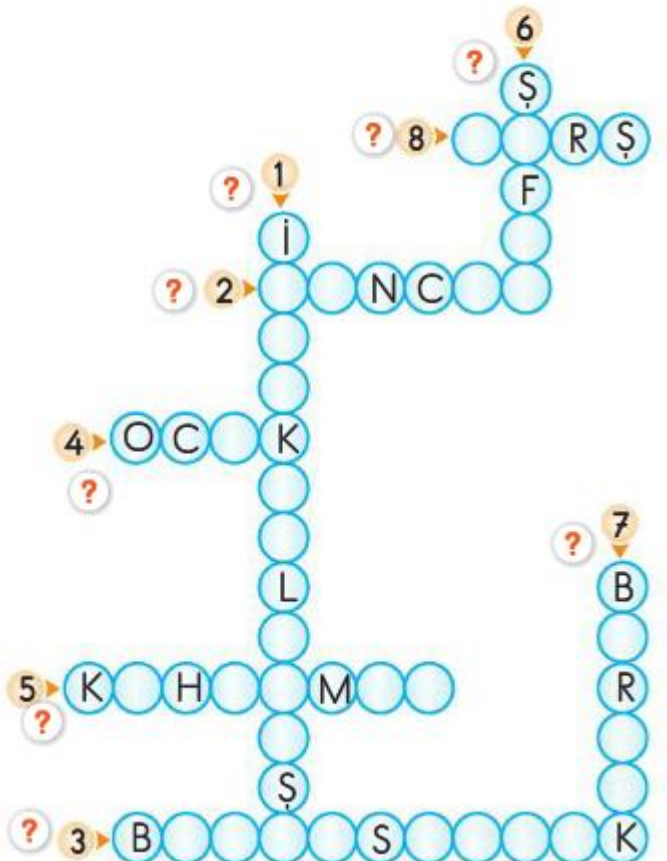
Kutucuklardaki İstiklâl Marşı'nda geçen sözcükleri bulmacadan bu-
larak işaretleyelim.




Aşağıdaki bulmacayı ipuçlarından yararlanarak çözelim.

- 1> Mehmet Âkif Ersoy tarafından yazılan millî marşımızın adı.
- 2> Çoğunlukla askerî birliklere verilen yazı işlemeli, kenarları saçaklı ve gönderli bayrak.
- 3> İstiklal sözcüğünün anlamı.
- 4> Ev, aile, soy.
- 5> Savaşta veya tehlikeli bir durumda yararlılık gösteren kimse, yiğit.

- 6> Güneş doğmadan az önce beliren aydınlık.
- 7> Tek, bir olma durumu.
- 8> Bir topluluğu simgelemek için düzenlenmiş müzik parçası.





Selanik'te yaşayan Ali Rıza Bey ve Zübeyde Hanım'ın bir oğulları olmuş. Adını Mustafa koymuşlar. Mustafa büyümüş. Önce mahalle mektebine, sonra da Şemsi Efendi ilkokuluna gitmiş. Bu sırada babası ölmüş.

Okulu bırakmak zorunda kalan Mustafa, annesi Zübeyde Hanım ve kız kardeşi Makbule ile birlikte dayısının çiftliğine gitmiş.

Dayısının çiftliğinde tarlayı kargalardan koruyan küçük Mustafa, daha sonra okuluna devam etmiş.

Aşağıdaki soruları yukarıdaki metne göre cevaplayalım.

?

1. Küçük Mustafa, önce hangi okula gitmiş?

.....

2. Küçük Mustafa, babası ölünce annesi ve kız kardeşiyle kimin yanına gitmiş?

?

.....

3. Dayısının çiftliğinde küçük Mustafa, neleri kovalamış?

?

.....

Aşağıdaki çarpma işlemlerini yapalım.

$$\begin{array}{r} 9 \\ \times 2 \\ \hline \end{array}$$

$$\begin{array}{r} 10 \\ \times 2 \\ \hline \end{array}$$

$$\begin{array}{r} 1 \\ \times 3 \\ \hline \end{array}$$

$$\begin{array}{r} 7 \\ \times 4 \\ \hline \end{array}$$

$$\begin{array}{r} 8 \\ \times 4 \\ \hline \end{array}$$

$$\begin{array}{r} 9 \\ \times 4 \\ \hline \end{array}$$

$$\begin{array}{r} 2 \\ \times 3 \\ \hline \end{array}$$

$$\begin{array}{r} 3 \\ \times 3 \\ \hline \end{array}$$

$$\begin{array}{r} 4 \\ \times 3 \\ \hline \end{array}$$

$$\begin{array}{r} 10 \\ \times 4 \\ \hline \end{array}$$

$$\begin{array}{r} 1 \\ \times 5 \\ \hline \end{array}$$

$$\begin{array}{r} 2 \\ \times 5 \\ \hline \end{array}$$

Aşağıdaki çarpma işlemlerini toplama işlemine dönüştürerek örnekteki yapınız.

$$4 \times 3 = 12$$
$$3 + 3 + 3 + 3 = 12$$

$$7 \times 2 = \dots$$

.....

$$3 \times 5 = \dots$$

.....

$$6 \times 3 = \dots$$

.....

Aşağıdaki çarpma işlemlerinde örnekteki gibi çarpanların yerlerini rerek sonuçları bulunuz.

$$5 \times 4 = 4 \times 5$$
$$20 = 20$$

$$6 \times 3 = \dots \times \dots$$
$$\dots = \dots$$

$$8 \times 3 = \dots \times \dots$$
$$\dots = \dots$$

$$6 \times 5 = \dots \times \dots$$
$$\dots = \dots$$

$$8 \times 2 = \dots \times \dots$$
$$\dots = \dots$$

$$7 \times 4 = \dots \times \dots$$
$$\dots = \dots$$

GÜZEL BİR TATİL

Yaz tatilinde nereye gideceğimiz konusunda annem ve babamla anlaşamamıştık. Onlar deniz olan bir yere gitmeye karar vermişlerdi ama ben ormanlık bir yere gitmek istiyordum. Sonunda hem ormanlık hem de denize kıyısı olan bir yer bulduk. Buna çok sevinmiştim. Hepimizin istediği olmuştu.

Tatilimizi geçireceğimiz yere gittiğimizde çok şaşırmıştım. Orada gördüğüm orman benim hayal ettiğimden çok daha büyüktü. Heyecanlanmıştım. Ormana gittiğimde ilk yaptığım şey kuşların sesini dinlemek olmuştu. Sanki orada kuşlar bir başka ötüyordu. Tatil boyunca hiç denize girmedim sürekli ormanda dolaşım. Bu benim geçirdiğim en güzel tatil olmuştu.

(İlk üç soruyu metne göre cevaplayalım.)

1. Çocuk hangi konuda anne ve babasıyla anlaşamamış?

- A) Tatilde nereye gidecekleri
- B) Ne yiyecekleri
- C) Tatile ne ile gidecekleri

2. Çocuk tatilde nereye gitmek istiyormuş?

- A) Deniz olan bir yere
- B) Orman olan bir yere
- C) Köye

3. Çocuk tatil boyunca ne yapmış?

- A) Ormanda dolaşmış
- B) Denize girmiş
- C) Koşup oynamış

4. Aşağıdakilerden hangisinin sonuna nokta konulmaz?

- A) Dün Amasya'ya gittik
- B) Ankara'daki dayımlarda
- C) Bütün ödevlerimi yaptım

5.

Tüh, anahtarımı evde unuttum

Yukarıdaki cümlenin sonuna hangi noktalama işareti konmalıdır?

- A) ?
- B) ,
- C) !

6.

Efe(1) Yiğit ve Berat(2)la körebe oynadık(3)

Yukarıdaki cümlede numaralandırılmış yerlere hangi noktalama işaretleri konulmalıdır?

- | | 1 | 2 | 3 |
|----|-----|-----|-----|
| A) | (,) | (') | (.) |
| B) | (') | (,) | (?) |
| C) | (,) | (') | (') |

7.

Ali'nin şiir kitabından Cumhuriyet bayramı ile ilgili şiir yazdık.

Verilen cümledeki yazım yanlışını düzeltmek için aşağıdakilerden hangisini yapmamız gerekir?

- A) "bayramı" kelimesinin baş harfi büyük yazılmalı
- B) "Cumhuriyet" kelimesinin baş harfi küçük yazılmalı
- C) "şiir" kelimesinin baş harfi büyük yazılmalı

8. Aşağıda verilen isimlerden hangisi doğru yazılmıştır?

- A) İtfaye
- B) Kaplumba
- C) Kibrit

9. Aşağıdaki cümlelerin hangisinde büyük harflerin kullanımı ile ilgili bir yanlışlık yapılmıştır?

- A) Kedim Pamuk hastalandı.
- B) Kışın erzuruma gideceğiz.
- C) Fatma'yla beraber bisiklet sürdük.

10.

Sanayi Caddesi

23 nisan 1920

Zafer bayramı

Atatürk İlkokulu

Yukarıdaki ifadelerden kaç tanesinin yazılışı doğrudur?

- A) 2
- B) 3
- C) 4

Aşağıdaki metni en az iki defa okuyalım. Metinle ilgili soruları cevaplayalım.

ALTIN YUMURTLAYAN TAVUK

Bir adam, pazardan bir tavuk satın almış. Bu tavuk her gün, içinde bir altın olan yumurta yumurtluyormuş. Şanslı adam, bu duruma çok sevinmiş.

Sevinmiş sevinmesine de tavuğun içinin hazine dolu olduğunu zannetmiş. Tavuğu kesip içindeki altınları çıkararak bir an önce zengin olmak istemiş.

Zavallı tavuğu yakalayıp kesmiş. Karnını açmış. Ama ne çare? Tavuğun içinde hazine falan yokmuş. O da diğer tavuklar gibiymiş.



Altın yumurtlayan tavuğu, kendi elleriyle öldüren adam çok ama çok üzülmüş. Fakat yapacak bir şey yokmuş.

1. Metnin şahıs ve varlık kadrosunu yazalım.

2. Adam pazardan ne satın almış?

3. Tavuk her gün ne yumurtluyormuş?

4. Adam tavuğu neden kesmiş?

5. Tavuğun öldüğüne kim üzülmüş?

Kutucuklardaki sözcükleri bulmacada bulup boyayalım.

A	Ş	A	L	T	I	N	B
T	A	H	A	Z	İ	N	E
A	N	P	A	Z	A	R	I
V	S	O	A	D	A	M	İ
U	L	D	F	Ğ	J	K	L
K	I	Z	E	N	G	İ	N
M	Z	A	V	A	L	L	I
Y	U	M	U	R	T	A	N

ALTIN	TAVUK	YUMURTA
ADAM	HAZİNE	ZENGİN
ZAVALLI	ŞANSLI	PAZAR